

910282 I
Mag. St. Dr.

Handwritten notes:
16-26
Dm

Handwritten notes:
ved
Augrey
26
26
26

GEOMETRYA PRAKTYCZNA.

przez

X. Ignacégo Zaborowskiego S. P.

Wanicki
do zbioru
Wanickiego



w WARSZAWIE



w Drukarni J. K. Mci, i Rzeczypospolitéy
u XX. Scholarum Piarum.

Zaborowski
[illegible stamp]

BIBLIOTHECA
UNIVERSITATIS
SACRAE THEOLOGICAE
MAGNIFICENTISSIMAE
SACRO-SANCTAE
ROMANAE ECCLESIAE

910282

I

[Faint, illegible stamp]

Bibl. St. Dv. 2016 Dhh 1511A

DO
NAYIASNIEYSZEGO
STANISŁAWA AUGUSTA
KROLA POLSKIEGO
WIELKIEGO XIĄŻĘCIA LIT: &c. &c.

W. K. Mość dla Nauk

NAYIASNIEYSZY PANIE.

X Pażkę *Geometrii Praktyczney*
na widok publiczny wychodzącą, od-
ważam się złożyć u Tronu W. K.
Mci PANI MOJEGO MŁOSCF-
WEGO. Owoc tén dobroczynney Opie-
ki, którey W. K. Mość dla Nauk

W. K. Mość dla Nauk) 10

Kraiovi pożytecznych udzielasz ; nie
mógł bydz̄ sprawiedliwięty nikomu po-
święcony , iak Tęmu KROLOWI ,
Któremu dowcip Narodowy pokrze-
pienie , a chęć do pracy , gorliwość
śmiałość powinna . Szukać pomysł-
nięyszych dla Kraiu losów w onego
oświeceniū , zawsze było cechą Wiel-
kich KROLOW . W zapadłych Dzie-
iów naszych wiekach , nie wielu dowci-
pu Opiekunów znajdziemy : W alący
wszystko oręż , bardzięty smakował .
W. K. Mość zaczął Panowanie Swo-
ię od oświecenia Polaka , bo chwaty
dla siebie na gruncie trwałęty iego
pomysłności szukał : a naznaczy-
wszy raz schronienie dla Nauk u

Swego Boku ; do tego kresu. Dańską o
nie posunąłś troskliwość, iż niemasz
dzięła, byle tylko cechę pracy i iakię-
gokobwiek użytku nosiło, którégobys
łaskawie nie przyjął. Nie z cudzého
to mówię doświadczenia, lecz z mego.
Od nieiakiého czasu, na mięyscu Dań-
ską W. K. Mci Protekcyą zaszczyco-
ném, Nauczyciela Matematyki spra-
wując powinność, miałem szczęście kil-
ka Geometrycznych rozmiarów, na któ-
rych się Młódz tęg Nauki pilnująca
zaprawiała ; w Dańskich W. K. Mci
złożyć Reku. Piérwsze to usiłowa-
nie dobrotliwie przyjęte, ośmieliło
mnie, bym się na coś więkzého w tęg
mierze odważył. Com więc w zaci-

*szu tęj swobody, której pod Pa-
skiem W. K. Mci okiem zażywa
Nauki, w Mierniczey ułożył Sztuce
to dziś u Tronu Pańskiego W. K.
Mci składam, na znak tego hołdu,
który, MONARSZE Moiemu, nay-
gorliwżem uszanowaniem przeniknio-
ny, winienem.*

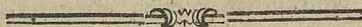
WASZEY KROLEWSKIEY MOSCI
PANA MEGO MIŁOSCIWEGO

wierny poddany

X. Ignacy Zaborowski S. P.

Nauczyciel Matemat: w Konwiktie Warsz.

PORZĄDEK ROZDZIAŁÓW I ICH MATERYI.



na karcie.

ROZDZIAŁ I. *Działania za pomocą lasek, mierniczego łańcucha, Podziałki (scala) i Cyrkla* - - - 3.

Między dwiema Miałtościami wyciągnać w linii prostey granicę, dla oznaczenia iey Kopcami: albo od iedney wsi do drugiey wyznaczyć drogę prostą dla wysadzenia iey drzewem: czyli raczey wykładając rzecz tę sposobem bardziy Jeometrycznym i powszechnym; między dwoma danemi na gruncie punktami wytknąć linią prostą, a to

Naprzód: Gdy dwa punkta wyznaczone za końce linii w czystém i otwartém polu są położone. - - - 4.

Powtóre: Gdy między niemi pośrzednia jest góra. - - - 9.

Potrzeci: Gdy jest pośrzedni las. *na teyże.*

Miary liniowé, czyli iak zowią podłużné pospoliciéy od Jeometrów używané. - - - 13.

- Narzędzia do pomiaru linii potrzebne. - - - 15.
- Wymiar linii prostey na równym gruncie położony. - - - 17.
- Mierzenie linii prostey ciągnący się przez wzgórki, doliny, rowy i t. d. 21.
- Wyznaczyć na papierze wzajemne ku sobie nachylenie dwóch ścian gruntu iakowého, dwóch murów, parkanów i t. d. czyli co jednoż jest, zrobić na papierze kąt równy kątowi danému na ziemi i przeciwnie. - - - 25.
- Tablica kątów Płaskich zawartych między dwoma ramionami, z których każde jest długie na stóp 30. 29.
- Do linii daney na gruncie prowadzić linią prostopadłą - - - 44.
- Mając ieden z boków ulicy regularney, grobli, kanału i t. d; wyciągnąć bok drugi w odległości upodobaney: albo co jedno znaczy, do linii daney prowadzić równoległą. - - - 50.
- Linią prostą przedłużyć mimo zdarzający się nieprzebyty przeszkody. - - - 51.
- Między dwoma miejscami z przeciwnych stron lasu położonemi, linią prospektu w lesie znaleźć, chcąc las podług nię wycinać. - - - 52.
- Między dwoma punktami położonemi z przeciwnych stron pagórka, wału, góry i t. d. uczynić komunikacją w linii prostey. 55.
- Wyznaczyć w miarach długość linii w pośrzedku nieprzystępney,

do któryj iednak obud wóch końców wolny iest przystęp.	56.
Wyznaczyć długość linii, któryj ieden tylko koniec iest dostępny.	57.
Wyznaczyć długość linii zewsząd nieprzystępny.	59.
Zmierzyć szerokość rowu, bagna, rzeki i t. d.	60.
Rozmierzyć wysokość budynku, ko- lunny, wieży i t. d.	63.
Drzewa stojącego w lesie spróbować, czyli go iest tyle łokci, ile po- trzeba.	66.
Wszelkiego rodzaju Figury w ogro- dzie, lub na polu rysować <i>na teyże.</i>	
Sposób rysowania planty budynku z podwórzem czyli dziedziń- cém, i całym gospodarskiém o- beyściem	69.
Zakręty drogi, bieg rzeki, mur ła- many, obwód lasu, jeziora i t. d. wymierzyć i na papier prze- nieść.	74.
Zrobić Mappę placu niezbyt obszer- nego, a foremny prawie obwód małego.	77.
Odrysować Mappę Jurydyki, Folwar- ku, Wioski z gruntami i in- nymi szczególnościami w nięj znajdującymi się.	79.
Sposób wymierzenia odległości i prze- niesienia na Mappę główniey- szych punktów Okolicy jako- węj.	82.

ROZDZIAŁ II. *Użycie Stolika
w wymiarze odległości i
robieniu Mapp.* - - 85.

Opisać narzędzi potrzebnych do
działań mierniczych Stoli-
kiem. - - - na téżże.

**I. O Wymiarze odległości i przeno-
szeniu na papier pomniey-
szych placów.**

Wyznaczyć w miarach żądanych dłu-
gość linii w pośrodku nie-
przystępnej i nieprzebytej, do
której jednak końców z jnych
miejsce wolny jest przystęp. - 89.

Odrysować Mapę gruntu lub Oko-
licy iakięj nie bardzo rozle-
glęj, a której wszystkie przed-
mioty mające być umieszczo-
ne w rysunku, z jednego o-
branego stanowiska widzieć i
odległość każdego z nich od te-
goż stanowiska można sznu-
rém wymierzyć. - - 97.

Zrobić Mapę placu wewnątrz nie-
przystępnego, a którego wszy-
stkie ściany obwód składające
sznurém przemierzyć, i wszy-
stkie załomki w obwodzie pla-
cu znajdujące się z jednego
stanowiska widzieć dają się. - 99.

Bieg rzeki wymierzyć i na papierze
proporejonalnie zrysować. - 100.

Oznaczyć na Mappie zakręty uli-
cy, gościńca, drogi między po-
łami, w lesie, we wsi, lub mie-
ście położony. - - 104.

Wymierzyć plac boru, lasu, stawu, ie-
ziora i innych tym podobnych
miejsce wewnątrz nieprzebytych
lub nieprzystępnych. - - 106.

- Wyznaczyć odległość punktu niedostępnego nie mierząc ięj bezpośrednio. - - 110.
- Zmierzyć szerokość rzeki. - - 112.
- Liniją w jednym punkcie dostępną mając z poprzedzających działań wyznaczoną na Stoliku; wyznaczyć na tymże Stoliku położenie innego iakięgokolwiek punktu dostępnego, podług upodobania obranego na gruncie. - - *na teyże.*
- Liniją z obóh końców niedostępną mając z poprzedzających działań wyrażoną na Stoliku, mając prócz tego naznaczony kierunek magnesowey Igiełki; iak się na tymże Stoliku naznacza położenie iakięgo niewiadomego, a dostępnego punktu, podług upodobania lub potrzeby obranego na gruncie. - - 113.
- Mając z poprzedzających działań wyznaczoną na Stoliku liniją, wyznaczyć na tymże Stoliku położenie i odległość 2. 3. 4. i t. d. przedmiotów, tak względem siebie, iakotęż względem końców wiadomey linii. - - 115.
- Wymierzyć odległość, której koniec drugi, dla szkodliwycy przeszkody, od pierwszego widziany byđz nie może. - - 124.
- Odrysować Mappę obszerniejszego placu, lub Okolicy iakięy miejscami niedostępnę, której iednak wszystkie załomki w granicach będąc, iakotęż innę

przedmioty mające być w ry-
sunku umieszczone, widzieć się
dają z dwóch, a najwięcej
trzech iakich obranych do tego
punktów stanowiska. - - 126.

Plac wewnątrz zaprzątniony i nie-
przebyty dla budynków, drzew
i t. d. zewnątrz zaś dla wody,
błot, bagnisk, pagórków lub in-
nych tym podobnych prze-
szkód nieprzystępny na papier
przenieść. - - 129.

Wyznaczywszy na Stoliku trzy przed-
mioty, albo co jednoż znaczy,
wyznaczywszy trzy boki Tróyką-
kąta na gruncie iakim uważa-
ného, iak się wyznacza na tym-
że Stoliku, czwarty iaki podług
upodobania na gruncie obrany
punkt, z którego trzy wierz-
chołki Tróykąta, czyli trzy owe
przedmioty widzieć się dają. - 131.

Mając daną na gruncie linią dostępną
i na nię wyznaczony punkt,
wystawić z tego punktu linią
prostopadłą. - - 135.

Przez punkt dany prowadzić równo-
ległą linią do budynku niedostę-
pnego, dla wykopania kanału,
założenia ogrodu, zwierzyńca,
szpaleru, usypania tamy, gro-
bli i t. d. - - 137.

Z punktu wyznaczonego na linii nie-
przystępny, spuścić linią pro-
stopadłą. - - *na téżce.*

Sposób wynalezienia różnych pun-
któw znajdujących się w je-
dnymże kierunku (*directio*) z koń-

cami linii iakowéy : gdy w po-
środku iéy znajdują się takie
przeszkody, że od iednego iéy
końca drugiego widziéć nie mo-
żna. - - - - - 138.

Wytknąć linią prostą między dwo-
ma punktami w czystém i o-
twartém polu położonými, w ta-
kiej iednak odległości wzglę-
dém siebie zostaiącými, iż od
iednego do drugiego doyrzec nie
można. - - - - - 140.

Wyciągnąć granicę w linii prostéy mię-
dzy dwoma miejscami, z któ-
rych iedno od drugiego widziéć
się nie daie, dla pośredniego
między niemi lasu, góry, pagór-
ka i t. d. - - - - - 142.

II. O Przenoszeniu Granic, Grun- tów, Miast, Wsi, Budynków i t. d.

Uwagi ogólne. O zwiedzeniu i prze-
rzzeniu granic Okolicy, któryé
Mappa przedsiębierze się rysow-
wać. - - - - - 144.

Uwagi szczególne. Względem obrania
fundamentalnéy podstawy, tu-
dzież względem utrzymania cią-
głéy i nieprzerwanéy roboty. 147.

Względem odmiany papieru na Stoli-
ku, gdy się piérwszy arkusz
całkowity zarobi. - - - 152.

- - Przenoszenia wsi. - - - 153.

- - Robienia planu miast. - - - 154.

- - Rysowania planty iakiegokol-
wiek budynku. - - - 157.

Zażycié wymienionych szczególnych
prawideł, przy rozmiarze wsi N,

z ograniczeniem i wszystkiemi
szczegółnościami w nięz znajdującemi się. - - - 158.

ROZDZIAŁ III. *Użycie Trygonometrii w rozmiarach i robieniu Mapp.* - 165.

I. *O Praktycznym obrachunku Trójkątów.*

Prawidła ogólne rozwiązania czyli obrachowania Trójkątów Prostokątnych. - - - 164.

Przykłady obrachowania Trójkątów prostokątnych. - - - 166.

Prawidła ogólne rozwiązania Trójkątów ukośnokątnych, czyli nie mających kąta prostego. - 170.

Przykłady obrachowania Trójkątów ukośnokątnych. - - - 172.

II. *O Kątomiarze (Graphometrum) i sprawdzeniu podziałów jego.* - - - 177.

III. *Wymiar odległości, wyciągnięcie linii prostopadłych, równoległych, tudzież sposoby wynajdywania różnych punktów kierunku, gdy się znajdują takie przeszkody, że od jednego punktu drugiego widzieć nie można.*

Zmierzyć odległość dwóch miejsc, z których jedno tylko jest dostępne. - - - 181.

Z punktu danego na linii wiadomej, wyprowadzić na gruncie

- Liniją prostopadłą długości żądanej. - - - - - 184.
- Do linii daney na gruncie wyciągnąć liniją równoległą. - - - - - 187.
- Wyznaczyć odległość dwóch przedmiotów tak względem siebie, iakotéż względem końców wiadomey linii; gdy z pomiędzy tych czterech punktów dwa którekolwiek wzięte być mogą za dwa punkta stanowiska. 188.
- Do nieprzystępney linii wyciągnąć na gruncie liniją równoległą, tudzież na téżej linii wyznaczyć punkt, któryby od punktu danego miał odległość żadaną. - - - - - 194.
- Z punktu wyznaczonego na linii nieprzystępney spuścić prostopadłą długości żadaney. - - - - - 196.
- Sposób przedłużenia linii prostey, mimo zdarzających się nieprzebytey przeszkody, iakoto góry, lasu i t. d. - - - - - 198.
- Sposób wynalezienia różnych punktów kierunku, gdy się między dwiema danemi punktami znajdują takie przeszkody, że od jednego drugiego widzieć nie można. - - - - - 199.
- Wyznaczyć odległość dwóch punktów w czystém i otwartém polu położonych, lecz w tak znaczney odległości względem siebie zostających, iż ieden od drugiego być nie może widziany. - - - - - 201.
- Mając z poprzedzających działań wiadome wzajemne odległości trzech różnych mieyse, znając

prócz tego kąty, pod którymi widzieć się dają trzy owe mieysca z czwartego iakiego punktu; wyznaczyć odległość tego punktu od każdego z trzech owych mieysc wiadomych. - - -	205.
Sposób przyrowadzenia kąta do swego prawdziwego wierzchołka, czyli sposób poprawienia kąta, który nie na właściwém stanowisku był mierzony. - - -	212.
<i>IV. Przystosowanie szczególnych Trygonometrycznych prawideł do robienia Mapp.</i>	
<i>Uwagi ogólne:</i> Względem wyboru główniejszych punktów Okolicy, które Mappa ma bydź rysowana. - - -	210.
<i>Uwagi szczególne:</i> O pomiarze fundamentalnéy Podstawy. - - -	221.
O obieraniu stanowisk i wymiarze Kątów. - - -	223.
O obrachunku Trójkątów. - - -	226.
Wzór Trygonometrycznie wymierzony Mappy Okolicy <i>N</i> : z wyłożeniem sposobów, których tak do wymiaru, iakotéż do obrachunku użyto. - - -	228.
Wynalazwszy Trygonometrycznie, i przenioswszy na Mappę, głowniejsze punkta Okolicy iakowéy; iak się na téż Mappie wyznaczają drobniejsze części między głównými punktami zawarté: iakoto łąki, pola, lasy, iezióra, bagna, zakręty rzék, dróg i t. d. - - -	236.

ROZDZIAŁ IV. *O Kompasie
czyli magnesowéy Igiel-
ce.* - - - - 246.

Użycie Kompas do wymierzenia drobniejszych części Okolicy, które główne punkta wzwyż podanemi sposobami były wynalezione i przeniesione na papier. - - - - *na téżże.*

ROZDZIAŁ V. *O Przerysowaniu Mapp.* - - - 250.

Przerysowanie Mappy w téżże wielkości co Oryginał. - *na téżże.*

Przerysowanie Mappy na większą lub mniejszą. - - - 255.

Sposoby łatwiejsze oznaczenia przyzwoitemi kolorami rzeczy znajdujących się na Mappie. - 267.

ROZDZIAŁ VI. *O Wynajdowaniu pola czyli powierzchni Gruntów: tudzież o Łanach.* - - - 279.

Sposoby obrachowania Gruntów regularnych. - - - 280.

Obrachowanie gruntów nieregularnych. - - - 291.

Sposoby arytmetyczne zamiany iednych Figur na drugie. - 293.

Łany czyli Włoki pospolicie w Kraiu używané. - - - 296.

Sposoby redukowania miar kwadratowych iednych na drugie. - 300.

ROZDZIAŁ VII. *O Podziale*
Gruntów. na części upo-
dobané. - - - 503

- Trójkąt, którego boki są w liczbach wiadome, rozdzielić na równe części 2, 3, 4, i t. d. od punktu wyznaczonego na którykolwiek ścianie tegoż Trójkąta. 304.
- Dany Trójkąt podzielić na części równe, liniami prostopadłemi do iednego z boków tegoż Trójkąta. - - - 308.
- Dany Trójkąt rozdzielić na równe części, przez linie równoległe którykolwiek ścianie tegoż Trójkąta. - - - 310.
- Grunt czworoscienny podzielić na kilka lub kilkanaście części równych, z tym warunkiem, aby wszystkie wydzielone części przypierały do iednego punktu wyznaczonego na obwodzie lub wewnątrz tegoż gruntu. - 312.
- Sposób podzielenia placu czworosciennego na części żądane, liniami równoległemi do którykolwiek ściany obwód placu składający. - - - 319.
- Wieś lub inną jaką obszerniejszą sztukę ziemi na równe części wydzielić, z tym warunkiem, aby wszystkie części wspólną miały Studnią, Karcznię, Staw, Chrusty i t. d. to jest: aby wszystkie części od iednego poczynały się miejsca. - - 323.

- Obszerniejszy grunt iakowy z jednéj strony rzeką oblaný, a z drugiéj przypiérający do traktu, gościńca, drogi i t. d. wydzielic na części żądane, liniami względem siebie równoległemi: w tén sposób, aby każda część miała swój brzeg rzeki z jednéj strony, a z drugiéj przypiérała do drogi. - - 327.
- Podział placu iakowého uczyniony na Mappie wyznaczyć na gruncie. - - - 331.
- Uwagi do dwóch poprzedzających Rozdziałów stósowné. - - 333.

ROZDZIAŁ VIII. *O Równowazieniu (Libellatio.)* - 336.

- Opisanie narzędzi do działań Równowazienia używanych. - - 337.
- Między dwoma miejscami znaleźć różność równowagi; albo co jednoż jest, poznać ieżeli dwa iakié miejsca, są iednakowéj wysokości, albotéż które z nich niższe. - - - 340.
- Mając wiadomą wysokość wezbrania wody nad brzegi koryta, rzeki, strugi; wyznaczyć iak wielką część przyległéj niziny woda wylewém swoim zabiérze. - 348.
- Wyznaczyć różnicę wysokości znakomitszych punktów Okolicy iakowéj, względém wysokości iednego iakiégokolwiek miejsca teyże Okolicy. - - 351.

Chcąc górę, pagórek, albo inną jaką
 nierówną i chropowatą sztukę
 ziemi skopać, albotóż wysypać
 podług płaszczyzny poziomej
 odpowiadającej punktowi ja-
 kiemu wyznaczonemu; jest
 zadano wyrachować wprzód
 w miarach kubicznych czyli
 sześciennych ilość ziemi ma-
 jącej bydź skopaną lub nawie-
 zioną. - - - - 355.

**PRZYDATEK DO ROZDZIAŁÓW
 POPRZEDZAJĄCYCH. O wy-
 miarze w sprawach Gra-
 nicznych.** - - - - 356.


- Wykład używanych w Sprawie Gra-
 cznej wyrazów. - 357.
 Czynność Jeometry w czasie Sądowej
 wizyi Duktów ukazywanych
 przez strony wiodące między
 sobą spór o Granice. - - 363.
 Sposób robięcia Mappy granicznej. 368.
 Sposób dzielenia gruntu spornego
 (fundus controversus.) - 377.
 Sposób doświadczenia gotowej Map-
 py: iakotóż dochodzenia z nięj
 przytartych i niewidzialnych
 Kopców. - - - 387.



JEOME-



JEOMETRYA PRAKTYCZNA.



Předsięwziawszy umieścić w téy
Xiążce samę tylko Jeometrią Pra-
ktyczną, winieném na wstępie dać
Czytelnikowi potrzebną przestrogę;
iż Jeometria Praktyczna będąc *umie-
jętnością przystosowania Teoryi do
wymiarów ziemnych*, wyciąga tego
koniecznie, aby zabieraiący się do niéy
z chęcią odniesienia iakięgożkolwiek
pożytku, usposobił się wprzód przez
dokładną wiadomość *Teoryi*. Bez téy
poprzedniczéy pomocy, próżno żada-
néy szukać będzie korzyści; często-
kroć zaś nieślusznje to opuszczeniém
lub ciemnotą w téy Xiążce osądzi,

A

coby albo z *Teoryi* umiané, albo téż za przewodniczém światlém iéy prawidél, łatwiéy zrozumiané, a skuteczniéy i zręczniéy wykonané bydź mogło.

Gdyby się kto nawet tak szczęśliwy znaleźć mógł, iż bez umianéy *Teoryi*, potrafiłby w rozmiarach zażyć pomyślnie udzielonych sobie praktycznych przepisów; nie zdaié mi się iednak przyzwoitą rzeczą, w tak pięknéy zabawie na samym mechanizmie przestawać, i obyczaiém prostych rzemieślników nie umieć dadź przyczyny działania swoiégó.

Rozumiém zaś, iż mi tego Czytelnik mieć za złe nie będzie, że tak mocno zalécając *Teoryę*, sam iéy nie umieszczam w téy Xiążce: nie sądziłem albowiem za rzecz przyzwoitą powiększać Dzieła tą częścią Jeometrii, któręy skąd inąd dokładną można powziąć wiadomość.



ROZDZIAŁ I.

*Działania za pomocą lasek, mier-
niczego łańcucha, Podziałki
(scala) i Cyrkla.*

§. 1. Między dwiema majątnościami wyciągnąć w linii prostej granicę dla oznaczenia ię kopcami: albo od iednėy wsi do drugiėy wyznaczyć drogę prostą dla wyfadzėnia ię drzewem: czyli raczėy wykładając rzecz tę sposobem bardziėy Geometrycznym i powszechnym; między dwoma danemi na gruncie punktami wytknąć linię prostą, lub iuż wytkniętą przedłużyć.

Ponieważ końce mającėy się wyznaczyć linii, iuż to z przyczyny mniejszėy lub wiėkszėy odległosci między niemi bėdącėy, iuż to z przyczyny wolnėgo i otwartėgo, albo tėż górami, krzakami, lasami i t. d. zaprzężnionėgo gruntu, na którym się znajduiā, rozmaicė względem siebie

położenie mieć mogą; przeto i sposoby wyznaczania teyże linii, różne i do rozmaitych okoliczności przystosowane byćdź muszą. Dla większey zatém iasności i dokładności, zadanie to na 5. głównieyszch przypadków podzielimy.

PRZYPADEK PIERWSZY.

Gdy idzie o wyznaczenie na ziemi linii prostey, między dwoma takiemi punktami, które odległością swoją nie przewyższają długości łańcucha lub sznura pospolicie używanego; na tén czas od iednego do drugiego końca linii wyciąga się sznur, a wzdłuż wyciągnionego sznura wyryty rowek żerdzią czyli łaską, będzie oznaczał linią prostą przez dané dwa punkta przechodzącą.

PRZYPADEK DRUGI.

(Fig: 2. Tabl: 1.)

Jeżeli linia mająca byćdź wytkniętą jest znacznie długa, lecz oba iey końce iedón od drugiego widzieć się daią; w tym razie na tém pospolicie zwykło się przestawać, iż między końcami linii znaczy się tylko pewna liczba punktów pośrednich i w jednymże z końcami iey będących kierunku (*directio.*)

I tak *np.* między dwoma punktami *A, F*, położonemi w czystém i otwartém polu,

chcąc w linii prostéj wyciągnąć granicę; Naprzód zatknij dwie żerdzie pod pion z widocznymi iakiemi znakami, iedną na początku, drugą na końcu granicy: iak tu ustawioné są żerdzie *A, F*. Potém, od iednéj z tych żerdzi *np*: od *F* cofnąwszy się o kilka kroków, każ pomocnikowi twému na miejsce iakié między końcami granicy pośrzednie udadz się z trzecią żerdzią *E*, którą on wyciągnioną przed siebie ręką, ilé możności, pionowo trzymając, za danym od ciebie znakiem, póty się w prawą lub lewą posuwać będzie; póki ty po żerdzi *F* pogładając na żerdź *A*, nie pomiarkujesz, iż obiedwie laski *E* i *A* od laski *F* doskonale zakryté zostaią: toiest, że laska *E* doskonale przypada na twój promiён oczny od żerdzi *F* ku żerdzi *A* idący. Naténczas dasz pomocnikowi znak, aby trzymaną laskę utwierdził pod pion w tém miejscu, w którym ona na twój promiён oczny przypadała. Po ustawieniu laski, możesz znowu z miejsca twégo iéy położénia doświadczyć, i postrzeżóné uchybiénie poprawisz. Tak tedy wynadziesz ieden punkt *E*, z końcami linii *AF* w jednymże będący kierunku. Tén sam sposób postępowania zachowując, wyznaczysz tylé innych punktów, ilé będzie wyciągała potrzeba.

Wszakże gdy trzy punkta iakowéj linii są iuż wyznaczone; naténczas sam ieden

człowiek bez pomocy drugiego tylé innych punktów wynaleźć może, ilé tylko zechce. To jest: wzięwszy on czwartą laskę przed siebie, stawa między dwiema którémikolwiek już utwierdzonemi na gruncie żerdziami *np.* między żerdziami *A, E*; i oglądając ku żerdzióm *E, F*, póty się z laską swoją w prawą lub lewą stronę pomyka; póki nie natrafi na taki punkt *b*, w którymby żerdź jego pod pion ustawiona, znajdowała się w jedneyże linii prostej z żerdziami *E* i *F*. Podobnież podług kierunku dwóch żerdzi *E, A*, wynalazłby punkt *g*, i tylé innych, iléby ich potrzebował. Tego ostatniego sposobu w ten czas także używa się, gdy idzie o przedłużenie iakowéy linii położonéy w czystém i otwartém polu.

Laski czyli iak zowią kije, żerdzie, tyki, wiechy, w miernictwie praktyczném używane, aby w znaczniejszych odległościach widocznie były, wierzchołki ich opatrnia się chorągiewkami częścią z białego, częścią z czarnego płótna urobionemi: chorągiewki naywygodniejsze są, gdy będą przypięte lub przywiązane do rurki blaszanych na iedną lub półtory ćwierci długich: tak bowiem w potrzebie na iakikolwiek kiy, byle prosty i długi, łatwo i założone i odjęte bydz mogą. W niedostatku chorągiewek, wierzchołki kiiów słomą okręcać się zwykły. Do tego, same laski aby się w miejskach odleglejszych wyraźniej widzieć dawały, wiele od ich farby i położenia zawisło: i tak

Jeżeli ustawiać się maia na miejscach otwartych i światłych, natenczas kolor czarny jest im nayprzychylniejszy; gdy zaś za niemi las, góra, lub inny jaki przedmiot ciemny pokazuje się, albo gdy w samym lesie zatykać ie potrzeba, w tym razie kolor biały, jakić są wichy brzożowe, naylepéy się rozeznac daie. Ustawiając laski w ziemi, oto usilnie starać się potrzeba, aby ile możności pionowo ustawiane były, co łatwo pomocnik ustawiający ie będzie mógł miarkować, jeżeli od zatkniętęy laski na kilka kroków odstąpi i położenie ię uważać będzie.

PRZYPADEK TRZECI.

(Fig: 1. Tabl: 1.)

Gdyby na końcach linii położonę w czystém i otwartém polu, znajdowały się iuż widoczne iakić, a té ogromne i niewzruszone znaki, iakoto: drzewa, słupy, kolumny, krzyże albo iak zowią figury i t. d. któreby ogromnością swoją przeszkadzały wynadywaniu (sposobém przypadku zgo,) pośrednich punktów z końcami linii będących w jednymże kierunku; natenczas używa się następującego, równie prostego, iak był poprzedzający, sposobu.

Daymy *np:* iż potrzeba wynaleźć dwa punkta znajdujące się w jednymże kierunku z wierzchołkami dwóch kolumn będących na końcach linii *AB*... Dway wyznaczeni do tego ludzie stają w miejscach iakich podług upodobania obranych *np: m, n*, oddległych od siebie na 50, 100, lub więcéy

kroków. Człowiek stojący na n oglądając na wierzchołek kolumny A , każe będącemu na m w tył lub naprzód cofać się póty, póki go nie nawiedzie na iaki punkt o znajdujący się w kierunku promienia ocznego noA . Podobnie, człowiek z miejsca m naprowadzony na miejsce o , patrząc na wierzchołek kolumny B , stojącego na n także w tył lub naprzód póty cofać będzie, póki go nie naprowadzi na punkt iaki s promienia swęgo ocznego osB . Tak więc oba ci ludzie z miejsc swoich m, n , przeniosą się na miejsca o, s . Człowiek z miejsca n naprowadzony na s , a zawsze oglądający na wierzchołek kolumny A , gdy spostrzeże, że będący na o wypadł z kierunku promienia ocznego sA , stara się znowu naprowadzić go na punkt iaki r promienia swęgo ocznego sA . Słowem té wzajemné naprowadzania się póty powtarzają, póki nie natrafiają na takie dwa punkta C, D , gdzie iak stojący na C znajduje się w kierunku promienia ocznego DCA , tak będący na D , nie wypada z promienia ocznego CDB . Tym tedy sposobem wynaydą oni dwa punkta C, D będące w jednejże linii prostey z wierzchołkami dwóch kolumn A, B . Maiąc té dwa punkta, będzie można, podług tego co się na końcu przypadku drugiego powiedziało, tyłé innych punktów wynaleźć, ilé się podobą.

PRZYPADEK CZWARTY.

(Fig: 2. Tabl: 1.)

Jeżeli grunt, na którym linia prosta ma być wyciągniona, zdarzy się tak nierówny, iż z jednego końca linii drugi widziany być nie może, iakoto: gdyby między punktami *A, B*, wyznaczonemi za końce linii, znajdowała się pośrzednia góra, a ta ani zbyt wyniosła, ani wielkim lasem pokryta; to i w tym razie sposób przypadku 3go skutecznie być może użyty.

To jest: staie iedna osoba w obranym do woli miejscu *E*, z któregoby źerdź utwierdzoną na *B*, druga zaś staie w miejscu *F*, z któregoby źerdź *A* widzieć mogła. Potem, tak iako się w przypadku 3cim powiedziało, obiedwie te osoby póty się ze swoich stanowisk ku śródkowi linii *AB* posuwają; póki się nietylko punkt *F* z punktami *E, A*, ale też punkt *E* z punktami *F, B*, na prostey linii nie znajdzie: co będzie znakiem, iż obie osoby w punktach *C* i *D*, na pożądaną linią prostą natrafily.

PRZYPADEK PIĄTY.

Jeżeliby zaś iedén z punktów wyznaczonych za końce granicy, w lesie zostawał ukryty, a drugi w polu otwartym był położony; albo też gdyby obadwa z przeciwnych stron lasu znajdowały się; w tym razie:

Sposób 1. Przystosobivszy sobie dwie lub trzy dwulótowe rakiety czyli iak zowią race; na iednym końcu granicy ustaw źérdź pod pion, na drugim zaś, każ komu rozsądómu iedną raketę, o umówionéy godzinie, pod wieczor wypuścić: naręczas, podług dwóch wiadomych punktów, toiest: podług ustawionéy źérdzi na iednym, a wypuszczoney racy na drugim téżże linii końcu, łatwo sposobém przypadku zgo, ustawisz na polu drugą laskę w takim punkcie, któryby z końcami linii w jednymże zostawał kierunku. Potém zaś za wypuszczoną następnie drugą i trzecią racą, albo się o dobroci punktu wynalezioného zapewnisz, albo téż, ieżeli się iakowé uchybiénie pokaże, podług tychże rac poprawić go zdołasz. Naostatek, stanąwszy w kierunku dwóch pomienionych źérdzi, łatwo postrzeżesz każde drzewo, które wyciąć potrzeba, aby punkt drugi w lesie lub za lasém ukryty, mógl być od piérwszego widziany.

W niedostatku rac, można na iednym końcu linii dym gęsty i gruby kazać podniecić, i z nim tak, iako się o racach powiedziało, postąpić. Wszakże prócz tego, iż w tym razie dzień cichy i pogodny obierać potrzeba; rozległość także linii nie równie mniejsza być powinna.

Sposób 2. W tym samym przypadku, gdzie kopce, granice lub inné znaki dla

rozległych krzaków i lasów od jednego do drugiego przeyrzeć się nie daią; może jeszcze linia prosta następującym sposobem byź wytknięta.

Chłopi każdéy wsi, a lepiéy ieszcze strzelcy, ieżeli iacy są we wsi, pospolicie dobrze świadomi są wszystkich dróg, drożyn i ścieszek, które się w lasach i puszczech ich wsi przyległych znajduią: przeto bardzo często dość prosto od iednego kopca do drugiego trafić mogą. Chcąc więc wyprowadzić przez las granicę w linii prostéy; dobierz sobie ze wsi dwoie lub troie ludzi rozsądnych i okolicę swoię dobrze znaiących: a zatknąwszy *1wszą* laskę w piérwszym kopcu, zatknij *2gą* i *3cią* podług opowiedzi i zdania ludzi przy tobie będących, w tén sposób: aby od *3ciéy* źérdzi *2gą* i *1wszą* widać było. Potém *4tą* źérdź ustaw tak, ażeby od niéy *3cią* i *2gą*, a od *5téy* *4tą* i *3cią*, obróciwszy się w tył, widzieć można: i tak daléy postępuy, aż póki nie przyydziesz do drugiego kopca, czyli znaku, który się w lesie lub za lasém ukrywa. Postępując lasém, każ zaraz podług ustawiających się lasek, niektóre przynajmniey haszcze wycinać, abyś miał iakąkolwiek do drugiego kopca prowadzącą drożynę. Jeźeli przy końcu pokaże się, iż wytknięta granica za daleko od owégo kopca w prawą lub lewą

wybeczyła, poprawisz to wyboczenie, tak iak następuie.

Daymy *np:* że wyłożonym dopiero sposobem, *Fig: 58. Tabl: 6.* wytykając linią między punktami *C* i *z*, z przeciwnych stron lasu położonemi; zamiast doyscia do znaku *z*, trafiliśmy do punktu *A*, a zatem uchybiło się odległością *zA*. Aby to uchybienie poprawić, *naprzód* podług §. 8. od punktu uchybionego *z* spuść linią prostopadłą *zA* na granicę czyli linią fałszywą *AC*, i przemierz odległość uchybienia, toiest odległość prostopadłą *zA* *np:* prętów 15. *Powtóre* wracając się do punktu *C* ścieżką piérwéy iuż utórowaną, każ iéy długość *AC* iak naydokładniéy przemierzać, która niech *np:* wynosi prętów 100. *Potrzecié*, weź iakąkolwiek część odległości przemierzoney *AC* iak tu *np:* część *5tą*, toiest: prętów 20, a wyznaczwszy ié na téyże odległości *CA* od *C* do *m*; z punktu *m* podług §. 8. wystaw nieokrósloney długości prostopadłą *mn* w tę stronę, w którą wychodzi prostopadła *zA*. *Naostatek*, iaką część wziąłeś linii *CA*, taką samę część weź prostopadléy *zA*, toiest w tym przykładzie część *5tą* czyli prętów 3, i odmierz ié na prostopadléy *mn* od *m* do *n*. Naténczas mieć będziesz dwa punkta *C* i *n* znajdujące się w jednymże kierunku z kopcem uchybionym *z*. Stającwszy więc wprost dwóch lasek ustawio-

nych na C i n , postrzeżesz każde drzewo, które wyciąć potrzeba, aby punkt z od punktu C w prostey linii mógł bydź widziany, a tém samém zdarzone piérwéy uchybiénie należycie poprawisz.

We wszystkich wyłożonych dopiero przypadkach, jeżeli końce linii tak są od siebie odległe, że ich gołém okiem dożyć nie można, używać się zwykło perspektywy, opierając ją na lasce ustawionéy w jednym końcu linii mającý się wyznaczać.

Zdarza się częstokroć potrzeba prowadzenia linii prostey przez stawy, jeziora, brody, trzęsawiska, bagna i t. d. w których to miejscach laski zatykané bydź nie mogą: w takowych więc szczególnych przypadkach linia prosta oznaczać się zwykła, przez spuszczenie grubszego na długim kiju uwiązanego pionu, ale zawsze wyżey namienioné prawidła zachowując.

§. 2. *Miary liniowé, czyli iak zowią podłużné, pospoliciéy od Geometrów używané.*

Miary liniowé, których pospolicie w pomiarze długości pól używać zwykli Geometrowie, są następujące: Łokieć, Stopa, Pręt, Sznur.

Łokieć: Brać trzeba Warszawski, albo raczey Kommissyi Skarbowey Koronney. Dzieli się on na ćwierci 4 albo calów 24, z których się każdy na 12 linii podziela.

Stopa: Lubo powszechnie za pół-łokcia rachować się zwykła; u Jeometrów atoli dla ułatwienia rachunku, za 3 ćwierci łokcia Warszawskiego, czyli za 18 calów pospolicie się bierze: przeto dla różnicy od tamtéj, zwać ją będziemy Jeometryczną.

Pręt albo *Laska*: Zamyka stóp Jeometrycznych 10, czyli łokci 7 i pół.

Sznur: Ma prętów 10, czyli stóp Jeometrycznych 100, toiest łokci Warszawskich 75.

W Litwie Sznur zawiera łokci Litewskich tak jak i w Koronie 75. Dla łatwiejszey zaś kalkulacyi, Miernicy w swoich rozmiarach dzielą go na 10 części równych, czyli prętów 10; pręt każdy na pręcików 10; pręcik na 10 ławek; ławkę na 10 ławeczek i t. d. Ponieważ zaś łokieć Litewski jest $\frac{1}{10}$ większy od łokcia Koronnego, zatem i sznur Litewski większy jest $\frac{3}{10}$ od sznura Koronnego.

Sznurów znak iest zero w górze nad liczbą położoné, prętów kreska iedna, stóp czyli pręcików kresek dwie i t. d. I tak gdyby długość pola wypadła z rozmiaru 35 sznurów, prętów 4, stóp czyli pręcików 8; wyrazilibyśmy w liczbach sposobem następującym: 35° 4' 8".

§. 3. *Narzędzia do pomiaru linii potrzebne.*

Narzędzia do pomiaru linii potrzebne są następujące:

1. Dziesięć drewnianych kołków. Te kołki mogą być na półłokcia długie, a od końca grubszego na jeden cal grube, z cięszego zaś końca powinny być zaostrzone, ażeby łatwiej w ziemię zatknąć się dały.

2. Dwa pale do rozciągania sznura mierniczego: z jednego końca powinny być okrągławe, a z drugiego kończatém żelazém okuté, mogą być na 3 lub 4 stopy długie, które tu palikami sznurowémi nazywać się będą.

3. Pręt czyli laska drewniana długa stóp 10 czyli 7 łokci i pół.

4. Łańcuch mierniczy, lub dróćnik, lub sznur, który pospolicie długi bywa na stóp Jeometrycznych 50, czyli łokci Warszawskich 37. i pół: dłuższy iak do noszenia zbyt ciężki tak w wymiarze niewygodny. Stopa każda w łańcuchu powinna być iedna od drugiey oddzielona kółkiem małym, a co 10 stóp ma być kółko większe: na obóch zaś końcach łańcucha powinny być kółka tak wielkie, aby mogły przez nie przejść paliki żelazém okuté, których się do rozciągania łańcucha lub sznura używa.

Mierząc łańcuchem, więcej wprawdzie można mieć pewności, aniżeli używając do tego sznurów mierniczych: ale że te i łaćwiéy i mnieyszym nierównie kosztém miané bydz mogą; przeto nie od rzeczy będzie wyłóżyć sposób przygotowania sznura, aby był zdatniejszy do wymiaru, i przedsięwzięciu robiącego mógł zadosyc uczynić.

Aby więc sznur uczynić zdatnym do pomiaru, potrzeba wziąć sznur miernéy grubości mający na około 40 łokci długości, i namoczyć go w oleiu dni kilka, a to dla tego, ażeby pod czas wilgoci nadto się nie skracał, lub w czasie posuchy, w długości nad to nie przybywał. Po należytem wysuszeniu tak wymoczonego sznura, na obudwóch onegoż końcach robią się kluczki, i przez nie zatkną się paliki opisané *Nro 2do*, potem rozciągnie się ów sznur na mieyscu iak nayrównieyszém, ani nad to słabo, ani téż nad to mocno, lecz tak aby prostą czynił linią, co także i pod czas samego wymiaru uważać się ma.

To uczyniwszy zabijają się w ziemié owé dwa pale, położy się na ziemi przy tymże sznurze drewniany pręt w tén sposób, ażeby się iedén koniec onegoż znajdował przy śródku palika, tam zaś gdzie przypada na sznur drugi koniec tegoż pręta, zrobi się nożém znak na ziemi, albo
zatknie

zatkniętę się tam nóż, lub coby najlepiey było: zawiąże się przy tymże końcu sznurka na tymże sznurze, lub się téż przez niego przewlecze na znak, iż tam się piérwszy pręt zakończył. Co gdy się tym sposobem po każdym pręcie uczyni, zrobi się sznur pięć prętów, czyli 50 stóp albo łokci 37 i pół zawierający.

Jeszcze i to uważać potrzeba: ponieważ sznur, chociaż oleiém napuszczony, od wilgoci cokolwiek się skrócić może; przeto bardzo jest rzecz dobra, piérwéy, niż się jego długość oznaczy, kilka razy go przewiązać: gdyż potém jeżeliby się skrócił; można ieden lub dwa guziki rozwiązać, i sznur do przyzwoitéy przyprowadzić długości: iako przeciwnie, skrócić go także można, zawięzując na nim guzik lub przekładając drewiénko przez zrobiony iuż na sznurze guzik.

§. 4. *Wymiar linii prostéy na równym gruncie położonéy.*

Daymy, iż jest linia, np: długość pola iakiégo do wymiaru dana.

Lubo w następującéy osnowie o sznurze tylko miernicznym wspominać się będzie z informacją onegoż użycia; iednakże to samo prawie zachować się ma, gdyby się do pomiaru linii używało mierniczégo łańcucha.

Gdy więc linia wymierzać się ma, ta robota dwóch potrzebuie ludzi. Zatknąwszy oni jedną żerdź na początku, a drugą na końcu pola, na równém, ile bydz może, miejscu wyciągną sznur, i prętem drewnianym przemierzają dla doświadczenia, jeżeli się przez odmianę powietrza nie skrócił, lub jeżeli go nie przybyło. Znajdzie się krótszy? to się odwiąże ieden lub dwa guziki na nim zawiązane, iak będzie potrzeba, ażeby sznur do swoiey prawdziwey pięć prętowey długości przyszedł: jeżeliby zaś był zadługi, to się zrobi na nim guzik nowy, lub popuści się tylko ieden nieco guzik, dla założenia przezeń drewiénka.

Gdy sznur należytą swoię długość mieć będzie; dway owi ludzie, z których iednego Pawłem, a drugiego Piotrem nazwiemy, do wymiaru linii przystąpią, w sposób następujący:

Piotr założywszy palik sznurowy za iedną kluczkę sznura, staie z nim na tym końcu linii, od którego się rozmiar iey poczyna: Paweł zaś zabrawszy w worek lub torbę owé 10 kófków opisané w §. 30im, przewleka drugi palik przez drugą kluczkę sznura i posuwa się wzdłuż linii, póki sznura wystarczy. Tam stojąc twarzą ku Piotrowi obrócony, za danym od niego znakiem póty w prawą lub lewą wraz ze sznurem kierować się będzie, aż sznur, który

na ów czas dobrze wyciągać trzeba, na prawdziwéj linii będzie się znajdował.

Gdy się to stanie; Paweł palikiem sznurowym od swoiégo końca, zrobi w ziemi dziurę, w tęż kołek jedén zatknie i zostawi go tamże na znak, że aż do owégo miejsca jedna długość sznura, czyli 5 prętów są wymierzone.

To uczyniwszy, postępują daléy ciż dwaj ludzie dla powtórnégo wyciągania sznura. Gdy Piotr przyjdzie do kołka zatkniętégó w ziemi przez Pawła; wyciągnie tén kołek, schowa go do swego worka, i w toż samo miejsce palik swoiégo sznura zatknie. Tu powtórné sznur się wyciąga, i gdy się wszystko tak, iak w pierwszym razie, należycie wykona; na ów czas Paweł na końcu drugiéj długości sznura drugi kołek w ziemię zatknie, do którego Piotr przyszedłszy znowu go do siebie weźmie. Tak tedy dwie długości sznura wymierzone będą. W podobny sposób trzeci raz sznur się wyciągnie, i daléy postępować się będzie, aż póki cała linia, czyli cała długość pola wymierzona nie będzie.

Gdyby długość pola nie na całym sznurze zakończyła się, lecz po ostatniém wyciągniéniu sznura, ieszcze się iaki kawałek pola zostawał; długość pozostałego kawałka drewnianym prętém przemierzy

się, i znaleziona liczba prętów i łokci do wymierzonych sznurów wrachuje się.

Używanie wzmiankowanych kołków podczas wymiaru, jest nad wszelką wiarę, potrzebne. Bo inaczej, osobliwie gdy linia jest bardzo długa, w rachubie sznurów łatwo się pomylić można, lub przynajmniej zaydzie taka wątpliwość, iż wymiar koniecznie z wielką utratą czasu powtórzyćby się musiał. Przez użycie zaś kołków nie można się łatwo pomylić. Ponieważ bowiem sam tylko Paweł té kołki zawsze zatyka i od siebie wydaie, a zaś sam Piotr onęz wyciąga i chowa; więc obadwa razem zawsze 10 kołków mieć powinni, chybaby który z nich kołek iaki zgubił.

Gdy bardzo długa linia do pomiaru wypada, a Paweł przodem idący żadnego już kołka nie ma, a zatém Piotr wszystkie 10 mieć będzie; naówczas ténże Piotr odda wszystkie Pawłowi na powrót do nowego onychże użycia. Tu więc pilnie notować należy, wiele razy té 10 kołków *np.*: dwa, trzy i t. d. razy, wszystkie; i wiele onychże nad to było użytych: ponieważ ilé kołków wyszło, tylé razy był sznur wyciągniony.

Wyłożony dopiero sposób pomiaru linii prostéy, prócz skrzętnéy pilności w każdym przykładaniu łańcucha lub sznura, równego ieszcze gruntu i jednostaynego wyciągania łańcucha lub sznura potrzebuje, inaczej należytéy dokła-

dnosci spodziewac się nie można. O tém każdy łatwo przekona się, pokilkakrotnie też samę długość przemierzając, i znalezioną w długości różnicę na uwagę biorąc: ta albowiem tym większa będzie, im się niedbaléy łańcuch lub sznur wyciągał, albo im nierówniejszy był grunt, na którym się linia wymierzała.

§. 5. *Mierzenie linii prostéy ciągnącéy się przez wzgórkki, doliny, rowy i t. d.*

Sposób piérwszy. Jeżeli grunt, którego długość wymierzać się ma, częścią przez wzgórkki, częścią przez doliny ciągnie się; natenczas pomiar takowéy linii naywygodniéy i naydokładniéy odprawuie się dwiema lub trzema umyślnie do tego przygotowanými czworograniastými żerdziami: które z prostého i suchého drzewa wyrobioné, tudzież aby nie paczyły się oleiém lub pokostém dobrze napuszczoné bydz powinny. Długość każdéy żerdzi ma bydz łokci 7 i pół, toiest stósować się do części, które sznur w sobie zamyka. Użycie ich iest następujące.

Niech będzie zadano wymierzyć linią *ADCCCC* (Fig: 3. *Tabl: 1.*) na nierównym gruncie położoną.

Naprzód linią daną wyznaczwszy tykami odległými od siebie na 50, 100, mniéy lub więcey kroków; obok tyk wyciąga się na ziemi sznur, który gdy nie

jest dostatecznie długi, podczas mierzenia podług potrzeby co raz dalej posuwać się powinién. *Pomtore* wedle sznura tak rozciągnioného kładzie się żerdź iedna AD w tén sposób, aby iedén iéy koniec A odpowiadaf początkowi linii wymierzaiący się. W układaniu żerdzi oto usilnie starać się potrzeba, aby miały położénie poziémné, czego za pomocą równowagi czyli iak zowią gruntwagi *n* łatwo dokazać można, podkładaiąc pod żerdzie, umyślnie przygotowané do tego deszczutki, kiyki, kamyki i inné tym podobné rzeczy.

Po ułożeniu piérwszý żerdzi, tak iak się powiedziało, kładzie się wprost niéy żerdź druga DC , w ten sposób, aby się obie tylcami swémi iak naydokładniéy dotykały, co widocznie pokazuje się przy D . Z témiz ostrożnościami kładzie się wprost drugiéy żerdź trzecia. Ułożywszy tak wszystkie trzy żerdzie, biorą się z linii dwie piérwsze, bynaymniéy nie poruszaiąc trzeciéy, i znowu dalej układaią się w ciągu linii tak iak piérwéy.

Gdy się przyydzie do miejsc tak nie równych, iż żerdź następuiąca wyzéry lub niżéry położona bydz musi niż poprzedzaiąca; iak tu *np*: żerdź pod liczbą 3 niżéry kładzie się niż DC : a zatém obie dwie tykami swémi schodzić się nie mogą; w tym razie do tylca C żerdzi poprzedzaiący DC przyłożywszy cienki

pion, potrzeba żerdź następującą niżej położoną póty posuwać ku owému pionowi, póki się go tyłcém swoim dotykać nie będzie. Tén sam sposób postępowania zachowuje się, gdy żerdź następująca wyżej niż poprzedzająca byź ma położona.

Uważać tu należy, iż ponieważ raz tylko wszystkie trzy żerdzie ciągle układają się, potem zaś dwiema tylko na przemiany robi się, bo trzecia zawsze nieruchoma zostaje; pilnie więc notować potrzeba, ile razy dwie owé żerdzie w ciągu całej linii były położone, gdyż ich liczba dwa razy wzięta i dodana do liczby trzech żerdzi najpierwéy położonych, okaże prawdziwą długość pola przedsięwziętego do wymiaru.

Wyłożony mierzenia sposób lubo jest pracowity; wszakże jest tén, który się nazywa dokładny. Fatygi pochodzący z częstego schylania się można uniknąć, kładąc żerdzie nie na saméy ziemi, ale opierając je na przygotowanych umyślnie do tego widełkach, któreby się, według potrzeby, podwyższać lub zniżać mogły.

Sposób drugi. W niedostatku pomienionych lasek, można taki sam pomiar odprawić mierniczym łańcuchém lub sznurém, lubo nie z tą co poprzedzająca robota łańcwością i dokładnością, z przyczyny, iż

sznur lub łańcuch dla uginania się swego, nigdy należycie poziomo wyciągnąć się nie da. I tak jeżeliby grunt iaki leżał na garbie lub górze, i onegoż długość albo szerokość ciągle szła w górę; natenczas dwaj ludzie wyciągnąwszy sznur wzdłuż linii przedsięwziętę do wymiaru, ów człowiek, który sznur ciągnie przy *A* niżej stojący, wzięwszy laskę długą i mocną podniesie ieden koniec sznura mierniczego tak wysoko, póki drugi człowiek, trzymający przy *b* drugi koniec sznura, nie pomiarkuje, iż sznur podług równowagi należycie jest wyciągniony. A tak stopniami odmierzy się piérwéy liniia *ab*, potem, tym samym sposobem liniia *bc*, naostatek liniia *cd*. Długości tych trzech linii *ab*, *bc*, *cd*, razem dodané uczynią prawdziwą równoważną linią *Ag*.

Jeżeli garb lub góra jest przykra i niedostępna; częstokroć całego sznura wyciągnąć nie można, ponieważ ów człowiek który niżej z sznurem stoi, tak wysoko iak potrzeba podnieść go nie może, ażeby cała iego długość podług równowagi była wyciągnięta. W takowym razie wyciąga się połowa tylko lub inna iaka np: 3cia lub 4ta część sznura, a długości iego wyciągané, dokładnie zrachować i zapisać należy.

Tak iako się stopniami mierzyło do góry, tak się téż i na dół mierzyć ma, tyl-

ko z tą różnicą, iż podczas mierzenia na dół, ów człowiek który przodem idzie, wysoką laskę mieć powinién do podnoszenia sznura w górę, ponieważ zawsze niżéy stoi iak drugi. W reszcie ze wszystkiém tym sposobém postępować się ma iak podczas mierzenia w górę. Gdy więc przy końcu wszystkié, podczas mierzenia w górę i na dół wypadlé pojedynczé sznura długości, toiest *ab, bc, cd, de, ef* razém będą dodané; będzie wiadoma cała równowazna linia *Ab*, któręy szukano.

W całéy téy robocie tego mocno przestrzegać należy, aby sznur iak naydokładniéy, podług równowagi był wyciągany, co łatwo trzeci człowiek robocie przytomny będzie mógł osądzić, ieżeli od sznura mierniczégo na kilkanaście kroków odstąpi i położenie onegoż dobrze uważać będzie.

§. 6. *Wyznaczyć na papierze wzajemné ku sobie nachylenie dwóch ścian gruntu iakowégo, dwóch murów, parkanów i t. d. czyli co iednoż iest, zrobić na papierze kąt równy kątowi danému na ziemi, i przeciwnie.*

*Naprzód: niech będzie dany na papierze (Tabl: 1. Fig: 7.) kąt *ros*, któremu trzeba zrobić inny równy na ziemi. Z ja-*

kiękolwiek podziałki obeymy cyrkłem cząstek równych 30, i tą otwartością od wierzchołka kąta daného, wyznacz na iego ramionach dwie części równe *or*, *os*. Potém wymierz na téżże podziałce linią *rs*, która niechay *np*: zamyka w sobie 36 takich cząstek, iakich liniia *or*, albo *os* zamyka 30. Takowé przygotowanie wykonawszy przystąp do działania na gruncie.

Niech będzie dana na gruncie (*Tabl: 1. Fig: 8.*) liniia *AC*, z której punktu *A*, wyciągnąć trzeba inną linią czyniącą z nią kąt równy kątowi pomiénionemu *ros*. *Na-przód* na linii *AC* daney na gruncie wyznacz sznurem od *A*, do *C* stóp 30, które będą oznaczać 30 równych cząstek wziętych z podziałki. *Powtóre*, zadziérgnąwszy końce sznura za kołki w punktach *A, C*, zabité, weź na nim od końca *A* stóp 30, a z końca *C*, 36: tak wzięté dwie części sznura wyciągaj równo przy samém ziemi, a wyciągajac nachylaj ię ku sobie póty, póki końce ich nie przypadną w jedénże punkt *B*, który naznaczysz kołkiem w ziemi zabitym. Naostatek, podług punktów *A, B*, wytknięta liniia prosta, albo téż wyryty rowek, uczyni na gruncie kąt *BAC* równy kątowi danému na papierze.

Przemieniwszy sznury *AB, CB*, to jest na sznurze *AB* wzięwszy stóp 36, a na

CB 30; miałbyś także kąt równy danemu, ale już nie przy punkcie A ale przy C .

Powtóre, gdybyś miał zrobić na papierze kąt równy kątowi na ziemi zawartemu między dwoma stykającymi się murami, parkanami, lub ścianami gruntu iakowego; postąpiłbyś sobie zupełnie tak, iak się dopiero powiedziało, tylko porządkiem przeciwnym. To jest: (*Tabl: 1. Fig: 8.*) od wierzchołka A kąta danego BAC wyznacz sznurém na jego ramionach części równé AB , AC , zawierające w sobie np. po 30 stóp, potem wymierz odległość CB . To wykonawszy, pociągniesz na papierze (*Fig: 7.*) linią os , i dasz iey tylé części wziętych na podziałce, ilé odmierzyłeś był stóp na ścianie AB , lub AC , prócz tego też samą otwartością cyrkla, z punktu o zrysuy łuk. Weź potem na podziałce tylé części, ilé znalazłeś stóp w odległości BC , iak tu 36, i z punktu s , promieniem równym téy liczbie części, narysuy drugi łuk, który przetnie łuk pierwszy w punkcie r : od którego gdy pociągniesz linią ro ; będziesz miał na papierze kąt ros równy kątowi BAC , zawartemu między dwiema ścianami gruntu.

Chcąc wiedzieć w stopniach ważność kąta pomienioného, łatwo tego dóydziesz za pomocą Przenośnika (Transportator), i tak mierząc Prze-

nośnikiem kąta *ros*, dowiesz się, iż ma mniej cokolwiek niżeli 74° .

Dokładniéj nierównie, bo i w minutach nawet za pomocą następującej Tablicy, można dochodzić ważności kątów, których podstawy czyli cięciwy są wymierzone. Tablica ta ułożona jest na kąty zawarte między dwoma ramionami, z których każde zamyka stóp 30. Zażycie téj Tablicy dla znalezienia ważności wszystkich kątów dostępnych na ziemi, jest następujące.

(*Tabl 1. Fig: 8*) Od wierzchołka *A* kąta *BAC*, odmierz na obóch ścianach ténże kąt czyniących, po stóp 30, punkta *B*, *C*, znacząc kółkami w ziemię utwierdzone. Wymierz potém podstawę czyli cięciwę kąta, toiest linią *BC*, położmy, że iéy długość jest stóp 36. Teraz, szukay w Tablicy w kolumnie cięciw, stóp 36, a znajdziesz w przyległéj kolumnie stopniów, liczbę odpowiadającą $73^{\circ} 44'$, i ta będzie ważność w stopniach kąta *BAC*.

Stopa, o której tu mowa, brać się ma za pół łokcia czyli za calów 12.



TABLICA KĄTÓW PŁASKICH

zawartych między dwoma ramionami, z których każde jest długie na stóp 30.

Cięciwy.		Kąty.	
Stopy.	Cale.	Stopnie.	Minuty.
0	2	0	19
0	4	0	38
0	6	0	57
0	8	1	8
0	10	1	36
1	0	1	55
1	2	2	24
1	4	2	33
1	6	2	52
1	8	3	11
1	10	3	30
2	0	3	49
2	2	4	8
2	4	4	28
2	6	4	47
2	8	5	6
2	10	5	25
3	0	5	44
3	2	6	3
3	4	6	22
3	6	6	41
3	8	7	0
3	10	7	20

TABLICA KĄTÓW PŁASKICH

zawartych między dwoma ramionami, z których każde jest długie na stóp 30.

Cięciwy.		Kąty.	
Stopy.	Całe.	Stopnie.	Minuty.
4	0	7	39
4	2	7	58
4	4	8	17
4	6	8	36
4	8	8	55
4	10	9	14
5	0	9	34
5	2	9	53
5	4	10	12
5	6	10	31
5	8	10	50
5	10	11	9
6	0	11	29
6	2	11	48
6	4	12	8
6	6	12	27
6	8	12	46
6	10	13	5
7	0	13	24
7	2	13	43
7	4	14	2
7	6	14	22
7	8	14	41
7	10	15	0

TABLICA KĄTOW PŁASKICH

zawartych między dwoma ramionami, z których każde jest długie na stóp 30.

Cięciwy.		Kąty.	
Stopy.	Cale.	Stopnie.	Minuty.
8	0	15	20
8	2	15	39
8	4	15	58
8	6	16	18
8	8	16	37
8	10	16	56
9	0	17	15
9	2	17	34
9	4	17	54
9	6	18	13
9	8	18	32
9	10	18	52
10	0	19	11
10	2	19	30
10	4	19	50
10	6	20	19
10	8	20	29
10	10	20	48
11	0	21	8
11	2	21	27
11	4	21	46
11	6	22	6
11	8	22	25
11	10	22	45

TABLICA KĄTOW PŁASKICH
zawartych między dwoma ramiona-
mi, z których każde jest długie
na stóp 30.

Cięciwy.		Kąty.	
Stopy.	Cale.	Stopnie.	Minuty.
12	0	23	5
12	2	23	24
12	4	23	44
12	6	24	3
12	8	24	32
12	10	24	42
13	0	25	1
13	2	25	21
13	4	25	41
13	6	26	1
13	8	26	20
13	10	26	40
14	0	26	59
14	2	27	18
14	4	27	38
14	6	27	58
14	8	28	18
14	10	28	38
15	0	28	57
15	2	29	17
15	4	29	37
15	6	29	56
15	8	30	16
15	10	30	36

TABLICA KĄTÓW PŁASKICH

zawartych między dwoma ramionami, z których każde jest długie na stóp 30.

Cięciwa.		Kąty.	
Stopy.	Całe.	Stopnie.	Minuty.
16	0	30	56
16	2	31	16
16	4	31	36
16	6	31	56
16	8	32	16
16	10	32	35
17	0	32	55
17	2	33	15
17	4	33	35
17	6	33	55
17	8	34	15
17	10	34	35
18	0	34	55
18	2	35	15
18	4	35	35
18	6	35	55
18	8	36	15
18	10	36	35
19	0	36	55
19	2	37	15
19	4	37	36
19	6	37	56
19	8	38	16
19	10	38	36

TABLICA KĄTOW PŁASKICH

zawartych między dwoma ramionami, z których każde jest długie na stóp 30.

Cięciwy.		Kąty.	
Stopy.	Całe.	Stopnie.	Minuty.
20	0	38	56
20	2	39	17
20	4	39	38
20	6	39	58
20	8	40	18
20	10	40	38
21	0	40	59
21	2	41	19
21	4	41	40
21	6	42	0
21	8	42	20
21	10	42	40
22	0	43	1
22	2	43	22
22	4	43	42
22	6	44	3
22	8	44	24
22	10	44	44
23	0	45	5
23	2	45	26
23	4	45	46
23	6	46	7
23	8	46	28
23	10	46	48

TABLICA KĄTOW PŁASKICH

zawartych między dwoma ramionami, z których każde jest długie na stóp 30.

Cięciwy.		Kąty.	
Stopy.	Cale.	Stopnie.	Minuty.
24	0	47	9
24	2	47	30
24	4	47	51
24	6	48	12
24	8	48	33
24	10	48	54
25	0	49	15
25	2	49	36
25	4	49	57
25	6	50	18
25	8	50	39
25	10	51	0
26	0	51	21
26	2	51	42
26	4	52	3
26	6	52	24
26	8	52	46
26	10	53	8
27	0	53	29
27	2	53	51
27	4	54	12
27	6	54	34
27	8	54	55
27	10	55	16

TABLICA KĄTOW PŁASKICH

zawartych między dwoma ramionami, z których każde jest długie na stóp 50.

Cięciwy.		Kąty.	
Stopy.	Cale.	Stopnie.	Minuty.
28	0	55	38
28	2	56	0
28	4	56	22
28	6	56	43
28	8	57	5
28	10	57	26
29	0	57	48
29	2	58	10
29	4	58	32
29	6	58	54
29	8	59	16
29	10	59	38
30	0	60	0
30	2	60	22
30	4	60	44
30	6	61	6
30	8	61	28
30	10	61	50
31	0	62	13
31	2	62	35
31	4	62	58
31	6	63	20
31	8	63	43
31	10	64	5

TABLICA KĄTOW PŁASKICH

zawartych między dwoma ramionami, z których każde jest długie na stóp 30.

Cięciwy.		Kąty.	
Stopy.	Cale.	Stopnie.	Minuty.
32	0	64	28
32	2	64	50
32	4	65	13
32	6	65	36
32	8	65	58
32	10	66	21
33	0	66	44
33	2	67	7
33	4	67	30
33	6	67	53
33	8	68	16
33	10	68	39
34	0	69	2
34	2	69	25
34	4	69	48
34	6	70	12
34	8	70	35
34	10	70	59
35	0	71	22
35	2	71	46
35	4	72	10
35	6	72	33
35	8	72	56
35	10	73	20

TABLICA KĄTOW PŁASKICH

zawartych między dwoma ramionami, z których każde jest długie na stóp 50.

Cięciwy.		Kąty.	
Stopy.	Całe.	Stopnie.	Minuty.
36	0	73	44
36	2	74	8
36	4	74	32
36	6	74	56
36	8	75	20
36	10	75	44
37	0	76	9
37	2	76	33
37	4	76	57
37	6	77	22
37	8	77	46
37	10	78	9
38	0	78	35
38	2	79	0
38	4	79	25
38	6	79	50
38	8	80	15
38	10	80	40
39	0	81	5
39	2	81	30
39	4	81	55
39	6	82	20
39	8	82	46
39	10	83	12

TABLICA KĄTOW PŁASKICH

zawartych między dwoma ramionami, z których każde jest długie na stóp 30.

Cięciwy.		Kąty.	
Stopy.	Cal.	Stopnie.	Minuty.
40	0	83	37
40	2	84	3
40	4	84	29
40	6	84	54
40	8	85	20
40	10	85	46
41	0	86	12
41	2	86	39
41	4	87	5
41	6	87	32
41	8	87	58
41	10	88	25
42	0	88	51
42	2	89	18
42	4	89	45
42	6	90	12
42	8	90	39
42	10	91	6
43	0	91	33
43	2	92	1
43	4	92	29
43	6	92	56
43	8	93	24
43	10	93	52

TABLICA KĄTOW PŁASKICH

zawartych między dwoma ramionami, z których każde jest długie na stóp 30.

Cięciwy.		Kąty.	
Stopy.	Całe.	Stopnie.	Minuty.
44	0	94	20
44	2	94	48
44	4	95	16
44	6	95	45
44	8	96	13
44	10	96	42
45	0	97	11
45	2	97	40
45	4	98	9
45	6	98	38
45	8	99	8
45	10	99	37
46	0	100	6
46	2	100	36
46	4	101	6
46	6	101	36
46	8	102	7
46	10	102	37
47	0	103	8
47	2	103	39
47	4	104	10
47	6	104	41
47	8	105	12
47	10	105	44

TABLICA KĄTOW PŁASKICH

zawartych między dwoma ramionami,
z których każde jest długie
na stóp 30.

Cięciwy.		Kąty.	
Stopy.	Cale.	Stopnie.	Minuty.
48	0	106	16
48	2	106	48
48	4	107	20
48	6	107	52
48	8	108	25
48	10	108	57
49	0	109	30
49	2	110	4
49	4	110	37
49	6	111	11
49	8	111	44
49	10	112	18
50	0	112	53
50	2	113	28
50	4	114	3
50	6	114	38
50	8	115	14
50	10	115	49
51	0	116	26
51	2	117	2
51	4	117	39
51	6	118	16
51	8	118	53
51	10	119	31

TABLICA KĄTOW PŁASKICH

zawartych między dwoma ramionami, z których każde jest długie na stóp 30.

Cięciwy.		Katy.	
Stopy.	Całe.	Stopnie.	Minuty.
52	0	120	9
52	2	120	47
52	4	121	26
52	6	122	6
52	8	122	45
52	10	123	25
53	0	124	6
53	2	124	47
53	4	125	28
53	6	126	10
53	8	126	52
53	10	127	35
54	0	128	19
54	2	129	3
54	4	129	48
54	6	130	33
54	8	131	19
54	10	132	6
55	0	132	53
55	2	133	44
55	4	134	30
55	6	135	20
55	8	136	11
55	10	137	3

TABLICA KĄTOW PŁASKICH

zawartych między dwoma ramionami, z których każde jest długie na stop 30.

Cięciwy.		Kąty.	
Stopy.	Cale.	Stopnie.	Minuty.
56	0	137	57
56	2	138	49
56	4	139	44
56	6	140	40
56	8	141	38
56	10	142	36
57	0	143	36
57	2	144	39
57	4	145	43
57	6	146	48
57	8	147	57
57	10	149	8
58	0	150	20
58	2	151	36
58	4	152	55
58	6	154	19
58	8	155	48
58	10	157	22
59	0	159	3
59	2	160	53
59	4	162	54
59	6	165	12
59	8	167	48
59	10	171	28

Uważać należy, że w téy Tablicy, lubo podstawy w stopach i calach są wyrażone; té jednak cale dla krótkości nie wszystkie się kładą, i tylko od dwóch do dwóch są położone. Można jednak przez proporcją wynaleźć wartość kątów odpowiadających calóm, które umieszczony nie są. I tak dla wynalezienia *np.* wartości kąta odpowiadającego podstawie 50 stóp i calów 3, szukay średniéy proporcjonalnéy między $113^{\circ} 28'$, (które są miarą kąta odpowiadającego podstawie stóp 50 i calów 2,) i między $114^{\circ} 3'$, (które są miarą kąta odpowiadającego podstawie stóp 50 i calów 4,) znaleziona średnia proporcjonalna $113^{\circ} 44'$ będzie miarą kąta odpowiadając go podstawie 50 stóp i calów 3.

Z tąż samą dokładnością Tablica ta służyć może do poznania ważności kątów na papierze lub na mapie znajdujących się, zamiast sznura używając cyrkla i podziałki (scala.)

§. 7. *Do linii danéy na gruncie prowadzić linią prostopadłą.*

W różnych działaniach, w których nadarza się potrzeba prowadzenia linii prostopadléy, dwa następujące trafiają się przypadki.

PRZYPADEK PIERWSZY.

Gdy od punktu na saméy linii leżącego prostopadłą prowadzić trzeba.

Sposób piérwszy. (Tabl: 1. Fig: 4.) Dajmy *np.*: że kto z punktu C wyznaczonégó

na linii AB chce podnieść linią CD prostopadłą do AB . 1. Założywszy, że punkt C , jest w równy odległości od A , i B , weź laskę długą albo łatę mającą na obóh końcach wbite bratnale lub kołki: i ieden iéy koniec przytwierdziwszy w punkcie A , drugim téyże łaty końcem rysuy na ziemi cząstkę okręgu łukiem zwaną. 2. Przenieś się z tąż samą łatą na punkt B , i uczyn na nim toż samo co uczyniłeś na punkcie A . 3. Od punktu D , w którym się przecięły dwa łuki na ziemi zrysowane, gdy wykreślisz linią do punktu danego C , ta będzie prostopadłą do linii AB .

Jeżeliby punkt C nie znajdował się w równy odległości od A i B , należałoby wyznaczyć łatą dwa inne punkta równie odległe od C , i z nimi tak postąpić iak postępowało się z punktami A , B .

Sposób drugi. (Tabl: 1. Fig: 4.) Zakładając tak iak w sposobie pierwszym, że punkt C , od którego ma wychodzić linia prostopadła, jest w równy odległości od obóh linii daney końców; naprzód, w końcach téy linii ustaw pod pion dwie żerdzie A , B : potém złożywszy sznur na dwie części równe, końce iego zadziergnij za laski A , B , śrzodek zaś sznura trzymając w ręku, wyciągay przy saméy ziemi obie połowy w tę stronę, w którą ma wychodzić linia prostopadła. Naostatek w tém miejscu, gdzie przypada śrzodek wycią-

gnionego sznura, zatknij źerdź D : od téj wyprowadzona liniia do punktu danego C będzie prostopadłą żadaną.

Sposób trzeci. (Tabl: 1. Fig: 5.) 1. Od punktu danego A , wyznacz sznurém ku C , miar 4, toż w punktach A , C , zaczepiwszy końce sznura, węz na nim od końca C miar 5, a z końca A , miar 3, wszędzie jednakowego gatunku. 2. Tak wzięte dwie części sznura wyciągay równo w tę stronę, w którą ma wychodzić liniia prostopadła, a wyciągając nachylaj ié tak, aby się końca i swémi zeszyły w jednymże punkcie B . Natenczas wedle sznura AB wryty rowek będzie oznaczał linią AB prostopadłą do AC .

Gdyby wyprowadzona prostopadła miała bydź znaczny długości, mógłbyś ią łatwo przedłużyć podług tego, co się powiedziało w przy-padku drugim §. 1.

W podobnych działaniach szczególnieyszą na to trzeba dać bacność, żeby sznury, ilé możności, jednakowo były natężane: inaczej nie wiele dokładności spodziewać się można. Lepiej zatem i bezpieczniey iest, do podobnych robót zażywać łąt długich i prostych, i z niemi tak się obeysdź, iak się o sznurach powiedziało: co tu Tabl: 1. Fig: 5. iasnie i widocznie pokazuje.

Sposób czwarty za pomocą Węgielnicy mierniczey. (Tabl: 1. Fig: 6.)

Węgielnica miernicza składa się z dwóch reguł drewnianych na stopę lub 3 ćwierci długich, spoionych z sobą na krzyż tak, aby w spoieniu swoim czyniły kąt prosty. Końce reguł powinny być opatrzone celownikami takimi, iakić bywają u prawideł czyli reguł (*Alidadae*) do scolika mierniczego używanych. W szródku spodnię płaszczyzny narzędzia, iest przyprawny sztyft mosiężny, albo też z twardego drzewa wyrobiony na 3 cale długi, a $\frac{1}{2}$ lub $\frac{3}{4}$ cala gruby. Sztyft ten służy do osadzenia Węgielnicy na iey nodze, która pospolicie składa się z laski prostey mającęy iedén koniec żelazem okuty dla łatwiejszego iey utwierdzenia w ziemię, na drugim zaś wydrążoną dziurę téy wielkości, aby w nią sztyft Węgielnicy wygodnie mógł wchodzić.

Nie masz nic wygodniejszego nad ten prosty Instrument nietylko do wyznaczenia linii prostopadłych, ale też i do innych działań na gruncie, iako się niżej obaczy.

(Tabl: 1. Fig: 4.) I tak za pomocą téy Węgielnicy, chcąc z punktu *C* leżącego na linii *AB* wyprowadzić linią prostopadłą; 1. w punkcie danym *C* ustawivszy Węgielnicę poziomo, wykieruy celowniki iednego prawidła ku źerdzióm *A, B*, na końcach linii ustawionym. 2. W tém położeniu gdy Węgielnicę utwierdzisz, każ pomocnikowi

twému udadz się z żerdzią w tę stronę, w którą ma wychodzić liniia prostopadła, sam zaś przez celowniki drugiego prawidła poglądając, póty pomocnika twógo w prawą lub lewą stronę kieruy, póki go nie nawiedzisz na takié miejsce, w którymby żerdź *D* pionowo ustawiona, wpadała na twóy promień oczny przez celowniki drugiego prawidła przechodzący. Po ustawionéy tym sposobém iednéy żerdzi, możesz kazać tylé innych ustawić, ilé będzie potrzeba, a tak liniia żerdziami wytknięta będzie prostopadłą żadaną.

Można ieszcze od punktu daného na ścianie, na linii iakiéy, albo na wyciągnionym sznurze naznaczyć linią prostopadłą, za pomocą węgielnicy od cieśli i mularzy zażywanéy. Bok iedén téy węgielnicy przykłada się do ściany, do linii, lub do rozciągnioného sznura, tak aby węgiel czyli róg węgielnicy tykał się tego punktu, od którego ma wychodzić liniia prostopadła, zaś według drugiego boku tak ułożonéy węgielnicy zrobiony rowek, albo wyciągnięty sznur, będzie oznaczał prostopadłą żadaną.

PRZYPADEK DRUGI.

Gdy potrzeba spuścić prostopadłą na daną linią od iakiého punktu od niéy odległego.

Sposób

Sposób pierwszy. (Tabl: 1. Fig: 4.) Dajmy, iż z punktu D trzeba spuścić prostopadłą na linią AB . Jeżeli punkt dany nie jest zbyt odległy od linii daney; natenczas, złożywszy sznur na dwie części równé, środek iego zaczep za żerdź ustawioną w punkcie wyznaczonym D , potem obie połowy złożoného sznura wyciągay tak, aby końcami swemi tykały się linii daney we dwóch iakich punktach A, B . Odległość między temi punktami zawartą, to jest odległość AB , gdy podzielisz na dwie części równé; znajdziesz punkt C , do którego wyprowadzona linią od punktu daného D , będzie prostopadłą do AB .

Sposób drugi. (Tabl: 1. Fig: 4.) Jeżeli by punkt naznaczony D w znaczney odległości zostawał od linii daney; w tym razie do spuszczenia linii prostopadłey użyjesz wyżej opisaney Węgielnicy, a to w sposób następujący:

Tak w punkcie danym iako téż na końcach linii daney ustaw żerdzie A, B, D , ilé możności pionowo. Potem osadziwszy Węgielnicę mierniczą na iey nodze, posuway się z nią po linii daney póty, póki nie natrafisz na taki punkt C , abys zatrknąwszy w nim nogę Węgielnicy, i wykierowawszy celowniki iedného prawidła ku żerdzi D , mógł za iednym zawodem przez celowniki drugiego prawidła widzieć żerdzie A, B , na końcach linii daney

ustawioné. Natéczas przez punkt tén, w którym była utwierdzona noga tak wykierowaney Węgielnicy, i przez dany punkt D przeprowadzona linia, będzie prostopadłą żadaną do linii daney AB .

§. 8. *Maiąc iedén z boków ulicy regularnéy, grobli, kanału i t. d. wyciągnąć bok drugi w odległości upodobanéy: albo co iedno znaczy, do linii danéy prowadzić równoległą.*

1. (Tab: 1. Fig: 10.) Jeżeli odległość równoległéy szukaney iest w miarach dana, iakoto gdyby np : linia AB wyrażała iedén z boków kanału, którémuby dadź chciano szerokość na 8 łokci; natéczas z jednégo końca boku kanału wystawiwszy prostopadłą Af długą na 8 łokci, z jéy końca f wyciągnij znowu prostopadłą fg w tę stronę, w którą piérwszy bok kanału rozciąga się: prostopadła tak wyciągniona, będzie bokiém drugim kanału równoległym do piérwszego.

2. (Tab: 1. Fig: 9.) Jeżeli zaś wyznaczony tylko iest na ziemi punkt np : C , przez który ma przechodzić linia równoległa, a odległość iego od linii danéy AB , nie iest w miarach wiadoma; w tym razie od tego końca linii danéy, który iest naprzemianległy z tym punktem, przez któ-

ry ma przechodzić linia równoległa, iak tu od punktu A , przeciągnij sznur do punktu daného C , i w środku odległości AC , zatknij źerdź E . Potém przemierzwszy odległość BE , przeciągnij ją od E do D , tak, aby punkta B, E, D , w jednymże były kierunku, tudzież żeby część DE równała się części, wymiérzonéy EB . Natenczas przez punkt dany C i drugi znaleziony D wytknięta linia CD , będzie równoległą do AB i przechodzącą przez punkt dany C .

§. 9. *Linia prostą An przedłużyć, mimo zdarzającéy się nieprzebytéy przeszkody. (Tabl. 1. Fig. 10.)*

1. Z punktu n , od którego dla przyległego budynku nie możesz przeciągnąć daléy linii An , wystaw za pomocą Węgielnicy prostopadłą nE tak długą, aby pomiała przeszkodę. 2. Z końca drugiego téy prostopadléy, w tę stronę, w którą linia An ma być przedłużona, wystaw drugą prostopadłą ED téy długości, aby miała budynek lub inną iakową przeszkodę, i z końca D téżé drugiey prostopadléy wystaw trzecią prostopadłą Dm , równą w długości piérwszéy prostopadléy nE . Naostatek gdy z punktu m wystawisz prostopadłą mB , ta będzie przedłużeniem linii danéy An .

§. 10. Między dwoma miejscami AB z przeciwnych stron lasu położonemi, linią prospektu w lesie wyzna-
leżć, chcąc las podług nięj
wycinać.

Sposób piérwszy. (Tabl: 1. Fig: 11.)
1. Obok linii AB , o którą rzecz idzie, obierz punkt C , z którego bys oba końce A i B mógł widzieć, potem zmierzwszy odległości AC , CB , weź każdę z nich np : połowę albo część trzecią, czwartą, i t. d. i części wzięte iak tu CE , CD , zaznacz żerdziami E , D , w ziemi utwierdzonemi, tudzież linią ED przedłuż ku iednęj stronie iak można naydalęj, iak tu od E do F . 2. To wykonawszy, od iednego z punktów danych, iak tu od punktu B , spuść prostopadłą BF , na linią przedłużoną EF : nadto z któregokolwiek punktu na téjże linii wziętego, iak tu z punktu F wystaw drugą prostopadłą FG równą prostopadłęj BF . Tak mieć będziesz dwa punkta, ieden dany B , a drugi znaleziony G , będącé w jednymże kierunku z drugim punktem danym A . Stanąwszy więc o kilka kroków w prost dwóch lasek ustawionych na B i G , postrzeżesz każde drzewo, które wyciąć potrzeba, aby punkt A od punktu B mógł być widziany.

Tymże sposobem, (Tabl: 1. Fig: 10.) można wytknąć linią prostą między dwoma punktami

A, B , położonemi z przeciwnych stron budynku: z tą tylko różnicą, iż po wynalezieniu punktów E, D , trzeba linią ED przedłużyć ku obydwóm stronóm budynku, toiest od E ku f , i od D ku g : potem zaś od obydwóch danych punktów spuściwszy prostopadłe Af, Bg , trzeba z jakichkolwiek dwóch innych punktów wziętych na linii fg iak tu np : z punktów E, D , wystawić dwie inne prostopadłe En, Dm równé względem dwóch pierwszych Af, Bg . Natenczas punkta A, n, m, B , w jednymże kierunku znajdować się będą: zatem podług tego co się przy końcu przypadku 2. §. 1. powiedziało, będzie można po obydwóch stronach budynku wyznaczyć tyle innych punktów ile będzie wyciągała potrzeba.

Sposób drugi. (Tabl: 1. Fig: 12.) 1. Gdyby zachodziła trudność w obraniu takiego miejsca, z któregooby dwa punkta A, B , wyznaczone za końce linii, widziane bydz mogły; natenczas obok lasu wytknij linią prostą CD tak długą, aby końce iéy wychodziły, iak można, naydaléy za punkta naznaczone A, B : potem z punktów danych A, B , spuść linie prostopadłe AC, BD . 2. Wymierzywszy odległość CD między prostopadłemi zawartą, która w tym przykładzie zamyka miar 69, weź iéy iakąkolwiek część wielokrotną, iak tu część trzecią, toiest 23, i tę część wziętą wyznacz na przedłużeniu linii CD , od D ku E , z punktu zaś E wystaw prostopadłą EF nieokręślonéy długości. 3. Przemierz teraz prostopadłą AC mającą np : miar 16, tudzież

prostopadłą $BD = 44$: potem znalazłszy nadmiar (*excessus*) prostopadłej BD nad prostopadłą AC , toiest $44 - 16 = 28$; ułóż następującą proporcją: iak się ma odległość AG czyli CD , do BG , toiest do nadmiaru prostopadłej BD nad prostopadłą AC ; tak się ma całkowita odległość CE czyli AH , toiest: $69 \div 23 = 92$ do prostopadłej FH : czyli $69 : 28 = 92 : FH$: rozmnożywszy wyraz trzeci przez drugi, toiest 92×28 , wieloczyn stąd wynikający 2576 podzieliwszy przez wyraz pierwszy 69, będziesz miał wyraz czwarty $37\frac{1}{3}$, do którego przydawszy resztę pozostałą HE równą AC , czyli 16, liczba z tego dodania wypadła toiest $53\frac{1}{3}$ będzie oznaczać długość prostopadłej EF . Zatem gdy odmierzysz na niéy od E ku F miar $53\frac{1}{3}$, będziesz miał dwa punkta B, F , podług których wytknięta linia prosta przejdzie przez dwa punkta A, B , z przeciwnych stron lasu położone.

Długość prostopadłej EF może ieszcze bydz wynaleziona następującym sposobem. Wyprowadziwszy prostopadłą EF nieokreślonej długości, wymierz prostopadłe BD, AC . Potem znajdz nadmiar prostopadłej BD nad prostopadłą AC , a wzięwszy taką część znalezioneo nadmiaru, iaką wzięłeś był część linii CD , przyday część wziętą do liczby miar wyrażających długość prostopadłej BD : natenczas summa z tego

dodania wypadająca pokaże liczbę miar, którą prostopadła EF zamykać w sobie powinna. I tak podług wyższego założenia $BD = 24$, $AC = 16$, nadmiar $44 - 16 = 28$, tego nadmiaru wzięwszy część trzecią, to jest $9\frac{1}{3}$ i dodawszy do 44, to jest do liczby wyrażającej długość prostopadłej BD , wypadnie tak, jak w sposobie pierwszym, długość prostopadłej EF , miar $53\frac{1}{3}$.

§. 11. *Między dwoma punktami A, B, położonemi z przeciwnych stron pagórka, wału, góry i t. d. uczynić kómmunikacją w linii prostej.*

(Tabl. 1. Fig: 13.)

Po iednój stronie pagórka lub góry wyciągnij linią prostą cf , a po drugiej linią mi równoległą do pierwszej. Potem z punktu danego A , spuść prostopadłą Ad na linią cf , tudzież z któregokolwiek punktu f na téjże linii wziętego, byle tylko punkt wzięty omiiał róg czyli koniec góry, wystaw drugą prostopadłą fg , równą prostopadłej Ad . Z podobnemiż warunkami na drugiej linii mi wystawisz dwie prostopadłe Bm , bk , tak aby odległość mk równała się odległości df .

To wykonawszy, od punktu g wyciągnij linią prostą do punktu h , przedłużając ją z oboch stron aż do spotkania się z linią

iami równoległemi cf , mi , iak tu w punktach e , i . Naostatek przemierzwszy odległość ef , wyznacz ją na linii fc od d ku c : tak będziesz miał trzeci punkt c z punktami danými A i B w jednymże kierunku zostający. Zatem podług dwóch lasek ustawionych na A i c wyciągnięta linia prosta przejdzie przez punkt B : a tak mieć będziesz żadaną komunikacyą w linii prostej między dwoma punktami A i B , z przeciwnych stron góry lub pagórka położonými.

§. 12. *Wyznaczyć w miarach długość linii w pośrzedku nieprzystępney, do któręj iednak obudwóch końców wolny jest przystęp.*

Sposób piérwszy. Za pomocą Węgielnicy mierniczey, od obudwóch końców linii daney wystaw w jednę stronę dwie linie prostopadłe, tak długie, aby wszelką omiały przeszkodę. Potém dawszy tym prostopadłym iednakową długość, wymierz odległość między ich końcami zawartą; ta będzie równa długości niedostępney linii.

Sposób drugi. (Tabl: 1. Fig: 9.) 1. Obierz takie miejsce E , z któręgobyś oba końce linii AB widzieć i odległość ich od tegoż miejsca mógł sznurém odmierzyć. 2. W miejscu obraném ustawiwszy żerdź E , przemierz odległość AE , i przedłuż ją od

E ku C tak, aby część przedłużona EC , równa była części wymierzonej AE , koniec przedłużenia znacząc żerdzią w ziemi utwierdzoną. 3. Z témiz samými ostrożnościami wymierz i przedłuż odległość EB od E ku D . Natenczas odległość CD wymierzona, pokaże prawdziwą długość linii niedostępnej AB .

Sposób trzeci. (Tabl: 1. Fig: 11.) Gdyby dla jakich przeszkód linie AE , BE poprzedzającej figury, nie mógł być tak przedłużane, iak się dopiero powiedziało; w tym razie obrawszy takie miejsce C , z któregooby końce linii nieprzystępnej AB widziane być mogły, i przemierzwszy odległości CA , CB , weź każdej z nich trzecią *np*: część lub czwartą, piątą i t. d, części wzięte iak tu CE , CD , znacząc ustawionými w ziemi żerdziami. Wymierz potem długość ED , między żerdziami zawartą, i jeżeli *np*. wzięlesz CE równą części trzeciej linii całkowitej CA , natenczas długość linii ED wzięta trzy razy okaże prawdziwą długość linii niedostępnej AB .

§. 13. Wyznaczyć długość linii, której ieden tylko koniec jest dostępny.

Sposób piérwszy. (Tabl: 1. Fig: 14.)
1. Zatknąwszy iedną żerdź w miejscu C iakokolwiek odległym od punktu niedostęp-

pnęgo B , a drugą żerdź w miejscu D , także do upodobania obraném, z tym jednak warunkiem, aby się trzy punkta B, C, D , na iednędzy linii prosty znajdowały; przemierz odległość laski D od miejsca dostępnego A , i we śródku téy odległości utwierdź żerdź E : wymierz potém odległość EC , i przedłuż ją od E ku F tak, aby przedłużenié EF , równé było części wymierzonéy EC . 2. To uczyniwszy, stań z laską w kierunku dwóch punktów F, A , i póty od nich w tył lub na przód cofaj się, póki nie natrafisz na taki punkt G , w którymby laska twoja ustawiona, tak z punktami F, A , iako téż z punktami E, B , w jednędzy linii prosty znajdowała się: natenczas odległość GD równa będzie odległości nieodstępny AB .

Sposób drugi. (Tabl: 1. Fig: 15.)

1. W iakiémkolwiek miejscu będącém w linii prosty, z końcami A, B , linii mającý się wymierzyć, zatknij żerdź C , tudzież w drugiem iakiém miejscu, z któregooby punkta C, B, A , widziané bydź mogły, zatknij żerdź drugą D : potém rozmiérzywszy odległości DB, DC , przedłuż pierwszą z nich od D ku F , a drugą od D ku E , tak aby przedłużenia DE, DF , były równé odległościom wymierzonym DB, DC . 2. W punktach F, E , ustawwszy dwie żerdzie pod pion, odsuway się w linii prosty EF póty, póki nie natra-

fisz na taki punkt G , aby żerdź w nim utwierdzona tak z punktami E, F , iak z punktami D, A , w linii prostey zostawała, natenczas długość GF , będzie równa długości niedostępny AB .

Sposób trzeci. (Fig: 14.) 1. Ustawiwszy Węgielnicę mierniczą w punkcie dostępnym A , linii AB ; wykieruy celowniki jednego prawidła ku punktowi niedostępnemu B , teyże linii AB . 2. W tém położeniu gdy Węgielnicę umocnisz, przejdź do prawidła drugiego, i podług promienia ocznego przechodzącego przez celowniki iego, każ ustawić żerdź w miejscu iakimkolwiek dostępnym, np: w miejscu G . 3. Przenieś się z Węgielnicą na miejsce żerdzi G , ustaw celowniki jednego prawidła w kierunku GA , zaś podług promienia ocznego przechodzącego przez celowniki drugiego prawidła, każ zatknąć żerdź w inném takim miejscu D , z którego byś mógł widzieć drugi punkt B , linii AB . 4. Z miejsca G , posuway się z Węgielnicą, po linii GD póty, póki nienatrafisz na taki iey punkt D , abys ustawiwszy w nim nogę Węgielnicy, i wykierowawszy celowniki jednego prawidła ku punktowi G ; widział oraz przez celowniki drugiego prawidła, punkt niedostępny B . Natenczas mieć będziesz odległość GD , równą linii AB .

§. 14 Wyznaczyć długość linii AB , ze-
wzgard nieprzystępnej. (Fig: 18.)

Daymy iż linia AB , dla wód, błot, lub in-
nej iakowey przeszkody jest wcale nieprzy-
stępna.

1. Zatkniy trzy źerdzie C, O, D , w jakieyk-
wiek względem siebie odległości, z tym atoli
warunkiem, aby w jednéyże linii prostey z so-
bą zostawały: potém od źerdzi C , odsuway
się w linii prostey CB póty, póki nie natra-
fisz na takie miéscé F , aby w niém utwier-
dzona źerdź, tak z punktami O, A , iakotéż
z punktami C, B , linią prostą czyniła. Podo-
bnymże sposobem szukay drugiego punktu E ,
któryby tak z przedmiotami O, B , iakotéż D ,
 A , w jednymże zostawał kierunku. 2. Każ
przemierzyć boki Troykątów EOF, FOC, EOD ,
i za pomocą iakieykolwiek podziałki zrysuy
na papierze figurę $DCFE$ podobną figurze na
ziemi. Potém przedłuż na papierze linie ED ,
 FO , tudzież FC, EO , aż do przecięcia się ich
w punktach A, B , które będą oznaczać na pa-
pierze położenie dwóch punktów niedostę-
pnych na ziemi: zatém odległość ich na po-
działce wymierzona, da poznać niedostępną
na ziemi odległość tychże punktów A, B .

§. 15. Zmierzyć szerokość rowu, ba-
gna, rzeki, i t. d.

Sposób pierwszy. (Tabl: 1. Fig: 16.) Od
końca B linii niedostępnej AB , wyciągnij
wzdłuż brzegu rzeki, linią prostopadłą
 BC , tém dłuższą, im szerokość rzeki okiem

miarkowana, zdaie się bydź znacznieysza: potém we śródku téyże prostopadłéy, zatkniy pod pion żerdź D , a od końca C , w przeciwną stronę rzéce, wystaw prostopadłą CE nieokreślony długości. To wykonawszy posuway się z laską wzdłuż linii prostopadłéy CE , póty, póki nie natrafisz na takie miéysc E , w którémby utwierdzona laska, w jednéyże linii prostéy z punktami D, A , znaydowała się. Naténczas odległość EC równa będzie szerokości rzeki BA .

Jeżeliby linia DC nie była równa linii BD , ale iéy $\frac{1}{2}$ $\frac{1}{3}$ $\frac{1}{4}$ i t. d.; w tym razie linia także CE byłaby $\frac{1}{2}$ $\frac{1}{3}$ $\frac{1}{4}$ i t. d. linii odpowiadający AB : zatém wzięta 2, 3, 4, i t. d. razy, wyrównywałaby téyże linii niedostępnéy BA .

Sposób drugi. (Tabl: 1. Fig: 17.) 1. Wziąwszy dwa kiié prosté iakokolwiek nierówne np : iedén długi stóp 3, a drugi stóp 5, kiy mnieyszy utwierdź pionowo na brzegu rzeki np : w punkcie B , z większym zaś oddalay się póty wzdłuż linii BA , póki nienatrafisz na takie miéysc C , w którémbyś go utwierdziwszy, mógł widziéć przez wierzchołki obóch kiiów brzeg drugi A , albo téż krzak, kamién, drzewo lub inny iaki widoczny znak na drugim brzegu obrany. 2. Po ustawieniu w tén sposób obudwóch kiiów, wymierz naprzód odległość CB między kiiami zawartą, którą

tu kładziemy stóp 12: powtóré znajdz nadmiar kii większego nad mniejszy, który tu jest 2, i ułóż następującą proporcyą: $FE: ED = DB: BA$, albo wyrażając to samo w liczbach, $2: 12 = 3: BA$. Rozmnożywszy wyraz trzeci przez drugi, a wieloczyn 36 podzieliwszy przez wyraz piérwszy; wieloraz 18 pokaże ci szerokość BA .

Mógłbyś téżże szerokości doysć ieszcze z następującej proporcyi toies: $FE: ED = FC: CA$, albo w liczbach, $2: 12 = 5: CA$: natenczas rozmnożywszy wyraz trzeci przez drugi, a tak rozmnożoné podzieliwszy przez piérwszy, wieloraz z dzielenia wypadający iak tu 30 będzie oznaczał całkowitą długość CA , od której gdy odéymiesz między kiiami zawartą długość $CB = 12$, reszta pozostała $30 - 12 = 18$, pokaże tę samą ważność szerokości BA , co i piérwéy.

Tak w piérwszym iako i w drugim razie, ieżeliby kiy mniejszy nie był ustawiony na samym brzegu rzeki; potrzeba odległość iego od brzegu wymierzyć i od znalezionéy szerokości, iak tu od 18 odciągnąć.

Gdyby dwa kii do wymiaru rzeki użyte, były takie, iżby ieden był półową drugiego; natenczas utwierdziwszy ié w ziemi tak, iak się dopiero powiedziało, i wymierzywszy odległość między kiiami

zawartą, ta równałaby się szerokości rzeki.

§. 16. Rozmierzyć wysokość budynku, kolumny, wieży, i t. d.

I. Laskami.

Sposób pierwszy. Weź laskę tak wysoką, aby utwierdzona w ziemi pod pion, wyrównywała wysokości oka twójego: dopiero w przyzwoitej odległości od tego przedmiotu, którego wysokości szukasz, położywszy się w znak, każ rzeczoną laskę przy piętach swoich utrzymywać pod pion, sam zaś póty się odsuwać, lub zbliżać do wieży (laskę wraz z sobą rozkaszując posuwać) póki promień oka twójego przez wierzchołek laski przechodzący, nie przypadnie na wierzchołek tego przedmiotu, którego wysokość chcesz wiedzieć. Natenczas odległość oka twójego, od spodu wysokości wymierzona, będzie równa wysokości wieży, drzewa, budynku, i t. d. przedsięwziętego do wymiaru.

Sposób drugi. 1. Obrawszy dwa kije jakokolwiek nierówne, jeden np. na 5, drugi na 3 stóp długi; większy kij utwierdź pionowo w ziemi w przyzwoitej odległości od wieży, z mniejszym zaś oddalaj się póty, póki promień oka twójego przez wierzchołki obudwóch lasek przechodzący nie przypadnie na wierzchołek wyso-

kości szukanéy. 2. Tak gdy ustawisz kii-
ie, wymierz *naprzód* odległość między laskami zawartą; *ponwóré*, odległość kiiia mniejszego od spodu wysokości szukanéy; *potrzecié*, znajdz nadmiar laski większény nad mnieyszą; *naostatek*, ułóż następującą proporcją: iak się ma odległość między laskami zawarta, do odległości laski mnieyszény od spodu wysokości szukanéy; tak się ma nadmiar kiiia większego nad kiiy mnieyszzy, do wysokości przedmiotu: wyraz czwarty stąd wynikający, gdy mu przydasz długość kiiia mnieyszego, będzie prawdziwą wysokością wieży, drzewa i t. d.

Gdyby laski do wymiaru wysokości iakiéy użyte były takie, iżby iedna drugiéy była połową; układanie dopiéro wspomnionéy proporcji byłoby niepotrzebné: bo natenczas odległość laski mnieyszény od spodu wysokości wymierzona, wyrównywać będzie wysokości szukanéy.

II. Przez wielkość cienia rzuconégo od tego przedmiotu, którego wysokość mierzyć się przedsiębierze.

Sposób piérwszy. Gdy słońcé na 45° iest podniesioné nad choryzontém; natenczas cién, który wieża, drzewo lub iakikolwiek inny gmach pionowo stojący na ziemię rzuca, wymierzony, będzie równy wysokości tegoż przedmiotu. Podniesienie zaś słońca na 45° bywa w saméy połowie czasu

czasu między wschodem i południem, tudzież między południem i zachodem: *np:* jeżeli wschód jest o godzinie 4, a zachód o godzinie 8, wtenczas rano o godzinie 8, z południa zaś o godzinie 4, słońce na 45° jest podniesione.

Sposób drugi. Podtenczas gdy słońce świeci, wbiy w ziemię pod pion laskę długości upodobanej *np:* stóp 4, potem wymierzwszy długość cienia rzuconego od laski *np:* 6, iako też długość cienia rzuconego od wieży, drzewa i t. d. *np:* 36; ułóż następującą proporcją: iak się ma cień kija 6, do cienia rzuconego od wieży to jest 36; tak się ma wysokość kija 4, do wysokości drzewa, wieży i t. d.: wyraz czwarty 24 okaże szukaną wysokość przedmiotu.

III. *Przez odbiianie światła promienia padającego na powierzchnię płaską i sposobną do odbiiania.*

Nalawszy wodę naczyniē iakiē płaskiē, stawiam go na ziemi w przyzwoitēy odległości od tego przedmiotu, którego wysokość chcę wiedzieć: potem, od naczynia cofam się w tył póty, póki w niēm nie obaczę wiērchołka wysokości szukanēy: w tym albowiēm razie, tak się mieć będzie odległość moja od wody, do wysokości osoby moiēy, iak się ma odległość tēyże wody od przedmiotu, do wysokości przedmiotu: a zatēm wiedząc *naprzód* odległość wody

odemnie, *potworé* wysokość moję, *potrze-*
cie odległość wody od wysokości do mie-
 rzénia danéy; łatwo przez regułę proporcyi
 wynaydę wyraz czwarty.

§. 17. *Drzewa stojącego w lesie spro-*
bować, czyli go jest tyle łokci, ile
potrzeba np: 18, 20. i t. d.

Przyszedłszy do drzewa, odmierz na zié-
 mi od iego pnia tyle łokci, ile ich mieć
 powinno szukané drzewo, np: łokci 18.
 W tém miejscu, gdzie przypada koniec ło-
 kci 18, ustaw pod pion laskę tak długą,
 aby od ziemi do oczu twoich dostawała.
 Potém położywszy się w znak na ziemi
 w tén sposób, abys z drzewém i laską w li-
 nii prostéy znaydował się, tudzież abys
 się stopami twémi laski dotykał; przez
 wierzchołek iéy poglądaiąc, uważ, gdzie
 promień oka twégo na drzewo przypadnie:
 ieśli w tém miejscu będzie miało dostate-
 czną grubość, mozesz go ściąć kazać, po-
 nieważ wyrownywa długości, którém po-
 trzebuiesz.

§. 18. *Wszelkiego rodzaju Figury*
w ogrodzie, lub na polu rysować.

1. Niech będzie zadano, linią kolistą
 zatoczyć na ziemi.

Jeżeli plac, na którym okrąg koła ma
 być zrysowany, jest równy, weź sznur

albo łąkę długości upodobanej: i w tém miejscu, w którym chcesz mieć środek koła, ieden koniec łąki przybij do ziemi kołkiem w ten sposób, aby na nim wolno obracać się mogła. Tak przytwierdzoną gdy na koło obwiedziesz, i naznaczysz albo kołkami w ziemię zabitemi, albo też rowkiem wyrytym, wszystkie punkta ziemi, na których się drugi koniec łąki podczas obracania znajdował, będziesz miał linią kołistą wyznaczoną na ziemi.

Jeżeli zaś plac, na którym linią kołistą zatoczyć potrzeba, był zbyt nierówny, albo tak zaprzątiony, iżby się zupełnie wyrównać nie mógł; w tym razie na tém miejscu gdzie przypada środek okręgu, zabij w ziemię kół, któryby wysokością swoją przenosił wszelką nierówność na tym się placu znajdującą. Potém przygotuj łąkę długą, podług potrzeby, mającą na obóh końcach przewierconą dziurę, iedną większą, aby w nią kół zaciesany u góry wchodzić i łąka na nim wolno obracać się mogła, drugą zaś mniejszą, aby przez nią pion mógł być przewleczony. Tak przygotowaną łąkę założywszy na kół w ziemi zabity, obracaj ją w około, obracając zaś spuszczały do ziemi pion znajdujący się przy drugim téż łąki końcu; a miejsca czyli punkta ziemi pokazane od pionu każ komu ionemu naznaczyć tak, jak się wyżej powie-

działo. Punkta naznaczone gdy wrytym rowkiem połączysz między sobą; będziesz miał oznaczoną linią kolistą żadaną. Podczas obracania się łaty, tę ostrożność zachować potrzeba, aby ją zawsze utrzymywać poziomo: czego łatwo dokażesz, gdy przy tym końcu gdzie pion jest przewleczony, przybiiesz lub przywiążesz do łaty gruntwę.

2. Chcąc na placu jakim wyznaczonym, iakoto *np*: w ogrodzie, zrysować linią owalną na salę, altankę, fontannę lub co podobnego; (Tabl: 1. Fig: 21.) obierz sobie dwa punkta *ad* podług upodobania, i utwierdziwszy w nich dwa mocne kołki, przywiąż do nich dwa końce sznura, któryby był dłuższy od odległości *ad* między kołkami zawartę. Potem przy pomocy trzeciego kołka *E* albo też żerdzi wyciągnąwszy sznur, i trzymając go tak zawsze wyciągnięty, żerdź prostopadle postawioną gdy od punktu *C* do *B* oprowadzisz, ta w ruchu swoim zostawi rowek *dEGB*. Naostatek przyszedłszy do *B*, przełoż sznur na drugą stronę placu, i podobnie, iak wyżej, wyciągnąwszy sznur, oprowadź go wraz z żerdzią od *B* ku *C*, tak mieć będziesz wyznaczoną linią owalną *dEGBFd*.

3. Co się tycze wyznaczenia Trójkątów na ziemi, w tém żadney nie będzie trudności, pamiętając na to, co się §. 6. powiedziało o przerysowaniu na inném

mieyscu kąta iakiégo danégo na ziemi. Podobnież, znając co jest Prostokąt i Kwadrat, a pomniąc na sposoby wyłożone §. 7. wystawiania linii prostopadłych, łatwo będzie wyznaczyć na ziemi Prostokąt lub Kwadrat téy wielkości, iakiéy okoliczność lub potrzeba wymagać będzie.

4. Względem wyznaczenia na ziemi figur więcéy niżeli czteréma bokami zawartych, lubo cokolwiek zachodzi trudności, wszakże i té, byle wprzód na większym papierze, kartonie, lub desce odrysowane były, łatwo na ziemię przeniesioné i wyznaczone bydz mogą.

§. 19. *Sposób rysowania planty budynku z podwórzem czyli dziedzińcem i całym gospodarstkiem obeysciem.*

1. Jeżeli magistralné ściany budynku łączą się z sobą samémi kątami prostémi; natenczas długość ścian, sznurém lub laską na łokcie i cale podzieloną, wymierzwszy, łatwo plan budynku, podług kątów prostych i ścian pomierzonych, za pomocą podziałki umiarkowaney do wielkości rysunku, na papierze zrysujesz.

2. Jeżeli zaś magistralné ściany budynku w stykaniu się z sobą częścią ostré, częścią roztwarté czynią kąty, iak np: (Fig: 19. Tabl: 1.) w budynku *ABCDEFK*,

natenczas i z nich niektóre wymierzyć należy. I tak, na raptularzu zrysowawszy od ręki figurę cokolwiek podobną obwodowi budynku; abyś wyznaczył np: kąt ABC , przeciągnij sznur wedle ściany AB od B do g , tak aby część przedłużona Bg zamykała stop 30. Podobnież wedle drugiej ściany CB wyciągnij sznur od B do h , także na stop 30, końce miar wziętych iak tu g , h , znacząc zabitémi w ziemię kołkami, tudzież tego mocno przestrzegając, aby tak punkt g , z punktami A , B , iako téż punkt h , z punktami C , B , w jednymże zostawał kierunku. Wręście przemierzwszy odległość hg między kołkami zawartą, i to wszystko w raptularzu zanotowawszy, będziesz miał wiadomé w liczbach trzy boki Trójkąta równoramienného, w którym kąt hBg jest równy kątowi ABC iako wierzchołkiem przeciwległému. Chcąc zaś mieć wiadomą w stopniach ważność obudwóch pomienionych kątów, łatwo tego doйдiesz podług opisanej wyżej Tablicy. Tym samym sposobem mógłbyś wyznaczać inné kąty w obwodzie budynku znajdujące się.

Albo téż: Przedłużywszy ścianę BA od A ku o na stóp 30, zamiast przedłużenia drugiej przyległej ściany AK , odmierz na niéy od A do n także stóp 30, potem zmierzwszy odległość on , będziesz miał tak, iak pierwéy, wiadomé w liczbach trzy bo-

ki Trójkąta równoramiennego oAn , w którym kąt oAn jest spełnieniem kąta BAK . Doszedłszy zatem, podług wzmiankowanej Tablicy, ważności kąta oAn , gdy go odejmiesz od 180° , reszta pozostała będzie ważnością kąta BAK .

W niektórych szczególnych przypadkach można za iednym zawodem dwóch razem kątów iak tu kątów BCD , CDE wyznaczenie odprawić. To jest: wzdłuż ściany BC wyciągnij sznur od C do p , tudzież wzdłuż ściany ED , od D do m , tak, aby części lm , lp były sobie równe: potem przemierzwszy odległości IC , ID , mp , i té wszystkie wymiary przyzwoitym porządkiem w raptularzu zanotowawszy; będziesz miał tak iak w pierwszych dwóch razach wiadome w liczbach trzy boki naprzód Trójkąta mp , potem Trójkąta ICD , przy pomocy których kąty EDC , BCD , łatwo będzie można na papierze oznaczyć.

3. Po zakończonem wyznaczaniu kątów, pomiérz z podwórza ściany AK , KF , FE , ED , DC , CB , BA , potem wewnętrzne mury ab , bc , cd , df , fa , iako téż bx , xa , ax , xf , dx , cx ; naostatek, gdzie tylko będzie można, nie zaniechay wymierzyć linii przekątnych czyli dyagonalnych ad , ac , bf , té bowiem przy rysowaniu planu są wielce pomocné do postrzeżenia i poprawienia pomniejszych omyłek, jeżeli się iakié w pomiarze ścian i kątów przytrafiły.

4. Gdy takowy pomiar ścian i kątów odprawisz, łatwo za pomocą raptularza i podziałki wygotujesz rysunek w sposób następujący. *Naprzód*, wyciągnąwszy na papierze linią bp , któraby wyrażała długość ziemną bp , naznacz na niéy od b do p tylé części wziętych z podziałki, ilé znalazłes miar w długości odpowiadaiący na ziemi. *Powtóré*, na téyże linii wyznacz kolejno części IC , CB , Bb , proporcjonalné długościóm odpowiadaiącym na ziemi. *Potrzecié*, na linii lp wykreśl Tróykąt lmp podobny Tróykątowi odpowiadaiącému na ziemi: potém bok ml przedłużywszy nie okréślenie do E , i przeniosłszy nań z podziałki naprzód długość całkowitą mE , potém długość mD ; gdy punkt D złączysz linią z punktem C iuż piérwéy oznaczonym, będziesz miał wyrażoné na papierze położénie ścian BC , CD , DE , i kątów BCD , CDE między témiz ścianami zawartych.

Podybnymże sposobém na linii hB zrysowany Tróykąt hBg , wyznaczysz położénie ściany BA , Tróykąt zaś oAn da położénie ściany AK .

Dla wyznaczenia dwóch ostatnich ścian KF , FE , iako téż zawartého między niémi kąta; weź cyrkłém z podziałki tylé części, ilé ci wypadło z rozmiaru na ścianę KF , i tym promiénim z punktu K narysuj łuk w tę stronę, w którą są podané ściany KF , FE . Weź podobnież na podziałce ty-

Ile części, ile znalazłeś miar w ścianie FE , i tym promiieniem, z punktu E przeciętny łuk pierwszy. Od punktu F przecięcia się łuków przeprowadzone linie FH , FE , oznaczają położenie dwóch ostatnich ścian budynku.

Naostatek wyraziwszy grubość murów liniami ab , bc , cd , df , fa równoległemi do pierwszych, naznacz położenie drobniejszych części, iakoto: drzwi, okiён, pieców, kominków i t. d. a tak będziesz miał pod iedén razém widok podany budynek z całym wewnętrznem onegoż rozłożeniem.

Co się tycze zrysowania na papierze dziedzińca przyległego budynkowi iakiemu; użyiesz do tego sposobów, które podamy niżej, gdy o przenoszeniu na papier pomniejszych placów mówić będziemy.

Gdyby w węglach alboliteż ścianach budynku znajdowały się takie występy lub wklęsłości, dla których nie możnaby ścian budynku przedłużać wyłożonym dopiero sposobém; w tym razie najlepiący iest opasać zewnątrz budynek czterema lub więcéy liniami względem siebie prostopadłemi, i na nie od znaczniejszych występów lub wklęsłości znajdujących się w ścianach budynku, spuszczać pomniejsze linie prostopadłe tak, iak się powie w następującém zadaniu, o rysowaniu brzegu rzeki.

Jeżeli przy budynku znajdzie się wieża kształt okrągły maiąca, szrodek iéy także wynaleźć potrzeba: co wykonywa się następującym wcale

prostym sposobem. Niech *ap*: obwód *acba* (Tabl. 1. Fig. 20.) wyraża kształt wieży przypierający do murów *cg, bd*: na wewnętrznym obwodzie wieży obierz iakiékolwiek trzy punkta *b, c, a*, znacząc ié zabitými w ziemi kółkami: potém przeciągnąwszy sznur od *a* do *c*, i od *c* do *b*, od środka sznurów, wystaw, za pomocą dużej węgielnicy, dwie linie prostopadłe, tych przecięcie się, iak tu w punkcie *e*, będzie środkiem wieży: gdy więc przemierzysz odległość *ec* lub *be* albo téż *ea*, będziesz miał wiadomą w liczbach długość promienia téżże wieży. Teraz mając już wyznaczoné na papierze położenie murów *cg, bd*, gdy od *c* do *b* wyciągniesz linią *cb*, ta będzie cięciwą koła mającego wyrażać obwód wieży: obiąwszy więc cyrkłem na podziałce tyle części równych, ile promień wieży zamyka miar, z końców cięciwy *cb* nakręśl łuki przecinające się w punkcie *e*, z którego tymże samym promieniem zrysowany okrąg *acba*, będzie wyrażał na papierze położenie wieży.

Co się powiedziało o rysowaniu plany budynku, oczywiście przystósować się może do zrobienia mapy placu iakiégo wewnątrz nieprzystępného i nieprzebytego, dla drzew, domów, błot i t. d. byle się ściany obwód placu czyniącé, z samych linii prostych składały.

§. 20. *Zakręty drogi, bieg rzeki, mur łamany, obwód lasu, jeziora i t. d. wymierzyć i na papier przenieść.*

(Fig. 22. Tabl. 1.)

1. Wzdłuż brzegu rzeki wytknąwszy linią prostą *AB*, iak można najdłuższą, każ podług niéy wyciągać sznur, i od

znaczniejszych załomków brzegu rzeki spuszczały do wyciągniętego sznura linie prostopadłe A, g, h, k, C . Potem wymierzwszy, *naprzód* długość każdej prostopadłej, *potwóre* odległości Ag, gh, bk , i t. d. między prostopadłemi zawarté, *naostatek* całkowitą długość linii AB ; wszystkie te wymiary przyzwoitym porządkiem w raptularzu zapiszesz. Ponieważ w dalszym brzegu znakomitszy przy C znajduje się zakręt, przedłuż więc prostopadłą eC od C do D , iak można najdalej, i znowu od znaczniejszych załomków brzegu rzeki spuszczały pomniejszych prostopadłe C, f, D , wszystkie wymiary, tak iak piérwéy w raptularzu notując. Tym podobné działania w każdym innym zakręcie odprawisz.

2. W tén sposób odmierzywszy wszystkie zakręty i długości, przeniesiesz je na papier iak następuje. Pociągnij na papierze linią któraby wyrażała odległość AB , a dawszy téżé linii tyle części równych z podziałki wziętych, ileś na ziemi w odległości odpowiadający znalazł miar, wydziel ją na takie części wzięte z podziałki, na iakie odległość AB przez prostopadłe podzielona była na ziemi. Potem, z końca każdego takowego podziału wyciągnij linią prostopadłą, dając iéy tyle części wziętych na podziałce, ileś znalazł miar w prostopadłej odpowiadający na ziemi. Tym sposobém przeniosłszy na pa-

piér wszystkie odległości wymierzone na ziemi, wierzchołki linij prostopadłych na papierze zrysowanych połącz między sobą linią wężykowatą, do której gdy w przyzwoitę odległości zrysujesz drugą równoległą, będziesz miał bieg rzeki na papierze wyrażony.

Sposób dopiero wyłożony, wygodnie użyty bydź może do zrysowania planu iakiegokolwiek miejsca wewnątrz nieprzystępnego dla budynków, drzew, stawu, jeziora, bagna i t. d. To jest: miejsce to, którego plan przedsięwziesz rysować, zamknij albo czterema tylko, albowi téż tylu liniami względem siebie prostopadłemi, ile będzie wymagała potrzeba. Potém do tych linij artyfycjalny obwód składających, spuściwszy pomniéjsze prostopadłe od załomków znajdujących się w prawdziwym obwodzie lasu, bagna, jeziora, i t. d. gdy wymierzysz *naprzód*, długość każdéj linij artyfycjalny obwód składający, *powtóre*, długość każdéj prostopadłéj od załomków obwodu spuszczonej, *potrzecié*, odległości między prostopadłemi zawarté; łatwo za pomocą raptularza i podziałki, wygotuiesz na papierze figurę podobną figurze na ziemi.

Tego samého sposobu używa się do zrysowania planu, wielé załomków mającego budynku, iako się to wyžéj namiénilo, a z poprzedzających nauki iest oczywisté.

W wymierzaniu cząstek *Ag, gb, bk, kC, CB*, między prostopadłemi zawartych, tę ostrożność zawsze zachować potrzeba, aby cząstki czyli odległości wymierzone razém dodadź, i uważać czyli summa z dodania wynikająca, wyrównywa całkowitę długości linij *AB*, którą owé cząstki składają.

Dla spuszczenia pomniejszych linii prostopadłych do sznura, naywygodniéy jest, mieć ku temu końcowi dwie czworograniaste laski, jednę na 5 lub więcéy stóp Jeometrycznych długą, a na cal grubą na przyzwoite części podzieloną: drugą zaś trzycwieriową 3 lub pół trzecia cała grubą, mającą w pośrodku długości swojej poprzeczną dziurę na wylot, tak wielką aby w nią pierwsza laska wsadzona dychtownie a wolno w górę i na dół podług potrzeby wysuwać się mogła. Użycie takowey laski jest następujące: Dajmy *np*: iż rozciągnąwszy sznur od *B* do *b*, mamy do niego spuszczać linie prostopadłe od znakomitszych brzegu zakrętów: natenczas do rozciągnionego sznura przyłożywszy mnieyszą laskę *np*: od *B* do *C*, większą póty ku sobie lub w górę posuwać potrzeba, póki górny iéy koniec nie dosięże załomku *e*, a tak mieć zaraz będziemy i prostopadłą żadaną i długość iéy wiadomą. W niedostatku takowey laski, używa się do spuszczenia linii prostopadłych iakiegokolwiek prostego na łokcie podzielonego kija, prostopadłe zaś iego położenie samém okiem miarkować się zwykło.

§. 21. *Zrobić Mappę placu niezbyt obfzernego, a forémny prawie obwód mającego.* (Fig: 23. Tabl: 2.)

Pociągnij naprzód na papierze linią *BG*, zawierającą w sobie tyle części wziętych na podziałce umiarkowaney do wielkości rysunku, ile na ziemi ściana *BG* zawiera miar. To uczyniwszy, pociągniesz drugą linią *BA*, tak aby z linią

BG , czyniła kąt równy kątowi B , wymiersonemu na gruncie podług sposobu podanego §. 6, i na téj linii naznaczysz z podziałki całkowitą długość ściany AB , iako też punkt e , w którym ulica drzewem sadzona przypiera do teyże ściany BA . Potém wzięwszy za promień tylé cząstek z podziałki, ilé na ziemi z uczynionego wprzód wymiaru znalazło się miar w odległości ef ; z punktu e narysujesz łuk, z punktu zaś A , promieniem mającym tylé cząstek z podziałki, ilé na ziemi odległość od A do f zawiera miar, nakreśli drugi łuk, któryby się przeciął z pierwszym. Naostatek, gdy przez punkta e, f , wyciągniesz linią efL nieokreśloney długości, mieć będziesz wyrażone na papierze położenie szpalerowey ulicy.

Ażebyś mógł wyrazić położenie ścian dalszych GK, KL , w punkcie G linii BG zrób kąt równy kątowi BGK wymiersonemu sposobem podanym w §. 19, i na linią zrysowaną przenieś z podziałki ważność ściany GK . Podobnież na drugim końcu téy ostatniéy linii wykreśliwszy kąt równy kątowi K wymiersonemu na gruncie tym samym sposobem co i kąt B ; prowadź na papierze linią KL tak daleko, aż się spotka z linią efL . Punkt spotkania, iak tu L ; wyznacz na papierze długość linii KL proporcjonalną długości ściany odpowiadający na ziemi. Zatem wymiar

ściany ziemney iedynie dla tego tylko być by potrzebny, abys liczbę miar znalezionej porównał z liczbą cząstek, które liniia *KL* zabierze na podziałce, a tém samém albo zapewniłbyś się o dokładności roboty, albo też postrzeżony błąd poprawić starałbyś się.

Dla oznaczenia zakrętów znajdujących się w dalszemy ścianie od *L* do *M*, przedłuż ścianę *KL* do *M*, a wzdłuż tego przedłużenia przeciągając sznur, spuszczaż do niego od znakomitszych zakrętów ściany, liniie prostopadłe, z którymi tak postąpisz sobie, iak się o nich w poprzedzającej robocie o zakrętach rzeki mówiło. Toż samo uczynisz z zakrętami *O*, *P*, i t. d.

Zakończywszy robotę obwodu, przeniesiesz na papier sposobem wyżej podanym, dóm, ogród, i t. d. Oznaczysz także drzewa, krzewiny, łąki, pola, drogi, wszystko stosując, ile możności, do podziałki planu.

§. 22. *Odryfować Mappę Jurydyki, Folwarku, Wioski z gruntami i innymi szczególnosciami w nięj znajdującymi się.* (Fig: 24. Tabl: 2.)

1. Podług sposobu wyłożonego w przypadku drugim §. 1. wytknij w szereg Jurydyki, Folwarku, lub Wioski linią prostą znakomitę długości, iaka tu iest linią

AB. Potem z różnych punktów téżże linii, wyciągnij za pomocą węgielnicy mierniczy, kilka linii równoległych względem siebie, dając im taką długość iaką tylko otwartość gruntu dadz pozwoli, tudzież takie położenie, aby każda z nich przechodziła blisko iakowych przedmiotów mających się umieścić na Mappie. Tu *np:* wyciągnięta była jedna linia równoległa *AD*, obok drogi, druga *CE* pomiędzy strugą i drogą przez pola i łąki idącą, trzecia zaś *BF* wzdłuż brzegu Wisły i drogi po nad brzegiem idący.

2. Po uczynionych takowych przygotowaniach, każ wzdłuż linii równoległych na gruncie wyznaczonych przeciągać sznur, i do rozciągnionego sznura spuszczać tak iak przy zakrętach rzeki §. 20. linie prosto padłe, od przedmiotów każdej linii równoległej pobliskich, a mających bydź umieszczonemi w rysunku. Długość zaś tak równoległych, iako téż prostopadłych, tudzież odległości między niemi zawartę wymiérzywszy, albo w raptularzu zapisać, albo zaraz na papierze, podług podziałki wyznaczyć należy. I tak *np:* na równoległą *AD* spuszczone prostopadłe linie *m, D*, wyznaczyły położenie drogi *Ano*, zaś po obóch stronach drugiey równoległej *CE* spuszczone i wymierzone prostopadłe *r, r, r*, służyły do oznaczenia na papierze położenia przedmiotów po obudwóch stronach

stronach téżze linii znaydujących się. Podobnież, z różnych punktów równoległey BF wyprowadzone i wymierzone prostopadłe k, k, k, k, k, z , i t. d. dały położenie brzegu Wisły i drogi po nad brzegiem idący.

3. Jeżeli się nadarzą drzewa, krzewiny, wody, błota, bagna lub inne iakie wewnątrz nieprzebyte i niedostępne miejsca; natenczas place takowe obwiódfszy zewnątrz liniami prostemi względem siebie prostopadłemi, można mieć niektóre przynajmniej znakomitsze punkta ich obwodu. I tak, po iednėj stronie bagna wyprowadziwszy linie DG, GH względem siebie prostopadłe, a potém od znaczniejszych załomków obwodu bagna spuściwszy pomnieysze prostopadłe o, o, o , tudzież s, s, s , można było wyznaczyć na papierze położenie i obszérność placu zajętego od bagna.

4. Naostatek, co się tycze przeniesienia na papier, chałup, budynków, ogrodów i t. d. w tém żadnėj nie będzie trudności, zważywszy dobrze, tak to cō się dopiero mówiło, iak i to co się o przenoszeniu zakrętów drogi powiedziało.

Mappa Wsi *Pulków* na której poprzedzające zadanie ułatwiliśmy, robiona była przez uczących się Jeometryi w *Collegium Nobilium* Warszawskim *S. P.*

§. 23. *Sposób wymierzenia odległości i przeniesienia na Mapę główniejszych punktów okolicy iakowéy.*

(Tabl: 2. Fig: 25.)

1. Chcąc zadaniu temu uczynić zadość; potrzeba mieć sznur, któryby przynajmniej 65 łokci zamykał, tudzież trzy proste laski na 4 lub 6 stóp długie, okrągłe przy jednym, a okuté przy drugim końcu żelazem dla łatwiejszego utwierdzenia ich w ziemię. Laski té aby wraz z sznurém wygodniéy użyte bydz mogły, jedna z nich przywiązuie się do iednego końca sznura, iak *np*: na *A*, druga przywiązuie się w odległości 30 stóp, iak na *B*; na tyłéż stóp od *B* powinna bydz uwiązana trzecia laska *C*: reszta więc sznura *D* będzie w sobie zamykać więcéy trochę stóp, niżeli ich zamyka naywiększa cięciwa znajduiąca się w Tablicy kątów płaskich zawartych między ramionami, z których każde iest długie na stóp 30.

2. Takowé przygotowania uczyniwszy, uday się z niemi na takie mieyscé *E*, z którégobys widział iak naywięcéy główniejszych punktów okolicy, i w tém mieyscu ustawisz pod pion szródnią laskę *B*. Potém wyciągnąwszy sznur piérwszą laską *A*, kieruy ją póty, póki nie natrafisz na takie mieyscé *L*, w którémby taż laska ustawiona, tak z punktém *E*, iako téż z jn-

nym jakim do upodobania obranym przedmiotem F , w linii prostey znajdowała się. Podobnie wyciągnąwszy sznur trzecią laską C , starać się będziesz utwierdzić ją pod pion w takim miejscu J , ażeby z punktem E , i z jnym jakim okolicy przedmiotem np : O , w prostą linią wychodziła. Naostatek resztą sznura D , odmierz odległość JL , między laskami zawartą, i ważność ię w raptularzu zanotuy. Tęż same działania zachowasz względem wszystkich innych ze stanowiska E widzialnych przedmiotów. To jest: wyciąwszy laskę C z miejsca J , szukać będziesz drugiego takiego miejsca, w którymby laska G ustawiona, znajdowała się w kierunku EP , a potem trzeciego, w którymby taż laska ustawiona, zostawała w kierunku ER : za każdym zaś ustawieniem laski C w jnym miejscu, odmierzysz odległość ię od laski L , która zawsze nie poruszona stoi, odległości wymierzone w raptularzu zapiszesz.

3. Przenieś się potem na miejsce F , w którym utwierdziwszy laskę B , ustaw dwie inné na G i H , z temiż samemi co wyżej ostrożnościami, a odległość GH wymierzoną w raptularzu zanotuy. Podobnie działania odprawiwszy z jnnemi przedmiotami R , P , i t. d., wymierzysz jak naydokładnię podstawę EF .

4. Po zakończonych wymiarach na gruncie, przeniesiesz je na papier tak iak następuje. Wyciągnij na papierze linią EF , któraby wyrażała podstawę, i oznaczwszy na niéy tylé części z podziałki wziętych, ilé w wymierzonéy na ziemi podstawie znalazłeś miar; przedłuż ją po obóh stronach od E ku L , i od F ku Z , na tylé części z podziałki wziętych, na ilé stóp laska A iest odległa od laski B , iak tu na stóp 30. Potém na przedłużeniu EL zrób Tróykąt LEZ , a na przedłużeniu FZ wykreśl Tróykąt FZH ; których boki ZE , FZ , gdy przedłużysz ku iednéy stronie tak daleko, aż się z sobą spotkają; punkt tén spotkania wyznacz y na Mappie położenie przedmiotu O . Tym podobne działania gdy ze wszystkiémi wymierzónémi Tróykátami odprawisz; będziesz miał wyznaczóné na Mappie położenie i odległości główniejszych punktów Okolicy przedsięwziętý do wymiaru.

Wszystkié Rozdziału tego zadania ściągając się do wymiaru odległości i przenoszenia pomniejszych placów na papier, równého ile bydz może gruntu wyciągają: inaczéy tém mniéy dokładności spodziwać się potrzeba, im nierówniejszé było mieyscé na którém wykonywane były.



ROZDZIAŁ II.

Użycie Stolika w wymiarze odległości i robieniu Mapp.§. 24. *Opisanie narzędzi potrzebnych do działań mierniczych Stolikiem.*

Stolik mierniczy składa się: 1. z Tablicy lipowey, albo gruszkowey czystey, suchey z wierzchu iak naydokładniéy ohybłowaney, w poprzek zaś słoju wpuszczonemi dwoma szponami opatrzoney. W środku spodniéy płaszczyzny osadzona jest mosiężna blaszka na 3 lub 4 cale w kwadrat mająca, i czteréma w tablicę wpuszczonemi, ale na wylot téż tablicy nie przechodzącemi śrubkami przytwierdżona. W pośrodku téy blaszki powinien byđ przytowany mosiężny czopek na 4 lub 5 calów długi, przy końcu wyrżnięte gwinty mający.

2. Podnózek czyli podstawa (statif) składa się z krążka na stopę przynajmniéy dyamëtru, a na $1\frac{1}{2}$ cala grubości mającego, z wyshtëgo i twardego drzewa wytoczonego; w samym iego środku znajduje się dziura tak wielka, aby przez nią czopek stolikowey tablicy przechodzić i w niéy obracać się mógł: ténże czopek pod spodem krążka mosiężną iak zowią *mutterką* mocno przysrubować się daie, aby tablica gdy

tego potrzeba nieruchomą była. Na téy saméy spodniéy stronie, trzy drewniane nogi długie na stóp $4\frac{1}{2}$, a grube na $1\frac{1}{2}$ cala są osadzone w tén sposób, aby ie iuż zsawać, iuż rozsuwać, i stolik na nierównym gruncie poziomo ustawić można. Im ów krążek jest większy, i im szerszy w nim nogi są osadzone, tém mocniéy Stolik stać będzie, co jest iedną z naypotrzebniejszych jego własności.

Prawidło (alidada) bywa mosiężné i tak prawie długie iak przekątna Stolika: na obóh iéy końcach znajduią się celowniki, (dioptra) które za pomocą szrubki albo raczéy sztyfciku przez ich zawiaski przechodzącego złożone i pod jakimkolwiek kątem podniesione bydź mogą. Dobroć prawidła zawisła na tém, aby szpary w celownikach będącé były iak naydoskonalej pionowe do płaszczyzny prawidła, i iuż to odpowiadać powinny téy krawędzi, około której kreślą się linie, iuż nieco obiedwie od téyże krawędzi równolegle oddalone. Téy nayistotniészey własności prawidła następującym sposobem doświadczyć można.

Ustawiwszy Stolik ile możności poziemie, w dowolnéy odległości od niego zawiesza się pion na długiey nici: potém kładzie się prawidło na Stoliku, celuje się niém do owégo pionu i wedle krawędzia tak wykierowanego prawidła rysuje się linia. To wykonawszy, przewraca się prawidło tak, ażeby celowniki ku ziemi iż tak rzekę, patrzyły, sama zaś krawędź prawidła przypadała na linią na Stoliku pociągnioną; do czego z przyczyny ukośnicieścietégo i iedną stroną niedolegającego prawidła dwóch prostokątnych Trójkątów użyć potrzeba. Jeżeli w tém przewrotném położeniu promień oczny przez celowniki prawidła przechodzący

znowu na pion trafia, będzie to dowodem, że celowniki są regularne, i że szpary ich odpowiadają téj saméj krawędzi prawidła, około którego linie rysują się: jeżeli zaś powtórny ten promień oczny, tak daleko od pierwszego odstępuje, ile oddalone są celowniki od rzeczonyj krawędzi; to przynajmniej równoległe są téjże krawędzi, i można jeszcze przez nie dokładnie celować. Gdyby zaś te dwa promienie dały od siebie odchodziły, byłoby to znakiem, że celowniki ani odpowiadają krawędzi, około której się linie kreślą, ani też iéy są równoległe, zaczęm o poprawie ich koniecznie myśleć potrzeba.

Kompas czyli igielka magnesowa, służy do przywoitégo ustawienia Stolika na każdym miejscu. Składa się on z igielki przynajmniej na 4 cale długiej dobrze magnesem natartéj, która w podługowatéj puszcze osadzona z wierzchu szklanném wieczkiem dla zasłonięcia iéy od wiatru pokryta bywa. Dobroć iéy na tém zależy, aby igielka szybko biegła, a gdy się ustanowi, w jedno zawsze miejsce skazywała. Używając kompasu, trzeba mieć ostrożność, ażeby żadnego żelaztwa w bliskości iego nie było, przez któreby igielka zwróconą, a my fałszywém iéy wskazywaniem oszukani nie byli. Aby na Stoliku naznaczyć kierunek magnesowéy igielki, tak postąpić należy: Ustawwszy Stolik poziomo, kładzie się na nim kompas, i póty się Tablica stolikowa obraca, aż igielka w puszcze zastanowi się na linii północnej i południowéy; to jest na linii przechodzącej przez środek dna puszek; naostatek wedle podłużnego boku puszek, rysuje się ołówkiem na Stoliku linia, która skazywać będzie kierunek magnesowéy igielki.

Potrzebna jest znaczna liczba stalowych igieł, których główki oblepiają się lakiem, ażeby przy zatykaniu palca sobie nieobrazić. Służą one do naznaczania przecinających się na Stoliku punktów, iako też do wygodnicyszego około nich kierowania prawidłem. Tak cienkie być powinny, ażeby ich grubość za punkt nieiako mieć można.

Są także potrzebne cyrkle małe i duże do brania z podziałki miar, i przenoszenia ich na Stolik. Kilka dobrych ołówków tak twardych, iako i miękkich do wykręślenia linii, i znaczenia potrzebnych rzeczy. Ażeby jednak między tak wielą liniami żadnego zamieszania nie było, potrzeba té, które w samym rysunku wydane być nie mają, końcem tylko cyrkla prowadzić.

Mała równowaga (libella) do poziomego ustawienia Stolika.

Pion, czyli iak zowią szczypczyki albo paralele (Tabl: 2. Fig: 6.) do ustawienia punktu na Stoliku pionowo nad punktem znajdującym się na ziemi.

Łańcuch mierniczy ze swoiemi kołkami iak się wyżey opisało i z drewnianym sążniem.

Kilka prostych żerdzi albo chorągiewek do naznaczenia na ziemi punktów, na których widzialnych nie masz przedmiotów.

Naostatek sam Stolik przed robotą pokrywa się papiérém białym, tak wielkim, iak jest Stolikowa Tablica.

Do przykleienia papi-ru na Stolik, weź sam białek od iayka, rozbiy go na talerzu piórami gęsiemi nieoskubanými tak mocno, aby się szum biały zrobił; potém doléy do tego pół szklanki piwa i znowu go biy póty, aż się białek z piwém należycie zmiesza. Tak

przygotowanym kleiém namaż Stolik równie iako i tę stronę papieru, która do Stolika ma przystawać, a rozciągnawszy na Stoliku papier, póty go białą chustą zlekka pocieray, póki żadney marszczki na nim nie będzie: zostaw go potem na wolném powietrzu aby wysechł, ale nie przy ogniu, boby się popękał, a we dwie godziny będziesz miał bardzo dobrze papier rozciągniony, i łatwy do odięcia.

§. 25. *Jest zadano wyznaczyć (Tabl: 2. Fig: 27. 28. 29.), (Tabl: 5. Fig: 31.) położenie i odległość dwóch miéysc A, B, względem siebie nieprzystępnych: albo co iednoż jest, wyznaczyć w miarach żądanych długość linii AB, w pośrzedku nieprzystępney i nieprzebytéy, do której iednak końców z jnnych iakich miéysc wolny jest przystęp.*

Jako dwa punkta, czyli dwa końce linii takiéy o iakiéy tu mowa, troiakié położenie mieć mogą, albo względem siebie, albo téż względem gruntu im przyległego; tak i ułatwienie tego zadania, na trzy następujące rozłożone bydz może przypadki.

PRZYPADEK PIERWSZY.

(Tabl: 2. Fig: 27.)

Gdy oba końce linii w pośrzedku nieprzystępney, z trzeciégo iakiégo miéysca

obok téżże linii obranego widzieć, i odległość ich od tegoż miéysca można sznurém przemierzyć.

1. Obierz sobie, gdy to bydz może, na boku linii AB o którą rzecz idzie, takie miéyscé C , z którégobys oba końce A i B widzieć i odległość ich od tegoż miéysca mógł poprostu sznurém odmierzyć.

2. Na miéyscu obraném ustawiwszy poziomo Stolik, utwiérdź na nim igłę w punkcie iakim c dowoli i upodobania obranym, toż prawidłem około igły położoném, céluy ku przedmiotowi odpowiadającému téy stronie igły, do której krawędź prawidła przypiera, iak tu np : ku przedmiotowi A , i wedle tak wykierowanego prawidła pociągniy na Stoliku linią ku punktowi c .

3. Przełoż prawidło na drugą stronę igły, i tak iak piérwéy przez celownikiégo upatruy drugiégo przedmiotu B , skierowanie prawidła znacząc drugą linią ku punktowi c zrysowaną.

4. Za pomocą wyżéy opisanych szczypczyków znajdź na ziemi punkt C , odpowiadający punktowi c na Stoliku, potem każ przemierzyć odległości CA , CB .

5. Wziąwszy cyrkłem z jakiegokolwiek podziałki tylé części równych, ilé iedna z wymierzonych na ziemi odległości np : CA zawiera miar, przenieś ié na linią odpowiadającą na Stoliku od c do a . Po-

dobnież liczbę miar drugiey odległości CB w częściach wziętych z podziałki naznacz, na drugiey linii stolikowey, od tegoż punktu c do b . Punkta a, b, c , na Stoliku wyznaczone będą miały téż samé położenie względem siebie, iakie mają punkta C, A, B znajdujące się na gruncie. Zatem linia ab wymierzona na podziałce ilé iéy części zabiérze, tylé miar linia AB niedostępna mieć będzie.

PRZYPADEK DRUGI.

(*Tabl: 2. Fig: 28.*)

Gdy zachodzi trudność w obraniu takiego punktu, o iakim w poprzedzającym przypadku mówiło się, oba zaś końce linii nieprzebytey ieden od drugiego bydz mogą widziane, iakie są punkta AB kolaniem rzeki od siebie oddzielające się.

1. Na brzegu rzeki każ utwierdzić tylé lasek, i w takiéy względem siebie odległości, iak ci się podobać będzie, z tą iednak ostrożnością, abyś odległość każdéy laski następnéy względem poprzedzającey mógł sznurém przemiérzyć, tak tu są utwierdzone laski C, D, E, B .

2. Postaw Stolik poziomo na iednym z punktów szukanych np: A , wyznacz go na Stoliku za pomocą wyżéy opisanych szczypczyków, a utwierdziwszy w nim

igłę, prawidłem wedle niej położoném zmiierzay naprzód ku lasce ustawionéy w punkcie *B*, potem ku innym następnie laskóm *C, D, E*, na brzegu rzeki utwierdzonym: za każdym wykiérowaniem prawidła rysując na Stoliku liniie *AB, AC, AD, AE*, schodzące się w jednymże punkcie *A*.

3. Kazawszy przemiérzyć z jak naywiększą dokładnością odległości *AC, CD, DE, EB*, obéymiy cyrkłém na podziałce tylé części równych, ilé pierwsza odległość *AC* na ziémi zamykała miar, i wyznacz ié na Stoliku na linii odpowiadaiący od *A* do *c*. Weź potem z téyże saméy podziałki tylé części równych, ilé druga odległość *CD* zawierała miar, i tą otwartością cyrkła, z punktu *c* iuż wyznaczoného na stoliku, nakreśl łuk przecinaiący drugą linią *AD* w punkcie *d*. Podobnymże sposobém z punktu *d*, otwartością cyrkła wyrównywaiącą odległości *DE* w częściach wziętych z podziałki, nakreślisz łuk przecinaiący linią *AD* w punkcie *e*. Naostatek z punktu *e* nakreślony łuk, otwartością cyrkła zawieraiącą w sobie z podziałki tylé części równych, ilé ostatnia odległość *EB* zawierała miar, naznaczyci na Stoliku położenie punktu *b*. Natenczas liniia *Ab*, na podziałce wymiérzona, pokaże wazność linii niedostépnéy *BA*.

PRZYPADEK TRZECI.

(Tabl: 2. Fig: 29.), (Tabl: 3. Fig: 31.)

Gdy oba końce linii AB mającý się wymiérzyć są w takim położeniu, że ich ani z trzeciégó iakiégó punktu widziéć, ani téż iednego od drugiégó przézyrzéć nie można, iakoto *np*: gdy między niemi góra, las, lub inna iaka pośrzednia znajduie się przeszkoda.

Sposób piérwszy. (Tabl: 2. Fig: 29.)

1. Szukay punktu E , z którégobys mógł widziéć punkt A , i drugiégó punktu C , z którégobys widział punkt B i punkt E : potém zmierzysz sznurém odległosci EA , EC , CB .

2. Na punkcie E ustawiwszy poziomo Stolik, wyznaczysz na nim punkt e , odpowiadający punktowi E położonému na ziemi, i w punkcie wyznaczonym utwierdzisz igłę.

3. Przy igle e wykiéruy céłowniki prawidła naprzód ku punktowi A , potém ku żerdzi ustawionéy w drugim obranym punkcie C , za każdém wykiérowaniem prawidła rysuiąc na Stoliku linie ea , ec .

4. Weź na podziałce tylé części, ilé ci wypadło miar na odległość EA , i części wzięté naznacz na linii odpowiadający na Stoliku od e do a . Weźmiesz podobnież na podziałce tylé części, ileś znalazł miar w odległości EC , i przeniesiesz

ie na Stolik na linią odpowiadającą od e ku c .

5. Przenieś się ze Stolikiem na drugi obrany punkt C , a ustawwszy na nim Stolik tak, aby punkt c , zgadzał się z punktem C odpowiadającym sobie na ziemi; położy na Stoliku prawidło wedle linii ce , i sam Stolik nakręcaj pótý, póki przez céłowniki prawidła położoného wedle linii ce , nie uyrzysz żérdzi ustawionéy na piérwszém stanowisku E ; aby zaś Stolik z tego położenia nie uszedł, przytwierdzisz go szrubą na którém się obraca.

6. To gdy się stanie, przyłóż prawidło do igły c , i pótý niém obracaj, póki przez céłowniki nie uyrzysz punktu B , naténczas wzdłuż prawidła wyciągniesz na Stoliku linią cb . Naostatek, obéymiy cyrkłém tylé części na podziałce, ilé odległość CB zawiera miar, i wyznacz ie na linii odpowiadającéy na Stoliku od c do b . Liniia ab , na podziałce wymiérzona ukazuje długość linii AB w pośrzodku nieprzystepnéy.

Sposób drugi. (Fig: 31. Tabl: 3.) 1. Stań ze Stolikiem w miéyscu takim *np*: C , abys i laskę w punkcie danym A utwierdzoną widziéć, i odległość iéy od Stolika mógł wygodnie przemiérzyć: każ nadto w jnném iakiém miéyscu, od stanowiska C do upodobania odległém, utwierdzić laskę D .

2. Obrawszy, albo też wyznaczwszy punkt c na Stoliku, utkwij w nim igłę, i prawidłem przy niéy położoném zmierzay naprzód ku lasce A , potem ku lasce D , za każdym wykiętowaniem prawidła rysując na Stoliku linie ca , cd .

3. Każ przemiérzyć odległości CA , CD , i każdéy miarę wyznacz z podziałki na liniach ca , cd , odpowiadających na Stoliku.

4. Przenieś się ze Stolikiem na miéyscé laski D , gdzie ustawiwszy go tak, aby punkt d , na Stoliku zgadzał się z punktem D na ziémi; połóż prawidło wedle dwóch igieł na końcach linii cd utwierdzonych: potem samym Stolikiem nakręcaj póty, póki poglądziąc przez celowniki prawidła wzdłuż linii cd położoného, nie uyrzysz laski na piérwszém stanowisku c utwierdzoney, i w tém położeniu umocnisz Stolik szrubą na którém się obraca.

5. Tak ustawiwszy Stolik, jeżeli ze stanowiska D , koniec drugi B danéy linii AB widziéć się ieszcze nie daie, każ w trzecim iakiém miéyscu, z którégoby punkt B mógł byé widziany, utkwic laskę E , toż prawidłem położoném wedle igły w punkcie d utwierdzoney, upatrzywszy laskę E , pociągnij na Stoliku linią de , dając iéy z podziałki długość proporcjonalną odległości DE wymierzoney na ziémi.

6. Uday się ze Stolikiem na miéyscé laski E , gdzie zrób to z punktami c , E , i

z liniami ed , ED , co się na poprzedzającym stanowisku D , (pod liczbą 4) z punktami d , D , tudzież z liniami dc , DC , robiło.

7. Położ prawidłó przy igle utwierdzonej w punkcie e , a wykiérowawszy celownik ku lasce ustawionj w punkcie B , naznacz kierunek prawidłá linią eb . Następnie, przemiérz odległość EB , i w częściach wziętych z podziałki wyznacz ją na Stoliku na linii odpowiadajęcej, od e ku b . Punkta a , b , będą ci oznaczać położenie i odległość względem siebie dwóch punktów A , B , niedostępnych na ziemi: Wymiérzwszy zatém na podziałce linią ab , będziesz miał wiadomą miarę linii AB w pośrodku nieprzebytj.

Na zrozumieniu i wykonaniu poprzedzającego tak łatwego zadania, zasada się wiele innych praktycznych, trudnych na pozór robót, których iednak wykonanie nie będzie iak tylko wielokrotném powtórzeniem tego, co się w trzech poprzedzających przypadkach wyłożyło: iakoto z dalszego ciągu łatwo będzie można miarkować.

Abym uniknąć częstego powtarzania iednychże słów, ostrzegamy, że gdy napotém mówić się będzie: *ustaw Stolik w kierunku*; rozumiéć się ma zawsze, iż tak Stolik ustawié potrzeba, aby punkt z poprzedzającego działania wyznaczony na Stoliku, zgadzał się z punktem odpowiadającym sobie na ziemi, toiest z tym, na którym Stolik ustawié chcemy, tudzież aby linia stolikowa,

na

na który punkt tén znajdzie się, zgadzała się z linią odpowiadającą sobie na ziemi.

Podobnie, ilé razy powie się, wedle igły *a*, albo też wedle igły *b*, *c*, i t. d. wykeruy prawidło; zawsze rozumieć się ma, iż w punkcie literą oznaczonym, igła utwierdzona bydz powinna.

§. 26. *Odryfować Mappe Ikonograficzną gruntu lub okolicy iakię nie bardzo rozległą, a który w wszystkie przedmioty mając bydz umieszczone w rysunku, z jednégo obranego stanowiska widzieć i odległość každého z nich od tégoż stanowiska można sznurém wymiérzyć.*

(Tabl. 2. Fig: 30.)

1. Ustawiwszy Stolik poziomo, w miéjscu, które środkiem tégo placu bydz się wydaie, obierz punkt *o*, także prawie w półśrodku Stolika i utwierdz w nim igłę.

2. Wedle téy igły upatruy przez celowniki prawidła przedmiotów *A, B, C, D, E, F*, i t. d. mających bydz w rysunku umieszczeniemi, a za postrzébeniem každého z nich z osobna, wzdłuż prawidła wyciągnij zawsze ku punktowi *o* linią nieokręslonéy długości.

3. Od tégo punktu ziemi, który odpowiada punktowi *o* na Stoliku, każ przemiérzyć odległość do každého przedmiotu pra-

widłem upatrzoného, i w częściach wziętych na podziałce, wyznacz każdą z nich na Stoliku od punktu o wzdłuż linii odpowiadaiący, toiest przenieś odległość oA na linią oa od o do a ; odległość oB od o do b , odległość oC od o do c , i t. d.

Jeżelibyś dla iakiéy przeszkody nie mógł przemierzyć odległości iakiégo przedmiotu od Stolika, iak tu np : dla pośredniégo bagna nie można wymierzyć odległości oG , w tym razie każ przemierzyć ścianę FG , i otwartością cyrkla zamykaiącą z podziałki tylé części równych, ilé ściana FG zawiera miar, od punktu f iuz wyznaczoného na Stoliku, zrysuy łuk przecinaiący linią og w punkcie szukanym g .

4. Punkta b, c, d, e , i t. d. wyznaczoné na Stoliku połącz między sobą (podług tégo iak będzie wyciągała potrzeba) częścią prostémi, częścią wężykowatémi liniami: rzecz każdą, iak tu np : lasek, budynki, trawy, pola, podług natury odrysuy i przywoitym oznacz kolorem, tak będziesz miał wygotowaną Mappę ikonograficzną placu daného.



§. 27. Zrobić Mappę placu wewnątrz nieprzystępnego, a którego wszystkie ściany obwód składające sznurkiem przemiężyć, i wszystkie załamki w obwodzie placu znajdujące się z jednego stanowiska widzieć dają się.

(Tabl. 3. Fig. 37.)

1. We wszystkich znaczniejszych załomkach znajdujących się w obwodzie placu pozatykawszy laski B, C, D, E , z widocznymi jakimi znakami, gdyby tego wyciągała potrzeba, ustaw Stolik poziomo w miejscu takim A , z którego byś wszystkie laski mógł wygodnie widzieć, potem zaś w przyzwoitym punkcie Stolika utwierdź igłę, iak tu w punkcie a .

2. Prawidłę wedle igły a , położonem celuy następnie do ustanowionych lasek B, C, D, E , za każdym wycelowaniem prawidłą rysując na Stoliku linie ab, ac, ad, ae , nieokreślony długości.

3. Przemierz ściany AB, AE , i w częściach wziętych z podziałki przenieś ié od punktu a na linie odpowiadające na Stoliku, pierwszą od a do b , drugą od a do e . Tak mieć będziesz na Stoliku wyznaczone dwie ściany ab, ae , proporcjonalne ścianom ziemnym AB, AE .

Potem przemierzwszy ścianę BC , weź tylé części na podziałce, ilé w ścianie dopiero wymierzony znalazłeś miar, i z pun-

ktu b iako ze środka promieniem równym téy liczbie części narysuy łuk przecinający linią celową ac , w punkcie c . Punkta b, c , gdy złączysz linią, będziesz miał na Stoliku trzecią ścianę proporcjonalną ścianie ziemney BC . Podobnie z punktu c iako ze środka, promieniem zawierającym tylé części na podziałce wziętych, ilé ściana CD zawiera miar, nakręślony łuk naznaczy ci na Stoliku punkt d odpowiadający punktowi D na ziemi. Zatem od c do d przeprowadzona liniia oznaczy ścianę cd proporcjonalną ścianie ziemney CD . Naostatek, ściana ostatnia DE zawierając się między załomkami E, D , iuż na Stoliku wyznaczonými, lubo tém samym iest wyznaczona, i rozmiaru osobnego nie potrzebuie, wszelako możesz ją kazać przemiérzyć, i iezeli w niéy tylé znajdziesz miar, ilé liniia Stolikowa ed zabiéra cząstek na podziałce, będzie to dowodem dokładnéy roboty: inaczéy rozmiar powtórzyć należy.

§. 28. *Biég rzeki wymiérzyć i na piérze proporcjonalnie zryfować.*

(Tabl. 3. Fig: 33.)

Sposób piérwszy. 1. W znakomitszych załomkach brzegu rzeki utwierdziwszy laski C, D, E, F, G , i t. d. ustaw Stolik poziomo w miéyscu A miernie odległém od lasek na brzegu rzeki utwierdzonych.

2. Wyznacz lub obierz na Stoliku punkt jakikolwiek a , i wedle igły w tym punkcie ustawionéy zmierzay prawidłem naprzód do lasek C, D, E , i t. d. Które ze stanowiska twégo wygodnie widzieć możesz, potem zaś przy téyże igle wykiéruy prawidło wzdłuż brzegu rzeki ku iakiemu punktowi B , z którégobys dalsze brzegu załomki widzieć, i odległość ich od tegoż punktu mógl sznurém przemiérzyć. Każdé skierowanie prawidła naznaczysz na Stoliku linią zrysowaną ku punktowi a .

3. Od punktu A odpowiadaiącego na ziemi punktowi a obranému na Stoliku, przemiérz odległości wszystkich lasek do których prawidłem zmierzylés, i ważność każdéy, w częściach wziętych z podziałki, wyznacz na linii odpowiadaiący na Stoliku. Punkta na Stoliku naznaczone gdy połączysz między sobą wężykowatemi, a temi wklęsłemi lub wypukłemi liniami (podług tego iak samém okiem miarkować będziesz między którémilaskami jest wklęsły lub wypukły załomek,) będziesz miał część brzegu rzeki od C do E proporcjonalnie na Stoliku zrysowaną. Każ także odmiérzyć odległość AB , i przenieś ją z podziałki na linią odpowiadaiącą na Stoliku, od a do b .

4. Przenieś się na miéyscé B , tam gdy ustawisz Stolik w kierunku BA , prawidłem

prz. igle b położoném, upatruy lasek F , G, H , będących w dalszych załomkach brzegu, i odległość ich od miéysca stanowiska wymierzoną, wyznacz z podziałki na liniach odpowiadających na Stoliku. Końce tych linii gdy między sobą połączysz tak, iako się wyżej powiedziało, będziesz miał część biegu rzeki $CDEFGH$ na Stoliku wyrażoną. Jakim sposobém ze stanowiska A , obraśes drugie stanowisko B , tym samym sposobém ze stanowiska B obierzesz trzecie, a z trzeciego czwarté i tylé innych, ilé ich tylko potrzebować będziesz: na každém zaś tę samę robotę zachowasz, którą na stanowiskach A, B , zachowaśes.

Sposob drugi. (Tabl: 3. Fig: 34.) 1. W jakikéykolwiek odległości od tego miéysca A , od którego rysowanie biegu rzeki zacząć potrzeba, ustawiwszy poziomo Stolik nad brzegiem rzeki iak tu np : w miéyscu B , wyznacz na Stoliku punkt odpowiadający punktowi B na ziemi, i wedle igły w tym wyznaczonym punkcie utkwionéy, wykie-ruy prawidło naprzód ku iednéy lasce ustawionéy w miéyscu A , potém ku ianney zatkniętéy w miéyscu iakiém C , iak tylko można odległém od stanowiska B , oba zaś skierowania prawidła naznaczysz zry-sowaniami na Stoliku liniami.

2. Każ potém od B do C przeciągać sznur, i nań od znaczniejszych załomków

brzegu spuszczaż linię prostopadłą, tak iak na figurze widzieć się daią: długość zaś tak całkowitey linii BC , tudzież kaźdę prostopadłę do sznura spuszczoney, iako też odległości między prostopadłemi zawartę, tym czasem w raptularzu zapisuy. Zrób toż samo z drugą linią celową BA .

3. To wykonawszy; miarę długości ziemnych BA , BC , naznacz z podziałki na liniach odpowiadających na Stoliku, tudzież podziel je, na takie części z podziałki wzięte, na iakię odległości BA , BC od prostopadłych były podzielone na ziemi, i z końca kaźdego takiego podziału wyciągnij linią prostopadłą, której dasz tyle części wziętych na podziałce, ile znalazłeś miar na prostopadłą odpowiadającą na ziemi. Naostatek wierzchołki tych prostopadłych połącz między sobą wężykowatemi liniami, tak będziesz miał wyznaczoną na papierze część brzegu rzeki ABD .

4. Ze stanowiska B przenieś się na C , tam gdy ustawisz Stolik w przyzwoitym kierunku, zmierzaj prawidłem naprzód ku laskom D , E , w kolanie rzeki utwierdzonym, potem ku trzecięć lasce F ustawionęć na brzegu rzeki iak tylko można naydaley od stanowiska C : potem wymierzwszy odległości CD , CE , CF , i miarę ich w częściach wziętych z podziałki nazna-

czywszy na liniach odpowiadających na Stoliku, każ. przeciągnąć sznur od D do E , tudzież od C do F , i tak iak piérwéy od znaczniéyszych zakrętów spuszczaý nań linie prostopadfé, z którémí postąpisz sobie sposobém wyrażonym *Nro 3tio*. Tym podobné działania odprawiłbyś na stanowisku F , i na innych które w ciągu roboty przybierać będziesz.

5. Jeżeli szerokość rzeki wszędzie iednostaynie rozciąga się, naténczas brzeg drugi osobného wymiaru nie potrzebuie; lecz dosyć iest od dwóch iakich punktów piérwszego brzegu iuż na Stoliku wyznaczonych, szerokość rzeki przemierzyć tak, iak się niżej powié; i przez punkt wyznaczony przeprowadzić linią równoległą do zakrętów brzegu piérwszego. Jeżeli zaś szerokość rzeki rozmaicie miejscami zmniejsza się lub powiększa, w tym razie ténże sam rozmiar z drugim brzegiem odprawić potrzeba.

Oba té sposoby wymiérzania biegu rzeki spolicie używane bywaią do robiénia Mapp włości krętými granicami zawartych, iako się to niżej obaczy.

§. 29. *Oznaczyć na Mappie zakręty ulicy, gościńca, drogi między polami, w lesie, we wsi, lub mieście położonéy.*

Sposób piérwszy za pomocą Stolika i Igielki magnesonéy. (Tabl: 3. Fig: 35.) 1. Ustaw

Stolik na drodze w miejscu takim \mathcal{F} , abyś z niego źerdź b zatkniętą w tym punkcie od którego twój rozmiar poczynać się ma, widzieć, i odległość iéy od Stolika mógł wygodnie przemierzyć: każ potem w miejscu inném iak możesz okiém dosięgnąć najdalszém utwierdzić na téyże drodze inną źerdź K .

2. Naznaczywszy na Stoliku kierunek igiełki magnesowéy tak, iak się powiedziało §. 24. wedle igły i , odpowiadaiący punktowi \mathcal{F} na ziemi, wycéluy prawidło ku źerdzióm b, K , oba skierowania prawidła znacząc na Stoliku liniami schodzącymi się w punkcie i . Potém przemierz odległości $\mathcal{F}b, \mathcal{F}K$, i ważność ich naznacz z podziałki na liniach Stolikowych, ib, ik .

3. Przenieś się ze Stolikiem na inné iakie miejsce L , iak tylko można odległe od źerdzi K , a przemierzwszy odległość KL , weź z podziałki tylé części, ilé odległość wymierzona zamyka miar, i tym promieniem z punktu k zrysuy na Stoliku łuk. Łuk tén lubo dla szczupłości figury, nie iest tu zrysowany, wszakże łatwo go sobie każdy wyobrazić potrafi.

4. To gdy wykonasz, ustaw Stolik nad L , podług kierunku igiełki magnesowéy, potém przy igle utwierdzoney w punkcie k , wykierowawszy prawidło do źerdzi K , zrysuy na Stoliku linią kl , przeciągaiąc ją aż do przecięcia się z nakręslonym łuk.

kiem iak tu *up*: w punkcie *l*. Punkt tén przecięcia się oznaczy na Stoliku położenie punktu *L* odpowiadającego na ziemi.

§. Teraz wedle igły utwierdzonej w punkcie znalezionym *l*, zmierzay prawidłem ku lasce *M* zatkniętej w następnym załomku drogi, i odległość *LM* przenieś z podziałki na linią *lm*, od *l* do *m*. Ze stanowiska *L*, przeniosłbyś się na *N*, gdzie, iako téż na wszystkich innych stanowiskach te ostrożności zachować potrzeba, które zachowały się na *L* pod liczbą *3cią* i *4tą*.

Sposób drugi samym Stolikiem. Wykonanie działania tego samym Stolikiem tén się różni od poprzedzającego, iż punktów między żerdziami pośrednich omijać nie można, iak tu omijały się punkta *K*, *M*, ale na każdym z nich zaczawszy od *F* trzeba następnie ustanowić Stolik, i na każdym tak sobie postąpić, iak się na tymże punkcie *F* z żerdziami *b* i *k* postąpiło, toiest: ze wszystkim użyć potrzeba sposobu drugiego wyrażonego w przypadku trzecim, sposobie drugim §. 25.

§. 30. *Wymierzyć plac boru, lasu, stawu, ieżiora, bagna, i innych tym podobnych miéysc wewnątrz nieprzebytych lub nieprzystępnych.*

Dla zadosyc uczynienia tému zadaniu przyłącza się tu Mappa Pustyni Bielańskiéy

robionéy przez uczących się Jeometryi w *Collegium Nobilium* Warszawskim *S. P.* a przy tém wykładaia się sposoby przy robieniu téżże Mappy użyte, które, iakoto czytającemu łatwo będzie można miarkować, nie są iak tylko wielokrotném powtórzeniem tego, co się dotąd w poprzedzających działaniach mówiło.

1. Plac tén dosyć rozległy z jednéy strony Wiślą, z drugiéy drogą *b, f, KLMNOP*, ograniczony, wewnątrz zaś nieprzebytym i nieprzystępnym zarosły lasém, dla dokładniéjszéy roboty na dwie był podzielony części stykaiące się z sobą w jednym punkcie *S*, do uczynienia zaś tégo podziału wielcé pomocną stała się droga *suwxxxxyz* szrodkiem prawie lasu idąca.

Pierwsze stanowisko było na miejscu *S*, gdzie po naznaczeniu na Stoliku kierunku magnesowéy igielki, która w przenoszeniu podobnych placów wielcé bywa przydatną, wzięte były na cél laski ustawioné w miejscach *u, t, P*, potém odległości *su, st, sP*, odmierzone i w częściach wziętych z podziałki przeniesione były na linie odpowiadaiące na Stoliku.

Ze zaś linia celowa *su* wypadła za drogę, którę położenie miało bydź oznaczone na Stoliku, przeto do rozciągnionégo sznura w kierunku *su*, spuszczone były linie prostopadłe, z jednéy strony do znaczniéjszych drogi zakrętów, a z drugiéy do załomków przyległego téżże linii celowéy parkanu Folwarku zwanego *Ruda*, i tak sobie z pomienionémi prostopadłémi postąpiono, iak się powiedziało o rysowaniu biegu rzeki §. 28.

Naostatek przed zéysciém z tego stanowiska wyznaczyło się na Stoliku według §. 26. położenie przyległych folwarku budynków, iako téż niektórych punktów należących do wydania figury przyległego stawku.

2. To gdy się na piérwszém stanowisku wykonało, punkta *s, P, u*, iako mającé bydź na potém przydatné naznaczyły się zabitémi w ziemię kołkami, a na mieyscé laski *t* przeniesiono Stolik: gdzie ustawiwszy go w kierunku *ts* naprzód podług §. 26. dopełniono figury stawku, potém naznaczono położenie mostku i przyległego mostkowi młynu, wréscie wykierowano prawidło ku lasce ustawionéy na drodze w mieyscu *a*; i odległość iéy od Stolika przemierzona, wyznaczona była na Stoliku w częściach wziętych z podziałki. Od stanowiska *t*, postępowano ze Stolikiem zakrętami *a, b, c, d, e, f*, drogi idący po nad brzegiem Wisły, na każdém zaś z pomienionych stanowisk wyznaczono zaraz sposobém 1. §. 28. biég Wisły, prócz tego na stanowiskach *e, f*, podług §. 26. zrysowano na Stoliku położenie mostku, stawku, budynku, ogrodu i innych szczególności przyległych tymże stanowiskom.

3. Od stanowiska *f*, wycelowané było prawidło ku wysokiéy lasce ustawionéy na *g*: że zaś liniia celowa *fg* szła pod górę, przeto do wymierzenia iéy użyto sposobu podaného do pomiaru garbu lub góry §. 5. Na stanowisku *g*, naznaczyła się naprzód na Stoliku odległość laski ustawionéy na *z*, potém zaś podług §. 26. wynadywano położenie przyległych zewnetrznych Klasztornych murów, oficyn, i t. d.

Co się tycze wewnetrznych Klasztoru budynków, iakoto Kościoła, Eremitarzów, ogródków, i t. d. tych względné położenie (dla okazania rozmaitéy roboty) odmierzało się krokami, i tym

czasem na brulionie wyrażone zostało: potem zaś gdy ze dwóch stanowisk *g*, *z*, wyznaczyno się na Stoliku podług §. 35. położenie niektórych punktów Kościoła, łatwo ów brulion podług podziałki był przeniesiony na Mappę, przystosowawszy wprzód wymiar kroków do miary w rozmiarze użytéy.

4. Ponieważ robiąc Mappę placu iakięgo przez obeyscie obwodu tego, tém mniej pewności mieć można o dokładnéy robocie, im daléy od piérwszého stanowiska oddalać się przychodzi; z tego powodu na stanowisku *g* przerwano dalszą robotę, i naznaczywszy miéysc *z* kołkiem w ziemi zabitym, przeniesiony był Stolik na miéysc *z*, któręgo położenie iuż było na Stoliku oznaczone z piérwszého stanowiska *s*. Od tego więc nowého stanowiska *z* postępowało się zę Stolikiem tak iak piérwéy zakrętami *v, w, x, x, x*, drogi sřzodkiem prawie lasu idący. Po wyznaczeniu zakrętu *y*, punkt na Stoliku odpowiadający tému zakrętowi złączony był linią prostą z drugim punktem na Stoliku, odpowiadającym punktowi *z* na ziemi: a tak zamknęła się na Stoliku część piérwsza lasu zawarta między brzegiem Wisły i drogą sřzodkiem lasu idącą. Dla zapewnienia się o dokładnéy lub téż błédnéy robocie, przemierzono i na ziemi i na Stoliku odległość *yz*: a gdy pokazało się, iż odległości wymierzone trzema tylko ćwierciami łokcia różniły się między sobą; tak mała różnica a w podobnych robotach prawie nieuchybna, była dowodem dość dokładnéy roboty.

5. Po zakończonéy piérwszéy części lasu, rozpoczęto robotę drugiéy na punkcie *z*, skąd przez różné pośzednie obierané stanowiska doszło się do *b* kolumny granicznéy murowanéy.

Potém zaś następnie ustawiano Stolik na zakrętach J, K, L, M , aż do N .

Na stanowisku N , gdy wyznaczono położenie punktu O , który na ziemi z punktem P , już na Stoliku wyznaczonym linią prostą łączył się, zatem przez téż samé punkta przeciągnięto także na Stoliku linią prostą, a tak dopełniła się druga, a ta ostatnia część placu przedsięwziętego do wymiaru.

Naostatek dla zapewnienia się raz ieszcze o robocie, użyto tegoż co i wyżej sposobu, to jest przemierzono odległość OP i na ziemi i na Stoliku, a gdy między wymierzonymi odległościami o dwa tylko i to niezupełné łokcie pokazała się różnica, przeto za nic osądzona bydź mogła, i robota za dostatecznie dokładną poczytana została.

§. 31. *Od punktu dostępného A , wyznaczyć odległość punktu niedostępného C . (Tabl. 4. Fig: 36!)*

1. Obierz na ziemi taką linią, która by się z jednéj strony kończyła na tym punkcie, od którego chcesz wiedzieć odległość punktu niedostępného, taka tu jest obrana linia AB , którą napotém zwać będziemy podstawą. Ta podstawa tém dłuższa bydź powinna, im odległość punktu niedostępného C od punktu dostępného A okiem miarkowana, zdaie się bydź znaczniejsza. Z témi ostrożnościami obrawszy podstawę, każ ją iak naydokładniéj wymierzyć, i na iednym końcu *np:* B utwierdzić laskę.

2. Pociągnij na Stoliku ołowkiem linią ab , wyznacz na nię z podziałki tylé części równych, ilé podstawa na ziemi obrana i wymierzona zamykała miar, potém na obóh końcach linii ab zatknij igły ilé bydz może pionowo.

3. Po uczynionych takowych przygotowaniach ustaw Stolik poziomo na iednym końcu obranéj podstawy np : na A , a to w tén sposób aby punkt a , znajdujący się na Stoliku, zgadzał się z punktem A odpowiadającym sobie na ziemi: potém położwszy prawidło wedle dwóch igieł utwierdzonych na końcach linii ab , obracaj póty samą płaszczyznę Stolika, póki przez celowniki prawidła poglądaiąc, nie uyrzysz źérdzi ustawionéj na B , drugim końcu obranéj podstawy: i w tém położeniu umocniesz Stolik szrubą na któręj się obraca.

4. Około igły a , wykieruj prawidło ku punktowi niedostępnému C , wedle wykiérowaného prawidła rysując na Stoliku linią ca , nieokreślonęj długości.

5. Przenieś się na B , drugi koniec obranéj podstawy, gdzie ustawiwszy Stolik w kierunku BA , celuj prawidłem przy igle b , ku témuż punktowi niedostępnému C , i skierowanie prawidła naznacz na Stoliku linią cb . Tym sposobém zrobi się na Stoliku Trójkąt acb , podobny Trójkątowi ACB na ziemi, zawartemu między pod-

stawą AB , i dwoma bokami AC, BC , które od końców podstawy zmyślamy sobie prowadzone ku punktowi niedostępnemu C . Zatem linie ac, bc , na podziałce wymierzone, dadzą poznać wielkość linii AC, BC , odpowiadających na ziemi.

§. 32. *Zmierzyć szerokość rzeki.*

Na jednym brzegu rzeki obrawszy podstawę z ostrożnościami dopiero wyłożonemi, a na drugim drzewo, krzak, kamień, albo inny jaki znak widoczny, szukaj odległości tego znaku od końców obranej podstawy podług §. 31. tak zrobi się Trójkąt podobny Trójkątowi na ziemi. Gdy więc na Stoliku od wierzchołka Trójkąta spuścisz linię prostopadłą na podstawę, ta wymierzona na podziałce, okaże żądaną szerokość rzeki.

§. 33. *Liniją AB , dostępną w punkcie A , mając z poprzedzających działań wyznaczoną na Stoliku przez linią ab , potrzeba na tymże Stoliku wyznaczyć inny jaki dostępny na gruncie podług upodobania obrany punkt C . (Tabl. 4. Fig. 37.)*

1. Na punkcie dostępnym A ustawivszy Stolik w kierunku AB , wyceluy prawidłó przy igle a , ku lasce zatkniętý w punkcie

kie szukany C , i wedle tak wycelowanego prawidła zrysuy na Stoliku linię ac nieokreślonę długości.

2. Potém, przenieś się na punkt szukany C , a gdy tam ustawisz Stolik w kierunku CA , połów prawidło około igły w punkcie b utwierdzoney, i kieruy niém póty, póki przez celowniki nie uyrzysz punktu B . Natenczas podług kierunku prawidła pociągnięta linia bc , przetnie pierwszą linię ac , w punkcie c , który będzie oznaczał na Stoliku położenie punktu C obranego na gruncie, linie zaś ca , cb , wymierzone na téy saméy podziałce, podług której linia AB z poprzedzającego działania wyznaczona była na Stoliku, dadzą poznać długość linii CA , CB odpowiadających na ziemi.

§. 34. *Odległość AB z obóh końców niedostępna na ziemi, mając z poprzedzających działań wyrażoną na Stoliku przez linię ab , mając prócz tego naznaczony kierunek igielki magnesowej; jest zadano, innego iakięgo na gruncie podług upodobania lub potrzeby obranego punktu C wyznaczyć na tymże Stoliku położenie i odległość względem linii niedostępnej AB , czyli ab . (Tabl. 4. Fig: 38.)*

1. Ustawiwszy Stolik poziomo na pun-

H

kie szukany C , położy kompas wedle linii de oznaczającej kierunek igielki magnesowey, i obracay samą płaszczyznę Stolika póty, póki linia północna i południowa na Stoliku naznaczona, nie zgodzi się z linią północną i południową kompasu, natenczas linia ab , będzie równoległą względem odległości AB .

2. W tém położeniu gdy przytwierdzisz Stolik, wykieruy prawidło przy igle b ku punktowi B odpowiadającemu na ziemi, a wedle krawędzi wykierowanego prawidła pociągnij na Stoliku linią bc nie określony długości. Podobniez wedle igły a , wykieruy prawidło ku drugiemu niedostępnemu punktowi A , i wzdłuż prawidła wyciągnij drugą linią ac : punkt c przecięcia się linii na Stoliku zrysowanych, będzie oznaczał położenie punktu C obranego na gruncie, linie zaś ca , cb , na podziałce wymierzone dadzą poznać odległości CA , CB , odpowiadające na ziemi.

W takowych to osobliwie przypadkach naczynianie na Stoliku kierunku igielki magnesowey bywa wielce przydatne, wszakże aby od niej zawiedzionym i oszukany nie bydz, wielkiy potrzeba przykladać bacności.



§. 55. *Mając odległość AB, (Tabl: 4. Fig: 39, 40, 41, 42, 43, 44, 45.) albo z wymiaru albo też z poprzedzających działań wyznaczoną na Stoliku przez linią ab, jest zadano wyznaczyć na tymże Stoliku położenie i odległość dwóch przedmiotów C, D, względem końców wiadomej linii ab, czyli AB.*

Zadanie to na sześć szczególnych rozłożone być może przypadków, zawisłych od rozmaitego położenia tak linii na Stoliku wyznaczony, iako też dwóch przedmiotów, których położenia i odległości względem nię szukamy.

PRZYPADEK PIĘRWSZY.

(Tabl: 4. Fig: 39.)

Gdy oba końce linii *AB* wyznaczony na Stoliku, są dostępne, to jest takie że na nich Stolik ustawiony być może.

1. Ustaw Stolik poziomo na punkcie *A* w kierunku *AB*, i w tém położeniu przytwierdzisz go śrubą na której się obraca.
2. Przez celowniki prawidła około igły *a* położonego, upatruj przedmiotów *C*, i *D*, każde skierowanie prawidła znacząc na Stoliku liniami ku punktowi *a* zrysowanemi.
3. Przejdź ze Stolikiem na punkt drugi *B*, ustaw go na nim i umocnij w kierunku

ku BA . 4. Wedle igły b , wykieruy celowniki prawidła ku tymże punktóm C, D , i tak iak na piérwszém stanowisku przy wykierowaném prawidle pociągnij na Stoliku liniiie ku punktowi b . Punkta c, d , przecięcia się tych drugich linii, z linijami na piérwszém stanowisku poprowadzonými, oznaczac będą położenie i odległość przedmiotów C, D , względem końców wiadoméj linii AB , czyli ab .

PRZYPADEK DRUGI.

(*Tabl: 4. Fig: 40.*)

Gdy linii AB wyznaczonéj na Stoliku iedén tylko punkt A iest dostępny, toiest zdatny do obrania go za iedno stanowisko, za drugié zaś iedén z punktów szukanych *np:* C wzięty bydz może.

1. W punkcie dostępnym A linii AB , postaw Stolik poziomo w kierunku AB .
2. Przystawiwszy prawidło do igły a , upatruy przedmiotów C i D , a wedle krawędzia prawidła wykierowaného, zrysuy na Stoliku liniiie ad, ac .
3. Przenieś się na stanowisko C , tam ustawiwszy Stolik w kierunku AC , prawidłem wedle igły b położoném kieruy ku przedmiotowi B , i za postrzeżeniem iego, pociągnij wzdłuż wycelowaného prawidła linią bc , aż do przecięcia się z linią ac . Naténczas punkt przecięcia się c , będzie ozna-

czał na Stoliku położenie jednego szukanego punktu C . 4. Teraz, abys wyznaczył położenie drugiego szukanego punktu D , wedle igły w punkcie c utwierdzoney wyceluy prawidło ku punktowi D , a gdy przy krawędzi tak wycelowanego prawidła nakręslisz linią cd przecinającą linią ad w punkcie d , będziesz miał wyznaczone na Stoliku położenie i drugiego niewiadomego przedmiotu D .

PRZYPADEK TRZECI.

(*Tabl: 4. Fig: 41.*)

Gdy oba miéysca stanowisk mogą wprowadzić wzięte na końcach wiadomey linii AB , ale przedmioty C i D , których położenia i odległości szukamy, po obóch stronach wiadomey linii AB znajduią się położone.

1. Ułatwienie przypadku tego zupełnie jest podobne temu, które się w §. 31 wyłożyło, z tą tylko różnicą, iż co tam po jednéy stronie obranęy podstawy robiło się, tu po obudwóch wykonać potrzeba. To jest: Postawisz Stolik na A w kierunku AB , weź na cel przedmioty szukané C i D , wedle prawidła rysując liniie ac , ad . Potém przenieś się na stanowisko B , ustaw na niem Stolik w kierunku BA , i wedle igły b upatruy tychże co piérwéy przedmiotów C i D : liniie bc , bd , poprowadzone na

Stoliku pódług wykierowaného prawidła, przetną się z liniami na piérwszém stanowisku zrysowanými, iak tu w punktach c i d , które będą oznaczać położenie dwóch przedmiotów C, D , względem końców wiadoméj linii AB , czyli ab .

2. (Tabl: 4. Fig: 42.) Podobnież, gdy by oba końce wiadoméj linii AB , będąc dostępne, tak były położone względem przedmiotów szukanych C i D iak na Fig: 42 widzieć się daie, to i w tym razie robota niczémby się nie różniła od poprzedzającego działania. Toiest: naprzód na stanowisku A , potem na stanowisku B upatrywałbyś przedmiotów C i D , które upatrzywszy, linie ac , ad , piérwszego stanowiska spotkałyby się z liniami bc , bd , drugiego stanowiska. Punkta zaś spótkania się iak tu c , d , oznaczyłyby położenie i odległość punktów C i D , względem końców wiadoméj linii AB , czyli ab .

PRZYPADEK CZWARTY.

(Tabl: 4. Fig: 43.)

Gdy na wiadoméj linii iedno tylko stanowisko w punkcie A , drugie zaś na iednym z niewiadomych punktów, toiest na punkcie C obrane bydź może: oba zaś niewiadomé punkta C i D , leżą z przeciwnych stron wiadoméj linii AB .

1. Stanąwszy na punkcie dostępnym A ,

i utwierdziwszy na nim Stolik w kierunku AB , przy igle a zmiierzay prawidłem ku dwóm żądanym przedmiotom D i C , oba skierowania prawidła znacząc na Stolicu liniami ad , ac . 2. Przenieś się z miejsca A na punkt drugi dostępny C , ustaw na nim Stolik w kierunku CA , i aby z tego położenia nie uszedł, przytwierdzisz go szrubą na której się obraca. 3. Wedle igły b wykeruy prawidło ku przedmiotowi B , a gdy podług kierunku prawidła zrysujesz na Stolicu linią bc przecinającą linią ac w punkcie c ; będziesz miał wyznaczone na Stolicu położenie punktu jednego niewiadomego C , na którym iest Stolik ustawiony. 4. Teraz w wyznaczonym punkcie C utwierdziwszy igłę, prawidłem około niej położonem upatruy przedmiotu D , i pociągnij wedle prawidła linią cd , przecinającą linią ad w punkcie d : punkt ten przecięcia się oznaczać będzie na Stolicu położenie drugiego niewiadomego punktu D .

PRZYPADEK PIĄTY.

(Tabl: 4. Fig: 44.)

Gdy oba końce wiadomej linii AB są niedostępne, to iest takie, że na nich Stolik umieszczony byź nie może: oba zaś niewiadome punkta C i D , za miejsca stanowisk wzięte byź mogą.

Jeżeli oprócz linii na Stoliku wyrażony, i jeszcze i kierunek igielki magnesowey jest naznaczony; natenczas przypadek ten dwójakim sposobem ułatwiony bydz może.

Sposób pierwszy, za pomocą igielki magnesowey i Stolika. Ustaw Stolik poziomo podług kierunku igielki magnesowey, raz na mieyscu C , drugi raz na mieyscu D , i za każdym ustapowieniem Stolika postap sobie podług §. 34. tak wyznaczysz na Stoliku położenie dwóch niewiadomych punktów C i D .

Sposób drugi samym Stolikiem. 1. W mieyscu C ustawwszy Stolik, obierz na niem iakikolwiek punkt c , i utwierdz w nim igłę. 2. Przy igle c upatruy prawidłem przedmiotów A, B, D , a za postrzeżeniem każdego z nich z osobna, wzdłuż prawidła wyciągnij linią ku punktowi c . 3. Niewymierzając odległości CD , przenieś Stolik na stanowisko drugie D , i w jakimkolwiek upodobanym punkcie d , wziętym na linii celowey cd , zatknąwszy igłę, ustaw Stolik w kierunku CD . 4. Prawidłem przy igle d położonem, upatruy przedmiotów A i B , podług tak wykierowanego prawidła zrysowane na Stoliku linie, przetną się z liniami na pierwszym stanowisku C poprowadzonemi: punkta przecięcia się a, b , gdy złączysz linią ab , będziesz miał figurę $abcd$ zupełnie podobną figurze $ABDC$. 5. Teraz wiadomą linią AB ,

w częściach wziętych z podziałki wyznaczwszy na linii ba od b do y , przez punkt y do linii ac prowadź równoległą, przeciągając ją aż do spotkania się z linią bc w punkcie x . Potem od tegoż punktu y zrysuj drugą linią yz równoległą do ad : tak mieć będziesz figurę ybx , podobną figurze $ABDC$ podług téj saméj podziałki, podług której odległość AB z poprzedzających działań wyznaczona była na Stolicu: zatem punkta x , z , będą oznaczać położenie i odległość punktów żądanych C i D , względem końców linii niedostępnej AB czyli ab .

Drugi tén sposób lubo przy ciągłym iakiém robocie nie znajdzie miejsca; w niektórych jednak szczególnych przypadkach bardzo wygodnie bydz może użyty. I tak np: niektóre główne punkta placu iakięgo przeniosłszy na Stolik, a chcąc drobniejsze części między głównymi zawarté na Mappie umieścić; można na osobną kartę przylepioną na Stolicu, owé drobniejsze części przenosić, a potem położenie ich tak, iak się dopiero powiedziało, do głównych punktów na Mappie znajdujących się przystosować.

PRZYPADEK SZÓSTY.

(*Tabl: 4. Fig: 45.*)

Gdy tak końce wiadoméj linii AB , iako téż oba punkta C i D , których położenia i odległości szukamy, nie są zdadne do obrania ich za miejsca stanowisk.

Przypadek ten, tak iak i^o poprzedzają-
cy, dwoiakim sposobem rozwiązany bydz
może.

*Sposób piérwszy, za pomocą igiełki magne-
sowéy i Stolika.* 1. Jezeli oprócz linii
AB wyrażonéy na Stoliku, iest także na-
znaczony kierunek magnesowéy igiełki;
natenczas postawiwszy Stolik nie daleko
przedmiotu *D* w jakimkolwiek punkcie *E*,
wyznacz go na Stoliku sposobem wyrażo-
nym w §. 34. 2. Około punktu *e* dopię-
ro wyznaczoného na Stoliku, wyceluy pra-
widło ku punktowi *D*, i odległość iego
od Stolika wymierzwszy, przenieś ią z po-
działki na linią celową *ed*. 3. Przenieś
się ze Stolikiem na inny iaki do woli o-
brany punkt *F*, od przedmiotu *C* miernie
odległy, i tak sobie postąp na nim, iak na
piérwszém stanowisku *E*, a będziesz miał
wyznaczone na Stoliku położenie i drugie-
go przedmiotu *C*.

Sposób drugi samym Stolikiem. 1. W miej-
scu *E*, miernie odległym od przedmiotu *D*,
ustawiwszy poziomo Stolik, utwierdź na
nim igłę w punkcie *e* doł woli i upodo-
bania obranym. 2. Przy igle *e* wykieruy
pravidło naprzód ku przedmiotom *A, B, D*,
potém ku lasce ustawionéy w miejscu ia-
kiem *F*, któreby ci za drugie stanowisko słu-
żyć mogło, każde zaś skierowanie prawi-
dła naznacz na Stoliku linią ku punktowi
e zrysowaną: potém każ przemierzyc od-

ległość ED , i miarę iey w raptularzu zanotuy. 3. Uday się ze Stolikiem na miejsce laski F , toż w punkcie jakim na linii celowéy ef podług upodobania obranym, zatknąwszy igłę f , ustaw Stolik w kierunku FE . 4. W tém położeniu gdy utwierdzisz Stolik; przy igle f zmierzay prawidłem ku przedmiotom A, C, B , podle wykierowanego prawidła rysując na Stoliku linie fc , fa, fb : dwie ostatnie przecną się z liniami ea , eb , na pierwszém stanowisku E poprowadzonymi, a tém samém zamkną figurę $afbe$ podobną figurze $AFBE$. Naostatek przemierz odległość FC , i ważność iey w raptularzu zanotuy. 5. Na linii ab , w częściach wziętych z podziałki naznacz ważność linii wiadoméy AB od b do y , potem przez punkt y pociągnij linią yx równoległą do fa , i drugą yz równoległą do ae . 6. Wreszcie przez punkt x , zrysuy xo , równoległą do fc , i wyznacz na niéy z podziałki miarę odległości FC , od x do o , natenczas punkt o będzie oznaczał na Stoliku położenie przedmiotu C . Podobnież, gdy przez punkt z zrysujesz zn równoległą do ed , i wyznaczysz na niéy z podziałki odległość ED , od z do n , będziesz miał oznaczone na Stoliku położenie i drugiego szukanego przedmiotu D .

Co się powiedziało o rozwiązaniu drugim przypadku piątego, toż samo rozumieć się ma o rozwiązaniu drugim tego przypadku szóstego.

Lubo w sześciu wyłożonych przypadkach, rzecz była o wynadywaniu odległości dwóch tylko przedmiotów; wszakże iakąkolwiek byłaby ich liczba, można temiż samými sposobami położenie i odległość ich tak względem siebie, iako téż względem końców wiadomej linii, czyli obranęj podstawy na Stoliku wyznaczyć: tego mocno w podobnych działaniach przestrzegając, aby w Trójkątach na Stoliku wykreślonych, kąt iaki zbyt ostry, lub rostwarty nieznaydował się.

§. 36. *Niech będzie dana do wyznaczenia odległość AC, której koniec drugi C, dla śródkuiącęj przeszko-
dy, od piérwszego A widziany byđź
nie może. (Fig: 4. Tabl: 46.)*

Sposób piérwszy. 1. Każ utwierdzić cztery laski D, F, B, E , w tén sposób, aby tak laski B, F , iako téż D, E , były w linii prostéj z punktem C , tudzież abys każdą z nich z miéysca A widziéć i każdéj odległość od tegoż miéysca A mógł wygodnie przemierzyc. 2. Stanąwszy na punkcie A i wyznaczywszy go na Stoliku, weź na cél laski D, F, B, E , za każdym wycelowaniem prawidła rysując na Stoliku linią ku punktowi a . Potém przemierz odległości AB, AF, AE, AD , i ważność ich naznacz z podziałki na liniach odpowiadających na Stoliku ab, af, ae, ad . 3. Przez punkta b, f, i, e, d , pociągnij liniie prosté tak daleko aż

się z sobą spotkają: punkt ten spotkania się, iak tu c , będzie oznaczał na Stoliku położenie punktu niedostępnego C . Zatem linia ac wymierzona na podziałce pokaże ważność odległości żadaney AC .

Sposób drugi. (Fig: też sama.) 1. Zatkniy dwie laski D i F w miejscach takich, z którychby oba punkta A i C widziane bydy mogły. 2. Postaw Stolik na punkcie A , i wedle igły a , zmiierzay ku laskom w miejscach D i F utwierdzonym, oba kierunki prawidła znacząc na Stoliku liniami zrysowanemi ku punktowi a : potem przemierzwszy odległości AD , AF , wyznacz ié z podziałki na liniach odpowiadających na Stoliku od a do d , i od a do f . 3. Przenieś Stolik na miejsce iedney laski np : D , gdzie gdy ustawisz go w kierunku DA , wykieruy prawidło przy igle d ku punktowi C , i wedle prawidła pociągniy na Stoliku linią dc nieokreślonéy długości. 4. Naostatek przenieś się na miejsce F , gdzie ustawiwszy Stolik w kierunku FA , wedle igły f celuy prawidłem ku temuż punktowi C , natenczas podług kierunku prawidła zrysowana linia cf przetnie się z linią dc , w punkcie c , który oznaczać będzie położenie punktu szukanego C : zatem linia ac tak iak pierwéy na podziałce wymierzona da poznać nieprzebytą na ziemi odległość AC .

§. 37. Odryfować Mappę obszerniey-
 szęgo placu, lub okolicy iakię mię-
 ścią niedostępnę i nieprzebytę,
 którę jednak wszystkie załomki w gra-
 nicach będąc, iako tęż innę przedmio-
 ty mającę byż w ryfunku umieszczo-
 nę, widziē się daia z dwóch, a nay-
 więcę trzech obranych do tego
 punktów stanowiska S, F, v.

(Tabl: 3. Fig: 49.)

1. Na piérwszém stanowisku postawiwszy
 Stolik poziomo, i obrawszy na niēm lub
 tęż wyznaczywszy punkt S; około igły
 w tym punkcie utwierdzoney, cēluy nastę-
 pnie prawidłem do wszystkich ze stanowi-
 ska S widzialnych przedmiotów, za ka-
 żdēm wykierowaniem prawidła rysuiąc na
 Stoliku liniie nieokręslonę długości ST,
 SD, SA, SB, SE, SF, SG, i t. d. ku tymże
 przedmiotóm dążąc. Dla uniknienia za-
 mieszania, przy każdę linii cēlowę nale-
 żącę do iakięgo znakomitszēgo przedmio-
 tu, mozesz przypisać nazwisko tēgoż przed-
 miotu.

2. Jeżeli znajduią się przedmioty iakiē
 blizkiē Stolika, albo raczēy punktu stano-
 wiska; natęczas zmierzyc trzeba sznurēm
 odległość od Stolika do każdęgo takięgo
 przedmiotu, i w częściach wziętych na po-
 działce, naznaczyć ią wzdłuż linii wycēlo-

wanę do tego przedmiotu: Tym sposobem postąpiło się tu z przedmiotami B, A, D . Podobnież przedmioty blizkie podstawy, iak tu załamki M, N , wyznaczają się za pomocą linii prostopadłych PM, QN , tak iak się o przenoszeniu zakrętów rzeki §. 28. powiedziało.

3. Po przeniesieniu się na drugie stanowisko T , naprzód na linię ST oznaczającą podstawę, przenieś od S do T tylé części wziętych na podziałce, ilé obrana i wymierzona na ziemi podstawa zawiera miar: potém punkt T naprowadziwszy na punkt odpowiadający na ziemi, utwierdź Stolik w kierunku ST .

4. To wykonawszy, wedle igły T kieruy prawidłem do tych samych co piérwéy przedmiotów, kreśląc na Stoliku nowé linie Te, Tf, Tg , i t. d. tak daleko ié wyciągając, aby się z liniami na piérwszém stanowisku S prowadzonémi przecięły w punktach e, f, g , i t. d. które gdy między sobą porządnie liniami połączysz, będziesz miał na Stoliku figurę $Tgfeba$ podobną figurze ziemney $TGFEB$.

5. Gdy Stolik zostaje ieszcze w kierunku TS , wycéluy prawidło ku innému iakiému punktowi v , któryby ci za nowé stanowisko mógł służyć, iako téż ku innym przedmiotóm, których położenie nie jest na Stoliku wyznaczone. Potém przemierzwszy odległość Tv , i naznaczywszy

ią z podziałki na linii odpowiadający na Stoliku od t do v , przenieś się na trzecie miejsce czyli stanowisko v i ustaw na niem Stolik w kierunku vT .

Na tém stanowisku nim zaczniesz przecinać linie pozostałe, możesz wprzód doświadczyć położenia przedmiotów już na Stoliku wyznaczonych, a to w sposób następujący.

Położ na Stoliku prawidło wzdłuż dwóch igieł utwierdzonych w punktach v, s , a poglądnij przez celowniki tak położonego prawidła, jeżeli uyrzysz źerdź ustawioną na pierwszym stanowisku S , będzie to dowodem dokładnej roboty. Podobnież wedle dwóch punktów v, f , położywszy prawidło, celowniki ięgo powinny ci pokazywać przedmiot odpowiadający F , toż ma się rozumieć o innych punktach już na Stoliku wyznaczonych G, E i t. d. a z miejsca stanowiska widzialnych. Gdyby który z punktów pomienionych nie wpadał na promień oczny przez celowniki prawidła przechodzący, byłoby to dowodem, iż położenie ięgo na Stoliku jest źle wyrażone, zatem potrzeba go poprawić. Takowé doświadczenie odprawiwszy, dokończ przecinania pozostałych przedmiotów: punkta przecięcia gdy z pierwszymi połączysz, będziesz miał wygotowaną Mapę placu przedsięwziętego do wymiaru.

Gdyby

¶ Gdyby linia czyli podstawa Tv dla przeszkody iakowéy, iakoto: wody, bagna, krzaków, i t. d. sznurém odmierzoną byż nie mogła; natenczas tak położenie trzeciego stanowiska v , iako też długość linii Tv , wyznaczylbys na Stoliku podług §. 33.

§. 38. Plac wewnątrz zaprzatniony i nieprzebyty dla budynków; drzew i t. d. zewnątrz zaś dla wody, błot, bagnisk, pagórków lub innych tym podobnych przeszkod nieprzystępny na papier przenieść. (Tabl: 5. Fig: 50.)

1. Zewnątrz placu przedsięwziętego do wymiaru, obierz taką podstawę $ƒH$, z którejby obóch końców iak naywięcéy węglów czyli załomków w obwodzie placu tego będących doyrzec dawało się. Potém ustaw Stolik poziomo na iednym końcu obranéy podstawy, a wyraziwszy na nim iéy długość i położenie; wedle igły $ƒ$ upatruy prawidłem załomków z miéysca stanowiska widzialnych, iak tu załomków E, D , każde skierowanie prawidła znacząc liniami na Stoliku zrysowanými $Eƒ, Dƒ$.

2. Przeniosłszy Stolik na H drugi koniec obranéy podstawy, około igły H wykieruy naprzód prawidło ku tymże co i

pierwéy załomkom E, D : natenczas liniie $\triangle H, DH$, podług kierunku prawidła na Stoliku zrysowane przetną się z liniami stanowiska pierwszego w punktach E, D : które gdy złączysz linią ED ta będzie wyrażać na Stoliku położenie ściany odpowiadającej na ziemi. Wykieruy powtóre prawidło ku innému iakiemu punktowi G , któryby ci mógł służyć za nowe stanowisko, a z którego byś dalsze załomki obwodu mógł widzieć: potem odległość HG wymierzoną naznacz z podziałki na linii odpowiadającej na Stoliku.

3. Gdy na G ustawisz Stolik w kierunku HG , naprzód połów prawidło wedle dwóch igieł utwierdzonych na punktach G, D , a poglądając przez celowniki tak ułożonego prawidła, jeżeli obaczysz na ziemi punkt odpowiadający punktowi D Stolika, będzie to dowodem w niczym nieomylnéy roboty. Podobnymże sposobem podług dwóch punktów G, F , już na Stoliku wyznaczonych, mógł byś doświadczyć położenia łaski ustawionéy na pierwszym stanowisku F . Zakończywszy takową próbę, zmierzay prawidłem przy igle G położoném ku dalszemu załomkowi C , tudzież ku innému iakiemu punktowi F mającemu być wziętym za nowe stanowisko: a gdy odległość jego wyznaczysz na Stoliku, i przędziesz tam ze stanowiska G , toż samo na

niem działanié odprawisz, co i na trzech poprzedzających stanowiskach. Jakim zaś sposobém obierały się trzy podstawy JH , HG , GF , tak i inné obierać będziesz, póki całego placu na Mappie nie zawrzesz.

W podobnych działaniach, o to, gdy byż może, starać się potrzeba, aby końce podstaw obranych znajdowały się na przedłużeniu ścian obwód placu składających. I tak tu *np.*: oba końce podstawy JH znajdują się na przedłużeniach ściany E i ściany ED , zaś końce podstawy HG na przedłużeniach ścian CD , ED , a podstawa GF na przedłużeniu ściany ED , i ściany C . Takowé położenie podstawy jest ze wszystkich nayszygodniejszém, i nayszygodnię dokładną robotę obiecującém.

§. 39. Wyznaczywszy na Stoliku trzy przedmioty (Tabl. 4. Fig: 47. 48.) A , B , C , albo co iednoż znaczy, wyznaczywszy trzy boki Trójkąta na gruncie jakim uważaného, trzeba wyznaczyć na tymże Stoliku czwartyiaki podług upodobania na gruncie obrany punkt x , z którego trzy wierzchołki Trójkąta, czyli trzy owé przedmioty widzieć się daią.

Zagadnienie to na pięć główniejszych przypadków podzieloné byż może.

PRZYPADEK PIERWSZY.

(Tabl: 4. Fig: 47.)

Gdy punkt szukany X znajduje się na jednym z boków Trójkąta, jak tu na boku AB , Trójkąta wiadomego ACB ,

1. Ustawisz Stolik na obranym punkcie x , i położywszy prawidło wzdłuż tego boku Trójkąta, na którym Stolik jest ustawiony, jak tu wzdłuż boku ab ; póty obracaj Stolikiem, póki przez celowniki prawidła oglądając nie ujrzysz przedmiotów A, B . 2. W tém położeniu, gdy ustawisz i umocnisz Stolik, przy igle w punkcie c ustawionéy wykieruj prawidło ku trzeciemu przedmiotowi C : natenczas wzdłuż wykierowanego prawidła zrysowana na Stoliku linia przetnie się z bokiém ab w punkcie x , który będzie odpowiadał punktowi x obranému na gruncie.

PRZYPADEK DRUGI.

(Tabl: 4. Fig: 48.)

Gdy punkt X , znajduje się na przedłużeniu jednego z boków Trójkąta, np: na przedłużeniu boku AB Trójkąta ABC .

1. Stanąwszy na punkcie szukanym X , ustaw na nim Stolik w kierunku AB , i wedle prawidła wycelowanego ku punktowi B , zrysuj na Stoliku linią bx nieokreślonej długości. 2. Potém wedle igły c upa-

truy przez celowniki przedmiotu C , a gdy podług kierunku prawidła pociągniesz na Stoliku drugą linią cx aż do przecięcia się z pierwszą w punkcie x , tén punkt będzie punktem szukany.

PRZYPADEK TRZECI.

(*Tabl: 6. Fig: 61. albo 62.*)

Gdy punkt szukany X iest położony zewnątrz Trójkąta ABC wyznaczónego na Stoliku.

Tak przypadek tén trzeci, iako i następujące dwa, toiest 4ty i 5ty, dwoiakim sposobem ułatwioné bydz mogą: toiest, raz za pomocą igielki magnésowéy i Stolika; drugi, samym Stolikiem. Ze zaś tén drugi sposób w robocie swoiéy zawiły, a zatém można mówić, nigdy niepraktykowany, przeto w trzech tych ostatnich przypadkach na wyłożeniu pierwszého sposobu przestaniemy.

Gdy więc (*Tabl: 6. Fig: 62, albo 61.*) punkt szukany X iest położony zewnątrz wiadomégo Trójkąta ABC , natenczas nad tym punktem ustawiwszy Stolik podług kierunku magnésowéy igielki, toiest zupełnie tak iak się powiedziało §. 34. zatknij naprzód igłę na Stoliku w tym punkcie, który odpowiada punktowi B na ziemi, a przy téy igle wy kierowawszy prawidło ku temuż punktowi B , podle prawi-

dła zrysuy na Stoliku linią nieokręśloną długości. Zatkniy potém igłę w tym punkcie, który odpowiada punktowi A na ziemi, i wędle tak utkwionéy igły celuy prawidłem ku temuż punktowi A , rysując przy prawidle tak iak piérwéy linią nieokręśloną długości. Naostatek utwierdziwszy na Stoliku igłę w trzecim punkcie odpowiadającym trzeciému punktowi C na ziemi, i wykerowawszy ku niemu prawidło, kierunek iego naznacz linią na Stoliku zryowaną. Naténczas punkt tén, w którym się przetną z sobą trzy owé linie na Stoliku zryowane, będzie oznaaczał położenie punktu szukaného X . Jeżeliby zaś trzy linie nie ścięły się z sobą w iednym punkcie, byłoby to dowodem mylnéy roboty, zatém trzebaby ją powtórzyć.

PRZYPADEK CZWARTY.

(*Tabl: 7. Fig: 64.*)

Gdy obrany punkt x znajduie się wewnątrz wiadomého Tróykąta ABC .

Ponieważ i w tym przypadku zakładamy, iż z poprzedzających działań iest naznaczony kierunek magnesowéy igielki; zatém rozwiązanie tego przypadku, zupełnie to samo iest co i poprzedzającego.

PRZYPADEK PIĄTY.

(Tabl: 6. Fig: 63.)

Gdy trzy przedmioty, których położenie jest na Stoliku wyznaczone, na iednej linii prostey znajdują się.

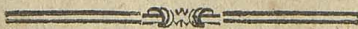
Ułatwienie tego piątego przypadku takie samé jest, co i dwóch poprzedzających.

§. 40. *Mając daną na gruncie linią dostępną ab , i na niej wyznaczony punkt m , wystawić z tego punktu linią prostopadłą. (Tabl: 5. Fig: 51.)*

1. Zrysuy na Stoliku kąt prosty albo co iednoż jest, zrysuy dwie linie względem siebie prostopadłe, potem na danym punkcie m ustaw Stolik tak, aby wierzchołek kąta prostego zgadzał się z punktem m wyznaczonym na ziemi, tudzież aby iedno ramię czyniące kąt prosty znajdowało się w kierunku linii daney ab . W tém położeniu gdy utwierdzisz Stolik, połów prawidło wedle drugiego ramienia czyniącego kąt prosty, i poglądając przez celowniki prawidła, każ podług linii celowey ustawić w ziemi tyle lasek, ile ci się podobają: laski tak ustawione oznaczają linią cm prostopadłą do ab .

2. Gdyby zaś punkt dany r znajdował się nad linią położony, a wyciągała potrzeba od tego punktu spuścić prostopadłą na linią ab ; natenczas podług §. 31, szukay odległości punktu danego r , od dwóch końców daney linii ab ; potem od punktu r na Stoliku spuść prostopadłą rs na linią daną ab . Naostatek gdy wymiierzysz na podziałce część bs , albo as , będziesz wiedział ile na linii daney na gruncie masz odmierzyć miar, abyś znalazł punkt s , od któregoby wyciągnięta linia do punktu danego r , była prostopadłą do linii ab .

Albo też: od punktu r wyznaczoného na Stoliku spuściwszy prostopadłą na linią daną, ustaw Stolik na punkcie r w kierunku rb , ra ; potem połóż na Stoliku prawidłó wzdłuż prostopadłéy rs , a poglądaiąc przez celowniki prawidłá, każ komu innemu posuwać się z żerdzią po linii daney póty, póki nie natrafi na taki punkt s , w którymby żerdź ustawiona wpadała na promień oczny rs : tak znajdziesz na linii daney punkt s , od którego przez dany punkt r , wyprowadzona linia będzie prostopadłą żadaną.



§. 41. Przez punkt dany D prowadzić równoległą linią do budynku niedostępnego AB , dla wykopania kanału, założenia ogrodu, zwierzyńca, szpaleru, usypania tamy, grobli, i t. d.

(Tabl: 5. Fig: 53.)

1. Obierz podstawę, któraby się z jednéj strony kończyła na tym punkcie, przez który ma przechodzić linią równoległą, i niech linią CD wyraża tę podstawę na Stoliku. 2. Szukay podług §. 35. odległości budynku względem końców obranej i na Stoliku wyrażonéj podstawy CD : potem punkta A, B , oznaczającé na Stoliku położenie budynku, złącz linią AB . 3. Przez koniec D , (podstawy na Stoliku) odpowiadający temu punktowi na ziemi, przez który ma przechodzić linią równoległą, wyciągnij linią FD równoległą do AB : natenczas gdy wedle linii FD położysz prawidło, i podług ocznego promienia przechodzącego przez celowniki prawidła wytkniesz źerdziami linią; ta będzie równoległą do budynku.

§. 42. Z punktu C wyznaczonego na linii nieprzystępnej AB spuścić linią prostopadłą CX . (Tabl: 5. Fig: 54.)

1. Obrawszy podstawę FD , szukay podług §. 35. odległości punktów A, C, B ,

względem końców podstawy FD . 2. Z punktu C spuść na Stoliku linią prostopadłą CX iakieykolwiek długości, i koniec iey złącz z końcami podstawy liniami DX , FX . 3. Ustaw Stolik na iednym końcu obranęy podstawy, tak aby punkt F na Stoliku zgadzał się z punktem odpowiadającym sobie na ziemi, tudzież aby podstawa FD zgadzała się z podstawą na ziemi: toż przyłożywszy prawidło do linii FX , każ podług linii celowęy ustawić w ziemi dwie lub trzy laski w iakieykolwiek względem siebie odległości. Zrób toż samo na stanowisku D . 4. Naosratek wzdłuż lasek ustawionych w kierunku FX , każ przeciągnąc sznur ieden, drugi zaś podług lasek ustawionych w kierunku DX ; natenczas punkt przecięcia się sznurów iak tu X , będzie punktem od którego wyciągnięta linia do punktu danęgo C będzie prostopadłą żadaną.

§. 43. *Sposób wynalezienia różnych punktów znajdujących się w jednymże kierunku z końcami linii iakowęy: gdy w pośrodku iey znajdują się takie przeszkody, że od iednęgo końca do drugięgo widzieć nie można.*

1. (Tabl: 2. Fig: 27.) Na boku linii AB , o którą rzecz idzie, obrawszy sobie punkt

iniki C , z którego byś oba iéy końce mógł widzieć, szukay (podług przypadku pierwszego §. 25.) odległości końców téy linii względem punktu obranego C . Punkta wyznaczone a, b , złącz linią, i w jakimkolwiek iéy punkcie d utwierdź igłę; toż położywszy prawidło wedle igieł ustawionych na Stoliku w punktach c, d , każ, podług promienia ocznego cd przechodzącego przez celowniki prawidła, ustawić kilka lasek na gruncie. Naostatek od punktu C , odmierz sznurém na linii laskami wykniéty tylé miar, ilé linia cd na podziałce wymierzona zamyka części: tak będziesz miał wyznaczony punkt ieden D będący w kierunku z końcami danéy linii AB . Tym samym sposobém znajdziesz tylé innych punktów, ile będzie wyciągała potrzeba.

2. (Tabl: 2. Fig: 29.) Gdybyś nie mógł znaleźć takiego punktu, z którego by widzieć się dawały oba punkta A, B ; naténczas szukay punktu E , z którego byś mógł widzieć punkt A , i drugiego punktu C ; z którego byś widział punkt B i E . Potém podług sposobu 1go przypadku 3ciego §. 25. wyznacz względem tych punktów obranych odległość końców danéy linii AB . To gdy wykonasz punkta a, b złącz linią, i w którymkolwiek iéy punkcie d zatknąwszy igłę, połów prawidło wedle igieł c, d , a poglądaiąc przez celowniki tak położonego prawidła, każ

w kierunku cd , czyli CD , zatykać laski, aż przebieżysz długość na ziemi zamykającą w sobie tyle miar, ile linia stolikowa cd wymierzona na podziałce zawiera części, a tak punkt D , gdzie się zastanowisz, będzie się znajdował na linii przechodzący przez dwa dane punkta AB .

Spojrząwszy na figurę 55. Tabl. 5. łatwo zrozumieć można, iakby sobie postąpić należało, chcąc linią AB przedłużyć do D mimo zdarzających się przeszkody.

§. 44. *za pomocą Stolika Geometrycznego wytknąć linią prostą między dwoma punktami A i B , w czystym i otwartym polu położonemi, w takięz jednak odległości względem siebie zostającemi, iż od iednego do drugiego doyrzeć nie można.* (Tabl. 5.

Fig: 56.)

1. Szukay odległości dwóch punktów A, B , za pomocą ciągłych Trójkątów, to jest takich aby bok ieden każdego poprzedzającego Trójkąta służył za podstawę Trójkątowi następującemu, takie tu są Trójkąty ADC, CDE, ECF, FEB , tego najbardziej przestrzegając, aby wiezchołki A, B , dwóch ostatnich Trójkątów CAD, FBE , przypadały na punkta A i B , przez które linia prosta ma przechodzić. Trójkątów zaś tych większa lub mniejsza li-

czba zawisła od większey lub mniejszey odległości znajdujący się między dwoma punktami za końce linii wyznaczonemi. Stanowiska D, C, E, F , tak gdy to bydz może, obierané bydz powinny, aby boki Trójkątów przecinały nieiako linią AB .

2. Maiąc tym sposobém wykrésloną figurę $ACDEFB$, ustaw Stolik na iednym z punktów za końce linii wyznaczonych, tak aby *np.* na Stoliku punkt A , zgadzał się z punktem odpowiadającym sobie na ziemi, tudzież aby liniie AC, AD , znajdowały się w kierunku dwóch lasek, ustawionych na ziemi, w punktach odpowiadających dwóm punktom C i D , na Stoliku wyznaczonym. W tém położeniu przytwierdziwszy Stolik, poźóż na nim prawidłó wzdłuż linii AB , i poglądaiąc przez celowniki tak poźózonego prawidłá, każ podług linii celowéy utwierdzić na gruncie dwie, trzy, lub więcéy lasek: te będą znajdować się w iednéyże linii prostéy z dwoma punktami A, B , za końce linii wyznaczonemi: Potém zaś (podług przypadku 2. §. 1.) łatwo będziesz mógl wynaleźć tylé innych punktów będących w jednymże kierunku, tak z punktami A, B , iako téż z laskami dopiéro ustawionemi, ile tego będzie wyciągała potrzeba.



§. 45. Wyciągnąć granicę w linii prostej między dwoma miejscami, z których jedno od drugiego widzieć się nie daie, dla pośredniego między niemi lasu, gór, pagórków i t. d.

1. (Tabl: 2. Fig: 27.) Jeżeli oba punkta A, B , przez które ma przechodzić linia prosta z trzeciego jakiego miejsca C obok nich obranego, widziane być mogą; w tym razie, podług przypadku 1go, §. 25. wyznacz na Stoliku położenie punktów A, B , względem trzeciego miejsca C , i punkta wyznaczone jak tu a, b , złącz linią ab .

Potem, na jednym z punktów danych np: na A , ustawivszy Stolik w ten sposób, aby punkt a na Stoliku odpowiadał punktowi A na ziemi, i linia ac , zgadzała się z linią AC , połów prawidło wedle dwóch igieł utwierdzonych w punktach a, b , natenczas podług linii celowej przewidziona linia przez las, będzie linią prostej od A do B prowadzącą.

2. (Tabl: 2. Fig: 29.) Gdybyś miał trudność w obraniu takiego miejsca, z któregooby dwa punkta AB za końce linii wyznaczone widziane być mogły; natenczas szukałbyś ich odległości względem dwóch jakich obranych punktów E i C tak, jak wyłożyło się w sposobie pierwszym przypadku 3. §. 25. tak miałbyś na Stoliku czworokąt $aecb$ podobny czworokątowi na

ziemi $AECB$; zatem ustawiwszy Stolik np : na B , tak aby punkt b na Stoliku odpowiadał punktowi B na ziemi, a linia bc zgadzała się z linią BC ; gdy położysz prawidło na Stoliku wzdłuż linii ab , obaczysz przez celowniki każde drzewo, lub każdą inną przeszkodę, którą uprzętnąć potrzeba, aby punkt A od punktu B mógł być widziany.

3. (Tabl: 3. Fig: 31.) Jeżelibyś zaś ani pierwszym ani drugim sposobem nie mógł wyznaczyć na Stoliku położenia i odległości danych punktów AB , w tym razie do wyznaczenia ich użyłbyś sposobu wyłożonego w sposobie drugim przypadku 3ciego §. 25. a tak mając na Stoliku figurę $acae$, podobną figurze na ziemi $ACDEB$, ustawiłbyś Stolik na jednym z punktów danych np : na B w przyzwoitym kierunku, a położysz prawidło wzdłuż linii ba , widziałbyś każdą przeszkodę, którą uprzętnąć potrzeba, aby od jednego do drugiego z punktów danych widzieć można.



O przenoszeniu Granic, Gruntów, Miast, Wsi, Budynków i t. d.

§. 46. *Uwagi ogólne.*

O zwiedzeniu i przéryzeniu okolicy, której Mappa przedsiębierze się rysować.

Gdyby Maiętność, włość, albo klucz iaki, którego Mappa przedsiębierze się rysować, w takiem zostawał położeniu, iżby wszystkie znajdujące się w nim, a mające być umieszczone w rysunku szczególności, iedné od drugich łatwo przéryzane i widziane być mogły; natenczas wygotowanie Mappy włości takowey żadnych nie pociągałoby za sobą trudności, gdyż sposób §. 37. kilkakrotnie powtórzony przedsięwzięciu uczyniłby zadosyć.

Ale gdy powiększney części góry, lasy, krzewiny, ieziora, bagna i t. d. są na przeszkodzie wolnému wszystkich części przéryzeniu, a częstokroć takie zachodzą trudności, iż z wielkim mozołem od iedney części iuż zrysowaney przenieść się można do innych następných, aby ię złączyć z poprzedzaiącą; przeto przed rozpoczęciem wymiaru, naypiérwszą robotą być powinno, przybrawszy sobie kilkoro ludzi rozsądnych i maiętności dobrze świadomych, całą ią przéryzić i zwiedzić, wy-
pytując

pytując się z pilnością o granicę, miasta, miasteczka, wieś, folwarki, stawy, młyny, rzeki, rzeczki, strugi, bory, lasy, krzewiny, pola, sianożeńce, pastwiska, i tym podobne rzeczy do miasta, wsi lub klucza należące. Przez takowe poprzednicze a należyte przeyrzienie i zlustrowanie, ta wielka korzyść odnosi się, iż mając iakiékolwiek wyobrażenie porządku rozmaitych części, wieś lub klucz iaki składających, łatwo ciąg całkowitey roboty ułożyć sobie można, a tém samém przewidzieć wszystkie przeszkody, któreby nieprzeyrzane wiele pracy i czasu kosztować mogły.

Jeżeli okolica albo klucz przedsięwzięty do wymiaru jest tak obszerny i rozległy, iż dla oszczędzenia czasu i przyspieszenia roboty, w kilku robić Mapę potrzeba; należy umówić się między sobą, iaką który część na siebie bierze, tudzież wyznaczyć miéysca dwa lub jedno, do którego by wszyscy swé roboty ściągając, zéysdź się na nich mogli. Nadto wszystkie strony usilnie starać się mają o zgodność łańcuchów, igieł magnesowych, i jednostajność podziałek (*scala*), té bowiem rzeczy tak do wzajemného między sobą porozumienia się, iako téż do dokładności roboty bardzo wiele pomagają. /

Naostatek przy zwiedzaniu dowić się Jeometra od świadomych gruntu, którego

Mapę ma rysować, iak wielki byź może na dłuź, czy na mile? czy więkŝy albo mnieyszy? aby przybrał lub sporządził podziałkę przyzwoitą. I tak *np:* gdyby grunt był dłuży na mile, a chcielibyśmy go umieścić na iednym Stoliku albo arkuszu mającym oprócz ram czyli iak zowią marginesów, dłużości calów 15; natenczas rachuiąc podług X. Solskiego w mili naszey (lubo o ich dłużości nic nie mamy pewnego) łokci 15000, doszlibyśmy iż cal ieden taki iakich arkusz papieru zamyka 15, wyrównywać powinien 1000 łokciom, aby grunt ów na iednym arkuszu mógł byź umieszczony. Gdybyśmy zaś mile naszą średnie, brali za zbliżaiące się do Niemieckich, z których iedna zawiera 3808 sążni Francuzkich; w tym razie dłużość mili naszey wyrównywałaby 12572 łokciom naszym: zatém na ieden cal przypadałoby 838 łokci i calów 2.

Jeżeliby grunt był na półmili, natenczas łokciom 1000, albo w drugim razie łokciom 838 i cal: 2, można dać dwa cale, aby grunt półmilogy arkusz cały okrył. Na ćwierć mili arkusz papieru wystarczy, dawszy łokciom 1000 calów 3.

Jeżeli grunt przechodzi mile lepiéy iest na dwa arkusze rozłóżyć, aniżeli podziałkę zmnieyszać. Gdyż Mappa arkuszowa dwie mile gruntu zawieraiąca musiałaby byź bardzo szczupła i niewyraźna. Sło-

wém w umiarkowaniu podziałki tę istotną zachować potrzeba ostrożność, aby ta tém większa była, im drobniejsze są części Mappy przedsięwziętę do rysowania. Jako zaś podział miar używanych od Jeometrów jest dziesiątny, podług tego co się powiedziało w §. 2; tak i podziałka na takowóz części wydzielona bydź powinna: iakoto na Tablicy 10. widzieć się daie.

§. 47. *Uwagi szczególné.*

Względem obrania fundamentalnéj podstawy, tudzież względem utrzymania ciągłéj i nieprzerwanéj roboty.

1. Gdy przez poprzednicze a té pilné maiętności zwiedzenie i przepatrzenie, tak wielkość iéy całkowitą, iako téż położenie szczególnych składających ją części, iako tako myślą się obięło; naprzód na równym i od wszelkich przeszkód wolnym placu obiera się i wymiérza fundamentalna podstawa: której długość ma bydź proporcjonalna odległości przedmiotów najdalszych a widzialnych z końców téżé podstawy; która oraz takie położenie mieć powinna, aby z końców iéy, ile bydź może, iak naywięcéy przedmiotów dóyrzeć dawało się.

2. Skoro się długość wymierzonyéj podstawy wyznaczy w częściach wziętych z podziałki wzdłuż linii umyślnie do tego zry-

sowaney na Stoliku; ustawia się Stolik w przyzwoitym kierunku na iednym końcu obraney podstawy, a utwierdziwszy igłę w tym punkcie linii na Stoliku zrysowaney, który odpowiada punktowi na ziemi, gdzie Stolik jest ustawiony; wedle téy igły położoném prawidłem celuie się następnie do wszystkich przedmiotów, które albo do wydania figury cokolwiek przykładają się, albo napotém za widzialné główne punkta służyć mogą: słowem biorą się na cél wszystkie na około Stolika leżące, a z mieysca stanowiska widzialné by téż nayodlegléysze przedmioty, w nadziei, że ié na którym z następujących stanowisk przeciąć będzie można: za postrzeżeniem zaś každého z osobna przedmiotu, rysuie się na Stoliku, ołówkiem lub ostrzém nóżki cyrkla, liniia nieokreślony długości.

Aby się w rozmaitych liniach nie pomylić, té które napotém przydatné bydz mają, przeciągać potrzeba do saméy krawędzi Stolika. Takowé przedłużanie linii celowych przez cały Stolik, wtędy osobliwie jest przydatné i użyteczné, kiedy na następującém stanowisku do tych samych linii celowych prawidło przykładadź, i Stolik w kierunku poprzedzaiącego stanowiska ustawiać potrzeba: co się dokładniéy nierównie na długich, niżeli na krótkich liniach wykonywa.

Podobnież, aby wielość linii na Stoliku wykreślonych zamiészania iakiého nie stała się przyczyną, trzeba każdéy linii celowéy przypisać

nazwisko tego przedmiotu, do którego ona należy.

Jeżeli znajdują się jakie przedmioty bliżkie albo Stolika, albo podstawy, albo też iakowéy linii celowéy, natenczas położenie ich wyznacza się na Stoliku albo podług §. 26. albo też przez spuszczenie linii prostopadłych tak, iak się o zakrętach rzecznych mówiło §. 28.

Zdarza się częstokroć iż iedna linia celowa przechodzi razem przez kilka przedmiotów powinnych być umieszczonemi na Stoliku, co w działaniach Stolikiem iest wielce korzystne, iako oszczędzające pracy i zmniejszające liczbę linii mających się na Stoliku zrysować. Korzyść tę łatwo sobie zjednać można rozkazując pomocnikowi swému, podług kierunku prawidłą czyli celowéy linii, zatykać laski w tych punktach, które tego potrzebować będą.

3. Po wykonaniu pomienionych ostrożności na iednym końcu podstawy, jeżeli żadney nie masz przeszkody, aby ze Stolikiem stanąć w śródku, lub też na drugim końcu téyże podstawy; więc ustawwszy Stolik w przyzwoitym kierunku, odcina się podług przypadku pierwszego §. 35 znaczna część przedmiotów, do których z pierwszego stanowiska linie celowé były na stoliku naznaczone, reszta zaś do dalszych stanowisk odkłada się.

4. Gdy zaś okoliczności niedopuszczają obrac drugiego stanowiska na fundamentalnéy podstawie; w tym razie stanąć potrzeba ze Stolikiem na iednym z punktów, do których się iuż z pierwszego stanowiska

célowało: Jeżeliby zaś i z tych żaden nie był zdalny do obrania go za nowé stanowisko, iakoto: gdyby té punkta były budynki iakié, krzyże, figury, słupy, drzewa lub co podobného; w tym razie ustawia się Stolik na którykolwiek linii celowéy, od pierwszego stanowiska do iedného z pomienionych przedmiotów idący; punkt zaś stanowiska wyznacza się na Stoliku podług §. 33. i znowu wedle niégo kieruje się prawidło do wszystkich pod oko padających przedmiotów, odcinają się té, które z pierwszego stanowiska już były na cél wzięté, a reszta znaczy się tym czasem na Stoliku, w nadziei że potém przeciąć ie będzie można. Przed zyéściém zaś z tego stanowiska, wszystkie blisko leżące przedmioty znowu wyznaczają się na Stoliku podług §. 26.

5. Jakim sposobém drugie stanowisko było obrane, tak 3cie, 4te, 5te, i t. d. obrać należy: albo téż, skoro się już z pierwszego i drugiego wyznaczyło na Stoliku położenie niektórych znaczniejszych przedmiotów; można iakikolwiek do wolny i niewiadomy punkt za nowé stanowisko obrać, położenie iego na Stoliku podług §. 39. wyznaczyć, a wedle wyznaczoného punktu znowu do dalszych przedmiotów célować. Témi to sposobami, tylé się stanowisk obra, ilé ich, do zamknięcia figury i wyznaczenia znajdujących się w niéy dro-

bniejszych części, okoliczności wyciągać będą.

Ponieważ niepodobna jest liniami celowemi wyznaczyć na Stoliku położenie wszystkich ścian i załomków budynku, ogrodu, i t. d. dosyć więc będzie oznaczyć przez linie celowe położenie iednój iakiéj pryncypalnój ściany; inné zaś potrzeba łokciem lub laską na łokcie i cale wydzieloną pomierzyć, i do ściany przez linie celowé na Stoliku już wyznaczonój, przystósować czyli przystawić podług podziałki, pod temi samemi kątami iakié czynią na gruncie.

Krętość pagórków wyraża się na Mappie, przez przecięcie niektórych punktów położonych albo na samym grzbiecie pagórków, albo też przy ich brzegach, podług tego iak wygodniéjsze wypadnie działanie.

Ale gdy idzie o wyrażenie góry, téj i wierzchołek i brzegi oznaczyć potrzeba.

Koryto rzeki, strugi, potoku oznacza się albo podług §. 28. albo też z dwóch iakowych stanowisk przecinając znakomitsze brzegu zakręty. Gdy na rzece znajduje się wyspa, téj położenie wyznaczyć potrzeba, z dalszych stanowisk dwa końce wyspy przecinając.

Zakręty gościńców, dróg, ścieżek i t. d. wyznaczają się albo przez przecięcia, albo też podług §. 29. gdy się znajdują położone między wąwozami, górami i t. d. Napadłszy na bory, lasy, chrusty, cierniska lub inné iakié zarośle i gęstwiny, których przéyrzeć nie można; starać się należy, albo przez przecięcia z dalszych stanowisk, tyle wyznaczyć na ich obwodzie punktów, ilé do doskonałego oznaczenia całej ich figury potrzeba, albo też zbliżywszy się do nich wyrazić je podług §. 30. Idąli przez nie drogi?

lub w nich inné iakié uwagi godné rzeczy, znajduią się, których zewnątrz widziéć nie można; do nich się więc przebrać, i oné podług §. 29 na papier przenieść należy, iako się to już wyżej namieniło.

Co się powiedziało o wyrażeniu na Mappie figury lasów, toż samo zachować potrzeba względem stawów, jezior, brodów, błót, bagnisk, łągów i innych miéysc niedostępných i nieprzebytych.

Względem odmiany papieru na Stoliku, gdy się piérwszy arkusz całkowy zarobi.

Gdy się cały arkusz na Stoliku zarobi, a działanié na gruncie ieszcze niezakończoné zostało; naténczas zarobiony arkusz odrzyna się, i na iego miéyscé inny biały na Stoliku rozciąga się. Potém, na tén nowo naciągniony papier przenoszą się z poprzedzającego arkusza, za pomocą cyrkla, dwa albo trzy naydokładniéy wyznaczone przedmioty: ustawia się zaś Stolik albo na iednym z tych trzech przedmiotów, albo téż na iakimkolwiek dowolnym choć nieznaionym punkcie, z którégoby przedmioty owé widziéć dawały się; a wyznaczwszy na Stoliku położenié tego nowego stanowiska podług §. 33, albo §. 34. lub §. 39. postępuje się z dalszą robotą tak iak piérwéy. Gdy się tym sposobem kilka arkuszy zarobi, a té potém w jedno składać przychodzi; odrzyna się wszystek próżny papier przyległy owym punktom, które

z poprzedzającego arkusza na następujący przeniesione były: potem zaś punkta te, które na obóh arkuszach widzieć się daią, położywszy iedné na drugich i szpilkami ie przytwierdziwszy, skleiaią się oba arkusze: Tym samym sposobém i z innémi arkuszami postępować potrzeba.

Wzglédem przenoszenia wsi.

Ponieważ wsié, pospolicie z wielu składaią się ulic, ulice z rozmaitych zakrętów, zakręty zaś dla zasłaniających ie domów, budynków, parkanów, płotów, drzew, z obranych przed niemi stanowisk widzieć się nie daią, a zatém i przecinané bydź nie mogą; przeto obierz przed wsią takié miejsce, z którégoby znaczna część pryncypalnéy ulicy przez wieś lub obok wsi idący widziana i przéyrzana bydź mogła. W miéjscu obraném ustawiwszy Stolik, wykieruy prawidło w tę ulicę, naprzeciw którém Stolik iest ustawiony, i podług kierunku prawidła każ na ulicy iak można naydaléy ustawić żerdź: Potém od miejsca stanowiska aż do owéy żerdzi przeciągając sznur, spuszczaý nań (tak iak przy mierzéniu zakrętów rzecznych) liniie prostopadlé od przyległych budynków, parkanów, płotów, studzien i t. d. i tak sobie z owémi prostopadlémi postąp, iak się wyłożyło §. 28.

Przenies się potém na miejsce laski ustawionéy na drugim końcu celowéy linii:

gdzie ustawwszy Stolik w przyzwoitym kierunku, celuy prawidłém wzdłuż dalszhey ulicy, potém zaś od przyległych przedmiotów spuszczaż znowu tak iak piérwéy liniiie prostopadlé do sznura rozciągnioného w kierunku téy drugiéy linii celowéy. Ten sam sposób postępowania zachowasz póty, póki figura wszystkich ulic wykréslona nie będzie.

Potrzebali ieszcze podwórza, domy, stodoły, lub inné iakié wewnętrzne gospodarські obéyście składaiące budowle, na planie wyrazić; staray się z jednégo iakiégo stanowiska, celową linią na podwórze gospodarські przez wrota wypuścić, aby na niéy znowu stanąć, i wszystkie znaczniéysze przedmioty podług §. 26. na Stoliku zrysować można. Gdy się tym sposobém ulice na papier przeniosą, oznaczyć także potrzeba zewnętrzny wsie obwód, przy czém pospolicie niewielé trudności zachodzić zwykło, bo się iuż niektóre przeniesioné punkta zewsząd widzieć daią.

Wzglédém robienia planu Miast.

Jeżeli miasto, miasteczko przedsięwzięté do rozmiaru, położeniém domów i ulic regularną prawie składa figurę, tudzież ieszeli ma plac iaki publiczny iakoto np: rynek obszérny, z którého znaczniéysze zakręty miasta i pryncypalniéysze ulice widzié się daią; w tym razie naylepiéy iesz

rozpocząć działanie swoje od przeniesienia (podług §. 26.) na papier, tak placu rzeczonoego, iako téż wszystkich w granicach iego zawierających się przedmiotów. Szczególniey zaś starać się potrzeba o iak naydokładniéysze oznaczenie na Stoliku początków ulic, tak do placu przypiérających, iako téż z dalszemi częściami miasta komunikacją mających; tak albowiem będzie się miało na Stoliku wyznaczone położenie wielu punktów stałych, a tém samém założy się fundament obierania nowych stanowisk, do dalszey roboty drogę otwierających. Sposób ten w tenczas tylko wygodnie użyty bydz może, gdy plac o którym mowa, iest znacznie obszérny.

W ogólności zaś gdy idzie o rozmiar miasta; piérwszą robotą bydz ma, obrać albo w mieście samém, lub za miastém taką podstawę, aby z jéy końców iak naywięcéy wierzchołków wież i budynków wyniosłych, tudzież innych na wielu miéyscach widzialnych przedmiotów dóyrzec, i położenie ich podług §. 35. dało się na Stoliku wyznaczyć.

Skoro się tym sposobém kilka lub kilkanaście głównych i ze wszéch stron widzialnych przedmiotów na Stoliku wyznaczy; udadz się potrzeba ze Stolikiem wewnątrz miasta, dla oznaczenia iego ulic, rynków, placów na których domy stoią, ogrodów, studzien i t. d. Naprzód zaś sta-

ie się ze Stolikiem w takiem miejscu, z któregooby do iednéy, dwóch lub więcéy gdy to bydz może, znakomitszych ulic, wolny i otwarty był prospekt: tudzież, z któregooby dwa lub trzy wyznaczone iuż na Stoliku przedmioty widziane bydz mogły, i za pomocą ich, nowe stanowisko wyznacza się podług §. 39. Od tak wyznaczonego punktu stanowiska biorą się na cél wszystkie blisko leżące budynki, i przenoszą się na Stolik podług §. 26.

Jeżeli ulice do których z miéysca stanowiska otwarty iest prospekt, są równé, proste, i znaczną szerokość mając; należy albo w pośrodku iednéy z nich, albotéz, gdy tak się zdarzy, w pośrodku naybliższyć krzyżowéy drogi czyli ulicy, kazać ustawić żerdź, a wykiérowawszy do niéy prawidło, odległość iéy iak naydokładniéy wymiérzyć, i podług podziałki na Stoliku naznaczyć. Potém, dla zrysowania przyległych téy linii celowéy przedmiotów, potrzeba się wzdłuż iéy ze Stolikiem posuwać, na niéy różne pośrodknie stanowiska obiérac, i wszystkie poblizkié przedmioty podług §. 26 oznaczac, póki się nie dóydzie do drugiego końca téyże linii celowéy. Tam gdy na miéyscu żerdzi postawi się Stolik, celuie się naprzód ku żerdzi na piérwszém stanowisku ustawionéy, potém do wszystkich poblizszych przedmiotów, i znowu ie podług §. 26 na Stoliku oznacza się. Lecz kie-

dy ulice między dwoma stanowiskami są wąskie, krzywe i rozmaite mają zakręty; trzymać się należy tego, cośmy o przenoszeniu na papier wiosek powiedzieli. Podobnie gdy na planie obwody znaczniejszych budynków, iakie są Ratusz, Kościoły, Klasztory, pałace, kamienice, i t. d. wyrazić się mają, iako się pospolicie trafia; trzymać się potrzeba tego co się powiedziało §. 19. Można znakomitsze budowle przenosić naprzód na osobną kartę iako na raptularz, a z téy dopiéro, podług podziałki, na całkowitą przerysować Mappę: ale w tym razie potrzeba aby z poprzedzających działań wyznaczone już było na Mappie, położenie iakowéy pryncypalnéy ściany, do którójby inné osobno przeniesioné części bydź mogły przystawioné.

Względem rysowania plany iakiégokolwiek budynku.

Co się tycze planu budynku, w téy mierze rozmaite gatunki planów są używane. Piérwszy i nayprościéjszy sposób jest, kiedy tylko główny obwód oznacza się (iak Fig: 19. Tabl. 1.) Drugi, kiedy prócz obwodu, wyraża się ieszcze nakrycie czyli dach tak iak zwierzchu wygląda: Trzeci gdy cały podział gmachów, szerokość murów, drzwi, okien, i inné szczególności widziéć się daią. Przy

obóh ostatnich musi pierwszy zawsze poprzedzać, toiest zaraz z początku główny obwód podług §. 19. powinien być wyznaczony, z grubością magistralnych murów, odstępów okien, położeniem drzwi, z swoją szerokością i t. d. Szerokość magistralnych murów naydokładniéy wymierza się albo przy oknach, albo lepiéy ieszcze przy drzwiach walnych budynku. Jeżeli budynek iest regularny i przepiężenia pionowo na magistralné mury przypadają, a zatem pokoie są prostokątne; szerokość ich tylko i długość z grubością przepiężeń rozmiarzyć i na planie zrysować potrzeba: gdy zaś té nie prostych są kątów, wtenczas prócz wymierzonych czterech ścian pokoju, trzeba także wymierzyć i ich przekątne iako na Tabl: 1. Fig: 19. widzieć się daie. Prócz tego wszystkie ieszcze wyrznięcia w murach, iakoto: framugi, kominy, piece, kominki, miéyscé schodów i szerokość szczeblów wymierzyć i na papier przenieść należy.

§. 48. *Zażycie wymienionych szczególnych prawideł, przy rozmiarze wsi N: z ograniczeniem i wfszystkiemi szczególnosciami w niéy znajdującemi się. (Tabl: 6. Fig: 57.)*

1. Na rozległych po iednéy stronie wsi rozciągających się polach, obranc i wymie-

rzono znaczney długości fundamentalną podstawę BE : potem z różnych na téżę podstawie obieranych stanowisk B, C, D, E , starano się, naprzód podług §. 35. wyznaczyć na Stoliku położenie niektórych znajdujących się we wsi wyższych budynków, potem zaś z tychże samych stanowisk naznaczono iak naydokładniéy położenie i odległość dwóch znakomitéy długości i grubości lasek, albo raczéy słupków wkopanych pod pion w ziemię na miéjscach G, H , tym końcém, aby na stanowiskach odlegléyszich od fundamentalnéy podstawy, ustawianie Stolika mogło bydz do owych zewsząd widzialnych słupków czyli lasek stosowané.

2. Założywszy takowé fundaménta dalszéy roboty; od końca B fundamentalnéy podstawy wyciągnięto dwie inné podstawy BQ, BA , rozciągającé się wzdłuż ścian granicznych, które tu okrągławémi kropkami są oznaczoné. Ze zaś obiedwie pomienioné podstawy wybaczały nieco za prawdziwe granice, przéto albo wzdłuż owych podstaw rozciągano sznur, i nań od znaczniejszych zakrętów spuszczano liniie prostopadłe, tak iak mówiło się §. 28. o przenoszeniu biegu rzeki; albo téż położenie tychże granicznych załomków oznaczało się na Stoliku podług §. 26. przez linié celowé wypuszczané od obydwóch końców każdéy obranéy podstawy. Też sa-

me sposoby postępowania zachowano zawsze względem innych następnie obieranych podstaw, które za prawdziwe ściany graniczne wypadły. Lubo zaś dla uniknienia zamieszania, nie masz tu wyraźnych linii prostopadłych; wszakże każdy łatwo je sobie wyobrazić może, pamiętając na to co się powiedziało §. 28. o wymiarze biegu rzeki.

3. Ze stanowiska B udano się na A , od tego zaś, podług §. 28. postępując prawym brzegiem rzeki, doszło się do punktu y , który złączysz linią yE z drugim końcem fundamentalnej podstawy, dopełniono na Stoliku części pierwszej zawartej między brzegiem rzeki i fundamentalną podstawą.

4. Doszedłszy do stanowiska E , rozpoczęto od niego rysowanie dalszych ścian granicznych, przez obieranie podstawy EL , LM , MN . Potem po uczynionem wyboczeniu na stanowiska G, f , dla oznaczenia koryta strugi, iako też figury przyległego bagna, zawarta została na Stoliku część druga GL .

Od G , powracając do ścian granicznych, przez obieranie ciągłe podstawy GO , OP , PH , dokończyła się część trzecia GP , gdyż położenie linii GH wyznaczone już było na Stoliku ze stanowisk B, C, D, E , obieranych na fundamentalnej podstawie BE . Ponieważ zaś załomek Q , był także już
nazna-

naznaczony na Stoliku ze stanowiska B , przeto gdy pomieniony załomek złączono linią z punktem H , dopełniła się $4ta$ a ta nayznakomitsza część BG .

Na każdym stanowisku odlegléyszém od fundamentalnéy podstawy na to zawsze szczególniéyszą bacznosc miano: aby iak nayczęściéy doświadczać położenia punktów z każdego stanowiska widzialnych, a na Stoliku już wyznaczonych. Co aby wykonać, trzeba pomnieć na to co się powiedziało §. 37. *Nro 5to.* Prócz tego po zakończonéy naywiększéy części BG , prze-miérzono na gruncie łańcuchém dwie poprzeczne linie znaczniéyszéy długości BG , GP : z których obiedwie, gdy kilku tylko calami różniły się od linii odpowiadających podług podziałki wymierzonych, uchybienie tak małe za dostateczną robotę poczytané zostało.

Dwa dopiéro wyłożoné sposoby doświadczenia na gruncie roboty, są naydokładniéyszé, i im częściéy powtarzané będą, tém większą dokładność zrobionéy Mappie obiecuja.

5. Dla wymiérzenia ostatniéy ze wszéch prawie stron rzeką oblanéy części, przeprawiwszy się na drugą stronę rzeki, szukano takiego miéysca S , z któregoby punkta K , A na Stoliku już wyznaczoné widziane bydz mogły. Tam tedy po ustawieniu Stolika według kierunku magne-

sowéy igiełki, naprzód punkt stanowiska naznaczono na Stoliku podług §. 33, potém zaś z obóh końców nowéy podstawy SR , przecinané były podług §. 35 laski ustawioné w załomkach m, m, m , do łąki i rzeki należących.

Nadto ze stanowiska R , wzięta była na cel iedna laska na granicy w miéyscu T , i druga na U , z drugiéy strony rzeki ustawiona. Potém po wymiérzonéy odległości RT , przeniesiono Stolik na T , a od T na U , skąd wzięwszy na cel laskę ustawioną na V , przecięła się na Stoliku linia RV ze stanowiska R do teyże laski V zrysowana: a tak wyznaczyło się na Stoliku położenie punktu V leżącego z drugiey strony rzeki, który mógł służyć za nowé stanowisko, gdyż linia UV , dla pośrzedniey rzeki łańcuchém miérzona bydz nie mogła.

Od tego więc punktu V , postępując podług §. 28, podstawami VW, WX, XY, YZ, ZA dopełniono wymiaru lewego brzegu rzeki, gdy prawy dla krzaków i hauszczów był nieprzystępny, a oraz dokonczono Mappy wsi przedsięwziętęy do wymiaru.

ROZDZIAŁ III.

Użycie Trygonometrii w rozmiarach i robieniu Mapp.

Trygonometria jest część Geometrii, która podaje sposoby wyrachowania trzech części z sześciu Trójkąta prostokątnego, przy pomocy trzech innych wiadomych części, gdy między trzema wiadomymi jedna przynajmniej jest bokiem tegoż Trójkąta.

Nie będziemy tu bawić się wykładaniem fundamentów na których się Trygonometria zasadza, bo to nie jest roboty naszej zamiar, podamy tylko sposoby obrachowania Trójkątów w rozmaitych przypadkach, od których, iakoto potem da się widzieć, zawisło ułatwienie wszelkich działań przedsięwziętych na gruncie.

I.

O praktycznym obrachunku Trójkątów.

§. 49. *Prawidła ogólne rozwiązania czyli obrachowania Trójkątów Prostokątnych.*

Powiedzieliśmy wyżej, że do obrachowania Trójkąta, trzeba mieć trzy części wiadome, z pomiędzy sześciu, które go składają, i że między trzema wiadomymi rzeczami, przynajmniej jeden bok znaydować się powinien.

Ponieważ kąt prosty jest kątem wiadomym, to jest zamyka 90° ; przeto w Trójkątach prostokątnych, dosyć jest wiedzieć dwie rzeczy oprócz kąta prostego; lecz trzeba żeby jedna przynajmniej z tych dwóch rzeczy była bokiem. Do tego uważać potrzeba, że ponieważ dwa kąty ostre Trójkąta prostokątnego razem wzięte czynią kąt jeden prosty, więc gdy jeden z nich mamy wiadomy, tém samym będziemy mieli i drugi, gdy ważność tamtego odémiemy od 90° .

Nastatek i na to ieszcze pomnieć należy, iż w Trójkącie prostokątnym wzięwszy za promień przeciwprostokątną; natenczas każde ramię kąta prostego staie się wstawą kąta przeciwległego sobie, iezeli

zaś weźmiemy za promień jedno ramię kąta prostego, w tym razie bok drugi staie się styczną kąta przeciwnego sobie, a przeciwprostokątna sieczną tegoż kąta.

Rozwiązanie Trójkątów prostokątnych ma cztery przypadki, toiest: z dwóch rzeczy wiadomych, są: *naprzód albo przeciwprostokątna i jeden kąt ostry; 2re, albo przeciwprostokątna i jedno ramię kąta prostego; 3cie, albo jedno ramię kąta prostego i jeden z kątów ostrych; 4te, albo naostatek dwa ramiona czyniące kąt prosty.* Wszystkie zaś té przypadki zawsze rozwiązane bydz mogą przez dwie następujące proporcye.

Proporcya pierwsza służąca na tén przypadek, w którym prócz kąta prostego mamy wiadomą przeciwprostokątną i jeden z kątów ostrych; albo téż wiadomą przeciwprostokątną i jedno ramię kąta prostego; iest następująca: *Promień czyli wstawa cała, tak się ma do wstawy iednego z kątów ostrych, iak przeciwprostokątna do boku temuż kątowi ostrému przeciwległego.*

Podobnież mając wiadomą przeciwprostokątną i jedno z ramion kąta prostego, a chcąc znaleźć ważność kąta przeciwległego temuż ramieniowi; téy saméy użyć należy proporcyi, tylko sposobem odwrotnym, toiest: *Przeciwprostokątna ma się do wstawy całej; iak bok czyli ramię wiadome, ma się do kąta położonego naprzeciw tegoż ramienia wiadomego.*

Proporcya druga służyca na ten przypadek, w którym prócz kąta prostego, iest wiadome iedno ramię tegoż kąta i kąt ostry przyległy temuż ramięniowi, albo téż naprzeciw niego położony, który tamtego iest zawsze dopełnieniem do 90° ; iest następująca: *Promień, ma się do styczney; iak bok czyli ramię dané, ma się do boku drugiego czyniącego kąt prosty.*

Taż sama proporcya tylko sposobem odwrotnym służy na tén przypadek, w którym prócz kąta prostego wiadome są dwa ramiona ténże kąt czyniącé, toiest: *Jedno ramię wiadome ma się do drugiego ramienia także wiadomego; iak promień ma się do styczney kąta przeciwległego bokowi wziętemu za promień.*

Dwie té proporcye są dostateczne, do rozwiązania wszystkich przypadków tyczących się Trójkątów prostokątnych.

§. 50. *Przykłady obrachowania Trójkątów prostokątnych. (Tabl. 7. na Figurze 69, bierze się ieden Trójkąt MsF.)*

PRZYPADEK PIERWSZY.

Mając wiadomą w Trójkącie prostokątnym MsF, przeciwprostokątną MF = 480, i kąt M = $38^\circ 47'$, znaleźć dwa inne boki Ms, sF, czyniącé kąt prosty.

Ponieważ kąt M zamyka w sobie $38^{\circ}47'$,
zatem kąt F , jako dopełniający tamten do
 90° , zamykać będzie $51^{\circ}13'$: to założy-
wszy ułoż następującą proporcją: *Promień*
czyli *Wstawa cała* tak się ma do *Wstawy*
kąta M , albo kąta F ; iak *przeciwprostokąt-
na* MF , do boku Fs , albo Ms .

Czyli. $Prom. : Wst. M :: MF : Fs.$
 $Prom. : Wst. F :: MF : Ms.$

Działanie przez Logarytmy.

1mo. $2,681241 = \log: 480.$
 $9,796836 = \log: wst: 38^{\circ}, 47'.$

 $2,478077 = Fs = 300, 46'.$

2do. $2,681241.$
 $9,891827 = \log: wst: 51^{\circ}, 13'.$

 $2,573068 = \log: Ms = 374, 2'.$

PRZYPADEK DRUGI.

Mając wiadomą przeciwprostokątną MF
 $= 750$, *i jedno kąta prostego ramię* $Ms =$
 645 , *wyrachować* 1° . kąt F , 2° . kąt M ,
 3° . bok trzeci Fs .

Ułoż następującą proporcją: *Przeciw-
prostokątna* MF tak się ma do boku Ms ; iak
promień czyli *wstawa cała* ma się do *wsta-
wy* kąta F ; czyli $MF : Ms :: Prom. : Wst.$
 F . Dla wyznaczenia zaś boku Fs użyjesz
proporcji przypadku pierwszego.

Działanie przez Logarytmy.

$$2,809560 = \log: 645.$$

$$7,124939 = \log: \text{dop: aryt: } 750.$$

$$9,934499 = \log: \text{wst: } F = 59^{\circ}, 19'.$$

Będzie zatem 1° , kąt $F = 59^{\circ}, 19'$, a kąt $M = 30^{\circ}, 41'$. Abyś doszedł wartości boku Fs , ułóż proporcją, *Prom. : Wst: $30^{\circ}, 41' :: MF, Fs$* , albo przez Logarytmy:

$$9,707819 = \log: \text{wst: } 30^{\circ} 41'.$$

$$2,875061 = \log: MF, \text{ albo } 750.$$

$$2,582880 = \log: FS = 382.$$

PRZYPADEK TRZECI.

Mając wiadome jedno ramię kąta prostego, i kąt jeden ostry temuż ramięniowi przyległy, albo naprzeciw niego położony, iak np: ramię $Ms = 584$, kąt $M = 39^{\circ}, 52'$; wyrachować ramię drugie Fs i przecinprostokątną MF .

Ponieważ dwa kąty ostre Trójkąta prostokątnego razem wzięte czynią jeden kąt prosty, kąt zaś $M = 39^{\circ} 52'$, zatem kąt $F = 90^{\circ} - 39^{\circ} 52' = 50^{\circ} 8'$, ułożysz więc następującą proporcją: *Wstawa $50^{\circ}, 8'$, ma się do Wstawy $39^{\circ}, 52'$; iak bok Ms , do boku Fs . Powtóre: Wstawa kąta F ma się do boku Ms ; iak promień do przecinprostokątnej MF .*

Działanie przez Logarytmy.

1mo. $2,766413 = \log: 584.$
 $9,806860 = \log: \text{wst}: 39^\circ 52'.$
 $0,114900 = \text{dop}: \text{aryt}: \log: \text{wst}: 50^\circ 8'.$

 $2,688173 = \log: FS = 487.$

2da. $2,766413 = \log: 584.$
 $0,114900 = \text{dop}: \text{aryt}: \log: \text{wst}: 50^\circ 8'.$

 $2,881313 = MF = 760.$

Wziąwszy za promień bok dany Ms , natenczas bok Fs byłby styczną kąta danego M , przeto ten sam przypadek możnaby ułatwić podług następującej proporcji: Jak się ma Promień do Stycznej $39^\circ 52'$; tak Ms do Fs , a przez Logarytmy;

$2,766413 = \log: 584.$
 $9,921760 = \log: \text{stycz}: 39^\circ 52'.$

 $2,688173 = \log: s^F = \log: 487.$

PRZYPADEK CZWARTY.

W Trójkącie prostokątnym mając wiadome dwa ramiona czyniące kąt prosty, iedno $Ms = 895$, drugie $Fs = 769$, wyrachować 1mo kąty ostre M i F , 2do przeciwprostokątną MF .

Wziąwszy ieden z boków wiadomych za promień, natenczas drugi bok wiadomy będzie styczną kąta przeciwległego sobie,

albo dostyczną kąta przeciwległego bokowi wziętemu za promień. Będziesz więc miał następującą proporcją: *Jak się ma 895 czyli Ms do 769 czyli Fs; tak się ma promień do styczney kąta M, albo do dostycznej kąta F: zaś przez Logarytmy,*

$$2,885926 = \text{log: } 769.$$

$$\underline{7,048177} = \text{dop: aryt: log: } 895.$$

$$9,934103 = \text{log: styczn: } M = 40^{\circ} 40' 11''.$$

Dla wyrachowania przeciwprostokątny *MF* użyjesz proporcji przypadku pierwszego, toiest: *Wstawa* $40^{\circ} 40' 11''$, *tak się ma do Fs (769) iak promień do MF, a przez Logarytmy:*

$$2,885926 = \text{log: } 769.$$

$$\underline{0,185954} = \text{dop: aryt: log: wst: } 40^{\circ} 40' 11''.$$

$$3,071880 = \text{log: } MF \text{ lub log: } 1180.$$

§. 51. *Prawidła ogólné rozwiązanía Trójkątów ukośnokątnych, czyli nie mających kąta prostego.*

Rozwiązanie Trójkątów ukośnokątnych także do czterech następujących ściąga się przypadków, toiest: z trzech rzeczy wiadomych, są: albo wiadomé dwa kąty i ieden bok; albo dwa boki i ieden kąt na przeciwko iednego z wiadomych boków położony; albo wiadomé dwa boki z kątem mie-

dzy niemi zawartym; albo naostaték wiadomé trzy boki Trójkąta.

Do rozwiązania pierwszego przypadku służy następująca proporcya: *Wstawa kąta położonego naprzeciw bokowi wiadomému, ma się do wstawy kąta położonego naprzeciw bokowi którego wartości szukamy; iak bok wiadomy do boku szukanego.* Taż sama proporcya służy i na przypadek drugi tylko sposobem odwrotnym, toiest: *Bok leżący naprzeciw kątomu wiadomému ma się do drugiego boku wiadomego; iak wstawa kąta wiadomego, do wstawy kąta położonego na przeciw drugiemu bokowi wiadomému.*

Do rozwiązania przypadku trzeciego służy następująca proporcya: *Summa dwóch boków wiadomych ma się do ich różnicy; iak styczná połowy summy dwóch kątów na przeciw tym bokom położonych, do styczney połowy ich różnicy.*

Mając z założenia wiadomy kąt ieden zawarty między dwoma bokami także wiadomými, znajdziesz summę dwóch innych kątów niewiadomych; odjąwszy kąt wiadomy od 180° . Przero wzięwszy połowę reszty wynikającej z takowego odjęcia, i szukając w Tablicach Styczney odpowiadający tym stopnióm, mieć będziesz na proporcya dopiero wyrażoną, trzy wyrazy wiadomé, toiest: summę dwóch boków wiadomych, ich różnicę, i styczną połowy

summy kątów niewiadomych, więc czwartym wyraz łatwo wyrachujesz, a ten pokaże ci połowę różnicy dwóch kątów niewiadomych. Natenczas mając wiadomą połowę summy i połowę różnicy kątów szukanych, znajdziesz większy z nich, dodając połowę summy do połowy różnicy; a mniejszy mieć będziesz, odęmując połowę różnicy od połowy summy. Któryby zaś z dwóch kątów szukanych był większy a który mniejszy, łatwo poznać można pamiętając na to; iż na przeciwko boku większego leży kąt większy, na przeciwko mniejszego mniejszy.

Naostatek aby rozwiązać ten przypadek, w którym z wiadomych trzech boków Trójkąta, kątów jego dochodzić potrzeba; natenczas od wierzchołka Trójkąta spuściwszy prostopadłą na podstawę; następująca układa się proporcya: *Podstawa Trójkąta ma się do summy dwóch boków jego; iak różnica tychże boków, do różnicy odcinków podstawy zrobionych przez prostopadłą.*

§. 52. *Przykłady obrachowania Trójkątów ukośnokątnych. (Tabl. 7. na Figurze 68, bierze się ieden Trójkąt MKD.)*

PRZYPADEK PIERWSZY.

W Trójkącie MKD, mając wiadomy bok

ieden $MD = 2850$ i dwa kąty témuz bokowi przyległe, ieden $D = 38^\circ 24'$, a drugi $M = 49^\circ 52'$; wyrachować dwa inne boki MK , DK .

Summę dwóch kątów wiadomych D i M , odeymy od 180° , reszta pozostała $91^\circ 44'$ będzie ważnością kąta trzeciego K . Teraz dla wynalezienia boków MK , KD , ułóż następującą proporcją:

$$Wst. K: MD :: Wst. D: KM.$$

$$Wst. K: MD :: Wst. M: DK.$$

Czyli $Wst. 91^\circ 44': 2850 :: Wst. 38^\circ 24': KM.$
 $Wst. 91^\circ 44': 2850 :: Wst. 49^\circ 52': DK.$

Działając przez Logarytmy, aby mieć wstawę kąta $D = 91^\circ 44'$, trzeba szukać wstawy spełnienia do 180° , toiest szukać trzeba wstawy $88^\circ 16'$.

Działanie przez Logarytmy.

1mo. $3,454845 = \log: 2850.$
 $9,793195 = \log: wst: 38^\circ 24'.$
 $0,000199 = \text{dop: aryt. log: wst: } 88^\circ 16'.$

 $3,248239 = \log KM = 1771.$

2do. $3,454845.$
 $9,883404 = \log: wst: 49^\circ 52'.$
 $0,000199.$

 $3,338448 = KD = 2180.$

PRZYPADEK DRUGI.

Mając wiadome dwa boki KM, KD , i jeden kąt D na przeciwko jednego z tych boków położony; znaleźć inne kąty i bok trzeciego. Niech będzie kąt $D = 38^{\circ} 45'$ bok $KD = 2640$, bok zaś KM przeciwległy kątowi danemu niech ma 2486.

Chcąc naprzód wyrachować kąt M ułoż następującą proporcją, $KM: \text{wst. } 38^{\circ} 45' :: KD: \text{wst. } M$: działając przez Logarytmy mieć będziesz:

$$3,421604 = \log: 2640. \text{ lub } \log: DK.$$

$$9,796521 = \log: \text{wst. } 38^{\circ} 45'.$$

$$6,604499 = \text{dop: ar: } \log: 2486. \text{ lub } KM.$$

Sum: 9,822624.

która jest Logarytmem Wst. M , lecz ponieważ ta sama wstawa zarówno należy do kąta ostręgo, i roztwartęgo spełniającego tamten do 180° ; a w warunkach zadania nic nam nie pokazuje, jeżeli kąt M jest ostry albo roztwarty; przeto za wartość kąta M , możnaby wziąć w tablicy $41^{\circ}, 39', 33''$, które odpowiadają wynalezionemu logarytmowi, niemnięj iak spełnienie jego $138^{\circ}, 20', 27''$. Lecz daymy iż nam jest skąd inąd wiadomo, że kąt M jest ostry, natęczas trzeba wziąć $41^{\circ}, 39', 33''$, trzeci zatem kąt K miałby $99^{\circ}, 35', 27''$, częgo dóydziesz odciągając sumę kątów M i D od 180° .

Teraz dla wyrachowania boku MD użyjesz proporcji przypadku pierwszego, *wst.* $38^{\circ} 45'$: KM :: *wst.* $99^{\circ} 35' 27''$: MD ; więc przez Logarytmy:

$$3,395501 = \text{lo: } KM.$$

$$7,993887 = \text{log: } \textit{wst. } 99^{\circ} 35' 27''.$$

$$0,203479 = \text{dop: } \textit{aryt: } \textit{wst. } 38^{\circ} 45'.$$

$$1,592867 = \text{log: } 3416 = DM.$$

PRZYPADEK TRZECI.

Maiąc wiadome dwa boki MD, DK, z kątem D między niemi zawartym; znaleźć dwa inne kąty i bok trzeci.

Daymy że kąt $D = 48^{\circ}$, bok $DM = 142$, bok $DK = 120$. Naprzód kąt wiadomy 48° odeymiy od 180° , reszta pozostała 132° będzie summą dwóch kątów M i K , zatém połowa ich będzie 66° . Teraz ułóż następującą proporcją: *Summa dwóch boków wiadomych toiest: 262, ma się do różnicy tychże boków która iest 22; jak styczną 66° , toiest styczną połowy summy kątów M i K , do styczney połowy różnicy tychże kątów; albo:*

$$262 : 22 :: \textit{stycz. } 66^{\circ} : \textit{stycz. } K - M$$

Działanie przez Logarytmy.

$$10,3514169 = \text{log: stycz. } 66^\circ.$$

$$1,3424227 = \text{log: } 22$$

$$7,5816987 = \text{dop: aryt: log: } 262.$$

Summa 9,2755383.

A ta jest Logarytmém stycznéy, połowy różnicy, któremu w tablicach odpowiada ią $10^\circ 41'$. Tę połowę różnicy gdy dodasz do połowy summy, to jest $66^\circ + 10^\circ 41'$ będzieś miał ważność kąta większego $K = 76^\circ 41'$: gdy zaś od téży połowy summy 66° odeymiész téż połowę różnicy $10^\circ 41'$, reszta pozostała $55^\circ 19'$ okaże ważność kąta drugiego M .

Mając tym sposobém wiadomé trzy kąty i dwa boki Trójkąta, dóydziesz boku MK podług następującej proporeyi:

$$\text{Wst. } M : \text{Wst. } D : : DK : MK.$$

Dokonawszy roboty znajdziész wartość boku $MK = 108$.

PRZYPADEK CZWARTY.

(*Tabl: 8. Fig: 77.*)

Mając wiadomy bok AB 84, bok AC 108, bok CB 120, jest zadano wyrachować ważność kątów A, C, B .

Naprzód od wierzchołka Trójkąta spuść prostopadłą CD na podstawę AB , która tym sposobém podzieli się na dwa odcinki AD, BD ;

AD, DB ; potem ułóż następującą proporcją: Podstawa AB ma się do summy dwóch boków wiadomych AC, BC ; iak różnica tychże boków ma się do różnicy odcinków AD, DB , zrobionych przez prostopadłą CD . Czyli $84 : 228 :: 12 : DB - DA$. Dokonawszy proporcji wypadnie różnica odcinków, toiest $DB - DA = 39 \frac{20}{21}$. Ponieważ zaś summa odcinków czyli bok AB iest 84, przeto do połowy téy summy, toiest do 42, przydawszy połowę różnicy; będziesz miał odcinek większy $DB = 61 \frac{41}{42}$, gdy zaś od połowy summy odéymiesz połowę różnicy będziesz miał odcinek mniejszy $AD = 22 \frac{1}{42}$.

Wtén sposób doszedłszy odcinków, masz w obydwóch Trójkątach prostokątnych ADC, BDC wiadomą przeciwprostokątną i jedno ramię kąta prostego: łatwo zatem podług przypadku drugiego §. 50. wyrachujesz ważność kątów ostrych A, B , a tém samém mieć będziesz wiadomy i kąt trzeci C , bo téń iest spełnieniem tamtych do 180° .

II.

§. 53. O Kątomiarze (*Graphometrum*)
i sprawdzeniu podziałów iego.

1. Do wymiaru na gruncie kątów potrzebnych do działań Trygonometrycznych, używa się narzędzia zwanego Kątomiar *Astrolabium, Graphometrum, Goniometricum*, który właściwie nic innego iest, tylko łuk z mosiądzu podzielony na stopnie, półstopnie, a czasém ćwierci sto-

pnia, i już całe koło, już półkoła, już ćwierć koła zajmuje: promień także jego już większy już mniejszy być może, podług mniejszy lub większy dokładności który kto wyciąga. Do zwyczajnych atoli pomiarów ćwierć kole, czyli jak zowią Cwieriokrąg (Quadrans), mający promień na stopę długi jest najwygodniejszy, iako niezbyt wielki, a dosyć wyraźny podział mieć mogący. Nie bawiliśmy się nad obszernym opisaniem pomienionych narzędzi i sztuk do nichże należących, bo samo weyżnienie na nie, dopieroż używanie skuteczniejszy je poznać da, niż opis choćby najrościągły: o tém tylko przestzedz należy, iż Kątomierz najwygodniejszy są té, które zamiast prostych celowników są opatrzone dwoma perspektywami. Perspektywa należąca do promienia zerowego, jest témż promieniowi równoległa, druga zaś przytwierdzona na prawidło ruchomém wraz z niem obracać się może, i kilku stopniami wwyż lub nadół pochylać, aby przy poziomém ustawieniu, narzędzia można było podnieść ją lub zniżyć, dla postrzeżenia podniesionych lub téż zniżonych przedmiotów co w działaniach na gruncie jest wielce wygodne, gdyż wiele na tém zawisło, aby Kątomierz był zawsze ustawiony poziennie, a długa i nudna robota, chcieć przywieść do iednej płaszczyzny kąty na różnych płaszczyznach uważané.

2. Mając tém narzędziem wyznaczyć kąt między dwoma iakowými przedmiotami zawarty; tak trzeba ustawić narzędzie, aby prawidło nieruchomé na ręce prawey, a ruchomé na lewey zostawało, szrodek zaś narzędzia wierzchołkowi kąta mającego się wymierzać pionowo odpowiadał, co łatwo otrzymuje się za pomocą pionu czyli iak zowią wagi w pośrodku narzę-

dzia zawieszonéy. Wykierowawszy nieruchomé prawidło ku iednému iakiému przedmiotowi, ruchomém póty obracać potrzeba, aż celowniki iego na drugi przedmiot przypadną: natenczas łuk kątomiaru między tak wykierowanými prawidłami zawarty będzie miarą kąta szukaného.

3. Nader rzadko trafia się, aby Kątomiar był tak dokładnie zrobiony, iżby natychmiast do pomiaru kątów z wszelką pewnością mógł być użyty: a chociażby nawet w samém istocie dokładnie był zrobiony, może jednak z czasem iakowa w nim zayść odmiana, która do przynależytego kątów pomiaru będzie na przeszkodzie. Potrzeba więc koniecznie wprzód dowiedzieć się o błędach z przyczyny niedokładności kątomiaru wyniknąć mogących, toiest: potrzeba doświadczyć regularności, lub też niedokładności podziałów znajdujących się na kątomiarze: Sprawdzenie to wykonasz w sposób następujący.

(Tabl. 6. Fig. 58.) 1. Na obszernym, równym i od wszelkich przeszkód wolnym placu wytknij, a potem iak naydokładniéy odmierz linią prostą CA , tak długą iak tylko obszerność placu pozwoli, i od iednego téy linii końca np : A wyciągnij linią prostopadłą AB , także znakomitey długości. 2. Podług przypadku 3. §. 50. dóydz przez rachunek wielkości boków A_1, A_2, A_3, A_4 przeciwnych kątów, AC_1, AC_2, AC_3, AC_4 , z którychby piérwszy był np : o stopniach 5, drugi o 10, trzeci o 15 i t. d. długość zaś każdego boku wyrachowanego odmierzysz na linii prostéy AB , toiest: piérwszy wyznaczysz od A do 1, drugi od A do 2, trzeci od A do 3, czwarty od A do 4, tudzież końce 1. 2. 3. 4. tychże boków zaznaczysz ustawionými w tychże mieyscach laska-

mi. 3. To wykonawszy ustaw Kątomiar poziomo nad punktem C w tén sposób, aby szrodek iego iak naydokładniéy odpowiadał temuż punktowi C , potém wykierowawszy nieruchomé prawidło ku lasce ustawionéy na A , i w tém położeniu przytwierdziwszy Kątomiar szrubą na którécy się obraca; naprowadź prawidło ruchomé na taką liczbę stopniów kątomiaru, iaką dałes był ważność pierwszemu kątowi AC_1 , iak tu naprowadziłbyś go na stopni 5, potém zaś naprowadziłbyś następnie téż ruchomé prawidło na 10° , 15° , i t. d. za każdém naprowadzeniem prawidła poglądając przez celowniki iego. Jeżeli w pierwszym razie promień oczny przypadnie na laskę ustawioną na 1, w drugim na 2, w trzecim na 3, i t. d. będzie to dowodem dobrego podziału: inaczéy zapisałbyś w umyślnie przygotowanéy na to Tablicy, tę liczbę minut lub stopni, którémiby podziały Kątomiaru niedorównywały lub przewyższały ważność kątów uformowanych na ziemi: i podług tak ułożonéy tablicy sprawdzałbyś kąty przy iakimkolwiek pomiarze wyznaczoné.

Ponieważ zaś linie celowé C_1 , C_2 , i t. d. przy powiększających się kątach coraz bardziéy oddalają się od A , a tém samém linia AB do zbyt wielkiéy przyśdź musiałaby długości; dosyć więc będzie zrobić ją tak długą, aby się na niéy mógł odmierzyć bok odpowiadający stopniom 30, a wyprobowawszy wszystkich kątów mniejszych od 30° , potrzeba Kątomiar tak nakręcić, aby celowniki prawidła ruchomégo naprowadzonégo na podział 30° przypadły na żerdź ustawioną na A , w którém położeniu utwierdziwszy Kątomiar, potrzeba tym samym co piérwéy sposobém doświadczać kątów zawartych między podziałem 30° i 60° : potém zaś podział 60° ustawi-

wszy w kierunku CA , doświadczając kątów zawartych między 60° i 90° , i tak dalej postępować póki się do ostatniego podziału nie przyjdzie.

III.

Wymiar odległości, wyciąganie linii prostopadłych, równoległych, tudzież sposoby wynaydywania różnych punktów kierunku, gdy się znajdują takie przeszkody, że od iednego punktu do drugiego widzieć nie można.

§. 54. *Zmierzyć odległość dwóch mieysc a, C , z których iedno tylko: a jest dostępne. (Tabl: 4. Fig: 36.)*

Przestroga. Ponieważ większa część tych Figur, na których wykładała się robota Stolikiem, użyta będzie do działań Trygonometrycznych: dobrze na to pomnieć należy, iż ile razy na onych Figurach wspominać się będzie o małych literach a i b zawsze te brać potrzeba, które przy tychże większych literach A i B są położone.

1. Odmierzywszy na ziemi podstawę ab z ostrożnościami wyłożonemi w § 35, ustaw Kątomierz na iednym końcu obracęj podstawy np : w punkcie a , i podług § 53. wyznacz kąt zawarty między punktem niedo-

stępnym C , i między żerdzią ustawioną na b drugim końcu obranej podstawy, to jest: wymierz kąt Cab . 2. Przenieś się z Kątomierzem na b drugi koniec obranej podstawy, i tak iak piérwéy wyznacz wielkość drugiego kąta Cba , zawartého między tymże niedostępnym punktem C , i żerdzią na punkcie a ustawioną. 3. To zrobiwszy, w Trójkącie abc , masz wiadomy bok ab i dwa kąty a i b , témuz bokowi przyległé: zatém wyrachujesz długość boku ap : aC sposobém przypadku 1. §. 52. podług następującéy proporcyi:

$$\text{Wst. } C : \text{Wst. } b = ab : aC.$$

Przeto Logarytm Wstawy b dodawszy do Logarytmu ab , a od téy summy odjąwszy Logarytm Wstawy C ; reszta pozostała będzie Logarytmém aC : tén szukany w Tablicach Logarytmów liczb naturalnych pokaże długość aC . Na tymże samym fundamencie wyrachujesz bok drugi bC .

4. Chcąc obrachowaną odległość na papierze oznaczyć, naprzód wyciągniesz linią ab , zamykającą w sobie tylé części wziętych z podziałki, ilé wymierzona podstawa zawierała miar: potém weźmiesz na podziałce tylé części ile ci wypadło miar z rachunku na linią ab , i z punktu a iako ze środka narysuiesz łuk. Weźmiesz podobnież na podziałce tylé części ilés znalazł miar w drugiéy odległo-

ści bc , i z punktu b promieniem równym téj liczbie części, narysujesz drugi łuk, któryby się przeciął z łukiem pierwszym narysowanym z punktu a . Punkt przecięcia się nakreślonych łuków oznaczy na papierze położenie przedmiotu żądanego.

Tak w tém poprzedzającym zadaniu, iako téż w innych następnych iému podobnych, użyciu Trygonometrycznego rachunku nie iest nieuchronné, osobliwie gdy przedmioty, których odległość mieć chcemy wiadomą, nie są położone w znaczney odległości jedné od drugich. W tym albowiem razie wymierzywszy podstawę, i z jéy końców uważywszy potrzebne kąty, zamiast obrachowania Trójkątów, robic się zwykły na papierze Trójkąty podobné, przy pomocy samych tylko uważonych kątów, i boku jednégo wymierzonégo. I tak np: w zadaniu poprzedzającym, po wymierzonéj podstawie ab , i po uważonych kątach Cab, Cba , wyciągniesz na papierze linią ab , dając iéy z podziałki tylé części równych, ile obrana na ziemi podstawa zamyka miar: potém na końcach zrysowaney podstawy, porobiwszy kąty Cab, Cba , równé kątom wymierzonym na ziemi; zrobi się na papierze Trójkąt aCb , podobny Trójkątowi na ziemi, zawartému między obraną podstawą i dwoma liniami, któreby od iéy końców wyprowadzone zeszyły się w punkcie niedostępnym C , którego odległość chcesz wiedziéć. Boki aC, bC tego Trójkąta gdy wymierzysz na podziałce, będziesz miał wiadomą odległość punktu niedostępnégo C , od obydwóch końców obranéy podstawy ab .

Tén sposób, nie iest tak doskonały iak poprzedzający, z przyczyny: że przenośnik, albo

w powszechności powiedziawszy, że narzędzie którego używamy do robienia na papierze kątów równych kątom uważonym na polu, nie może mieć tylko dość mały promień, a zatem w robieniu takowych kątów, nie można użyć téj dokładności, co w domiержeniu na podziałce wartości, która z rachunku wypadła na boki tych Trójkątów.

§. 55. *Z Punktu daného m albo n wiadoméy linii ab, wyprowadzić na gruncie linią prostopadłą długości żadanéy. (Tabl. 5. Fig: 51.)*

1. Jeżeli na danym punkcie *m* ustawioné bydz może narzędzie, natenczas przemierzwszy odległość *am*; Trójkąt *amc* uważay iako prostokątny, którego mając wiadomé w liczbach dwa boki *am*, *mc* łatwo dóydziesz przez rachunek ważności kąta *cam* podług §. 50 przypadku 4. Po uczynionym rachunku ustawiwszy narzędzie na *a*, wykeruy nieruchomé prawidło ku punktowi *b*, drugie zaś ruchomé naprowadziwszy na taką liczbę stopni, iaką w sobie zawiera wyrachowany kąt *cam*, każ podług kierunku ocznego promienia przechodzącego przez celowniki ruchomégo prawidła, ustawić dwie żerdzie w iakichkolwiek dwóch punktach *d*, *e*. Potém przeniés się z narzędziem na punkt *m*, i w tym punkcie zrób kąt prosty *amf*, każąc tak iak piérwéy podług ocznego promienia *mf*,

ustawić na gruncie dwie inne laski g, f . Naostatek każ iednému pomocnikowi stanąć wprost lasek d, e , a drugiemu wprost lasek g, f , sam zaś wzięwszy inną żerdź uday się na mieyscé między owémi czteréma laskami poszrzednie: tam oba pomocnicy póty tobą kierować powinni, póki cię nie naprowadzą na takie mieyscé c , aby ustawiona w niem żerdź twoja, tak z żerdziami d, e , iako g, f , w iednymże zostawała kierunku. Natenczas od c do m wyprowadzona liniia, będzie prostopadłą żadaną do linii wiadoméy ab , i tylé długości zamykać w sobie będzie, ilé iéy dadz chciano.

Dla wynalezienia punktu c , możnaby kazać przeciągnąć ieden sznur od żerdzi d ku e , drugi zaś od g ku f , a gdzieby się tak przeciągnięte sznury przecięły; tén punkt byłby punktem szukanym.

Możnaby ieszcze linią prostopadłą wyznaczyć na gruncie bez rachunku, sposobem następującym. Ustawiwszy narzędzie na danym punkcie m , tak aby szrodek iego zgadzał się z punktem m , a prawidło nieruchomé z/liniia ab , naprowadź nieruchomé prawidło na 90° , i podług ocznego promienia mf , każ ustawić na gruncie kilka lub kilkanaście lasek: potem na liniu żerdziami wyznaczonéy odmierz tylé miar, ilé powinna mieć długości liniia prostopadła, a tak punkt c gdzie się zastanowisz, będzie końcem prostopadłéy wychodzącéy od punktu daného m .

2. Jeżelibyś na tym punkcie od którego ma wychodzić linia prostopadła, nie mógł postawić narzędzia, iak tu *np*: na punkcie *n*, natenczas przemierzwszy odległości *an*, *bn*, wystaw sobie w myśli dwa prostokątne Trójkąty *ano*, *bno*, których prostopadła *no* iest bokiem spólnym. Teraz ponieważ masz wiadome w liczbach boki *an*, *bn* z wymiaru, a prostopadłej długość z założenia, przeto podług §. 50 przypadku 4 łatwo wyrachujesz kąty *oan*, *obn*. Po uczynionym obrachunku, w punkcie *b* zrób kąt równy kątowi wyrachowanemu *obn*, drugi zaś w punkcie *a* równy drugiemu kątowi wyrachowanemu *oan*, rozkazując tak iak piérwéy na liniach celowych *ao*, *bo*, ustawić po dwie żerdzie: z resztą postąpisz sobie tak iak się dopiero powiedziało.

Gdyby punkt od którego ma wychodzić linia prostopadła, był dany nad linią, iak tu *np*: punkt *r*, w tym razie abyś wynalazł na linii *ab* punkt *s* na który ma przypaść prostopadła, naprzód na punktach *a*, *b*, wymierz kąty *rab*, *rba*, i wyrachuy długość boków *ra*, *rb*, podług §. 52 przypadku 1. Potém zmysliwszy sobie linią prostopadłą *sr*, mieć będziesz Trójkąt prostokątny *rsb*, w którym mając wiadomą przeciwprostokątną *rb*, i kąt *rbs*, wyrachujesz bok *bs* podług przypadku 1. §. 50.

§. 56. Do linii AB daney na gruncie wyciągnąć linię CD równoległą.
(Tabl: 5. Fig: 52.)

1. Jeżeli odległość CE linii równoległych jest w liczbach dana, ale jeszcze nie jest wiadomo gdzie punkt C na gruncie przypadnie; *naprzód* na linii AB , wzięwszy iakąkolwiek część AE , uważay Trójkąt AEC iako prostokątny, w którym mając wiadome boki AE , EC , z kątem prostym między niemi zawartym, łatwo podług przypadku 4. §. 50. wyrachujesz kąt CAE . *Powtóre* stanąwszy z narzędziem na punkcie A , zrób kąt równy kątowi wyrachowanemu CAE , rozkazując w kierunku promienia AH , ustawić dwie żerdzie w punktach G , H . Podobniez ustawiwszy narzędzie na E , zrób kąt prosty $AE\mathcal{F}$, podług kierunku promienia $E\mathcal{F}$ rozkazując zatykać tak iak piérwéy dwie żerdzie w punktach L , \mathcal{F} . *Potrzenie* każ przeciągnąć sznur ieden od G do H , a drugi od L do \mathcal{F} , natenczas punkt C przecięcia się dwóch sznurów, będzie punktem przez który ma przechodzić linia równoległa, ponieważ ma żadaną odległość CE . Naostatek przeniosłszy się na drugi koniec linii AB , *naprzód* wyznacz na niéy część BF równą AE , potem w punkcie F zrób kąt równy kątowi E , tudziez drugi kąt B równy kątowi A , przecięcie się ramion FD , BD ,

oznaczy położenie drugiego punktu D , przez który ma przechodzić linia równoległa CD .

2. Jeżeliby zaś punkt C , przez który ma przechodzić linia równoległa był wyznaczony na gruncie, ale odległość jego od linii AB , to jest odległość CE nie była w liczbach wiadoma; natenczas na linii AB odmierz iakąkolwiek część AM , potem wymierzywszy kąty CAM , CMA , wyrachuy boki AC , MC podług przypadku 1. §. 52. iako téż ważność prostopadłej CE , i odcinku AE podług przypadku 1. §. 50: tak mieć będziesz wiadomé w liczbach trzy boki Trójkąta prostokątnego AEC . Teraz tym samym co wyżej sposobem zrób Trójkąt BFD równy Trójkątowi AEC , a tak iak piérwéy mieć będziesz dwa punkta C , D przez które poprowadzona linia będzie równoległa do linii AB .

§. 57. *Wyznaczyć odległość dwóch przedmiotów tak względem siebie, iako téż względem końców a, b , wiadomey linii ab ; gdy z pomiędzy tych czterech punktów dwa którekolwiek wzięte bydź mogą za dwa punkta stanowisk. (Tabl: 4. Fig: 39. 40. 41. 43.)*

Zadanie to, tak iak w działaniach Sto-
likiem, na sześć przypadków rozdzielone
bydź może.

PRZYPADEK PIERWSZY.

(Tabl: 4. Fig: 39.)

Gdy na punktach a, b , wiadomej linii ab , kąty uważane być mogą.

Na stanowisku a naznacz kąty CaD , Dab . Podobnież na stanowisku b uważ kąty DbC , Cba . To uczyniwszy: 1. w Trójkącie abD , masz wiadomy bok ab , i dwa kąty Dab , DbA temuż bokowi przyległe, możesz więc wyrachować dwa inne boki aD , bD , podług przypadku 1. §. 52. Na tymże samym fundamentie możesz w Trójkącie Cab , wyrachować dwa boki aC , bC . 2. Teraz w Trójkącie CaD , mając wiadome dwa boki aC , aD dopiero wyrachowane, mając także wiadomy kąt CaD między temiż bokami zawarty; łatwo wyrachować możesz bok CD , podług przypadku 3. §. 52.

PRZYPADEK DRUGI.

(Tabl: 4. Fig: 40.)

Gdy dla iakowej przeszkody nie mogą być mierzone kąty na B jednym końcu wiadomej linii aB , można je atoli uważać na a , drugim końcu téżże linii aB , iako téż na jednym z tych punktów, których odległości szukamy, iak tu *np*: na punkcie c .

Na stanowiskach a, c , wymierzywszy kąty BaD , Dac , DcB , i Bca ; 1. w Tróy-

kącie Bac mając wiadomy bok aB i kąty a i c ; obrachujesz dwa inne boki ac , Bc , podług przypadku 1. §. 52.

Tymże samym sposobem w Trójkącie Dac , w którym bok ac wiadomy jest z poprzedniczego rachunku, dadzą się wynaleźć boki aD , cD . 2. Teraz ponieważ w Trójkącie BaD , masz wiadome boki aB i aD , z kątem BaD między temi bokami zawartym; zatem łatwo znajdziesz bok BD podług przypadku 3. §. 52.

PRZYPADEK TRZECI.

(*Tabl: 4. Fig: 41.*)

Gdy wiadomy bok ab leży między dwoma niewiadomemi punktami C, D , kąty zaś uważane byź mogą na punktach a i b wiadomej linii ab . Tak iak w przypadku pierwszym wymierzywszy kąty na stanowiskach a i b ; 1. W Trójkącie abC mieć będziesz wiadome kąty Cab , Cba , z bokiem ab przy tychże kątach leżącym; możesz zatem wyrachować boki aC , bC podług przypadku 1. §. 52. Na tymże samym fundamentie, w Trójkącie abD znajdziesz aD , bD . 2. Z tych poprzedzających rachunków mając w Trójkącie aDC , wiadome boki aC , aD , z kątem CaD między temi bokami zawartym, łatwo podług przypadku 3. §. 52. wyrachujesz wielkość boku trzeciego CD .

PRZYPADEK CZWARTY.

(Tabl: 4. Fig: 43.)

Gdy tak iak w przypadku trzecim położenie wiadomej linii AB , przypada między punktami niewiadomemi c i D , kąty zaś na stanowiskach a, c uważane być muszą. 1. Ponieważ w Trójkącie aBc masz wiadome kąty Bac, Bca z boki aB ; przeto wyrachujesz boki ac, Bc podług przypadku 1. §. 52. 2. Podobnie w Trójkącie acD ponieważ masz bok ac , tudzież kąty Dac i Dca wiadome, możesz więc wyrachować boki cD, aD podług przypadku 1. §. 52. 3. Naostatek w Trójkącie BaD mając wiadome boki aB, aD z kątem aDB między rzeczonymi bokami zawartym, łatwo wyrachujesz bok BD podług przypadku 3. §. 52.

PRZYPADEK PIĄTY.

(Tabl: 4. Fig: 44.)

Gdy wiadoma linia AB jest wcale nieprzystępna, kąty zaś na dwóch niewiadomych punktach c, a uważane być mogą.

Ponieważ podług założenia na końcach wiadomej linii AB , żaden kąt uważany, a zatem ani długość innych linii bezsrzednie obrachowana być nie może; przeto na stanowisku c wyznaczywszy kąty AcB, BcD , zaś na stanowisku d kąty BdA, Adc , day

tym czasem iakąkolwiek ważność linii cd , np: 100, 200, 1000 i t. d. miar, dopiero podług téy domyslnéy ważności, iako téż podług wyznaczonych kątów na stanowiskach c, d , wyrachuy sposobém przypadku pierwszého, §. 57. długość linii cA, cB, dA, dB , tudzież długość linii AB .

Gdyby przypadkiem ważność ostatniéy linii AB znaleziona przez poprzedzający rachunek, wyrównywała prawdziwéy iéy ważności, którą iuż mamy wiadomą; byłoby to dowodem, żeśmy natrafili na prawdziwą ważność linii cd , a zatém i długości innych linii znalezione przez ténże rachunek, byłyby prawdziwé.

Jeżeliby zaś, co pospolicie zdarza się, znaleziona ważność linii AB nie wyrównywała ważności swéy wiadoméy, wszelako Trójkąty dopiero obrachowane, będąc równokątne z Trójkątami których szukamy; tém samém boki piérwszych będą proporcjonalné z bokami tych drugich. Na tym więc fundamencie dla znalezienia prawdziwéy ważności tychże boków, ułoż następującą proporcją. *Tak się ma fałszywa długość linii AB znaleziona przez poprzedzający dopiero rachunek, do ważności iéy prawdziwéy; tak się ma fałszywa ważność każdéy innéy linii cA, cB, dA, dB, cd do ważności swéy prawdziwéy.*

Częstokroć przypadek tén zdarzy się do wykonania wcale pod innym kształtém, lubo wykonanie,

konanie, i ułatwienie tego od tychże samych zawisło prawideł. (Tabl: 5. Fig: 59.) Dajmy np: iż robiąc Mapę obszernę iakię sztuki ziemi, potrzeba na téż karcie umieścić położenie przedmiotów F, G, H, J , których wygodnie widzieć nie można, tylko z dwóch punktów A i B , ale tak położonych iż odległości AB oddzielających té dwa punkta, rzeczywiście mierzyć nie można, a to albo dla zbytney nierówności ziemi, albo dla błót, trzęsawisk, wód między témiz dwoma punktami znajdujących się. Każ naprzód zatknąć dwie żerdzie w takich miejscach D, E , ażeby one z punktów A, B , widziane bydz mogły, tudzież abyś odległość między témiz laskami zawartą, toiest odległość DE mógł sznurém przemierzyć. To zrobiwszy, na stanowiskach A i B wyznacz kąty DAE, EAB, EBD, DBA , tak właśnie iak gdybyś chciał wyznaczyć odległość DE względém końców obranęj podstawy AB . Naostatek wymierz odległość DE , i udaj się do reguły fałszywego założenia. Dajmy np: iż odległość DE po rzeczywistym rozmiarze pokazała się bydz 1400 miar, i że za pomocą téj wiadomęj odległości DE , tudzież kątów uważanych na stanowiskach A, B , chcemy doysdz przez rachunek odległości AB . Naprzód tak iak w przypadku poprzedzającym daj iakąkolwiek ważność szukanęj linii AB , potem podług téj założonęj ważności, dochodź przez rachunek ważności linii DE , sposobém przypadku pierwszego §. 57. Jeżeli znaleziona przez rachunek ważność linii DE , będzie większa lub mniejsza od prawdziwéj ważności téżéj linii DE ; natenczas abyś przez tę fałszywą ważność doszedł prawdziwéj długości linii AB , uczynь tę samą co wyżej proporcją, toiest: Jak się ma ważność linii DE znaleziona przez rachunek,

do ważności iéy prawdziwéy; tak się ma domyślna ważność linii AB , do prawdziwéy ważności téżé linii AB .

Tym sposobém doszedłszy prawdziwéy długości linii AB , wymierz kąty zawarté między tąż linią AB , i promieniami ocznémi $AF, AG, AH, A\mathcal{F}, BF, BG, BH, B\mathcal{F}$. Tak w każdym z Trójkątów AFB, AGB i t. d. mając wiadomą podstawę AB , i dwa kąty téżé podstawie przyległe; łatwo podług przypadku 1. §. 52, wyrachuiész inné boki tychże Trójkątów: a tém samém przedmioty F, G, H, \mathcal{F} , będą mogły mieć oznaczone położénie swoje na Mappie, tak właśnie iakby się mierzyła podstawa AB .

W tym przypadku rozumieć się ma, że z punktów D i E , nie można widziéć punktów F, G, H, \mathcal{F} , mających się na Mappie umieścić, iakoto *np:* gdyby té ostatnie były położone w dolinie względém piérwszych: inaczéy próżnoby się tak długa przedsiębrała robota.

§. 58. *Do nieprzystępnéy linii (Tabl. 5. Fig. 53.) AB , wyciągnąć na gruncie linią równoległą DF , albo JG : tudzież na téżé linii AB wyznaczyć punkt X , któryby od punktu B miał odległość żadaną.*

Co do piérwszego. 1. Jeżeli jest na gruncie wyznaczony punkt, przez który, ma przechodzić linią równoległą, iak tu *np:* punkt D ; najprzód obierz podstawę CD kończącą się z jednéy strony na tym punkcie, przez który ma przechodzić linią ró-

wnoległa, i z końców obranej podstawy wyznacz kąty ACB , BCD , BDA , ADC .

2. Sposobem wyłożonym w przypadku pierwszym §. 57, wyrachowawszy ważność kąta DAB , zrób w punkcie D kąt $ADF = BAD$, natenczas linia DF będzie równoległa do linii AB .

3. Jeżeliby punkt D , przez który ma przechodzić linia równoległa, nie był wyznaczony na gruncie, ale tylko odległość jego od linii AB w liczbach dana była, iako to np : gdyby równoległa mająca się na gruncie wyznaczyć, miała odległości 200 miar od linii AB ; w tym razie podług przypadku 1. §. 50, szukaj prostopadłej wysokości ED Trójkąta ABD . Potem na punkcie D zrób kąt prosty FDE , i jeżeli znaleziona przez rachunek długość prostopadłej DE jest mniejsza lub większa od miar 200, tedy ukróć lub też przedłuż prostopadłą DE , o tyle miar, o ile ona przewyższa, albo też ilé réy nie dostaie do tychże miar 200, iak tu np : przedłuż od D do J . Naostatek ustawwszy narzędzie na punkcie J , gdy na linii JE zrobisz kąt prosty GJE , będziesz miał żadaną linią GJ równoległą do AB .

Co do drugiego. Abyś wynalazł punkt X , któryby od B miał żadaną odległość; zważ, iż w Trójkącie DBX masz wiadomy bok BX z założenia, bok zaś BD z kątem DBX jest wiadomy z poprzedzającego rachunku,

zatem łatwo wyrachujesz kąt BDX podług przypadku 3. §. 52. Teraz gdy w punkcie D zrobisz kąt BDX równy kątowi dopiero wyrachowanemu; promień oczny DX przypadnie na żądany punkt X linii AB .

§. 59. Z punktu C (Tabl: 5. Fig: 54.) wyznaczoného na linii nieprzystępney AB , spuścić prostopadłą CX długości żądanej.

1. Obrawszy i wymierzywszy podstawę DF , naprzód z obydwóch iéy końców wyznacz kąty ADB , CDF , BDF , BFD , CFD , AFD , a potem podług przypadku pierwszego §. 57, obrachuy ważność linii AF , BF , DF , CF , iakotéz ważność kąta BAF .

2. To gdy wykonasz, przenieś obrachowaną figurę na papier, abys w dalszém robocie łatwiéy z nią obeydź się mógł, potem zrób kąt $AFE = BAF$: tak mieć będzieś EF równoległą do AB , z przyczyny równości kątów naprzemianległych AFE , BAF . Nadto będzie $CEF = 90^\circ$, gdyż $BCE = 90^\circ$ dla téż samém przyczyny.

3. Odiąwszy kąt AFD od CFD , a pozostafą różnicę AFC przydawszy do kąta AFE , będzieś miał w Trójkacie prostokątnym CEF , wiadomy bok CF z kątem CFE , zatem łatwo obrachniész boki CF ,

EF podług przypadku 1. §. 50. Ponieważ zaś dana jest długość prostopadłej szukanej CX , więc $CX = CE = EX$.


4. W Trójkącie prostokątnym FEX mając wiadome boki EF , EX , można wyrachować kąt EFX , z boki FX , podług przypadku 4. §. 50.

5. Dotego w Trójkącie DFX , mając wiadome boki DF , FX , gdy kąt CFD odémiesz od CFE , a różnicę DFE przydasz do kąta EFX , będzieś miał wiadomą wartość kąta DFX zawartęgo między owemi dwoma ramionami, zatem znajdziesz kąt FDX podług przypadku 3. §. 52.

6. Naostatek na punktach D i F zrób kąty FDX , DFX , równe kątom dopiero obrachowanym, natenczas mieć będzieś prostopadłą żadaną CX , takię długości iaka naznaczona była.

Tén sam prawie sposób postępowania zachowałbyś, gdyby punkt X był wyznaczony na gruncie, a trzeba było na linii AB znaleźć punkt C , do którego by poprowadzona linia od punktu X , była prostopadłą do linii nieprzystępnej AB .

Podobnież żadné nie byłoby trudności wyciągnięcia przez punkt X linii równoległej do AB , a tak zadanie §. 58. mogłoby być innym ułatwioné sposobém.



§. 60. *Sposób przedłużenia linii prostej AB (Tabl: 5. Fig: 55.) mimo zdarzających się nieprzebytę przeskody, iakoto: góry, lasu i t. d.*

1. Obierz taki punkt F , z którego byś tak końcé linii AB mającéy się przedłużyć, iakotéż źérdzie C, D , zatknięté w iakichkolwiek miejscach miłaiących nieprzebytą przeszkodę, mógł wygodnie widzieć. Potém z punktów A, B , wyznaczyszy kąty BAF, ABF , szukay ważności boku AF , podług przypadku 1. §. 52. Jeżeliby zaś bok AF mógł byđ rzeczywiscie wymierzony, natenczas byłoby wygodniéy uchylic rachunku.

2. Po wynalezionéy ważności boku AF , wymierz kąty AFC, AFD , natenczas w każdym z tych Tróykątów mając wiadomy kóok AF z dwoma kątami A i F témuż bokowi przyległémi, wyrachuy długości boków FC, FD , podług przypadku 1. §. 52.

3. Naostatek jeżeli nic nie iest na przeszkodzie, każ w kierunku linii FC i FD odmierzyć tylé miar, ilé ci na każdą z nich wypadło z rachunku: a tak punkta C i D gdzie się zastanowisz, będą znaydowac się na przedłużeniu linii AB .

4. Jeżeliby dla iakich przeszkod na liniach FC, FD , nie można było odmierzyć długości wyrachowanych, w tym razie obierz podstawę FG , a wymierzyszy ją tak

można naydokładniéy, z końca iéy F wyznaczą kąt CFG : natenczas w Trójkącie GFC mając wiadomé boki FG , FC z kątem między niemi zawartym; wyrachuiész ważność kąta FGC podług przypadku 3. §. 52. To wykonawszy, każ ustawić żerdź w takim punkcie C , któryby z liniami FC , GC w jednymże znaydował się kierunku, tym sposobem znaleziony punkt C będzie znaydował się na przedłużeniu linii AB . Naostatek w punkcie wynalezionym C ustawiwszy Kątomierz, zrób kąt FCB równy kątowi C Trójkąta ACF , któryto kąt iest ci już wiadomy z poprzedzających działań Nro 2. Natenczas linia CD będzie żądaném przedłużeniem danéy linii AB .

§. 61. *Sposób wynalezienia różnych punktów kierunku, gdy się między dwiema danými punktami (Tabl. 2. Fig: 27.) A, B , znayduią takie przeszkody, że od iednégo do drugiego widziéć nie można.*

Na boku linii AB , o którą rzecz idzie, obrawszy sobie punkt c , z któregooby oba końce A, B , widziane bydz mogły; wyznaczą nayprzód kąt BcA , potém każ przemierzyc łańcuchém odległości cA , cB . Natenczas w Trójkącie AcB mając wiadomé dwa boki cA , cB z kątem BcA między niemi za-

wartym; wyrachuy ważność kąta BAC podług przypadku 3. §. 52.

To gdy wykonasz, każ ustawić na gruncie laskę w jakimkolwiek mieyscu D . Potém zmierzysz kąt AcD ; w Trójkącie AcD mieć będziesz wiadomy bok cA z dwoma kątami A i AcD temuż bokowi przyległemi: możesz więc wyrachować bok cD podług przypadku 1. §. 52. Naostatek na linii cD każ łańcuchem odmierzyć długość równą długości wyrachowaney: a tak punkt D , gdzie się zastanowisz, będzie się znajdował na linii przechodzącý przez dwa punkta A i B . Tymże samym sposobem wynalazłbyś drugi punkt D , i tylé innych ileby tego wyciągała potrzeba.

Gdyby zachodziła trudność w obraniu takiego punktu c , z którégobys mógł widzieć razem oba punkta A i B , postąpisz sobie w sposób następujący.

(Tabl. 2. Fig: 29.) Szukay punktu c , z którégobys mógł widzieć punkt B , i drugiego punktu c , z którégobys widział punkt A i punkt c . Potém zmierzysz odległości Ae , ec , cB ; z punktu e wyznaczysz kąt Aec , tudzież z punktu c zmierzysz kąt Bce . To wykonawszy, w Trójkącie cAe mając wiadomé dwa boki Ae , ec , z kątem Aec między niemi zawartym; łatwo podług przypadku 3. §. 52. wyrachuiész bok Ac i kąt ecA .

Daléy, odiawszy kąt ecA od kąta zmierzzonego EcB , zostanie ci kąt AcB : a ponieważ wyrachowafés Ac , linią zaś cB masz wiadomą z pomiaru, przeto działanie wypadnie na poprzedzające, zupełnie więc postąpisz sobie tak, iak się postąpiło z Fig: 27.

§. 62. *Wyznaczyć odległość (Tabl: 5. Fig: 56.) dwóch punktów w czystém i otwartém polu położonych, lecz w tak znaczney odległości względem siebie zostających, iż ieden od drugiego być nie może widziany.*

Aby zadaniu tému uczynić zadosyć, potrzeba użyć do tego kilku lub kilkunastu nieprzerwanym ciągiem między sobą połączonych Trójkątów, ACD , DCE , ECF , FEB , w każdym z nich jeżeli nie wszystkie trzy, to dwa przynajmniej kąty wymierzając. Trójkątów tych większa lub mniejsza liczba zawisła od mniejszey lub większey odległości oddzielających dwa punkta A , B , przedsięwzięte do wymiaru. Do tego, punkta stanowisk C , D , E , F , tak obierané być powinny, aby linie łączące też stanowiska, przecinały nieiako odległość AB . Naostatek po wyznaczeniu przyzwoitych kątów, potrzeba w pierwszym Trójkacie iak tu ACD wymierzyć bok ieden

np: AD i całą tę figurę czyli ciąg Trójkątów iakokolwiek na papierze wyrazić.

To wykonawszy, do obrachunku Trójkątów przystąpić należy: I tak w Trójkącie ACD mając wiadomy bok AD z dwoma kątami temuż bokowi przyległymi; łatwo dadzą się wyrachować dwa inne boki AC , CD , podług przypadku 1. §. 52. Na tymże samym fundamencie w Trójkącie CDE , podług wiadomego boku CD i kątów iemu przyległych, doysdz można boków DE , CE . Toż samo rozumiec się ma o Trójkątach CEF , FEB .

Naostatek, wykreśl na papierze Trójkąt piérwszy ADC , dając mu z podziałki boki proporcjonalné długościom znalezionym z poprzedzającego rachunku, potem na boku CD zrysuy drugi Trójkąt CED , a na boku CE Trójkąt CFE , zaś na FE Trójkąt FBE , wierzchołki A , B , dwóch ostatnich Trójkątów, gdy złączysz linią BA , ta wymierzona na podziałce okaże ważność odległości żądanej AB .

Chcąc przekonać się o dokładności roboty, możesz kazać przemierzyć na ziemi odległość iedną z tych, których ważności doszedłeś przez rachunek, i uważać czyli się nie różni od téj, która wyrachowana była.



§. 63. Niech będą (Tabl: 6. Fig: 60.) przedmioty A, B, D, E, F, C, Okolicy iakowéy w czystém i otwartém polu położonéy, w któręy naprzód odległość AB oddzielaiąca dwa przedmioty A, B, z poprzedniczego rozmiaru jest wiadoma. Powtóré, na stanowisku C uważané bydz mogą kąty ACO, OCF, OCG; a na stanowisku D kąty FDE, FDO, ODB, BDH; zaś z wierzchołku wieży O wszystkie owe przedmioty widzieć, i kąty pod którém i też przedmioty widzialné są, mierzyć można: mając takowé wymiary, niech będzie potrzeba wyznaczyć długość wszystkich linii, którém i owe przedmioty są oddzieloné.

Zacznij obrachunék twóy od Pięciokąta ABDFC. A naprzód, ponieważ w Trójkacie ABO, masz tylko wiadomy bok ieden i kąt także ieden, w innych zaś Trójkątach żaden bok nie jest ci wiadomy; dawszy więc tym czasem linii CO iakąkolwiek upodobaną ważność, dochódź podług niéy, ważności boków Trójkąta ACO, a potém Trójkątów COF, FOD, i DOB, podług przypadku 1. §. 52: tak mieć będziesz wyrachowané długości wszystkich linii stosownie do owéy długości przybranéy. Te-

raz w Trójkącie ABO mając wiadome dwa boki AO , BO , mając prócz tego wiadomy kąt AOB między temiż bokami zawarty; łatwo podług przypadku 3. §. 52, wyrachujesz ważność boku AB . *Powtóre.* Ponieważ obrachowane dopiero Trójkąty są podobne Trójkątóm szukany; przeto dla wynalezienia prawdziwéy ważności boków tych ostatnich Trójkątów, ułoż następującą proporcją:

Jak się ma fałszywa długość linii AB wyrachowana podług ważności przybranéy, do prawdziwéy ważności téżé linii AB ; tak się ma fałszywa ważność każdéy innéy linii, do ważności iéy prawdziwéy. Naostatek co się tycze obrachowania Trójkątów COG , EOD , DHO , to z łatwością da się odprawić, gdyż w każdym z nich dwa boki i dwa kąty są już wiadome.



§. 64. Niech będą trzy różne mieysca \bar{A}, B, C , których odległości wzajemné AB, AC, BC , z poprzedzających działań są wiadomé ; chcielibyśmy wie-
dzieć, iakié są tych mieysc odległości,
względem iakiégokolwiek podług upo-
dobania obraného na gruncie punktu
 X , od które gotrzy owé wiadomé miey-
sca widzieć, i kąty pod któremi
téz przedmioty widziemy,
uważać można.

PRZYPADEK PIERWSZY.

(Tabl: 4. Fig: 47.)

Gdy punkt obrany x znajduje się na ie-
dnym boku wiadomégo Trójkąta ABC .

1. Z Punktu obraného x , wymiérzwszy
ką AxC , tém samém miéć będziemy wia-
domy i drugi kąt BxC , iako spełniający
pierwszy do 180° . Zatem w Trójkącie
 AxC mając z założénia wiadomy bok AC
z kątem $C Ax$, kąt zaś AxC z poprzedza-
jącego dopiéro wymiaru; łatwo wyrachu-
iémy boki Cx, Ax , podług przypadku 1. §.
52, będzie zatem $AB - Ax = xB$.

PRZYPADEK DRUGI.

(Tabl: 4. Fig: 48.)

Gdy punkt obrany x znajduje się na
przedłużeniu iednego z boków wiadomégo
Trójkąta ABC .

Naprzód, wyznacz wielkość kąta BxC , potem wiadomy kąt ABC odéymy od 180° , reszta pozostała będzie ważnością kąta CBx : tak więc w Trójkącie CBx , mając wiadome wszystkie kąty i bok BC , będzie można wyznaczyć przez rachunek dwa inne boki Bx , Cx , podług przypadku 1. §. 52. Wyznaczywszy tym sposobem przez rachunek odległości Bx , Cx , abyś naznaczył na Mappie położenie punktu szukanego x , względem przedmiotów A, B, C ; z punktów B, C , iako od środków, promieniami wyrównywiącemi z podziałki odległościom wyrachowanym Bx, Cx , nakręśl łuki: przecięcie się tych łuków nakręslonych oznaczy położenie punktu szukanego x .

PRZYPADEK TRZECI.

(*Tabl: 6. Fig: 61, i 62.*)

Gdy punkt łobrany X znajduje się zewnątrz wiadomego Trójkąta ABC , i jest przeciwległy albo kątowi iakiemu, iak na Fig: 61 kątowi A , albo też któremu bokowi tégoż Trójkąta, iak na Fig: 62 bokowi BC .

Zmyślmy sobie, iakoby przez punkt X , iako też przez dwa względem siebie najodlegléysze Trójkąta wierzchołki B i C , okrąg koła był nakręslony, potem przez punkta A, x , przeciągniemy myślą linią

prostą Ax , przedłużając ją aż do spotkania się z okręgiem koła w jakim punkcie D . Naostatek wyciągnąwszy cięciwy BD , CD ; będzie kąt $DBC = DXC$, a kąt $DCB = BXD$; podobnież będzie kąt $BDX = BCX$, kąt zaś $XDC = XBC$, a to dla tego, iż każde dwa z pomienionych kątów wierzchołki swé mają na okręgu, i ramionami swémi na jednymże łuku opieraia się. Stąd wynika, iż zadanie to dwoma następującemi sposobami ułatwioné bydz może.

Geometrycznie. 1. Wykreśliwszy na papierze wiadomy Trójkąt BAC , zrobmy przy C kąt BCD równy kątowi BXA uważanému na X , zaś przy B , kąt CBD równy drugiemu kątowi AXC także uważanému na X . 2. Zrysujemy koło, którégoby okrąg przechodził przez trzy punkta B , D , C . 3. Przez punkta D , A , wyciągniemy linią DA , przeciągając ją za punkt A , aż do zniyscia się z okręgiem koła: natenczas punkt tén, gdzie się przeciągnięta liniia zniydzie z okręgiem, oznaczy położenie punktu szukanego X .

Dla wynalezienia położenia punktu X , niekoniecznie potrzeba rzeczywiście opisywać koło, którégoby okrąg przechodził przez trzy punkta B , X , C . Położenie iego, na fundamencie wyżej wspomnionym, wyznaczone bydz może w sposób następujący: Zrobivszy kąt $DBC = DXC$, tudzież kąt $DCB = DXB$, nadto przeciągnąwszy linią DA , aż ku X , gdy potem zrobisz kąt $BCX =$

BDX , i drugi $CBX = CDX$; natenczas punkt X przecięcia się ramion BX, CX , z linią DA przedłużoną, będzie oznaczał położenie punktu obranego X .

Trygonometrycznie. 1. W Trójkącie BCD mamy wiadomy bok BC z założenia, kąty zaś BCD, DBC , przy tymże boku leżące są równe kątóm uważanym na punkcie X , więc dóydzim boku BD , podług przypadku 1. §. 52.

2. W Trójkącie DBA mając wiadomy bok BD z poprzedzającego rachunku, a bok BA z założenia; mając prócz tego wiadomy kąt DBA między témiz ramionami zawarty, któryto kąt na Fig: 61, równy jest kątowi $DBC + CBA$, a na Fig: 62, kątowi $DBC - ABC$; łatwo więc dóydzim ważności kąta BDA podług przypadku 3. §. 52.

3. Dalej, w Trójkącie BCX , bok BC jest dany, kąt $BCX = BDX$ na fundamencie wyrażonym w przypadku 3^{ci}, do tego kąt BXC równy dwóm kątóm uważanym na punkcie X , zatem nie tylko dóydzimy ważności kąta CBX , ale też obrać możemy dwa inne boki BX, CX , podług przypadku 1. §. 52.

4. Naostatek gdy na Figurze 61, odejmiesz kąt CBA od CBX , a na Figurze 62, dodasz kąt CBA , do CBX , będziesz miał w obydwóch razach ważność kąta ABX . Zatem w Trójkącie ABX , mając wiadomé
dwa

dwa boki AB, BX , oraz dwa kąty ABX , i AXB , łatwo obrachować można bok AX , podług przypadku 1. §. 52.

PRZYPADEK CZWARTY.

(*Tabl: 7. Fig: 64*)

Gdy punkt obrany X znajduje się wewnątrz wiadomego Trójkąta ABC .

Na obraném stanowisku X , wyznaczwszy kąty AXB, AXC , wystawmy sobie iak w przypadku poprzedzającym, iakoby przez punkta B, C, X , okrąg koła był opisany: potem wyciągniemy myślą linią AX , przyciągając ją do zniścia się z okręgiem koła, iak tu w punkcie D : naostatek poprowadźmy cięciwy BX, CX, BD, CD . To zrobiwszy; będzie kąt BXD , spełnieniem iednego wyznaczonego kąta AXB , kąt zaś CXD , spełnieniem drugiego wyznaczonego kąta CXA : że zaś kąt BXD równy BCD , bo wierzchołki swe mają na okręgu, i ramionami swemi na iednymże opierają się łuku, a kąt CXD , równy CBD , dla téż saméy przyczyny; zatem kąt BCD , iest także spełnieniem kąta AXB , kąt zaś CBD spełnieniem kąta AXC , a że kąty AXB, AXC , są wiadomé z poprzedzającego wymiaru, przeto i kąty BCD, CBD , iako spełnienia tamtych będą także wiadomé: stąd położenie punktu X , dwoma następującemi sposobami oznaczone być może.

O

Geometrycznie 1. Po wykreśleniu na papierze Trójkąta wiadomego ABC , zrób kąt BCD , równy spełnieniu kąta AXB , a drugi CBD , równy spełnieniu drugiego kąta CXA : przecięcie się ramion BD , CD , wykreślonych kątów, oznaczy ci położenie punktu D .

2. Opisawszy okrąg koła przez trzy punkta B, C, D , wyciągnij linią prostą AD , natenczas punkt X , w którym wyciągnięta linią przetnie okrąg koła, będzie oznaczał położenie punktu obranego X , względem trzech wiadomych przedmiotów A, B, C .

Jeżelibyś i w tym przypadku chciał uniknąć opisywania okręgu koła przez trzy punkta B, C, D ; tedy wyznaczysz punkt D , iak się dopiero powiedziało, pociągnij linią prostą AD , potem zrób kąt $XBC = ADC$, i drugi $XCB = ADB$, a tak punkt X , przecięcia się ramion wykreślonych kątów, oznaczy położenie punktu obranego.

Trygonometrycznie. 1. W Trójkącie BCD , są wiadome kąty CBD, BCD , z bokiem BC , zatem wyrachować można bok BD , podług przypadku 1. §. 52.

2. W Trójkącie ABD , mając wiadome boki AB, BD , z kątem $ABC + CBD$, czyli z kątem ABD , między temiż ramionami zawartym; dójdziész kątów BDA, BAD , podług przypadku 3. §. 52.

3. W Trójkącie BCX masz teraz wiadomy kąt XCB , bo ten iest równy kątowi

BDX : zaś kąt $BXC = 360^\circ - AXB - AXC$, prócz tego masz wiadomy bok BC , przeto wyrachować można boki BX , CX , podług przypadku 1. §. 52.

4. W Trójkącie AXB , mając wiadome dwa boki AB , BX , z dwoma kątami AXB , i BAX , łatwo dójdiesz ważności boku AX , podług przypadku 1. §. 52.

PRZYPADEK PIĄTY.

(*Tabl: 6. Fig: 63.*)

Gdy wiadome trzy punkta B, A, C , w linii prostey znajdują się położone.

Przez odleglejsze punkta B, C , iako też przez punkt szukany X , zmyśliwszy sobie opisané koło, i linię AX przedłużwszy aż ku D ; gdy potem poprowadziemy linie BD, BX, CD, CX ; będzie kąt $BXD = BCD$, a kąt $CXD = CBD$, dla téżże samej przyczyny co wyżej: zatem,

Geometrycznie. 1. Wykreśliwszy kąt BCD , równy kątowi wymierzonému BXD , i drugi CBD , równy drugiemu kątowi także wymierzonému CXD ; przecięcie się ramion wykreślonych kątów, da położenie punktu D .

2. Przez trzy punkta B, D, C , opisz koło, potem zrysuy linię DA , przeciągaiąc ją ku X , ten punkt będzie punktem szukanym.

Niechcąc opisywać okręgu koła przez trzy rzeczone punkta, można sobie postąpić sposobem wyłożonym w przypadku trzecim.

Trygonometrycznie. 1. W Trójkącie BDC , mając wiadomy bok BC , z dwoma kątami témż bokowi przyległými, bo one są równe kątom uważanym na X ; można dóyść boków BD , CD , podług przypadku 1. §. 52.

2. W Trójkącie BDA , z wiadomych boków BD , BA ; i kąta między témż bokami zawartego; wyrachujesz kąt BDA , podług przypadku 3. §. 52.

3. Do tego, w Trójkącie DBX , mając wiadomé wszystkie 3 kąty, wraz z bokiém BD ; łatwo dóyść można ważności boku BX , podług przypadku 1. §. 52.

4. Naostatek, w Trójkącie BCX , z wiadomych dwóch boków BC , BX , tudzież z zawartego między témż ramionami kąta CBD , który jest równy $DBX - DBA$, dódziemy boku CX , w Trójkącie zaś BAX wyrachuiemy bok AX .

§. 65. *Sposób przyprowadzenia kąta do swégo prawdziwego wierzchołka, czyli sposób poprawiienia kąta, który był miierzony nie na właściwém stanowisku.* (Tabl. 6. Fig. 66.)

Przygotowanie. W działaniach Trygonometrycznych często przytrafiać się zwykło, iż chcąc

wymiérzyć kąt iaki, nie można ustawić narzędzia nad wierzchołkiem tegoż kąta, z przyczyny znajdujący się przy wierzchołku jego iakowey przeszkody. Tak *np.*: mając z poprzedzających działań wyznaczoną odległość dwóch punktów P, R , z których jeden *np.*: P , jest słup, drzewo, kolumna, wieża, krzyż, wierzchołek dachu, budynku i t. d; gdybyśmy potem tę wiadomą odległość między przedmiotami P, R , to jest odległość PR , wzięli za nową podstawę, aby z jej końców wyznaczyć położenie innego iakiego niewiadomego przedmiotu Q ; oczywista jest, iż dla wymiérzenia kąta QPR niemoglibyśmy ustawić narzędzia nad wierzchołkiem kąta szukanego, z przyczyny znajdujący się tam przeszkody, to jest: nie możnaby ustawić instrumentu na słupie, drzewie, kolumnie, i t. d.

W takowym tedy razie pospolicie obierać się zwykło za stanowisko, inny iaki punkt *np.*: C , iak można naybliższy wierzchołka kąta mającego się wymiérzyć. Wszakże iawna rzecz jest, iż na tém przybraném stanowisku wymierzony kąt, nie będzie oznaczał prawdziwéy ważności kąta szukanego, ale tylko będzie ważnością kąta innego, fałszywego, i różnica między temi dwoma kątami tém większa zachodzić będzie, im przybrané stanowisko jest odleglejsze od wierzchołka kąta prawdziwego, tudzież im krótsze są ramiona jego. Szukano zatem sposobu, aby z wyznaczoného kąta fałszywego dóyść prawdziwéy ważności kąta szukanego: Działanie takowe nazywać się zwykło: *Reductio anguli ad centrum*, to jest: przyprowadzenie kąta do środka, czyli do prawdziwego swégo wierzchołka, dlatego że środek narzędzia użytého do wymiaru kąta, nie nad wierzchołkiem wymiérzoného, ale nad wierzchołkiem szukanego powinien był być usta-

wiony. Lubo zaś ustawienie narzędzia, czyli raczej obieranie punktu stanowiska, rozmaite mieć może położenie względem wierzchołka prawdziwego kąta; jednakże w sześciu następujących przypadkach zawarte być może.

1. Gdy Kątomierz ustawia się na jednym z ramion kąta, którego ważności szukamy, (Tabl: 6. Fig: 65. Nro 1.) iak *np*: na punkcie *C*, ramiénia *PB*, kąta *APB*. W tym razie kąt wyznaczony *ACB*, będąc zewnętrznym względem Trójkąta *APC*, jest równy dwóm kątóm wewnętrznym na przeciwko niego położonym *A*, i *P*, a tém samym większy od kąta prawdziwego *P*: zatem aby mieć ważność kąta szukaného *P*, trzeba od kąta wyznaczoného *ACB*, odciągnąć kąt *A*, toiest: $P = ACB - A$.

2. Jeżeli Kątomierz ustawia się na przedłużeniu iednego z ramion kąta, (Tabl: 6. Fig: 65. Nro 2.) *np*: na punkcie *C*, znajdującym się na przedłużeniu ramiénia *BP*; w tym razie kąt prawdziwy *P*, iako zewnętrzny względem Trójkąta *ACP*, będzie równy summie dwóch kątów wewnętrzných *A*, *C*, na przeciwko niego położonych: Więc aby mieć ważność kąta *APB*, trzeba do kąta znalezioného *ACB*, dodać kąt *A*, czyli: $APB = C + A$.

3. Jeżeli punkt stanowiska *C*, (Tabl: 6. Fig: 65. Nro 3.) znajduje się wewnątrz ramion kąta *APB*, natenczas dwa kąty wewnętrzne *A* i *o*, równe są kątowi zewnę-

trznému n , kąty zaś B i s , drugiemu ką-
towi zewnętrznemu m : więc $n \neq m$, czyli
kąt cały ACB , równa się summie kątów
 $A \neq 0 \neq B \neq s$. Zatem $m \neq n - A - B = 0 \neq s$
 $= P$, to jest: żeby mieć ważność kąta pra-
wdziwego APB , trzeba od kąta wyznaczo-
nego ACB , odjąć summę kątów A , i B .

4. Jeżeli punkt stanowiska C , (Tabl: 6.
Fig: 65. Nro 4.) znajduje się zewnątrz ra-
mion prawdziwego kąta APB ; będzie $A \neq n$
 $= 0$, zaś $B \neq m = s$. Zatem $A \neq n \neq B \neq m =$
 $0 \neq s = P$, czyli: aby kąt znaleziony ACB ,
wyrównywał kątowi szukanemu, trzeba do
kąta ACB , przydadź summę kątów A i B .

5. Gdy Kątomierz ustawia się (Tabl: 6.
Fig: 65. Nro 5.) na C , obok prawego ra-
mięcia PB , kąta APB : w tym razie $A \neq P$
 $= 0$, tudzież $B \neq C = 0$, więc $A \neq P = B \neq C$,
zatem będzie $P = C \neq B - A$. To jest: aby
mieć ważność kąta APB , trzeba do kąta wy-
wierzonego C , przydadź kąt B , leżący na
prawej stronie, a potem dopiero od téj
summy odciągnąć kąt A .

6. Naostatek, jeżeli Kątomierz ustawia
się (Tabl: 6. Fig: 65. Nro 6.) na C , obok
lewego ramienia kąta BPA ; będzie tak iak
pierwéy, $A \neq C = 0$, tudzież $B \neq P = 0$, za-
tém $A \neq C = B \neq P$, więc $C \neq A - B = P$. Za-
tém do kąta uważanego C , przydawszy kąt
 A , i od téj summy odjąwszy kąt B ; reszta
pozostała będzie ważnością kąta szuka-
nego P .

W dwóch przypadkach ostatnich na to szczególniejszą baczość mieć należy, iż aby mieć kąt szukany, trzeba do kąta wymiérzonego na stanowisku przybranym, przydadź tén kąt, który z téy saméy strony leży co i stanowisko, a odciągnąć drugi, z przeciwnéy strony leżący.

Z tych wszystkich wyłożonych dopiéro przypadków oczywiście pokazuje się, iż cała robota do tego się ściąga, aby wynaleźć ważność kątów CAP , CBP , Fig: 65, albo Fig: 66, kątów FQP , DRP , gdyż iakośmy widzieli, za dodaniem lub odjęciem ich od kąta na niewłaściwym stanowisku wymiérzonego, dochodzi się ważności kąta szukanego. Należy więc wiedzieć jakim sposobém znaleźć można ważność pomienionych kątów. Sposób który tu podamy lubo nie iest ściśły, wszakże w użyciu pospolitem, za dostarczająco doskonały może byđź poczytany.

Daymy np: że podług założenia wyższego, potrzeba wyznaczyć położenie punktu Q, względem końców wiadomey linii PR, i niech na jednym końcu téyże wiadomey linii np: na P, znajduie się przeszkoda, dla której nie można ustawić narzędzia nad wierzchołkiem kąta RPQ: natenczas,

1. Podług wyłożonych dopiéro przypadków, iak tu podług przypadku 6, obrawszy iakié miéysc C , po lewéy stronie boku PR , wymiérz kąt QCR . Potém od punktu prawdziwego P , spusć liniie prostopadłe PD , PF , na ramiona kąta fałszywego QCR , albolí téż na przedłużenia tychże ra-

mion, jeżeli tego będzie wymagała potrzeba. Naostaték wymierzwszy długości linii prostopadłych PD , PF , wyznacz ważność kąta $\mathcal{Q}RP$, sposobem pospolitym, gdyż nad wierzchołkiem jego R , żadney nie kładziemy przeszkody.

2. Zakończywszy takowe wymiary, w Trójkącie $P\mathcal{Q}R$, masz wiadomy bok PR z założenia, tudzież dwa kąty temuż bokowi przyległe, ieden prawdziwy R , a drugi fałszywy, toiest C : zatem dójdziesz ważności dwóch innych boków $P\mathcal{Q}$, $R\mathcal{Q}$, podług przypadku 1. §. 52.

3. Uważ potém, iż ponieważ odległości $P\mathcal{Q}$, PR , są zawsze bardzo wielkie względem prostopadłych PF , PD , przeto te ostatnie długości, toiest prostopadłe PF , PD , mogą bydź uważané, iako łuki kół, których promieniami byłyby odległości $P\mathcal{Q}$, PR . Tym sposobem uważając pomienione długości iedné względem drugich, można bez pomocy Tablic Logarytmowych dóysdź ważności kątów $F\mathcal{Q}P$, PRD , w Trójkątach prostokątnych $\mathcal{Q}FP$, RDP .

Wiadomo z Jeometryi, że gdy promień koła ma 7 części, natenczas obwód tegoż koła zamykać będzie takichże części około 44, na tym więc fundamencie łatwo wyrachować można, ile razy promień zamyka w sobie długość stopnia, a to następującą układając proporcją. Jeżeli 44 części, które w sobie mieści obwód, są

długością 360 stopni; ileż tychże stopniów zamykać się będzie w częściach 7, które się znajdują w promieniu: dokonawszy proporcji znajdziesz wyraz czwarty około $57^{\circ} \frac{3}{11}$.

4. Daymy teraz że odległość PR , wiadoma z założenia, ma 600 miar, prostopadła $PD = \frac{3}{4}$, znajdziesz ważność kąta DRP z następującej proporcji: iak się ma długość czyli promień $PR = 600$, do długości $57^{\circ} \frac{3}{11}$ czyli do promienia obróconego na stopnie; tak się ma $\frac{3}{4}$ długość prostopadłej czyli łuku PD , do ważności kąta DRP . Wyraz czwarty wyrachowany pokaze, iż kąt szukany DRP zawiera około 4 minut pierwszych i 18 drugich. Podobnież gdyby długość boku PQ wypadła była z obrachunku Nro 2 odprawionego np : 800 miar, tudzież gdyby prostopadła odpowiadająca PF , zawierała w sobie $\frac{1}{2}$, znalazłbyś podług téj saméj proporcji, że kąt $FQP = 6$ minut pierwszych i 27 drugich.


5. Teraz, gdy podług przypadku 6, do kąta QCP przydasz kąt $FQP = 6' \text{ } \ast \text{ } 27''$, a od téj summy odéymiesz kąt drugi $DRP = 4' \text{ } \ast \text{ } 18$, reszta pozostała będzie ważnością kąta prawdziwego QPR .

Jeżeliby i przy wierzchołku kąta R , znajdowała się iakowa przeszkoda, natenczas wymierywszy go z jnnego iakięgo punktu; uczyniłbyś naprzód obrachunek Trójkąta PRQ , podług boku wiadomego RP , i dwóch kątów fałszywych

témuż bokowi przyległych: potem dopiero dochodziłbyś tak iak piérwéy ważności kąta R .

6. Naostatek doszedłszy tym sposobém prawdziwéy ważności kątów; uczynić potrzeba raz ieszcze obrachunek boków PQ , RQ , Tróykąta PQR , a to podług boku wiadomégo PR , i znalezionej prawdziwéy ważności kątów P i R : lubo i na piérwszym obrachunku częstokroć przestawać się zwykło.

Do spuszczenia prostopadłych PD , PF , pospolicie używa się dużej węgielnicy od cieśli i mularzy używanéy, alboli téż laski długiey na stopy i cale wydzielonéy. Czasém położenie prostopadłéy samém okiem miarkować się zwykło. Aby zaś mieć iakową linią iak tu *np.*: CR , na któraby padała prostopadła spuszczoła, dosyć iest, postawiwszy się wprost punktów C , i R ; kazać tak rozciągać sznur, aby ile możności znajdował się w kierunku CR . A lubo tym sposobém o ieden lub dwa cale uchybić można, wszelako gdy boki zawieraiące kąt szukany, są znaczney długości, uchybienie owo żadney w kącie znakomitéy omyłki nie sprawi. Większa zatem lub mniejsza dokładność w spuszczeniu linii prostopadłych zawisła od mniejszéy lub większéy długości ramion, między któremi zawiera się kąt przedsięwzięty do poprawy.



IV.

Przystosowanie szczególnych Trygonometrycznych prawideł do robienia Mapp.

§. 66. *Uwagi ogólne względem wyboru główniejszych punktów Okolicy, którey Mappa ma być rysowana.*

Umiejętność rysowania Mapp za pomocą Trygonometrii; zasadza się na tém, ażeby wyznaczyć położenie i odległość główniejszych punktów Okolicy iakowéy, a to przez obrachunek i rozwiązanie nieprzerwanym ciągiem połączonych między sobą Trójkątów, w których, potrzebne do tego kąty, i przynajmnéy bok ieden iako fundamentalna podstawa, z poprzedniczego wymiaru są wiadomé.

Gdy się mówi o Trygonometrycznym wymiarze Okolicy iakowéy, nie inaczéy rozumieć się ma, tylko iż mówi się o wyznaczeniu na papierze znakomitszych i z daleka łatwo widzialnych przedmiotów, iakié są wierzchołki wież i wynioślejszych budynków, tudzież kominy, statuy, figury, młyny, wiatraki, wierzchołki gór, słupy, drzewa, i t. d; ponieważ niepojęta a prawie niepodobna byłaby praca, chcieć wszystkie rozlegléy iakowéy Okolicy drobniejsze części, Trygonometrycznie na Mappie oznaczyć. Samych więc tylko, iakom powiedział, główniey-

szych przedmiotów położenie i odległość Trygonometrycznie oznacza się, do umieszczenia zaś pośrednich między główniejszemi przedmiotami części, na których nie tak wiele zależy, używać się zwykło Mierniczego Śtolika, iakoto niżej obaczemy.

Do tego iakie w szczególnych przypadkach poprzedzających paragrafów, ku oznaczeniu położenia i odległości kilku lub kilkunastu przedmiotów, podaliśmy sposoby; też samé służyć do zrysowania Mappy obszérniéjszój sztuki ziemi: z tą tylko różnicą, że tu większą liczbę Trójkątów w nieprzerwanym między sobą ciągu utrzymywać, tudzież do ich wyboru i obrachunku, (osobliwie gdy dla pośrednich przeszkód na niektórych stanowiskach potrzebne kąty nie mogą być uważane) więcéy nieco bacznosci i uwagi przyłożyć potrzeba: do czego następujące służyć będą prawidła.

§. 67. Uwagi szczególné.

O pomiarze fundamentalnéj Podstawy.

Lubo wymiar fundamentalnéj podstawy, przy Trygonometryczném robieniu Mappy Okolicy iakowój, nie koniecznie piérszém być powinien dziełem; lecz można go przedsięwziąć kiedy i gdzie grunt naywygodniéjszy do tego zdarzy się; iednakże nader pożyteczna iest rzecz, iezeli nie zaraz na początku roboty, to przynajmniej wkrótce po zaczęciu onój, rzeczona podstawę wymierzyć: Tak bowiem nie tylko wyznaczone już na polu Trójkąty

ciągle na papier przenosić, ale téż gdy nie-
pogoda przez który dzień w domu siedzieć
przymusi, podtenczas obrachunek ich roz-
począć będzie można, zapobiegając, aże-
by się na sam koniec zbyt wiele takowé-
go obrachunku nie nazbięrało. W powsze-
chności zaś przy obieraniu miéysca zdalné-
go do wyciągnięcia na niém fundamen-
talnéj podstawy, iako téż przy wymiarze iéy
następujące ostróżności zachować potrzeba.

1. Plac obrany, powinén byđ ilé mo-
żności na otwartéy i od wszelkich prze-
szkód wolnéy, położony równinie, co i do
pośpiechu i do dokładności w rozmiarze iest
wielce pomocné.

2. Na tak obranym placu wyciągnięta
fundamentalna podstawa také położénie
mieć powinna, aby iak naybliżey do linii
południowéy przystępowała, co za pomocą
magnesowey igielki, pospolicie przy kąto-
mierzach znajdującey się łatwo otrzymać
można: tudzież aby z ciągiém czyli iak na-
zywają z siecią Tróykątów nie pośrednie
łączyć się mogła, toiest: aby sama ieden
ich bok czyniła.

3. Długość obranéj podstawy stosować
należy do wielkości mających się wyzna-
czać Tróykątów: inaczey nie tylko brané
na niéy kąty zbyt ostré wypadną, czégo
mocno chronić się potrzeba; ale nadto po-
pełnione przy iéy wymiarze iakiékolwiek
uchybieńie, którego się prawie nie pod-

bną ustrzedz, tém więcéy w następujących dłuższych bokach powiększy się i pomnoży; im oné bardziéy długością swoją przewyższać będą fundamentalną podstawę.

4. Jeżeliby przedsięwzięta do wymiaru Okolica bardzo daleko za fundamentalną podstawę rozciągała się; w takowym razie naylepiéy jest drugą gdziekolwiek wymierzyć, dla doświadczenia, iak się téż długość iéy znaleziona przez rachunek, zgadzać będzie z uczynionym onéyże wymiarém.

O obieraniu stanowisk i wymiarze kątów.

Namyśliwszy się podczas zwiędzania Okolicy, §.49. skąd rozmiar zacząć i iak nieprzerwany ciąg iego utrzymywać się ma; udadź się potrzeba z Instrumentém na stanowisko naybliższe, i na niem iako i na wszystkich innych następujące zachować przestrogi:

1. Należy obierać stanowiska w takich miejscach, na którychby rylé kątów wyznaczyć dawało się, ilé ich potrzeba do obrachowania ciągu uformowanych na ziemi Tróykątów. Za mało obierając stanowisk, częstokroć obrachunek jest niepodobny, większa zaś ich liczba, sprawuie wprawdzie pewność, bo rozmaitym sposobém rachunek odprawiać można, ale tém samém przyczynia pracy, i wielé czasu zabiera. Tę więc istotną w obie-

raniu stanowisk trzeba zachować ostrożność, aby żadnego nie obierać stanowiska takiego, któreby już z poprzedzających nie było wyznaczone, i z któregoby do dwóch przynajmniej albo trzech już wyznaczonych przedmiotów na odwrót celować i między niemi zawartych kątów brać nie można było.

2. Dla tém większey pewności i łatwiejszego postrzeżenia błędu, oto usilnie na każdym stanowisku starać się potrzeba, aby wymiérzaniem kątów, całego koła czyli całego okręgu dopełniać; gdy bowiem summa tak wymiérzonych kątów wyrówna 360° , albo téż mało co do niéy zabraknie, będzie to dowodem, iż do wymiaru ich żadné znaczniéjszé nie wpłynęło uchybienie. Jeżeli zaś do dopełnienia całkowitego okręgu zbywać będzie na widzialnych przedmiotach należących do samego rozmiaru: trzeba w takim razie brać inné iakiekolwiek punkta mogącé służyć do tego celu, a potém ie z ciągu Trójkątów wyłączyć. Co gdyby dla iakowych przeszkód nie można było napełnić kątami całkowitego okręgu, natenczas starać się potrzeba, te przynajmniej kąty, które brać można, kilka razy doświadczać, poruszając po każdym celowaniu instrument i na nowo go ustawiając, byleby iednak nogi instrumentu z miéjsca poruszane nie były.

3. Tak

3. Tak stanowisko każde iako téż uważané na niém kąty, tym porządkiem iak iedné po drugich następują, w umyślnie przygotowanym na to Pugillaresie zapisują się, wraz z nazwiskami przedmiotów, między którymi téż kąty uważané były: w czém tego osobliwiéy przestrzegać należy, żeby albo w wyminianie miéysc, albo w oznaczanie przedmiotów iakowa nie wcisnęła się omyłka. Z téy przyczyny dobrze iest mieć przy sobie kogo świadomego Okolicę, któryby tak położenie iako i nazwiska miéysc doskonale wiedział, lubo częstokroć i o tego biegłości lepiéy iest powątpiewać, a wprzód samému należycie i dokładnie o wszystkiém upewnić się i wywiedzieć.

Co się powiedziało o naznaczaniu kątów, toż samo rozumieć się ma o zapisywaniu długości linij prostopadłych, od prawdziwego punktu na fałszywé ramiona spuszcanych, iako téż o zanotowaniu, czyli przybrané stanowisko z lewéy lub prawéy strony, czyli przed, lub za prawdziwym punktem znayduie się: bo inaczéy poprawa szukaného kąta nie mogłaby bydź do skutku przyprowadzona, iako się to w §. 65, dokładnie wyłożyło.

4. Dla utrzymania nieprzerwaného ciągu Trójkątów, przypada częstokroć, zwłaszcza w Okolicach pustych i nieosiadłych, obierać punkta stanowisk na takich miéy-

scach, na których żaden z daleka widzialny przedmiot nie ukazuje się, aby do niego celować można: w podobnych więc przypadkach, potrzeba samému takowe znaki stawiać. Do małych odległości dostateczne są zwyczajne chorągiewki miernicze, do większych wysokie tyki, a do bardzo przeciągłych, słupy grube z skóry odarte potrzeba kazać wystawiać. Kiedyby punkt iaki w takim zostawał położeniu, iżby z niego żaden z pomienionych dopiero znaków widzieć nie dawał się; trzeba pod wieczór czasu umówionego, ogień na tamtém miejscu podniecić, albowi téż użyć racy lub innych tym podobnych rzeczy.

O Obrachunku Trójkątów.

Gdy przystępujemy do rozwiązania Trójkątów, rozumiemy więc że już w całym ich ciągu oprócz wiadomego iednego boku to jest fundamentalnéj podstawy, tylé jeszcze z poprzedzaiącego wymiaru znayduje się wiadomych kątów, ilé ich potrzeba do należytego odprawiénia rachunku. Możliwi było więcéy kątów nad potrzebę wymierzyć? tedy one nie tylko rachunek ułatwią, ale téż do zapewnienia się o dokładności roboty służyć będą: gdyż naówczas wielorakim sposobém obrachunek będzie można odprawiać. Nadewszystko zaś przyzwyczać się należy do pewnego porządku

żeby, gdy się w rachunku iakiéy dostrze-
że omyłki, łatwiéy poznać można, gdzie
się zaczęła, i nie byđ przmuszonym do
powtórzenia całkowitégo obrachunku.

Pospolicie rachunek zaczynać się zwykł
od tych Tróykątów, które dwoma bokami
swémi opieraia się na końcach fundamen-
talnéy podstawy, iako na boku wspólnym:
że zaś w każdym z nich wiadomy iest
bok ieden to iest fundamentalna podstawa,
z dwoma iéy przyległemi kątami; zatém
łatwo podług przypadku 1go §. 52, można
wyrachować dwa inné boki každého z po-
mienionych Tróykątów. Podobnie, w in-
nych następných a z piérwszemi nieprzer-
wanym ciągiem łączących się Tróykątach,
ponieważ zawsze tak z poprzedzaiącego ra-
chunku, iako téż z odprawioného na grun-
cie wymiaru, zawsze byđ muszą wiado-
mé albo dwa kąty i ieden bok, albo dwa
boki i ieden kąt na przeciwko iedného
z tych boków położony, albo naostatek dwa
boki i kąt między niemi zawarty; zatém
dadzą się wyrachować inné niewiadomé
części tychże Tróykątów: a to podług §.
52. W ciągu rachunku trzeba mieć ba-
czność, aby natrafiwszy na kąty uważané
nie na właściwém stanowisku, naprzód ié do
prawdziwego wierzchołka przyprowadzić,
a potém dopiéro do dalszéy przystąpić ro-
boty.

Wszystkié té działania z Trójkątami zapisują się przyzwoitym porządkiem na przygotowaney umyślnie do tego karcie, aby z niéy potém wynalezioné przez rachunek długości boków brać, i ciąg Trójkątów czyli figurę łatwiéy ułożyć można. Naostatek robi się podziałka umiarkowana do wielkości rysunku i za pomocą iéy, iako téż większego cyrkla rysują się następnie Trójkąty proporcjonalné tym, których długość boków iest wiadoma z poprzedzającego rachunku. Tak figura na papierze wygotowana, podobna będzie figurze uformowaney na polu, iako składająca się z téżże liczby Trójkątów podobnych iedné drugim, i podobnie położonych.

§. 68. *Wzór Trygonometrycznie wymiérzonéy Mappy Okolicy N, z wyłożeniem sposobów, których tak do wymiaru, iako téż do iéy obrachunku użyto. (Tabl: 7. Fig; 68.)*

Dla dania dokładniéjszego wyobrażenia, iakby szczególné Trygonometryczne działania powinny bydz przystosowané do zrobienia Mappy, obszérnéy iakowéy sztuki ziemi; przytaczamy tu Mappę prawdziwie rysowaną: z wyłożeniem sposobów, których tak do iéy wymiaru, iako i do obrachowania użyto. Z wzoru tego łatwo każdy osądzi, iż wyłożoné w poiedynczych dzia-

łaniach sposoby, nie są próżnym i bezużytecznym rzeczy wyszczególnieniem, ale raczej przetrzymującym, zdarzającym się w praktyce rozmaitych trudności, ułatwieniem.

Wiedzieć naprzód potrzeba, iż Okolica ta pasmem rozciągających się wzgórków na dwie nieiako części podzielona była: że powtórę, na czterech wyniosłych miejscach *H, S, O, F*, umyślnie ogromniejsze stawiać musiano znaki, ażeby te ze wszech stron na następujących stanowiskach widziane i przecinane, nie przerwany ciąg Trójkątów utrzymywały: że potrzebie, fundamentalna podstawa naywygodnięj mierzyć się mogła między przedmiotami *N*, i *T*: że poczwarte, wymiar był rozpoczęty na *M*, i że do naznaczonych podczas zwiędzania Okolicy stanowisk, tym porządkiem postępowano, iak na pomienionej figurze oznaczają liczby następne 1, 2, 3, 4, 5, 6. Ze naostatek na pomienionych stanowiskach te tylko wymierzano kąty, które na Figurze małemi są oznaczone łukami, a które do uczynienia przynależytęgo obrachunku Trójkątów dostarczającemi były.

Lubo zaś w początkach rozmiaru, długość fundamentalney podstawy wiadoma ieszcze nie była, gdyż ta, iako się dopiero powiedziało, na samym końcu roboty między przedmiotami *N*, i *J*, wymierzoną być miała; wszelako ciąg, czyli związek, albo iak nazywają się Trójkątów, tym czasem na-

stępującym sposobem na papierze oznaczona i wyrażona być mogła.

A naprzód, aby na trzech pierwszych stanowiskach M, K, H , uformowane Trójkąty, czyli przecięte przedmioty D, S, O , przyzwoitym porządkiem na brulionie wyrazić; zrysowano na papierze linią MK , iakiękolwiek upodobany długości, potem na iéy końcach M, K , porobiono kąty DMK, DKM, OMK , i OKM , równé kątom wymierzonym na ziemi. Punkta przecięcia się ramion kątów wykręslonych, oznaczyły na brulionie położenie przedmiotów D, O . Daley w Trójkącie DKH ponieważ wszystkie trzy kąty były wiadome; więc gdy dwa z nich przyległe bokowi DH , zrysowano na końcach tegoż boku; punkt przecięcia się ramion zrysowanych kątów dał położenie punktu H . Podobnież na końcach boku HK , zrobione kąty SHK , i SKH , naznaczyły położenie punktu S .

Teraz ponieważ na następujących stanowiskach A, G , ani jedno od drugiego widziane, ani kąty SAG, OAG , iakotéz i niektóre inne, dla pośrednich przeszkód, wyznaczone być nie mogły; przeto téż i dalszy ciąg uformowanych na ziemi Trójkątów nie dał się na brulionie wyrazić póty, póki się nie doszło do stanowisk L, N . Na tych więc pomiénionych stanowiskach L, N , wymierzwszy potrzebne kąty, wyciągnięto naprzód na innym papierze lini-

ią LN , upodobanęj długości, potem zaś na ięj końcach robiono kąty tym porządkiem, iakim oné na ziemi były uważané: naręczas punkta przecięcia się ramion kątów zrysowanych, dały położenie przedmiotów F, C, R .

Dotego ponieważ naprzód na stanowisku G , potem zaś na stanowisku A , wyznaczoné były dwa kąty, ku każdemu z pomienionych punktów F, C, R ; więc położenie obydwóch punktów G, A , wyrażoné bydź mogło na brulionie, podług przypadku trzeciego §. 64. Postępując daléj, robioné były przyzwoitym porządkiem kąty $FAO, OAS, OAN, FGO, OGS, OGW$, a tak naznaczyło się na brulionie położenie punktów W, S, O , z których dwa ostatnie $S, i O$, już i na pierwszym brulionie położenie swoje miały naznaczone. Ze iednak punkta O, S , pierwszego brulionu, nie mogły bydź złączone z temiż punktami drugiego brulionu, a to dlatego, że długość linii LN , była wzięta podług upodobania, bez wszelkiego stosunku do pierwszey linii MK ; przeto aby Trójkąty pierwszego brulionu połączyć z Trójkątami drugiego, a tém samém na iednym papierze mieć całkowitą ciągłą figurę; tym końcem na linii OS , drugiego brulionu, przerysowano kąty KOS , i KSO , przyległé téż samęj linii drugiego brulionu, przecięcie się ramion kątów wykręślonych naznaczyło na drugim bru-

liionie położenie punktu K , pierwszego brulionu. Tym sposobem mając już wyrażony na drugim brulionie Trójkąt KOS , pierwszego brulionu, łatwo było inne pozostałe Trójkąty pierwszego brulionu połączyć z Trójkątami drugiego: a tём samém ułożyła się figura pokazująca ciągłe i następne położenie Trójkątów uformowanych na gruncie.

Zakończywszy rozmiar kątów, tudzież oznaczywszy na papierze ich ciągłe następstwo, tak iak się dopiero wyłożyło; wymierzono z jak największą pilnością i dokładnością fundamentalną podstawę FN , podług §. 5, potem dopiero rozpoczęto obrachowanie Trójkątów, w sposób następujący.

1. W Figurze $FNFE$, mając wiadomy z pomiaru bok FN , iako fundamentalną podstawę, tudzież kąty $E\mathcal{F}F$, $F\mathcal{F}N$, $\mathcal{F}NE$, $EN\mathcal{F}$, z końców téżże podstawy wymierzone; obrachowano ważność boków $E\mathcal{F}$, EN , EF , $F\mathcal{F}$, i FN , podług przypadku pierwszego §. 57. Po uczynionym téy figury obrachunku, wyciągnięto na papierze linią, i dano iéy tylé części wziętych na podziałce umiarkowaney do wielkości rysunku, ile znaleziono miar w podstawie fundamentalnéy FN . Chcąc potem oznaczyć bądź którykolwiek punkt widziany z końców podstawy $N\mathcal{F}$, np: punkt E , wzięto na podziałce tylé części, ilé wypadło z rachun-

ku miar na linią FE , i z lewego końca linii oznaczający na papierze fundamentalną podstawę, narysowano łuk. Wzięto podobnież na podziałce tylé części, ilé znaleziono miar w linii NE , i z prawego końca podstawy, narysowano drugi łuk, w téż samę stronę co i łuk pierwszy. Punkt przecięcia się łuków nakreślonych naznaczył na papierze położenie punktu E . Tymże samym sposobem sobie postąpiono, mając oznaczyć położenie punktu F , iakotéż i innych przedmiotów, których odległości z dalszego obrachunku będą wiadomé.

2. W Figurze $FNLRC$, mając z poprzedzającego rachunku wiadomy bok FN , iakotéż kąty wszystkie na stanowiskach N , L , uważané; łatwo wyrachowano inné boki i kąty, podług 1go, i 2go przypadku §. 57.

3. Teraz ponieważ w Trójkącie FCR , wszystkie boki i kąty są wiadomé, a do wierzchołka iego C , ze stanowisk A , G , po dwa kąty wymiérzone były; toiest na pierwszym stanowisku A , uważano kąty FAC , i CAR , zaś na G , kąty FGC , i CGR ; przeto można będzie obrachować podług przypadku trzeciego §. 64, naprzód boki AF , AC , AR , potém boki GF , GC , GR , tudzież kąty ACF , i GCM . Naostatek odciągawszy kąty FCR , ACF , GCR , od 360° , reszta pozostała okaże ważność kąta ACG .

4. Tym sposobem w Trójkącie ACG , doszedłszy ważności boków AC , GC , z kątem ACG , między temiż bokami zawartym; mógł się podług przypadku 3go §. 52, obrachować bok trzeci AG , z kątami CAG , AGC , sobie przyległemi. Po wynalezieniu zaś dwóch dopiero wymienionych kątów CAG , AGC , łatwo doszło się ważności dwóch innych WAG , i AGO : gdyż pierwszy z nich $WAG = 360 - CAG - CAF - FAO - OAW$, drugi zaś $AGO = CGO - AGC$.

5. Zakończywszy obrachunek poprzedzający figury, przystąpiono do obrachowania następującej $AGWSO$: w której, ponieważ bok AG , był wiadomy ze wszystkiemi kątami, które z końców A , G , ku przedmiotom O , S , W , były wyznaczone; zatem obrachowały się inne boki i kąty, podług przypadku pierwszego §. 57.

6. W Figurze $OSHDMK$, mając wiadomą ważność kątów uważanych na trzech stanowiskach M , K , H , prócz tego mając wiadomy bok OS , z poprzedzającego rachunku; dóysdź można było ważności innych boków i kątów podług §. 63.

7. W Trójkącie AOF , z wiadomych boków AO , AF , wraz z kątem OAF , między niemi zawartym, wyrachował się podług przypadku 3go §. 52, bok trzeci, z dwoma innemi niewiadomemi kątami.

8. Od 360° odciągwszy wszystkie wiadome kąty około punktu O leżące, reszta pokaze ważność kąta MOF . Ponieważ zaś w Trójkącie MOF , prócz kąta dopiero wynalezionego, wiadome jeszcze są z poprzedzających rachunków boki MO , FO , także kąt czyniące; łatwo zatem dać się obrachować bok MF , z kątem MFO , podług przypadku 3go §. 52.

9. Podobnież od 360° odciągawszy wszystkie kąty około punktu F leżące; reszta będzie ważnością kąta MFE : a że w Trójkącie MFE , są także wiadome boki MF , FE , także kąt czyniące; przeto można wyrachować bok ME , podług przypadku 3go §. 52. Tymże sposobem w Trójkącie HSW , obrachowano ważność boku HW .

10. Ponieważ zaś w działaniach Trygonometrycznych częstokroć zdarza się, iż kąty nie na właściwem stanowisku uważane być muszą; przeto gdy się w ciągu obrachunku do takich kątów przyydzie, natychmiast ié do właściwych stanowisk czyli wierzchołków przyprowadzić należy: a to za pomocą Trójkątów prostokątnych, których kąt prosty zawsze bywa zawarty między jednym z boków fałszywych, i linią prostopadłą od wierzchołka kąta prawdziwego na także bok fałszywy spuszczoną, co z figury 63 i 64 łatwo miarkować daie się. W tych tedy Tróy-

kątach znalazłszy ważność kątów ostrych *CAP*, *PBB*, (Tabl: 6. Fig: 65,) potrzeba ié podług wyłożonych w §. 65 przypadków, albo dodadź do kąta na niewłaściwém stanowisku uważanego, albolí téż odciągnąć: a tak dopiero otrzymawszy ważność kąta prawdziwego, do dalszych obrachunków przystąpić.

11. Dłkonawszy Trygonometrycznego rachunku wyłożonemi dopiero sposobami, nie zostaje nic więcéy tylko przy każdym z tych punktów naznaczyć przyzwoicie uważané przedmioty: punkta zaś pośrednie pomiędzy temi przedmiotami, wyznaczają się w sposób następujący.

§. 69. *Wynalazłszy Trygonometrycznie i przéniosłszy na Mappę główniéysze punkta Okolicy iakowéy; iak się na téyże Mappie wyznaczają drobnieysze części między głównemi punktami zawarté: iakoto łaki, pola, lasy, ieziora, bagna, zakręty rzék, dróg, i t. d.*

Tak do wymiérzania drobnieyszych części Okolicy iakowéy, którój znakomité punkta wzwyż podanemi sposobami były wynalezioné i przeniesioné na papier; iakotéż do przydania na gotowéy karcie przedmiotów, których położénia były opu-

szczoné; pospolicie używać się zwykło Mierniczégo Stolika, a to w sposób następujący.

Za pomocą większego cyrkla przenosi się tylé główniéjszych punktów czyli Trójkątów na Stolik, ile on ogarnąć ich może. Przymém naznacza się kierunek znalezioné przy Trygonometrycznych działaniach południowéj linii, albo też iéy równolégłéj, linią przez cały Stolik przeciągnioną. Przez nią tén niémały odnosi się pożytek, iż wszystkim iednému po drugim zarobionym arkuszom iednakie w rysunku położenie, toiest ku północy, dać można; co, zwłaszcza gdy kilka razem Stolików do roboty używać przychodzi, nie łatwo otrzymywać się zwykło.

Ponieważ Trygonometrycznie wyznaczone punkta pospolicie daleko od siebie leżą, a rozmaité przeszkody nie pozwalają, aby na każdém mieyscu dwa lub trzy pomienioné punkta razem dawały się widziéć; przeto na początku zaraz roboty Stolikiem, trzeba z jak największą pilnością takowé mieysca wyszukać i położenie ich podług §. 39 na papierze oznaczyć, aby tym sposobém przyczynić i pomnożyć sobie liczbę główniéjszych punktów, z którychby potém na każdém mieyscu, gdzie tylko Stolik ustawi się, dwa lub trzy łatwo widziane bydz mogły. Jeżeliby na tych nowynalezionych punktach żadné widzialné

nie znajdowały się przedmioty, w takim razie trzeba na nich ustawiać kazać chorągiewki, lub proste a wysokie tyki mające wierzchołki swoje sromą okręconę. Dotęgo, aby nie bydz przymuszonym powtórnie na tęż samę stanowiska powracać, tedy za iednym zawodem wszystkie blisko nich leżące przedmioty, podług §. 26 przenoszą się na Stolik: celuje się także na odlegléyszé, w nadzieię że ie na którém z następujących stanowisk przeciąć będzie można.

Gdy się tym sposobém tylé głównych punktów i na Stoliku i na ziemi wyznaczy, ilé ich zdawać się będzie potrzebnych do obierania następných stanowisk na takich mieyscach, z którychby się niektóre znacznieyszé części Okolicy widziéć i na Stolik przenosić dawały; natęczas nie będzie trudno, nieco baczności i uwagi przyłożywszy, tudzież kilkakrotnie podané wyżey o robocie Stolikiém zadania odczytawszy; obwód łąk, pól, lasów, gór, zakręty dróg, rzék, położénie wsiów i t. d, słowém całą figurę i ułożénie zamkniętych między głównými Tróykątami części, iak naydokładniéy i z bardzo lekką pracą na Mappie oznaczyć i wyrazić.

Po zarobiéniu ze wszystkiém piérwszého arkusza, odrzyna się od Stolika, nowy się rozciąga, następujące główne Tróykąty z południową linią lub iéy ró-

wnoległą, iako się wyżej powiedziało, przenoszą się, i działanie dalej się ciągnie, póki wszystkie Trygonometrycznym sposobem wyznaczone Trójkąty nie zostaną wypełnione znajdującemi się pomiędzy niemi drobniejszemi Okolicy częściami. Kiedy już wszystkie zarobione arkusze w iedno składadź przychodzi; odcina się na iednéy stronie pierwszego arkusza wszystkie próżny papier, na téy zaś saméy stronie drugiego arkusza zostawie się próżnego papieru przynajmniej na $\frac{1}{4}$ cala, dopiero tak obcięte arkusze skleiają się: tym samym sposobem i z innemi arkuszami postępować należy.

Lubo wyłożony dopiero sposób robiénia Mapp jest naydokładniejszy, przenoszenie atoli na papier Trójkątów, przy pomocy podziałki i boków obrachowanych, mimo nayskrupulatniéjszey ostrożności, nigdy tak dokładnie, osobliwie gdy Okolica jest znacznie rozległa, odprawione być nie może, aby ostatnie icy punkta, względem pierwszych, widocznie prawdziwego położenia swoiégo nieuchybiły, ponieważ każde, w przenoszeniu na papier Trójkątów popelnione uchybienie, by téż było naymniejsze, wszystkim innym następnym Trójkątóm udziela się i pomnaża tém bardziéy, im większa liczba Trójkątów za początkowy ów błąd rozciąga się, a tém samém widoczną w położeniu punktów sprawić musi odmianę.

Aby więc źródło iednéy omyłki mniéy w takowé uchybienie wpływało, szukano sposobu, którymby wszystkie Trygonometrycznie obracho-

wane punkta tak można było przenieść na papier, iżby wyznaczone położenie jednych nie wpływało do wyznaczenia położenia drugich, a tém samém aby zdarzone uchybienie w jednym nie było na przeszkodzie do dania należytego położenia drugim. Sposób do tego pospolicie używany, zawisł na stosowaniu czyli szukaniu prostopadłej odległości owych punktów, od jedney linii, która się nazywa *południową*, bo tén icy zawsze daie się kierunek, i od drugiey zwaney *prostopadłą*, gdyż rzeczywiście do pierwszey prostopadle bywa prowadzona. Prostopadłe odległości punktów od linii zwaney *prostopadłą*, pokazują różnicę szerokości jednych punktów względem drugich: odległości zaś prostopadłe do linii *południowey*, daią różnicę długości tychże punktów. Nim przystąpiemy do czynienia pomienionego stosunku, obaczmy wprzód łatwiejsze wynadywania linii *południowey* sposoby, iakotéż wyznaczenia kąta, który liniia *południowa* czyni z przedmiotem iakowym podług upodobania obranym.

Sposoby wynadywania linii *południowey*, tudzież wyznaczenia kąta, który liniia *południowa* czyni z przedmiotem iakowym podług upodobania obranym, są następujące.

1wszy. Zrysuy na desce gładkiéy i poziomo ustawionéy, tam gdzie słońce z rana i popołudniu oświeca, okrąg koła iakimkolwiek promiieniem, i w środku iego wetknij pod pion iaką skazówkę tak długą, aby między dziewiątą i dziesiątą ranną godziną, koniec cienia skazówki dotykał się okręgu zrysowanego, i tén punkt naznacz z pilnością, ani skazówki ani deski nieporuszając. Potém między godziną drugą i trzecią popołudniu, pilnuy kiedy koniec cienia

cięcia skazówki dójdzie tego okręgu, i punkt dotknięcia znowu naznaczysz. Naostatek punkta naznaczone złącz linią, którą gdy przetniesz na dwie części równé, a od punktu przecięcia wyciągniesz inną linią prostą do środka okręgu; ta będzie linią południową żadaną.

Nakreśliwszy kilka kół spółśrodkowych, i naznaczywszy punkta, w których się cień skazówki będzie dotykał ich okręgu z rana i popołudniu, potem zaś dwa punkta każdego okręgu złączysz cięciwą, gdy każdą z nich podzielisz na dwie części równé, a od środka pierwszój cięciwy wyciągnięta linią do środka kół, przycydie oraz przez środek innych cięciw, będzie to dowodem dobrze znalezionej południowój linii.

Cheąc linią południową wytknąć na ziemi, przyłóż prawidło z celownikami do linii południowój dopiero wynalezionój, deski z położenia swégo nie nieporuszając, i podług kierunku celowników tak położonogo prawidła, każ ustawić dwie lub trzy laski: tym sposobem będziesz miał linią południową wyznaczoną na ziemi.

2gi. (Tabl: 7. Fig: 67.) 1. Na otwartym i od wszelkich przeszkód wolnym placu, obrawszy sobie jaki znakomity przedmiot *np: b*, ustaw poziomo Kątomierz w miéyscu takiém, z którego bvs wschód, i zachód słońca mógł wygodnie widzieć: toż przy wschodzie słońca wyznacz kąt między wschodzącém słońcém, które my tu kładziemy na *a*, i między przedmiotém *b*, toiest: wyznacz kąt *acb*. Podobnież przy zachodzie wyznacz drugi kąt *bcd*, między tymże przedmiotém *b*, i słońcém zachodzącém na *d*. Wymiar ten dla większój dokładności przez kilka dni powtarzać należy.

2. Kąt całkowity acd , przetnij na dwie równé części przez linią ec , ta linia ec będzie linią południową szukaną.

3. Naostatek odéymiy od kąta ace , kąt acb , albo téż od bcd , kąt ecd , reszta pozostała będzie ważnością kąta bce , który czynią dwie linie od iednegoż punktu c wychodzące, iedna ku przedmiotowi b , druga południowa.

Maiąc już wyznaczone na gruncie, a potem obrachowane położenia i odległości znakomitszych punktów Okolicy, tak iak wyłożyło się w §. 68; maiąc prócz tego wyłożonym dopiero sposobem wyznaczony kąt, który linia południowa czyni na gruncie z przedmiotem iakowym podług upodobania obranym; wyrachujesz prostopadłą odległość tychże punktów tak względem linii południowéy, iakotéż względem iéy prostopadłéy, następującym sposobem.

1. Szukay kątów, które rozmaite boki Trójkątów czynią z linią południową, albotéż iéy równoległą, a to przez dodawanie lub téż odciąganie kątów przyległych.

2. W każdym Trójkącie prostokątnym, przy pomocy wiadomych wszystkich kątów i przeciwprostokątnéy, dochodź przez rachunek ważności dwóch boków czyniących kąt prosty, podług §. 50.

3. Naostatek, wynalezioné przez rachunek prostopadłé odległości dodaway do linii południowéy, albotéż ié od niéy odciągay, podług tego iak będzie wymagała potrzeba.

Przykład. Daymy naprzód, iż podług sposobu 2go dopiero wyłożonego, wyznaczona iest linia południowa (Tabl: 7. Fig: 68,) przez punkt M przechodząca, toiest linia NS , iakotéż i kąt RNS , który taż linia południowa czyni z przedmiotem R . Powtóre, wystawmy sobie, iż od ka-

żdego Trygonometrycznie wyznaczoného i obrachowaného punktu, spuszczone są linie prostopadłe do linii południowey, tak iak daie widzieć Fig: 69, na którey linia Nfq , oznacza linią południową, zaś kąt fNR , ten sam iest, co na Figurze 68, kąt SNR .

1. W Tróykacie prostokątnym NfR , masz z poprzedzających rachunków wiadomą przeciwprostokątną NR , tudzież kąt RNf , który z południową linią Nf , czyni linią NR ; zatem łatwo wyrachować można odległość północną Nf , i wschodnią NR , podług przypadku 3go §. 50.

2. Od kąta fNR , odjąwszy kąt CNR ; będziesz miał w Tróykacie NbC , wiadomy kąt bNC , przeto na tymże fundamencie co i pierwéy, wyrachujesz odległości bN , bC . Podobnież od kąta FNC , odjąwszy bNC , reszta pozostała okaże ważność kąta FNg , a tém samym dóydziesz odległości Ng , gF .

3. Teraz do kąta FNg , gdy przydasz kąt ENF , summa z tego dodania wynikająca będzie ważnością kąta ENE : tak więc w Tróykacie prostokątnym NeE , podług wiadomych trzech kątów i przeciwprostokątnéy NE , dóydziesz prostopadłych odległości Ne , i eE , podług przypadku 3go §. 50.

4. Podobnież gdy do kąta ENE , przydasz kąt ENf , a ich summę odciągniesz od 180° ; reszta pozostała da ważność kąta fNc : więc w tymże Tróykacie łatwo wyrachujesz odległości Nc , cF .

5. Wracając się do dalszych punktów na północ położonych, odéymiy kąt NFg , od kąta NFG , tak mieć będziesz wiadomy kąt tFG , iako będący dopełnieniem kąta NFG , do 90° . Ze zaś masz także wiadomą przeciwprostokątną FG ; łatwo zatem dadzą się wyrachować dwa inné boki prostopadłe Ft , tG , podług przypadku 3go

§. 50. Ponieważ zaś $Ft = gm$, więc summa z linii Ft , i Ng , równać się będzie północny odległości Nm , czyli $Ft + Ng = Nm$. Do tego, ponieważ $Fg = tm$, zatem od tG , odjąwszy Fg , reszta pozostała będzie wyrażać wschodnią odległość mG , czyli $tG - Fg = mG$. Podobnymże sposobem dojdziesz kątów uFA , vFO , sFM , iakotóż odległości $Fu + Ng = Ni$; $uA - Fg = iA$; $Fv + Ng = Ni$; $Fg - vO = iO$; $Fs + Ng = Nk$; $Ms + Fg = kM$.

6. Dalej gdy kąt kMF , odéymiesz od KMF , reszta pozostała będzie równa kątowi KMx : przeto w tymże Trójkącie wyrachowawszy boki xK , xM , będzie $xK + Nk = Nn$, zaś $Mk - xM = nK$.

7. Dotego, odciągnawszy kąt $MKx + MKD$, od 180° ; reszta okaże ważność kąta DKy : przeto obrachowawszy boki Ky , yD ; będzie $Ky + Nn = Np$, zaś $yD + Kn = pD$.

8. Nadto od kąta DKH , gdy odéymiesz kąt DKy ; reszta będzie równa kątowi yKH , którego dopełnieniem do 90° , będzie HKz : więc doszedłszy przez rachunek, boków zH , zK , będzie $zH + Nn = Nr$, zaś $Kn - zK = Hr$.

9. Naostatek ponieważ kąt $FGS - FGt = aGS$, zatem doszedłszy odległości aS , aG , będzie $aS + Nm = No$, i $mG - aG = oS$. Tymże sposobem doszedłszy kąta bGW , a potem wyrachowawszy odległości bW , bG ; będzie $bW + Nm = Nq$, zaś $mG - bG = qW$.

Gdy już odległości pomińcionym sposobem są obrachowane, i dla lepszego porządku w tablicę ułożone, żadney więcej nie będzie trudności należycie i z jak naywiększą dokładnością, podług umiarkowaney podziałki do wielkości rysunku, onę przyzwoitym porządkiem na papierze oznaczyć.

Wyłożony dopiero sposób, stosowania Trygonometrycznie obrachowanych punktów do linii południowéy i iéy prostopadléy, pospolicie używany bywa od tych, którzy zatrudniają się robieniem Mapp Prowincy lub innych obszerniéjszych Kraiów, do czego bez poprzedniczéy wiadomości przynajmniey początków Astronomii przystąpić nie można. Pomnieyszé działania, iakié są téy Xiążki zamiarém, tego sposobu poprawy bynajmniey nie wyciągaia.





ROZDZIAŁ IV.

*O Kompasie czyli magnesowéy
Igielce, i oneyże użyciu, do
wymierzenia drobniejszych
części pola.*



§. 70.

IGielka magnesowa, o któręy w §. 24 namieniliśmy, bardzo wygodnie użyta być może do oznaczenia mniejszęy wagi punktów, iakoto: zakrętów drogi, rzeki, obwodu lasu, jeziora i t. d. na téy Mappie, na którą głównieyszę przedmioty już były przeniesionę sposobami w trzech poprzedziących Rozdziałach wyłożonęmi.

Aby zaś Igielka ku tému końcowi służyć mogła, powinna być osadzona w pośrodku okręgu podzielonęgo na 360° , a przy zewnętrznym ięgo brzegu, na przedziałach 180° i 360° , albo téż równolegle do linii przez té dwa przedziały przechodzącéy, mieć osadzonę takie dwa celowniki, iakie przy prawidłach do Stolika Mierniczęgo i Kątomiaru używanych widzięć się daią. Narzędzie tak sporządzonę ma

swoię nogę, na któręý podczas roboty osadzóné byđź może.

Używanie magnesowęgo Kompasü zasa-
dza się na własności Igiełki magnesowęý,
która zawsze w jednęmże położeniu zo-
staie, albo do tego położenia nazad powra-
ca, będąc od niego oddaloną, (przynay-
mnięý na témże samęm miejscu,) ieżeli
nie masz w bliskości żelaza, któręby ięý
zwrot kazię. Obróciwszy więc puszkę
z kompasęm, można sądzić o wiele iest
obrócona, porównawszy punkt, któręmu
Igiełka po obróceniu kompasü odpowiada,
z punktem któręmu odpowiadała z począ-
tku. Tęgo kompasü użycię iest toż samo
co i Kątomiaru, toiest do mierzenia ką-
tów: lecz że wiele przyczyn niedozwa-
ła dadź Igiełce znaczney długości, podzia-
ły stopniów wypadaią w narzędziu bardzo
szczupłę, dlaczęgo na niem kąty nie daią
się tak doskonale mierzyć iak na Kątomia-
rze: przeto tęż, iako się to wyžęý iuż po-
wiedziało, kompasü używać się nie zwy-
kło, tylko dó wymierzenia drobniejszych
części pola, któręgo główne punkta wzwyż
podanémi sposobami były wynalezionę i
przeniesionę na papiér, albo do przydania
na gotowęý iuż karcie przedmiotów, któ-
rych położenia były opuszczonę.

Daymy *np:* iż wymierzyć i na Map-
pie naznaczyć potrzeba położenie drogi
iakięý, i że (Tabl: 7. Fig: 69.) punkta

D, K, M, F, N , wyrażają rozmaite onéyże zakręty. 1. W znacznieszych drogi zakrętach KM, FN , pozatykawszy laski, ustaw kompas w pierwszym zakręcie D : wykieruy celowniki ku piérwszému lasce K , i uważ iaka jest ważność kąta γDK , zawartého między linią celową DK , i drugą linią Dy , oznaczającą kierunek Igiełki: potém przemierz odległość DK , i ważność iéy wraz z kątem w raptularzu zanotuy.

2. Przenieś kompas na drugi zakręt K , wykieruy celowniki ku lasce ustawionéy w następnym załomku M , i podobnież iak piérwéy, uważ kąt uczyniony przez linią celową KM , i linią kierunku Igiełki Kz : (linia kierunku Kz , jest równoległa piérwszemu kierunkowi Dy , gdyż Igiełka zawsze do tegoż położenia nazad powraca) zmierzysz daley KM , i w każdym zakręcie odprawisz działania tym podobné. W tén sposób odmierzywszy wszystkie kąty i odległości, przeniesiesz ié na papier iak następuje: Figura taż sama.

3. Obierz na papierze do upodobania punkt D , mający oznaczać piérwsze stanowisko, czyli tén zakręt drogi od którego wymiar rozpocząłés, i przez punkt obrany wyciągniy linią prostą Dy , skazującą kierunek magnesowéy Igiełki. W Punkcie D , przy pomocy przenośnika lub Tablicy kątów płaskich, zrób kąt γDK , równy piérwszemu kątowi wymierzonému na gruncie, a

linii DK , dasz tylé części wziętych na podziałce, ilé w odległości stanowiska pierwszego od drugiego, znalazłéś miar. To wykonawszy, przez punkt K , wyciągniesz linią Kz , linii Dy równoległą, i zrobisz kąt zKM , równy drugiemu kątowi uważanému na gruncie, potém dasz linii KM , taką długość z podziałki, iaką znalazłéś w odległości odpowiadającéy na ziemi. Tymże sposobém, z wszystkiemi innémi zakrętami sobie postąpisz.

Daymy powtóré, (Tabl. 3. Fig. 34.) że na papier przenieść potrzeba bieg rzeki $GFEDBA$. 1: Wyciągnąwszy sznur od G , do załomku F , wymierz na punkcie G kąt, który Igiełka magnesowa czyni z linią GF : potém do rozciągnioného sznura spuszczaż za pomocą łaski opisanéy przy końcu §. 20, pomnieysze prostopadłé od znacznieyszych zakrętów brzegu, tak iak się na Figurze widziéć daia, i té wszystkie wymiary przyzwoitym porządkiem w raptularzu zanotuy. 2. Przeciągniy sznur od F , do C , uważ kąt, który Igiełka magnesowa czyni z linią FC , i znowu od znacznieyszych zakrętów brzegu, spuszczaż do sznura liniie prostopadłé: wszystkie wymiary tak iak piérwéy w raptularzu zapisuiąc. Od punktu C , postępowalbyś tym samym pospobém póty, pókiby tego wyciągała potrzeba. Po zakończonym wymiarze ziemnym, łatwo raptularz przeniesiesz

na czysté: pomniąc na to co się dopiero mówiło o drodze, iakotéż co się powiedziało w §. 20, i 28, o rysowaniu biegu rzeki.

Co się powiedziało o zakrętach drogi i rzeki, oczywiście przystosować się daie do zrysowania obwodu lasu, jeziora, bagna, i innych miejsc wewnątrz nieprzebytych i nieprzystępnych.

ROZDZIAŁ V.

O Przerysowaniu Mapp.

Przerysowanie Mappy troiakié bydz może, *piérwsze*, w jednéyże wielkości, *drugie*, większe, *trzecie*, mnieysze niż Exemplarz czyli Mappa oryginalna.

I.

§. 71. *Przerysowanie Mappy w tężyże wielkości co Oryginał.*

Sposób piérwszy. Na twardey i gładkiéy tablicy lub stole, przykleiwszy kartę białą, rozciągnij na niéy i przytwiérdz szpilkami lub woskiem Mappę wziętą do przekopiowania. Potém cienką igiełką opra-

wną w drewnienko tak, żeby ledwie ię ostrze widzieć dawało się, przekalaj lekko wszystkie szczególności znajdujące się na Mappie oryginalney, iakoto: zakręty granic, rzek, dróg, drożyn, lasów, pól, łąk, gór, położenia wsi, folwarków, młynów, stawów, mostów i t. d. Tym sposobem wykłówszy należycie wszystkie znaki, odéymy Mappę oryginalną, i na nię zagładz kostką lub paznokciem porobioné dziurki, a na nowę Mappie czyli kopii przeciągay od dziurki do dziurki linie, częścią prosté, częścią wężykowaté, podług tego iak będzie wyciągała potrzeba: mając zawsze przed oczyma Mappę oryginalną, abys w łączeniu punktów nie póbłądził. Po oznaczeniu całkowitéy kopii ołówkiem, rzecz każdą przyzwoitym kolorem wyrazisz tak, iak się niżej powie.

Wyłożony dopiéro mechanizm równie pracowity iak nudny, niektóre nieprzyzwoitości za sobą pociąga, osobliwie gdy plan mający bydz przekopiiowany wiele drobnych kawałków w sobie zamyka. Bo naprzód, iak łatwo niektóre punkta w ciągu przekalania opuszczone, tak téz przeciwnie, niektóre pokilkakrotnie przekalane, a tém samém i kopii i oryginał znacznie uszkodzone bydz mogą. Do tego po odjęciu Oryginału, nic więcéy nie pozostaje na kopii, iak tylko niezliczona liczba dziu-

rek, w których łączeniu, przy największy nawet baczości, bardzo łatwo pomylić się można.

Sposób drugi. Aby przekalaniem nieuszkodzić Mappy oryginalnej, niemasz pewniejszego i krótszego sposobu do przekopiowania iey w téżże samey wielkości, nad użycie szkła. Jeżeli plan iest mały, można do przerysowania go, użyć kwatery z okna, na której nie masz prętów żelaznych, lecz gdy iest wielki, w tym razie tafle od karét są naywygodniejszé. Naylepiéy zaś iest mieć ku własney wygodzie tafle szklaną wielkości arkusza ordynarynego papiéru, oprawną w ramy drewniane, opatrzoné z jednéy strony taffi dwoma takiemi podpórkami, iakié u zwierciadeł używanych przy gotowalniach widzieć się daią. Podpórki té aby światłu na przeszkodzie nie były, powinny bydz przyprawné do dwóch którychkolwiek przeciwległych sobie ram téżże taffi.

Chcąc przy pomocy pomiénioného szkła Mappę iakową przerobić w téżże samey wielkości; dobierz arkusz cienkiego białého papiéru, i przytwierdz go do Mappy szpilkami lub woskiem tak, aby ta była na spodzie. Potém, oba té papiéry położ na szkłe, grzbiet Mappy obracając do szkła, i aby się nie usuwały przytwierdz ié do ramy górney dwoma lub trzema szpilkami. Naostatek, tak przy-

braną taflę gdy ustawisz na stole przeciw największemu ilé bydz może światłu; będziesz widział przez biały papier wszystkie szczególności znajdujące się na Mappie oryginalnéy: wziąwszy więc ołówek cienko zacięty, oprowadź go po wszystkich Mappy oryginalnéy zakrętach i liniach przez biały papier ukazujących się. To gdy wykonasz będziesz miał dokładną Mappy oryginalnéy kopią, którą gdy zechcesz znowu przenieść na inny grubszy rysunkowy papier, postąpisz sobie tak, iak się powie pod liczbą 3cią, sposobu następującego.

Sposób trzeci. 1. Przygotuy jeden, dwa, lub więcej arkuszy papieru białego iak najcieńszego, który, aby ieszcze przezroczystszym stał się i kolor biały utracił, napuscisz go pokostém, a potem dobrze wysuszony wytrzesz po obóh stronach ośrodkiem czerstwého białego chleba, dla odjęcia mu wszelkiéy tłustości, któraby się mogła pozostać i Mappę oryginalną uszkodzić. Zamiast namazania papieru pokostém, można go napuścić woskiem żółtym, tak iak bywa ów papier, którego używają dzieci zaczynające uczyć się pisać, co téż nierównie wygodniéjsza jest: gdyż papier pokostowany dłuższego nieco czasu do należytego wyschnięcia potrzebuie. Radzą niektórzy napuszczać papier oléykiem terpentynowym: ale tén prócz odrażające-

go zapachu, który się papierowi udziela, żadney znakomitę w jego białości nie sprawiaie odmiany.

2. Mappę przedsięwziętą do przekopiowania rozciągnąwszy na stole równym iak można naygładzię, pokryy ją owym pokostowanym lub téż woskowanym papierém, i wraz z Mappą przytwierdź do stołu szpilkami lub innym iakowym sposobém: natenczas przez pokostowany papier będziesz widział dokładnie wszystkie szczególności znajdujące się na Mappie oryginalnéy. Wziąwszy więc ołówek dobry cienko zacięty, znacz nim na papierze woskowanym, wszystkie przezeń ukazujące się miejsca Mappy oryginalnéy, iakoto: zakręty rzek, dróg, pól, łąk, lasów, gór, tudzież położenie wsi, budynków i t. d. Dla oznaczenia linii prostych przydłuższych, dosyć iest naznaczyć każdę z nich dwa lub trzy punkta, a potém ie podług liniału ołówkiem przyzwoicie wyciągnąć. Tak mieć będziesz ze wszech miar dokładną Mappę oryginalnéy kopią, tylé tylko ię brakować będzie, iż nie na białym papierze zostaię: wszakże możesz ją na inny czysty papier przenieść albo przekalaniem podług sposobu 1go, albo téż, co nierównie lepięy iest, tak iak następuie.

3. Kawałek ołówka starszy na proch, poczerniy nim należycie iednę stronę arkusza iakięgokolwiek ordynaryynęgo pa-

pieru. Potem rozciągnąwszy na gładkim stole papier, na którym chcesz kopią woskowaną przerobić, położy na nim arkusz potarty ołówkiem, czarną stronę obracając na spód, to jest ku papierowi białemu; na tych zaś obudwóch papierach położy znowu kopią na woskowanym papierze zrobioną; i aby papiery te z pod ręki nieusuwaly się, przywiędzisz je do stołu szpilkami. Tak utwierdziwszy papiery weź igłę na końcu okrągławo przytępioną, lub też inny jaki sztyft iey podobny, i oprowadzaj go (ani zbyt lekko, ani też zbyt mocno przyciskając) po wszystkich liniach na woskowaney kopii znajdujących się. To gdy wykonasz, za odcięciem kopii i poczernionego arkusza, znajdziesz na białym papierze iak naydokładniéy wszystkie te części oznaczone ołówkiem, które na woskowaney kopii znajdowały się.

Gdybyś miał raptularz iakowy do przerobienia na czysté, mógłbyś grzbiet jego poczernić ołówkiem, a potem tak się z nim obeysdz, iak się o kopii na woskowym papierze zrobioney powiedziało.

II.

§. 72. *Przerysowanie Mappy na większą lub mnieyszą.*

Sposób piérwszy. (Fig: 70. Tabl: 7.)
1. Wedle długości i szerokości Mappy

wziętę do przerobienia, wyciągnij dwie linie względem siebie prostopadłe, iakię tu są linie ac , ab . Potem jeżeli Mappa oryginalna ma swoją podziałkę, węż na nię cyrklem tyle części równych, ile się podoba, np: 5, 10, 15, 20, i t. d. i części wzięte naznacz od punktu a , wzdłuż obu dwóch linii, tyle razy ile będzie wyciągała potrzeba: i tak tu na linię ab , części wzięte przeniezione były razy 4, a na linię ac , razy 3. Jeżeli zaś Mappa dana nie ma swojej podziałki; w tym razie na liniach ac , ab , naznaczysz iakiękolwiek części równé, podług upodobania wzięte. Naostatek przez wszystkie punkta podziałów linii ac , ab , wyciągnij ołówkiem na Mappie linie, do długości i szerokości téżże Mappy równoległe: tak mieć będziesz Mappę daną zamkniętą w Prostokąt $cabd$, podzielony na kratki czyli kwadraciki, iakoto na pomiénionę figurze widzieć się daie. Względem kratek tę ostrożność zachować należy, aby oné tém mnieysze były, im drobnieysze są części Mappy wziętę do przerobienia.

Dla większę łatwości prowadzenia linii równoległych, można użyć następującego sposobu, zwłaszcza jeżeli na wiele równych części linie ab , ac , są podzielone. Wyznaczywszy na liniach ac , ab , części przyzwoite, naprzód przez końce ostatnich podziałów iak tu c , i d , wyciągnij dwie drugie linie prostopadłe cd , bd : potem

tém dzieli od punktu *b*, linią *bd*, zaś od punktu *c*, linią *cd*, na takie części, na jakie linie *ac*, *ab*, piérwéy podzieloné były: a gdy punkta podziałów równych znajdujących się na *ab*, połączysz liniami z punktami odpowiadającými linii *cd*, zaś punkta podziałów linii *ac*, połączysz z punktami odpowiadającými linii *bd*; będziesz miał tak jak piérwéy Prostokąt *cabd*, podzielony na kratki.

2. Teraz jeżeli chcesz aby Mappa szukana czyli kopia była mniejsza np: połową, częścią *3cią*, *4tą*, *5tą*, i t. d. albo téż 2. 3. 5. i t. d. razy większą od Mappy oryginalnéy, a ta nie ma swoiéy podziałki; szukać więc będziesz takiéy linii, na którejby wystawiony kwadrat, taki miał stosunek do iednégo z kwadratów znajdujących się w Prostokącie *abcd*, jaki między powierzchnią Mappy oryginalnéy, i powierzchnią Mappy szukanéy zachodzić powinien. Znalazszy taką linią, użyiesz iéy do zrobiénia drugiégo Prostokąta, któryby ią w długości i szerokości swoiéy zamykał tylé razy, ilé się części równych znajduje w długości i szerokości Prostokąta piérwszego. Natenczas bowiem, jeżeli ieden kwadrat Prostokąta drugiégo będzie mniejszy połową, częścią *3cią*, *4tą*, *5tą*, albo téż większy 2. 3. 4. i t. d. razy od iednégo z kwadratów Prostokąta piérwszego; wszystkie także razem kwadraty Prostokąta drugiégo będą mniejsze połową, częścią *3cią*,

4tg, 5tg; albo też 2. 3. 4. 5, i t. d. razy większe od wszystkich razem kwadratów Prostokąta pierwszego, a zatem i place czyli powierzchnie Mapp między temiż Prostokątami zawartych, w tym samym będą między sobą stosunku. Jeżeliby zaś Mappa dana miała swoją podziałkę, natenczas zamiast wynadywania boku kwadratu, szukać należy podziałki, za pomocą której zrobiony Prostokąt, takiby miał stosunek do Prostokąta zamykającego Mappę daną, iaki między powierzchnią Mappy szukaney i Mappy daney zachodzić powinnién.

Działanie Jeometryczne zmierzające do wyznalezienia kwadratu, któryby do kwadratu danego miał się w danym stosunku, jest następujące.

Gdyby np: znaleźć potrzeba było kwadrat, któryby był połową kwadratu danego; natenczas linią równą bokowi kwadratu danego podzieliwszy na dwie części równé, przeciągnij ją po jednéj stronie, tak aby 3 części takich zamykała iakich nieprzedłużona zamykała dwie. Natęj linii iako na średnicy nakreśl półkole, i od punktu, od którego jest przedłużona, wystaw prostopadłą, aż do przecięcia się z okręgiem półkole. Ta prostopadła, zwana *średnią linią proporcjonalną*, będzie bokiém kwadratu szukanego, to jest takięgo, który kwadratu danego będzie połową. Podobnie chcąc znaleźć kwadrat, któryby danęgo kwadratu był $\frac{1}{3}$, $\frac{1}{4}$, $\frac{1}{5}$, i t. d. szukałbyś wyłożonym dopiero sposobém, między bokiém kwadratu danęgo, i tegoż boku

częścią $3cią$, $4tą$, $5tą$, i t. d. średnię linii proporcjonalnej. Tak więc postąpiłbyś sobie wtenczas, gdyby Mappa mająca być przerobioną nie miała swojej podziałki.

Jeżeliby zaś Mappa dana miała swoją podziałkę, natenczas (iako się już powiedziało) szukać potrzeba nie boku kwadratu, ale linii której ukazywała długość podziałki mającej służyć nowęj Mappie czyli kopii. Pomięciona linia wynayduie się tym samym sposobem, iakim szukaliśmy boku kwadratu, któryby do kwadratu danęgo był w danym stosunku. Toiest: jeżeli Mappa szukana ma być połową, częścią $3cią$, $4tą$, $5tą$, albo $\frac{2}{3}$, $\frac{3}{4}$, i t. d. Mappy danęj; potrzeba szukać średnię linii proporcjonalnej między podziałką Mappy danęj, i téż podziałką połową, częścią $3cią$, $4tą$, $5tą$, albo $\frac{2}{3}$, $\frac{3}{4}$, i t. d. Przeciwnie zaś gdyby Mappa szukana miała być od Mappy danęj większa 2. 3. 4. 5. i t. d. razy; natenczas między podziałką Mappy danęj i téż podziałką wziętą 2. 3. 4. 5. i t. d. razy, szukać należy średnię linii proporcjonalnej: ta okaże, iaką powinna mieć długość podziałka Mappy szukanej. Naostatek, gdy znalezioną linią podzielisz na tylé części, ilé ich podziałka Mappy oryginalnej w sobie zamyka; będziesz miał wygotowaną Mappy szukanej podziałkę.

Częstokroć wyciąga potrzeba stosowania wielkości podziałki do wielkości papieru, na którym Mappa iakowa w mniejszym formacie ma być umieszczona: w tym razie dla wynalezienia przyzwoitęj podziałki tak sobie postąpió należy, iak się wyłożyło przy końcu §. 46.

3. Mając już wynaleziony albo bok kwadratu szukanego, albo téż wynalezioną Mappy szukanej podziałkę, przystąpisz do

zrobienia nowego Prostokąta, któregoby powierzchnia tak się miała do powierzchni Prostokąta pierwszego $abcd$; iak się ma mieć kopiiia czyli Mappa szukana, do Mappy daney. Sposób robienia takowego Prostokąta lubo iuż był wyłożony pod liczbą 266, dla większey atoli iasności, tu jeszcze o nim krótko namieniemy. Na tym papierze, na którym chcesz mieć kopiię Mappy daney, zrysowawszy naprzód (Tabl: 7. Fig: 71.) dwie linie AB, AC , względem siebie prostopadłe, podziel je na takie części wzięte z nowy podziałki, na iakie podzieliłeś był linie ab, ac , Prostokąta Figury 70. Potem dopełniwszy Prostokąta $ABCD$, podziel go na kratki tak, iak podzieliłeś piérwéy Prostokąt figury 70. To wykonawszy, będziesz miał tylé kratak w tym drugim Prostokącie $ABCD$, ilé ich w piérwszym $abcd$, znajduie się: łatwo więc przy pomocy podziałki i cyrkla umieścisz to w każdéy kratce Prostokąta drugiego, co się znajduie w kratakach odpowiadających Prostokąta piérwszego.

I tak np: aby wyrazić położenie brzegu Wisły, (zaczynając od dołu) zważ, iż w Prostokącie piérwszym, Wisła przypada na bok rs , kratki drugiéy od ręki prawey, obéymiy więc cyrklem odległość rs , i wymierz ją na podziałce należący do téżé Mappy. Potem wzięwszy cyrklem z nowy podziałki tylé części, ilé ich znalaz-

zleś w odległości rs , naznacz ié w miejscu przyzwoitém kratki odpowiadający Prostokąta drugiego (Tabl: 7. Fig: 71.) iak tu od r , do s . Tak mieć będziesz na Figurze 71, dokładnie oznaczone położenie punktu s , odpowiadającego punktowi s , Prostokąta pierwszego. Teraz ponieważ bieg Wisły prawie w prostéj linii rozciąga się od s , do n ; więc odmierzwszy znowu na przyzwoitéj podziałce odległość mn , weź tyléż części na podziałce nowej, i przenies ié na przyzwoité miejsce Prostokąta drugiego od m , do n , a gdy na tymże drugim Prostokącie punkta naznaczone s , n , złączysz linią wężykowatą; będziesz miał wyznaczoną część biegu rzeki od s , do n . Tak postępowałbyś sobie ze wszystkiemi zakrętami i innémi szczególnościami, któreby się na bokach kratek znajdowały.

Co się tycze wyznaczenia punktów, które wewnątrz kratek są położone; w tym razie potrzeba cyrkłém brać ich odległość od dwóch którychkolwiek węzłów czyli kątów téj kratki, w której owe punkta są położone. I tak np : aby wyznaczyć załomek znajdujący się w téj kratce, gdzie się znajduje ten wyraz *Wisła*, potrzeba wziąć odległość owégo załomku naprzód od punktu k , a potém od punktu m , i każdą z tych odległości wymierzyć na właściwéj podziałce. Potém jeżeli np : odległość od węzła k , zabierała 20 części na

podziafcé, weź tyléż części na podziafcé nowéy, i tym promieniem w drugim Prostokącie, od punktu odpowiadaiącego k , nakreślisz łuk wewnątrz téyże kratki: podobnież iezeli w piérwszym Prostokącie odległość tegoż samégo załomku od punktu m , zamykała np : cząstek 18, weźmiesz znowu tyléż części z nowéy podziałki, i tym promieniem od punktu odpowiadaiącego m , w drugim Prostokącie, narysuiesz łuk w téyże saméy kratce co i piérwéy: przecięcie się nakreślonych łuków oznaczy położenie załomku wewnątrz kratki położonégo: gdy go więc złączysz linią wężykowatą z punktém poprzedzaiącym n , będziesz miał na nowéy Mappie wyraźny dalszy bieg rzeki. Tén sposób postępowania zachowuiąc względém wszystkich innych zakrętów, będziesz miał zewszéchniar dokładną kopią Mappy przedsięwziéty do przerysowania.

Naostatek, kratki na Mappie oryginalnéy zrysowané zetrzesz ośrzedkiem czérstwego białégo chleba, linie zaś ołówkiem na kopii oznaczoné, tuszém powyciągasz, i rzecz każdą przyzwoitym oznaczysz kolorem tak, iak się niżej powie.

Ażeby kreśleniem krutek nieuszkodzić Mappy oryginalnéy: możesz ku temu końcowi kilka arkusów woskowaného papieru podzielić na kratki: a pokrywszy niémi Mappę oryginalną, postąpisz sobie z resztą tak, iak gdyby te kra-

tki na samym oryginalu znajdowały się zryso-
wane.

Sposób drugi. 1. Zamiast dzielenia Map-
py oryginalnej na kratki tak, jak się do-
pięro wyłożyło; możesz użyć następują-
cego sposobu, wtenczas osobliwie gdy się
nie zbyt drobne części na Mappie oryginalnej
znajdują. (Tabl: 2. Fig: 24.)

1. Wszerz lub wzdłuż Mappy oryginalnej
zrysowawszy linią prostą AB , tak długą,
iaka będzie szerokość lub długość Mappy;
z różnych punktów téżże linii wyciągnij
ołówkiem na Mappie kilka lub kilkanaście
linij względem siebie równoległych, (naj-
zręczniej jednak i najwygodniej jest, aby
były prostopadłe do linii AB , od której są
wyprowadzone) przeciągając je po oboch
stronach do samego krawędzia długości lub
szerokości Mappy, tudzież dając im takie
położenie, aby każda z nich przechodziła
blizko iakowych przedmiotów znajdują-
cych się na Mappie. Z takowemi warun-
kami wyciągnięte są na pomienionej figu-
rze linie prostopadłe AD, CE, BF .

2. Do tych linii równoległych spu-
szczaj, za pomocą małej węgielnicy i li-
niału, pomniejszych prostopadłe od przed-
miotów każdej linii równoległej pobliz-
kich, iak tu *np.* na równoległą AD , spu-
szczone są prostopadłe mn, Do ; na równole-
głą CE , prostopadłe r, r, r ; zaś na równo-
ległą BF , linie prostopadłe k, k, k .

3. Po uczynionych takowych przygotowaniuach, szukay (podług tego co się w poprzedzającym *1wszym* sposobie powiedziało) podziałki nowéy więkšzéy lub mniejszéy od podziałki Mappy oryginalnéy: potém wymierzaiąc na podziałce Mappy oryginalnéy, naprzód dłuęość i położenie wszystkich linii fundamentalnych AB, AD, CE, BF ; potém dłuęość prostopadłych pomniejszych; naostatek odległości między témiz prostopadłémi zawarté; bierz takiéż samé dłuęości z nowéy podziałki, i przenoś ié na inny papier (na którym chcesz mieć kopiá Mappy oryginalnéy) zupełnie tak, iak w §. 22 przenosiłeś takowéż liniie z ziémi na papier: tak mieć bédziesz dokłádná Mappy oryginalnéy kopiá.

Sposób trzeci. 1. Znalazłszy (podług tego co się powiedziało w poprzedzającym sposobie *1wszym*) podziałkę Mappy szukanéy; podziel Mappę oryginalną na Tróykąty tak, iak podzielona iest Mappa Figury 68. Tabl: 7. 2. Bierz cyrkłém dłuęości boków každégo Tróykąta zrysowaného na Mappie oryginalnéy, i na iéy podziałce ich ważność wymierzay: potém zaś biorąc na nowéy podziałce takiéż samé dłuęości, róób przy pomocy ich na téy karcie, na którój masz nową kartę rysować, Tróykąty podobné Tróykątom Mappy oryginalnéy. 3. Dokonawszy przenoszenia Tróykątów, gdy ieszcze tym samym sposobém wyznaczysz

na twoiéy Mappie położenie drobniejszych części zawartych między Trójkątami Mappy oryginalnéy; będziesz miał przerysowaną Mappę na format większy lub mniejszy, podług tego iak podziałka większa lub mniejsza od podziałki Mappy oryginalnéy, była przybrana.

Sposób czwarty. Niech będzie dana Mappa oryginalna (Tabl: 2. Fig: 23.) *ABGKMN*, a trzeba ją uczynić większą lub mniejszą.

1. Zrysuy na twoiéy karcie (na której masz kopiować Mappę nową) podziałkę większą lub mniejszą od podziałki Mappy oryginalnéy. 2. Niech kto drugi albo za pomocą Przenośnika (Transportator) albo co nierównie lepiéy tak, iak wyłożyło się w §. 6, kąty Mappy oryginalnéy cyrklém bierze i miarę ich ze swéy podziałki tobie opowiada: ty zaś drugim cyrklém wzięwszy także samé długości, rób na nowéy Mappie kąty równé kątom Mappy oryginalnéy. Ściany także owych kątów niech drugi na Mappie oryginalnéy cyrklém biorąc, ważność ich tobie opowiada: ty toż samo drugim cyrklém biorąc ze swéy podziałki téż samé ważności, przenoś je na nową Mappę. Słowém ze wszystkiém tak sobie postępuy, iak się wyłożyło w §. 21, o robieniu Mappy placu foremny prawie obwód mającégo.

Sposób piąty. Daymy, iż iest Mappa *ABCDE* (Tabl: 3. Fig: 32.) do przerobie-

nia na mnieyszą. 1. Podług tego, co się w sposobie pierwszym zadania poprzedzającego powiedziało, znajdź linią ab , któraby kwadrat taki miał stosunek do kwadratu ściany AB , iaki między powierzchnią Mappy daney i Mappy szukaney zachodzić powinien. 2. Przytwierdziwszy kartę białą woskiem w którymkolwiek rogu Mappy oryginalney iak tu w rogu A , utwierdź igłę na owéy karcie białéy w punkcie a , tak aby taprzez punkt A , Mappy daney przechodziła. 3. Wedle igły w punkcie a ustawionéy połóż linią a , a naprowadzając go następnie na załamki B, C, D, E , obwodu Mappy oryginalney; rysuy ołówkiem na karcie białéy linie ab, ac, ad, ae . 4. Na linią ab , przenies od a , do b , linią mającą taki stosunek do linii AB , iaki między powierzchnią Mappy daney, i powierzchnią Mappy szukaney zachodzić powinien: potem przez punkt b , wyciągnij linią bc , do ściany BC , równoległą, która przetnie linią ac , w punkcie c ; przez punkt c , ciągnij znowu linią cd , ścianie CD , równoległą, która przetnie linią ad , w punkcie d ; wyciągnij daléy przez punkt d , linią de , linii ED , równoległą, i będziesz miał Mappę $abcde$, przerysowaną z większey na mnieyszą. Przeciwny temu porządek zachowasz, gdy zechcesz, Mappę $abcde$, przerobić na większą.

Tén sam sposób postępowania zachował-
byś, gdybyś kartę białą przylepił w po-
środku Mappy oryginalnéy tak, iak na Fi-
gurze 30. Tabl: 2. przylepiona iest karta
w miejscu o.

*Sposoby łatwieysze oznaczenia przy-
zwoitémi kolorami rzeczy znajdu-
jących się na Mappie.*

Maiąc wszystkie części przerobionéy Mappy
wyrażoné ołówkiem, przystąpić należy do ozna-
czenia przyzwoitémi kolorami tak linii znajdu-
jących się na Mappie, iakotéż rzeczy między
temiż liniami zawartych. W czém lubo cokol-
wiek zachodzi trudności; sposób atoli który ku
tému końcowi podamy, gdy na wielkiéy maza-
ninie kolorami nie zawisł, zdaie się bydz tak
łatwy, iż odczytawszy kilkakrotnie niżéy wy-
rażoné przestrogi, tudzież przypatrzwszy się pil-
nie podanym na Tablicach wzorom, a potém
cokolwiek usilnego ćwiczenia przyłożywszy,
można bez pomocy Nauczyciela potrzebny w téy
mierze nabydz umiejętności.

1. *Farby służące do przyzwoitégo ozna-
czenia rzeczy znajdujących się na
Mappie.*

Tusz dający farbę czarną (którę tu naywię-
ksze będzie użycie) przedaie się w laskach gra-
niastych. Dobroć iego na tém zawisła, aby miał
czarność należytą, tudzież aby powleczoney ko-
lorém nie rozlewał się po Mappie. Rozrabia się,
pocierając go o boki naczyńia, wlawszy w nie

wprzód wody czystéy tyle , ile farby potrzebować się będzie.

Gumiguta: daie kolor żółty , bywa pospolicie w bryłkach czyli kawałkach ; rozpuszcza się pocierając o nią pędzel w czystéy wodzie umoczony.

Fernambuk: piękną czerwoną farbę daiący , aby mógł bydź w rysunku użyty , przyprawia się następującym sposobem.

Weźmij nowy dobrze poléwany garczek , naléy weń czystéy studziennéy wody , przystaw do ognia , i niech się tak mocno gotuje , potém nasyp hałunu dobrze utłuczonégo , który gdy się rozpuści podczas warzenia , odstaw garczek od ognia , żeby w nim męty na dnie osiadły. Dopiero nałóż podług proporcji garczka , Brezyljskich wiórków , naylepiéy *Fernambukowych* , przystaw nazad garczek do ognia , gotuy póty , póki aż nie wygotuje się woda do połowy , strzegąc od wykpiénia , często trociny drewiénkiem przewracając , ku końcowi zaś dla sprobowania , robiąc krysy na białym papierze : które kiedy pokażą się bydź należycie czerwone i piękne ; odéym garczek od ognia , przecedź farbę przez czystą chustę , i wiórka należycie wyciśnij. Naostatek przydad do tego drobno utłuczonéy gumy , która gdy się po kilku dniach należycie rozpuści , mieć będziesz piękną czerwoną farbę , która przez lat kilka bez zepsucia konserwować się będzie , w czystą butelkę nalana i mocno zatkana korkiem albo woskowym czopkiem.

Względém Brezyljskiego drzewa ostrzega się , że to bywa różného gatunku : naylepsze jest , które pochodzi z Prowincyi *Fernambuku* , i stąd nazywa się *Fernambuk*. To drzewo kiedy w nagryzieniu i żuwaniu przyjemną oddaie słodkość i

farbę puszcza, i kiedy żywością czerwoności swojej przechodzi wszystkie inne drzewa Brazylijskie, znak jest, że dobre; jeżeli zaś będzie czarniawe i farby nie zechce puszczać, znakiem to jest, że zepsute. Na takie wiórki napadłszy, trzeba by przebrać co lepszego, i wziąć ich więcej do gotowania. Jeżeli między wiórkami zawadzałyby się i kora, tę powybiierać trzeba, bo daie żółtawy kolor.

Lepsza zaś robi się farba czerwona, kiedy pomienione wiórki, naprzód drobno utłuką się w moździerz na trociny, potem włożywszy je w garczek, i nalawszy na nie tęgiego octu tyle żeby się nim zakryły, tak postoją przez trzy lub cztery dni, na ciepłym piecu albo na stońcu; dopiero z resztą obęysdź się z niemi trzeba, iak się wyżej przepisało.

Można także jeszcze bardzo dobrą czerwoną farbę zrobić, témże samém obęysciém co wyżej, ale w pewney proporcji: to jest wziąwszy z łoty *Fernambuku*, $\frac{1}{2}$ kwarty winnego octu, $\frac{1}{4}$ łota hałunu, $\frac{1}{4}$ łota gumy Arabskiej i kwartę wody.

Woda gryszpanowa, inaczey zwana *kolor wodny*, dlatęgo, iż służy do oznaczenia na Mappie wód, iakoto: rzek, kanałów, stawów i t. d. Sposób robienia téy wody jest następujący:

1. Utłukłszy miálko pięknego dystylowanego gryszpanu ileby wystarczyło na czwartą część faszki półkwartowey, przysyp z pół filiżanki *cremortartari* także dystylowanego. 2. To wysypawszy w faszę półkwartową, nalęj wodą rzeczczą lub deszczową nyczystszą, żeby szczyki faszki nie dochodziło, na pół z octem winnym *biały zwany*, w którymby troche czystey gumy Arabskiej rozpuszczoney było. 3. Przetrzyмай owę faszkę do dni 6, lub 8, w zimie przy ciepłym piecowym najwolniejszym, w lecie na pogodnym

słońcu. Co gęstszego osiędzie na dnie, a wierzchem będzie farba piękna i czysta, którą zleiesz w butelkę dobrze od kurzu wypłókaną. Powiedziało się, żeby dobiierać pięknego gryszipanu, bo nie każdy bywa dobry, dlatego trzeba uważać, ażeby w nim nie było cząstek obcych.

Do zrobienia koloru wodnego, może też bydź użyty gryszipan zwany surowy nierównie od pierwszego tańszy, ale taka farba nie tyle mieć będzie w sobie piękności co pierwsza. Robi się tak: 1. Do nowego garczka kwartowego, bierze się tyle gryszipanu surowego mialko utłuczonego, ileby potrzeba na *stą* część garczka; potem przysypawszy dwie szczypty tartaru czerwonego mialko utłuczonego, nalewa się wodą deszczową lub śnieżną. 2. To wszystko na wolnym ogniu bez płomięcia wygotować trzeba niemal do *4tę* części garczka. 3. Wystudziwszy wsączyć sok z cytryny jednéj dobrze soczystej. 4. Prześfiltrować przez worek z bibuły podwójnéj nakształt liyki zrobiony, zlać w czystą butelkę, i korkiem należyście zatkać.

Farba zielona: której tu bardzo małe będzie użycie, robi się z *gumiguty* przymieszawszy do niéj wody gryszipanowéj: obóch tych farb iednaż powinna bydź ilość.

Wszystkie pomienione kolory *teższé* bydź mają, gdy się ich używa do wyciągania linii znajdujących się na Mappie, lecz gdy idzie o powleczenie czyli zalanie témiz kolorami placu iakowego Mappy, tak słabé bydź powinny, aby mało co różniły się od tła samého papieru: każdy zaś kolor słabszym czyli bledszym uczynisz, gdy wlawszy koloru tylé, ilé będzie potrzeba na tafelkę szklaną lub na papier czysty, rozrobisz go pędzlém umaczanym w wodzie tylé razy, ilé tego będzie wyciągała potrzeba, to-

jest : póki farba do przyzwyczajony białości nie przyjdzie: co łatwo zmiarkować można, robiąc tym samym pędzłem krysy na białym papierze. Nabierając w pędzel iakięgo koloru, zawsze go wprzód tymże pędzłem zamieszać potrzeba, aby w zaléwaniu iednostayność koloru mogła bydź utrzymana. Naostatek, na to zawsze pomnieć potrzeba, aby pędzel przed użyciem go do koloru należycie w czystéj wodzie opłókać, zaś do wody grysipanowéj nalepićy jest mieć osobny, gdyż tén kolor iak inné łatwo psuje, tak téż sam bardzo łatwému zepsuciu i odmianie podlega.

2. *O kreśleniu farbami linij znajdujących się na Mappie.*

Wyciągając kolorami linie znajdujące się na Mappie, to ogólné prawidło zachować potrzeba: aby té, które wyrażają na Mappie obwód czyli położenie przedmiotów mających wyniosłość na ziemi, iakie są budynki, drzewa, góry i t. d. były iak najcieniéj wyciągnioné kolorem, gdy są ku lewému albo téż górnému brzegowi Mappy obróconé: téżéj zaś czyli grubiéj gdy ku prawému i dolnému téżé Mappy brzegowi będą podané. Przeciwnie: linie wyrażające na Mappie położenie części mających wklęsłość na ziemi, iakoto drogi, rzeki, kanały, rowy i t. d; wyrażają się téżéj, obróconé ku lewému i górnému, cieniéj zaś, które ku dolnému i prawému brzegowi Mappy są podané. Nie jest tu miejscé okazywać przyczyny téj odmiany w liniach, to tylko przydadź można: iż linie cieńsze podług wyłożonéj drogi reguły zrysowané, oznaczać będą na Mappie, z których stron iakowy przedmiot jest od

słońca oświecony, grubsze zaś okazywać będą które strony tegoż przedmiotu w cieniu zostaną zakryte. Jle razy więc na potém mówić się będzie o wyrażeniu cienia z przyzwyczajony strony; zawsze reguła dopiero wyłożona ma się rozumieć i zachować.

3. Sposób oznaczenia pomienionemi farbami rozmaitych części znajdujących się na Mappie.

Ścieżka. . . oznacza się jedną linią tuszem kropkowaną, podług zakrętów ścieżki idącą. Potém wzdłuż linii kropkowanej, z strony przyzwyczajony, daie się tuszem strych cienki czyli liniyka cień ścieżki wyrażająca. Widzieć można w Mappie *Pulkowa* Tabl: 2. ścieżkę *CF*.

Droga. . . wyraża się dwoma liniami tuszem kropkowanemi, tak iak widzieć się daie na Mappie *Bielan* Tabl: 3. droga *rsuwxxxxyzb*, albo *zabcdéfgzb*, tudzież na Mappie *Pulkowa* Tabl: 2. droga *AnossH*, i na tylu innych na każdéj prawie Tablicy znajdujących się. Po wyrażeniu krawędzi czyli brzegów drogi, daie się tuszem wzdłuż strony przyzwyczajony liniyka ciągła, z temiż samemi co i brzeg drogi zakrętami. I tak na Mappie *Bielan*, podług tego co się dopiero powiedziało *Nro 2*, na drodze *zyxxx*, liniyka owa dana iest przy brzegu górnym, na drodze zaś *zb*, przy brzegu lewym.

Można téż drogę wyrazić w tén sposób iak na Tabl: 7. Fig: 68. wyrażona iest droga *MzS*, tudzież na téż Figurze droga przy *F*, a na Tabl: 6. Fig: 57, droga *AC*, i inné.

Dla uczynienia drogi wybitniejszą od innych części Mappy, można po wyrażeniu brzegów, całą ięj wewnętrzną płaszczyznę powlec kółkiem

ciem ziemnym albo rudawym, ale tak słabym aby mało co od tła papieru różnił się: potem zaś tymże samym trochę cięższym kolorem z strony przyswoitęj dadź pędzlém sztrych gruby szerokością swoją 4tą część drogi zajmujący. Kolor ziemny robi się z tuszu przymieszawszy do niego bardzo małą odrobinę Fernambuku. Kolor zaś rudawy, daje Gumiguta z Fernambukiem pomieszana.

Ulica . . . tym samym sposobem wyraża się co i droga: Jeżeli drzewem jest wysadzona, oznacza się tak iak (Tabl: 2. Fig: 23.) ulica *eL*, i druga śródkiem prawie po lewéy stronie téżże Mappy idąca, a jednym swym końcem do ściany *ONM*, przypieraiąca: albo (Tabl: 7. Fig: 68.) ulica *fN*. Jeżeliby zaś ulica zamknięta była kobylicami, można ją tak wyrazić, iak wyrażona jest na Mappie *Bielan* ulica *SP*, *PO*.

Łąki . . . Dla oznaczenia łąk robią się tuszém i piórem cienko zaciętym drobnieuchne linyki, albo raczéy kréski prostopadłe do podstawy czyli do długości, albo co jednoż jest do brzegu dołného Mappy. Tym sposobem zarobiony jest na Mappie *Palkowa* (Tabl: 2.) plac, na którym znajdują się litery *C, r, r, r, E, m*, tudzież (téżże Tabl: Fig: 30.) plac śródkowy *ABCDEFG*, na którym Stołik mierniczy jest wyrażony, i (.Tabl: 6 Fig: 57.) tén plac, na którym znajdują się litery *S, R, T, m, m, m*, tudzież na innych prawie wszystkich Figurach.

Pola czgli Grunta uprawné wyrażają się tak iak na Tabl: 6. Fig: 57. zarobiony jest plac *BCDGOPQ*. To jest: naprzód miejsce to, na którym mają być wyrażone grunta uprawné, dzieli się na rozmaite czterościenne, albo takie iakie wypadną różnéy wielkości kawałki. Potém piórem cienko zaciętém robią się w każdym z owych kawałków zagony linijami tuszém krop-

kowaniami, równoległemi względem siebie, tak jak na wzmiankowaney dopiéro Tablicy, tudzież na Tablicy 10tey, i na innych widzieć się daie.

Góry, Pagórki, i wszelkie spadzistości... Lubo plan ogólnie wzięty samę tylko poziomą czyli horyzontalną płaszczyznę przed oczy wystawia; iednakże dla tém dokładniejszego i łatwiejszego rozeznania mieysc równych od spadzistych; wszelkie trafiające się pagórki, góry, lub inné nierówności ziemi, wyrażać się zwykły pewnemi kréskami, które kiedy tego pochyłość wymaga, nieco się krzywιά, i od naywyższego mieysca, gdzie są naygęstsze i naywybitnieysze, aż do spodu góry coraz słabieią, a nakoniec zwolna całkiem nikną. W czém na to uważać należy, aby położystsze wzgórkki słabszemi i rzadszemi, przykrzeysze tęższemi i gęstszemi oznaczać kreskami, aby przez samo ná nie spoznać, ilé tylé rozeznac można było, która góra znacznie od drugiey iest wyższa lub niższa. Zaprzec tego nie można, że doskonałe wyrażenie na Mappie gór i pagórków, nieco zamyka w sobie trudności, tę atoli łatwo przełamać może usilné ćwiczenie się i przypatrywanie górom i pagórkom wyrażonym na Tablicach téy Xiążki: I tak (Tabl: 4.) na Figurze 42, góra *CD*. Fig: 38. i 44. góry *AB*, *AB*. Fig: 40. i 46. pagórki *D*, i *C*. (Tabl: 3.) na Mappie *Bielan* pasmem ciągnące się pagórki przy *bzyx*, i na Figurze 31, góra przy *B*. (Tabl: 7. Fig: 68.) góry i pagórki *E*, *F*, *R*, *O*, *S*, *G*, *W*, *H*. Widzieć ié także można (Tabl: 2.) na Fig: 27, i 29. tudzież (Tabl: 1.) Fig: 2. i 13. iakoteż na Tablicy 10tey, góra pod liczbą 5.

Drzewa... wyrażaią się w ogólności tak iak się na Tablicach widzieć daia: w czém tego mocno przestrzegać należy, aby tak wierzchy

czyli iak zowią kapelusze drzew, iakotęż ich pnie były prostopadłe do podstawy czyli do dolnego brzegu Mappy: tudzież aby kréski czyli linyki, które przy końcach pniów dają się od ręki lewéy ku prawéy wyrażające cień od drzewa rzucony, były równoległe do tegoż brzegu Mappy. W szczególności zaś świeczyna czyli świerki mogą bydź oznaczone tak iak na Tabl: 8. pokazuie Fig: 86. *Lasy* ... oznaczają się tak iak widzieć na Mappie *Bielan*, tudzież na Tabl: 7. Fig: 68. i na Tablicy 10. *Gęstwina* ... wyraża się tak iak na Figurze 30, Tabl: 2. przy *CDE*. *Krzaki* ... tym samym sposobém wyrażają się co i drzewa tylko że bez pniów, ale zaraz pod wierzchami czyli główkami ich dają się od ręki lewéy ku prawéy kilka krések równoległych do brzegu dolnego Mappy, wyrażać one będą cień krzaczkom przyzwoitą. Naostatek pomiędzy drzewami robią się trawki tak, iak się o nich, mówiąc o Łąkach, powiedziało, a co łatwo z Tablic miarkować można.

Bagna ... Dla zarobienia na Mappie mieysc wyrażających położenie bagn: robią się naprzód ruzszém, przy pomocy dobrze zaciętego pióra. linyki iak można naydelikatniejszyé równoległe tak względém siebie iakotęż względém dolnego brzegu Mappy: a któreby ułożeniem swoim rozmaite formowały zygżaki: Po zakończeniu zygżaków dają się czasém tak, iak na łąkach trawki tu i owdzie rozrzucone, a ieżeli by na bagnie znajdowały się krzaczki iak w polspocie bywa, tedy i té wyrazić potrzeba tak, iak się wyżéy o nich powiedziało. Wyłożonym dopiéro sposobém zarobiony iest: *naprzód*, (Tabl: 1. Fig: 9.) plac na którym znajduią się litery *AEB*. *Powtóre*, (Tabl: 2.) na Mappie *Pulkowa*, plac którego się końcami swémi dotykają linie

prostopadłe wyprowadzone z punktów o, o, o linii DG . *Potrzenie*, (Tabl: 4. Fig: 43.) plac zawarty między liniami Bc, Ba : tudzież na Fig: 36, i 44. *Poczwarie*, (Tabl: 7. Fig: 68.) plac przy $M, i C$, zaś (Tabl: 5. Fig: 49.) plac w pośrodku będący.

Rzeki i wszelkie wody... 1. Oznaczywszy brzegi rzeki dwoma tuszowymi liniami podług zakrętów brzegu idącemi, potem zaś wyraziwszy spadzistość brzegów króskami takiemi, iakié na Tabl: 3. Fig: 33. dają się widzieć przy brzegu dolnym CDE, FGH , i przy brzegu górnym $ABDEFG$, całe łożysko czyli koryto rzeki zalewa się tuszém tak słabym, aby bardzo mało różnił się od samego papieru. 2. Po wyschnięciu daného tła, daie się tym samym lub trochę mocniejszym tuszém wzdłuż brzegu przyzwoitégo, strych czyli pasek z témiz samými co i brzeg zakrętami, grubszy lub cieńszy podług szerokości lub wężkości koryta rzeki. Strych takowy widzieć się daie na Figurze 40. Tabl: 4. przy brzegu lewym, zaś na Fig: 39. przy brzegu górnym 3. To wykonawszy całe tło tuszowe czyli koryto powleka się znowu wodą grysSPANOWĄ ani zbyt słabą, ani zbyt tęgą: tak będzie rzeka przyzwoicie, a bez wielkiéy pracy oznaczona na Mappie. Podobnymże sposobem chcąc wyrazić inną iakąkolwiek wodę iakoto *np:* (Tabl: 4. Fig: 43.) staw $BDbd$, tedy obwiódlszy brzegi iego linią tuszową podług ich krętości idącą, i wyraziwszy spadzistość brzegów króskami takiemi o iakich mówiac o rzece wspomniało się, a co na téyże 43 Figurze widzieć się daie; naprzód plac stawu zalewa się tuszém, a potem wodą grysSPANOWĄ téż samé co i względém rzeki ostrożności zachowując.

Piaski . . . oznaczają się kropkami tuszowemi, tak iak widzieć się daie (Tabl: 6. Fig: 57.) przy literze *f*.

Grobła . . . wyraża się czterema liniami prostemi względem siebie równoległemi, które przeto trzy oddzielne place będą między sobą zawierać: plac średni oznacza szerokość grobli, dwa zaś inne poboczne oznaczają pochyłość czyli spadzistość téżże grobli. Oba te ostatnie place wyrażające pochyłość zarabiają się takimi kréskami iakie (Tabl: 4.) na Fig: 41. wzdłuż linii *CD*, zaś na Figurze 43, wzdłuż linii *aB*, widzieć się daią. Sama zaś grobla może być tak oznaczona kolorem iak się powiedziało o drodze.

Mosty . . . wyrażają się tuszem tak, iak wyrażone są (Tabl: 4.) na Fig: 40 i 39. Mostki zaś tak iak na Mappie *Bielan* (Tabl: 3.) wyrażony iest mostek przy *t*, i drugi w pośrodku linii *OP*. Tak mosty iako i mostki, gdy są drewniane, kolorem żółtym albo drewnianym; gdy zaś są murowane, kolorem czerwonym powlekaią się, ale zawsze iak najsłabszym.

Budynek . . . 1. Jeżeli sam tylko obwód czyli ściany budynku są na Mappie wyrażone, iak *ap* (Tabl: 2.) Fig: 30, budynki przy *A*, i Fig: 27. budynki przy *B*, iakotéż na Mappie *Pulkowa*, i na innych Tablicach; naténczas wyciągnąwszy ściany budynku liniami tuszowemi cieńszemi i grubszeimi podług tego co się powiedziało pod liczbą 266, cały plac między ścianami zawarty powleka się kolorem czerwonym, gdy iest budynek murowany; gdy zaś drewniany, kolorem żółtym przymieszawszy do niego odrobinę farby czerwonej. Farby do zalewania użyte powinny być iak najsłabsze.

2. Jeżeli prócz ścian budynku jest jeszcze oznaczone położenie okien, drzwi, i t. d. w tym razie ściany wyrażają się dwoma liniami podług szerokości tychże ścian względem siebie równoległymi, tak jak *np*: (Tabl: 1. Fig: 19.) budynek *ABCD*, i t. d. potem zaś nie plac między ścianami zawarty, ale place grubość ścian oznaczające zalewają się cięższym kolorem, drewnianym lub czerwonym, podług tego jak będzie wyciągała potrzeba.

3. Częstokroć budynek wyraża się tak, jak zwierzchu wygląda, to jest: wyrażają się załamania czyli kształt dachu, jak *np*: (Tabl: 1. Fig: 10.) budynek *mn*, Fig: 9 budynek przy *B*, Fig: 15, także przy *B*, Fig: 18. przy *A*, i *B*, iako też na innych Tablicach widzieć się daie.

Kościół . . . wyraża się tym samym sposobem co i budynek, prócz tego w pośrodku wewnętrznego ich placu robi się krzyż kolorem cięższym żółtym albo czerwonym.

Młyn . . . Wyraziwszy budynek sposobem dopiero wyłożonym, robi się przy nim kółko takie, iakie na Tablicy 10 obok liczby 13, tudzież przy literze *T*, widzieć się daie.

Płoty . . . wyrażają się liniami pojedynczemi tuzem, albo kolorem żółtym lub drewnianym zrysowanemi. Parkany i mury wyrażają się tak, iak się pod liczbą 22, o budynku powiedziało.

Ogrody . . . najłatwiejszy sposób wyrażenia ogrodów iest, powlec ié kolorem zielonym, ani zbyt ciężim, ani bardzo słabym.

Naostatek po zarobiéniu rzeczy znajdujących się na Mappie, robi się na u iéy Podziałka przyzwoita, tudzież naznacza się magnesowéy Igielki kierunek, iakoto

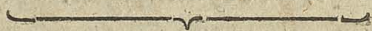
na Tablicy 2. na Mappie *Pulkowa*, zaś na Tablicy 3. na Mappie *Bielan*, tudzież na Tablicy 10. widzieć się daie.



ROZDZIAŁ VI.

I. *O wynaydywaniu pola czyli powierzchni Gruntów:*

2. *O Łanach.*



I.

JAko do wyznaczenia długości lub szerokości Gruntu, albo ogólnie mówiąc, do wyznaczenia linii, używa się miary podłużnej czyli liniowej, iakoto sznura, pręta, łokcia, stopy, i t. d; tak do mierzenia pola czyli powierzchni Gruntów, używa się kwadratu wiadomej iakięj miary, iakoto kwadratowego sznura, kwadratowego pręta, kwadratowego łokcia i t. d. toiest: kwadratu, którego bok każdy ma długości na ieden sznur, na ieden pręt, na ieden łokieć i t. d.

Wymiar powierzchni Gruntów powinien pokazać, wiele sznurów, prętów, lub łokci kwadratowych (a zatem wiele Morgów, Włók czyli Łanów, o

których niżey powiemy) Grunt w sobie zamyka.

Grunta po części są regularné, które się w prostey lub prawie w prostey linii ciągną, a po części nie regularné, toiest takie, których obwód z krzywych i wysuniętych, lub wsuniętych linii czyli klinów składa się: tak tych, iako i tamtych obrachowania sposoby, następujące ukazaż prawidła.

§. 73. *Sposoby obrachowania Gruntów regularnych.*

Kwadrat. Aby znaleźć pole Kwadratu; trzeba liczbę oznaczaiącą długość boku iednego, rozmnożyć przez siebie. Np: gdyby bok ieden Kwadratu zamykał miar długich 345; te rozmnożone przez siebie, toiest: 345×345 , dadzą pole Kwadratu 119025 miar kwadratowych.

Ponieważ w miarach podłużnych (podług §. 3,) Sznur mierniczy zamyka Łokci 75. Pręt Łokci 7 i pół; Łokieć stóp półłokciowych 2; Stopa ćwierci 2; Cwierć calów 6; Cal linii 12; zatém:

Sznur kwadratowy ma łokci kwadratowych - - - 5625.

Pręt kwadratowy ma łokci kwadratowych - - - 56 $\frac{1}{2}$.

Łokieć kwadratowy ma stóp półłokciowych kwadratowych - 4.

Stopa kwadratowa ma ćwierci kwadratowych	-	-	-	4.
Cwierć kwadratowa ma całów kwadratowych	-	-	-	36.
Cał kwadratowy ma linii kwadratowych	-	-	-	144.

1. Mówiąc w §. 2gim o miarach podłużnych, powiedzieliśmy, iż sznur zamyka prętów 10, a pręt 10 stóp, przydajemy teraz, iż lubo Jeometrowie, stopie w pomiarze gruntów używający, naznaczają 3 ćwierci łokcia czyli 18 całów; tę jednak w rachunku wystawiają sobie, iak gdyby z dziesięciu równych części była złożona, tak iak uważamy sznur złożony z prętów 10, a pręt ze stóp 10. Każdą zaś z dziesięciu owych części stopy, *Całem* albo téż wyrazem w Litwie i Koronie używanym *Ławką* nazywać można. Ponieważ zaś stopa zamyka $\frac{3}{4}$ łokcia czyli ćwierci 3, przeto *Ławka* zamykać będzie $\frac{3}{4}$, albo cał $1\frac{3}{4}$. A iako (podług tego co się w §. 2gim powiedziało) cechą czyli znakiem stóp jest dwie kręsek położonych w górze nad liczbą, tak znakiem *Ławek* będzie kręsek trzy, np: 4'''.

Podobnymże sposobem chcąc mieć części mniejsze od *Cała* czyli *Ławki*, trzeba ją uważać, iako jedność całkowitą z dziesięciu innych części złożoną, z których każda zamykałaby $\frac{3}{40}$ łokcia czyli linii $2\frac{3}{5}$, i nazywałaby się iak pospolicie mówią *Ławeczką*: iako zaś *Ławek* znak jest trzy kręsek, tak *Ławeczek* znakiem będzie kręsek cztery, np: 3'''''. Podobny podział, to jest dzieląc jedność na dziesięć części coraz mniejsze, możnaby dalej przeciągnąć: luboć i ten ostatni, o którym dopiero

mówiliśmy; to jest podział na Ławeczki, zdaie się być w pomiarze gruntów nadpotrzebny: przeto go w dalszemy osnowie zupełnie zamilczemy. Tak więc będą następujące:

Poddziały sznura mierniczego w częściach dziesiątych.

		Ławek	
	1. Stopa czyli Pręcik	10.	100.
	1. Pręt	100.	1000.
1. Sznur	1000.	10000.	100000.

2. Ponieważ w podziale miar na części dziesiątne, każda miara wyższa względem niższej *następującej*, iakotóż każda niższa, względem wyższej *poprzedzającej* dziesiątny zachowuje stosunek; Stąd oczywiście wynika, iż bez użycia mnożenia, każdy gatunek miary wyższej, obróci się na gatunek miary niższej *następującej*, gdy do pierwszego jedno zero czyli 0 przydamy. I tak np: w Tablicy powyższej, 1 sznur obrócisz na pręty, gdy do liczby 1 przydasz jedno zero od ręki prawej, obrócisz na stopy, gdy do prętów 10 przydasz drugie zero, albo co. iednoż jest, gdy do sznura iednego przydasz dwa zera czyli 00. Tak też 2 sznury dają 20 prętów, 200 stóp, 2000 ławek i t. d: tudzież 14. Sznurów równa się 140 prętom, 1400 stopom, 14000 ławkom i t. d. Jedno zatem jest

powiedzieć 14 sznurów, co 140 prętów, albo 140 stóp, albo naostatek 14000 ławek.

Z równą łatwością gatunek miary niższy przyprowadzisz do gatunków wyższych poprzedzających, gdy na każdy poprzedzający jeden znak liczebny odłączysz. I tak np: w Tablicy powyższej, 1000 ławek równa się 100 stopom, 100 stóp równa się 10 prętom, a 10 prętów jednemu sznurowi. Podobnie 3462 ławek, równa się 346 stopom i ławkom 2, zaś 346 stóp i ławek 2, równa się 34 prętom, 6 stopom, i ławkom 2: a 34 prętów, 6 stóp, ławek 2, czyni 3 sznury, 4 pręty, 6 stóp, ławek 2, czyli $3462''' = 3^\circ, 4', 6'', 2'''$. Gdyż podług tego co się dopiero powiedziało;

3. Sznury czynią Ławek - 3000.

4. Pręty czynią Ławek - 400.

6. Stóp czyni Ławek - 60.

Do których przydawszy Ławek 2.

Summa wyniesie Ławek 3462.

Dla podobnyż przyczyny $27503''' = 27^\circ, 5', 0'', 3'''$.

Gdyby bok Kwadratu, o którym na początku tego Paragrafu mówiło się, zamykał miar podłużnych 10, powierzchnia jego wynosiłaby 100 miar kwadratowych.

1. Ponieważ sznur dzieli się na prętów 10, pręt na stóp 10, stopa na 10 ławek, sznur przeto kwadratowy będzie zawierał prętów 100, pręt 100 stóp kwadratowych i t. d. Tak więc miary powierzchni czyli co jednoż jest miary kwadratowé, stokrotny zachowują stosunek, albowiem 100 małych Kwadratów jeden Kwadrat w wyższym gatunku czynią, iakoto np:

100 stóp ieden pręt, 100 prętów ieden sznur kwadratowy składaia. Sznur więc Kwadratowy w częściach dziesiątnych będzie miał następujące kwadratowe:

		Poddziały :		Ławek Kwadr:
		1. Stopa czyli Pręcik Kwadr:		100
	1. Pręt Kw:	100		10000
1. Sznur Kwadrat:	100	10000		1000000

2. Stąd wynika *naprzód*, iż aby miarę kwadratową gatunku wyższego obrócić na gatunek niższy *następny*, dosyć jest przydadź dwa zera do owego gatunku pierwszego. Tak *np.*: ieden sznur kwadratowy równa się 100 kwadratowym prętom, albo 10000 kwadratowym stopom czyli 1000000 ławkom, iakoto na poprzedzającej Tablicy widzieć się daie, a z natury mnożenia jest oczewisté.

Podobnież 2 sznury Kwadratowe daia 200 prętów, 20000 stóp, 2000000 ławek, iakoteż 56 kwadratowych sznurów równa się 5600', albo 560000", albo 56000000'''.

Wynika *powtóre*, iż mając liczbę oznaczaiącą wymiar Powierzchni w miarach Kwadratowych niższego gatunku, tę na wyższe gatunki obrócisz, gdy na każdy dwie cyfry czyli dwa znaki liczebne odéymiesz, postępuiać od ręki pra-

wędy do lewéy. Widzieć to można w poprzedzającej Tablicy, gdzie 100000 Ławek równa się 10000 stopom, 10000 stóp, 100 prętom, to jest jednemu sznurowi Kwadratowému.

Podobnie gdyby powierzchnia zawierała 3654296 ławek kwadratowych; podług reguły wspomnionéy oddzieliwszy od ręki prawéy do lewéy dwa znaki liczebne; będziesz miał 36542 stóp, i 96 ławek kwadratowych.

Odłączysz znowu dwa znaki liczebne, od 36542 stóp, będziesz miał 365 prętów, 42 stóp, i 96 ławek kwadratowych.

A gdy jeszcze odłączysz dwa znaki liczebne od 365 prętów, będziesz miał całkowitą powierzchnią w gatunkach wyższych 3°, 65', 42", 96".

Tymże samym sposobem powierzchnia zawierająca 74053005" kwadratowych na wyższe gatunki obrócona, zawierać będzie 74° 05' 30" 05", albotóż 74° 5' 30" 5".

3. To wszystko dobrze zważywszy każdy ła-two wniesie, iż dodając albo też odcinając liczby oznaczające wymiar powierzchni, względnie stokratny zachować potrzeba w przenoszeniu gatunków: Niech mają być dodane powierzchnie 1wsza 45° 62' 92" 95". 2ga 92° 98' 69" 54". 3cia 64° 70' 37" 8". Summa ich będzie 203° 31' 99" 57".

Podobnie niech dane będą do odémowania powierzchnie: 1wsza 84° 95' 60". 2ga 23° 99' 86". Odiąwszy mniejszą od większą, reszta pozostanie 60° 95' 74". Podobnie mając odémować 35° 86' 73" od 97°, albo raczéy od 97° 00' 00" reszta pozostanie 61° 13' 27".

Trzeba zawsze podpisywać znaki jednakowégo gatunku jedné pod drugiemi, tak iak w liczbach wielorakich: a gdy liczby mająć się do-

*Kto ma w sobie gołębia
i białego pod ręką
może mieć się o wiele
dość wód i wódki między
sobą iść.*

dawać lub odciągać, nie mają wszystkiej iednakowych gatunków, wygodniy jest mieyscą przerwanę czyli próżnę zerami dopełniać. Tak w ostatnim przykładzie odéymowania cztery zera przydano.

4. W mnożeniu i dzieleniu, trzeba naprzód liczby do iednego gatunku przyprowadzić, a to dodając przyzwoitą liczbę zerów: po odprawionym zaś mnożeniu i dzieleniu sposobem powszechnym, té same kréski położyć nad ostatnią cyfrą wieloczynu, albo téż wieloraza, które znaydowały się nad ostatniemi cyframi w liczbach pomnożonych lub podzielonych. Np: gdyby przyszło mnożyć $3^{\circ} 3' 4''$ przez $2^{\circ} 2'$; przyprowadziwszy mnożnika do iednego gatunku z mnożnym, przez dodanie iednego zera; mnóż $3^{\circ} 3' 4''$ przez $2^{\circ} 2' 0''$; czyli co iednoż jest, mnóż $334''$ przez $220''$, wieloczyn $73480''$ podzielony na wyższe gatunki, będzie $7^{\circ} 34' 80''$, albotéż mnożąc $7^{\circ} 4' 6''$ przez $2' 0'' 3'''$ przyprowadź naprzód mnożnego do iednego gatunku z mnożnikiem, przez dodanie iednego zera: potem zaś mnóż $7^{\circ} 4' 6'' 0'''$ przez $2' 0'' 3'''$, czyli $7460'''$ przez $203'''$, wieloczyn $1514380'''$ w gatunkach wyższych równa się $1^{\circ} 51' 43'' 80'''$.

Dzieląc $49^{\circ} 53' 88'' 80'''$ przez $4^{\circ} 0' 0'' 8'''$, czyli $49538880'''$ przez $4008'''$ wieloraz $12360''' = 12^{\circ} 3' 6'' 0'''$, albo $12^{\circ} 3' 6''$.

Prostokąt. (Fig: 71. Tabl: 7.) Dla znaleziénia pola Prostokąta $ABCD$, trzeba liczby oznaczaiące długość dwóch boków blizkich siebie, to jest podstawę AB , i wysokość AC , rozmnożyć iedną przez drugą. Niech np: bok czyli wysokość AC , ma długości $2^{\circ} 5' 6''$; a bok czyli podstawa AB ,

długości $3^{\circ} 4' 5''$, czyli $AC = 256''$, zaś $AB = 345''$, powierzchnia prostokąta $ABCD$, będzie $256'' \times 345'' = 88320$ stóp kwadratowych, czyli, podzieliwszy wieloczyn na swé gatunki; będzie $8^{\circ} 83' 20''$, toiest 8 sznurów, 83 prętów, i 20 stóp kwadratowych.

Wiedząc, że powierzchnia Prostokąta zawiera *np*: $8^{\circ} 83' 20''$ Kwadr: że podstawa AB ma długości $3^{\circ} 4' 5''$; dóydziesz iak długa iest wysokość tegoż Prostokąta, gdy powierzchnią iego $88320''$ podzielisz przez $345''$, toiest przez podstawę AB : i tak wysokość AC , będzie $\frac{88320''}{345''} = 256''$, czyli $2^{\circ} 5' 6''$. Podobnie pod-

stawa AB , będzie $\frac{88320''}{256''} = 345''$, czyli $3^{\circ} 4' 5''$.

Równoległobok pochyłokątny (obliquangulum) (Tabl: 8. Fig: 79.) Trzeba na-przód, od boku przeciwległego podstawie, iak tu od boku NM , spuścić prostopadłą MY , na podstawę KL , przedłużoną, gdy tego będzie wyciągała potrzeba: potem zmierzwszy podstawę KL , i wysokość MY , trzeba liczbę miar podstawy rozmnożyć przez liczbę miar wysokości. *Np*: podstawa $KL = 6^{\circ} 0' 5''$, wysokość $MY = 9' 5'' 4'''$, powierzchnia zamykać będzie $5771700''' = 5^{\circ} 77' 17''$.

Trójkąt. Gdy grunt klinem wychodzi, toiest: ma Figurę Trójkąta, iak *np*: (Fig:

*ten sam obraz
można iak przestawiać
na dowolny sposób*

78. Tabl: 8.) Trójkąt HJK ; aby mieć powierzchnią jego, trzeba na podstawę HK , spuścić od wierzchołka Trójkąta prostopadłą JL , potem rozmnożyć podstawę przez wysokość, i wziąć połowę téj mnogości. Niech wysokość Trójkąta ma $256''$, a podstawa $428''$, powierzchnia mieć będzie $5^{\circ} 47' 84''$, toiest połowę mnogości $109568''$, pochodzący z $256''$ przez $428''$.

Taż sama jeszcze mnogość, czyli powierzchnia Trójkąta wyniknie mnożąc podstawę przez połowę wysokości, toiest: $428'' \times 128'' = 54784''$, albo wysokość przez połowę podstawy, toiest $256'' \times 214'' = 54784''$.

Podzieliwszy powierzchnią Trójkąta przez połowę wysokości, toiest: $\frac{54784''}{128''}$ wieloraz $428''$ okaże długość podstawy: przeciwnie podzieliwszy powierzchnią Trójkąta przez połowę podstawy, czyli $\frac{54784''}{214''}$, wieloraz $256''$ będzie długością wysokości.

Różnobok (Trapezium.) Chcąc mieć powierzchnią gruntu mającego dwie tylko ściany względem siebie równoległe, iaki na Fig: 74. Tabl: 8. widzieć się daie, trzeba naprzód od iednego z boków równoległych wystawić linią prostopadłą, przeciągając ją aż do spotkania się z bokiem przeciwnym, taka tu iest prostopadła

dł \dot{a} gc : trzeba pot \acute{e} m dodadź z sobą oba boki równoległ \acute{e} ad , bc , wzi \acute{a} ść połow \acute{e} t \acute{e} y summy, i rozmnożyć i \acute{a} przez prostopadł \acute{a} gc .

Niech w takowym czworok \acute{a} cie $abcd$, boki równoległ \acute{e} b \acute{e} d \acute{a}

$$bc = 194''.$$

$$ad = 786''.$$

A zat \acute{e} m Summa	980''.
Połow \acute{a} t \acute{e} y summy	- 490''.
Pomnożona przez wysokość gc	- - 195''.

Pokaże wewn \acute{e} trzną rozległ \acute{o} ść pola miar kwadratowych - 95550'' = 9°55'50''.

Gdy ścian \acute{y} równoległ \acute{e} cb , da , (Fig: 75. Tabl: 8.) prostopadł \acute{e} s \acute{a} do iedn \acute{e} y z dw \acute{o} ch ścian nierównoległ \acute{y} ch, iak tu do ścian \acute{y} ab ; na \acute{o} wczas nie potrzeba wystawiać linii prostopadł \acute{e} y mi \acute{e} dzy dwoma ścianami równoległ \acute{e} mi, lecz tylko ścian \acute{a} ab , przemi \acute{e} rzona bydź powinna, poniew \acute{a} ż prócz tego ta ścian \acute{a} równa byłaby linii prostopadł \acute{e} y, mi \acute{e} dzy dwoma równoległ \acute{e} mi ścianami cb , ad , wyciągnion \acute{e} y.

Mai \acute{a} c wiadom \acute{a} powierzchnię R \acute{o} znoboku np : 9°55'50'', tudzież wiadom \acute{e} dwa boki równoległ \acute{e} ieden $bc = 194''$, drugi $ad = 786''$, znaydziesz wysokość gc ; podzieliwszy powierz-

chnią przez połowę summy dwóch boków równoległych, toiest: $\frac{95550''}{490''} = 195''$.

Podobnież gdyby powierzchnia Różnoboku zawierała $9^{\circ} 55' 50''$ kwadratowych, a podstawa $ad = 786''$, zaś wysokość $gc = 195''$; abyś znalazł ważność boku drugiego równoległego bc , podziel powierzchnią Różnoboku przez połowę wysokości jego: albotież powierzchnią podwoioną dziel przez całą wysokość: potem gdy od wielorazu odéymiesz bok równoległy wiadomy, reszta pozostała będzie ważnością boku drugiego

go równoległego niewiadomego: $np: \frac{95550''}{\frac{1}{2} \times 195''} = 191100''$
 $\frac{191100''}{95''} = 980''$, a że bok $ad = 786''$, więc bc , będzie $194''$.

W Różnoboku połowa summy dwóch boków równoległych iest średnią arytmetycznie proporcjonalną między témiz dwoma bokami. Co łatwo zmiarkuie każdy wiedzący, co toiest pomieniona średnia proporcjonalna, i iak się wynayduje. Wszystkie té uwagi będą wielce potrzebne w Rozdziale następującym.

Wielokąty forémné: (Poligona regularia.)
 Ponieważ w każdym wielokącie forémnym boki są równe, i wszystkie prostopadłe ze środka wywiedzione są także równe; uważając go więc iako złożony z Trójkątów mających wierzchołki swoje w środku, mieć będziesz powierzchnią jego, rozmnożywszy ieden bok przez połowę prostopadłej, a potem mnogość wypadłą

przez liczbę boków, albo co na jedno wychodzi, rozmnożywszy obwód wielokąta przez połowę prostopadłej.

I tak gdyby bok Pięciokąta był 12', a wysokość 10'; obwód iego będzie $12 \times 5 = 60'$: który pomnożywszy przez połowę prostopadłej, toiest przez 5, będzie powierzchnia 300. Podobnież gdyby bok Sześciokąta był 12', a wysokość 11'; obwód iego będzie $12 \times 6 = 72$, połowa iego, toiest 36 pomnożona przez wysokość, czyli przez 11, wieloczyn 396' okaże pole Sześciokąta.

§. 74. *Obrachowanie gruntów nieregularnych.*

Około wymiaru rzeczonych dotąd regularnych gruntów mało iakośmy widzieli zachodzi trudności, lecz wiele iest gruntów nieforemnych i niekształtnych, których wymiar nie iest tak prosty.

Co się tycze takowych gruntów, wszystko od użycia dwóch praktycznych sposobów zawisło: *Popiérwsze*, ażeby umieć krzywé linie z prostémi porównać, toiest: gdy obwód gruntów ma różne wyłamki, czyli wsunięte lub wysunięte kliny; w takowym razie należy brać miarę od oka, i od początku aż do końca ściany krętéy taką linią prostą wyciągnąć, ażeby części tych wyłameków, które po lewéj stronie prostéy linii przypadają, prawie tylé

wynosiły, co i części wyłamków na prawej stronie zostających się. Tym sposobem (Tabl: 8. Fig: 76.) wyciągnięta linia prosta mG , zrobiła dwa załamki, jeden przy m , drugi przy G , które prawie są równe, a tem samem co z jednéj strony od gruntu odbiera, to z drugiéj strony nadgradza się onemuż: przeto zamiast krzywéj linii, średnia pomiędzy té wyłamki idąca za ścianę gruntu wzięta i miérzona bydz powinna. *Powióré.* W tén sposób krzywé linie porównawszy z prostémi potrzeba powierzchnią nieforemnych gruntów na kilka regularné, lub iakoby regularné czworokąty podzielić, które potem sposobami dopiéro wyłożonémi wyrachowane, i razém zebrane, całą powierzchnią nieregularnégo i niekształtnégo gruntu pokaza. Podług tych dwóch prawideł postąpiwszy z Figurą 76, i używszy liczb znajdujących się przy iey bokach; znajdziemy całkowitą powierzchnią 12866 prętów kwadratowych, czyli 128 sznurów i 66 prętów kwadratowych.

Ten sam sposób postępowania zachowany jest z Figurą 84tg.

Wynajdując powierzchnią iakowéj nieregularnéj figury, częstokroć wygodnie jest zamknąć ją w kwadrat lub Prostokąt, tak iak na Tabl: 7. Fig: 70 i 71. widziéć się daie: potem dopiéro wymiérzwszy na podziałce boki owégo Prostokąta lub Kwadratu, znaleźć

powierzchnią jego sposobem wyżej podanym: a jeżeli części iakié do figury należące nie były zajęte od boków Prostokąta; tedy owé części osobno obrachować i dodadź do całkowitéy powierzchni potrzeba. Podobnież obrachować należy części od boków Kwadratu albo Prostokąta zajęte, a do Figury nienależące, i odciągnąć ié od całkowitéy powierzchni tegoż Prostokąta lub Kwadratu.

§. 75. *Sposoby arytmetyczne zamiany iednych Figur na drugie.*

Naprzód danéy Figury do zamiéniénia znajdź powierzchnią sposobami w poprzedzającym §. 74. wyłożonémi: Potém jeżeli Figurę daną chcesz zamienić na Trójkąt; dziél znalazioną powierzchnią przez połowę miar, które chcesz dadź albo podstawie, albo wysokości Trójkąta, wieloraz pokaże dłużość albo wysokości, albo podstawy tegoż Trójkąta.

I tak np: gdyby powierzchnia Figury danéy zamykała miar 1696, a potrzebaby ią zamienić na Trójkąt (Fig: 83. Tabl: 8.) *COF*, którégoby podstawą była część iakowa ściany *CG*, zaś dwie inné ściany *CO*, *OF*, aby wychodziły od punktu wyznaczoného *O*; naprzód od punktu *O* mającégo służyć za wierzchołek kąta, spuść linią prostopadłą *OD*, na ścianę *CG*: prostopadła

tak spuszczone będzie oznaczać wysokość Trójkąta szukanego COF . Powtóre, wymierzysz spuszczone prostopadłą DO , iak tu *np*: miar 32; podziel powierzchnią daną 1696, przez połowę owéy wysokości, to jest przez 16: wieloraz 106 okaże żadaną długość podstawy szukanego Trójkąta: odmierzysz więc na ścianie CG od C do F , miar 106, gdy potém od punktu wyznaczoného O , wytkniesz linie proste OC , OF , do końców podstawy; będziesz miał daną figurę zamienioną na Trójkąt, téż saméy cò i ona powierzchni, gdyż 106 pomnożone przez 16 czyni 1696.

Jeżeli chcesz daną figurę zamienić na Prostokąt téż saméy powierzchni; podziel więc figury danéy powierzchnią przez liczbę miar, które chcesz dać podstawie Prostokąta, wieloraz z dzielenia wypadający będzie wysokością tegoż Prostokąta. Co iakby na gruncie wykonać się miało, z poprzedzającego przykładu jest oczywiste.

Jeżeli naostatek, chcesz daną figurę zamienić na kwadrat; wyciągnij z jéy powierzchni kwadratowy pierwiastek, tén będzie szukanym bokiém kwadratu.

Im bardziéy boki figury iakowéy zbliżają się do równości między sobą, zachowując zarwsze téż samę powierzchnią; tén mnieyszy mają obwód stosownie do placu między témiz bokami zawartého. Weźmy *np*: plac iaki figury Prosto-

kąta mającego 18 łokci podstawy, a wysokości 2: powierzchnia tego placu wynosić będzie 36 łokci kwadratowych, obwód zaś zamykać będzie $18 + 18 + 2 + 2 = 40$ łokci długich. Weźmy znowu inny Prostokąt któregooby się boki mniey nieco różniły od siebie, niżeli boki pierwszego: daymy np: że podstawa ma łokci 12, a wysokość 3, powierzchnia tego drugiego Prostokąta wyniesie tyle, co i powierzchnia pierwszego, toiest: 36 łokci kwadratowych, ale obwód jego zamykać będzie tylko $12 + 12 + 3 + 3 = 30$ łokci długich: Gdybyśmy zaś podstawie tegoż Prostokąta dali łokci 9, a wysokości łokci 4, powierzchnia zawierałaby ieszcze 36 łokci kwadratowych, obwód zaś tylko 26 łokci. Naostatek im bardziéy boki tego placu zbliżać się będą do równości między sobą zachowując zawsze téż samę powierzchnią; tém obwód jego będzie mniejszy, tak dalece, iż obwód placu tego naymnieyszym będzie (zachowując ścian cztery) wtenczas, gdy podstawa równa będzie wysokości. Jakoż dawszy podstawie i wysokości owégo placu po łokci 6, będziemy mieli téż samę powierzchnią co w trzech poprzedzających razach, toiest: 36 łokci kwadratowych, obwód zaś zmniejszy się do 24 łokci długich.

Uwaga ta może bydź wielce użyteczna do budowli gospodarskie obeyscie składających, iakie są szopy, lamusy, magazyny, szpiklerze, wozownie, brogi, i t. d. ściany tych budowli im bardziéy zbliżać się będą do równości, zachowując zawsze téż samę powierzchnią, tém mniejszy będą miały obwód, a tém samém mniey potrzebować się będzie materiału do wystawienia czterech rzeczonych ścian.

II.

§. 76. *O Łanach czyli Włókach.*

Łan jest część Gruntu długość i szerokość swoją prawem opisaną mająca. Łan i Włoka niczem się od siebie nie różnią, tylko nazwiskiem, i co w niektórych stronach u nas nazywają Włoką, to inni zowią Łanem. Łany w kraiu naszym pospoliciey używane; są: dwa Frankońskie, ieden Teutoński czyli Niemiecki, dwa Polskie, inaczey zwane Kmiece, i Włoka Chełmińska. Specyfikacya pomienionych Łanów, wyięta z Protokółów Kacellaryi Referendaryi Koronney, w następujących Tablicach wykłada się.

We wszystkich Tablicach Łanów, przez ten wyraz w Kwadrat, rozumieć się ma wielkość powierzchni Łanu, w łokciach kwadratowych.

Łan Frankoński większy liczy Łokci

Wzdłuż.	Wszere.	w Kwadrat.
3915.	217 i pół.	851512 i pół.

Łan Frankoński mniejszy ma Łokci

Wzdłuż.	Wszerz.	w Kwadrat.
3915.	174.	681210.

Łan Teutoński albo Niemiecki ma Łokci

Wzdłuż.	Wszerz.	w Kwadrat.
4050.	180.	729000.

*Łan Kmiecy większy, z którego Kmie-
cie dzień w tydzień, podług Prawa
robić maig; liczy Łokci*

Wzdłuż.	Wszerz.	w Kwadrat.
3024.	120.	362880.

Łan Kmiecy mniejszy, z którego także
podług Prawa Kmiecie powinni odrabiać
dzień ieden w tydzień; ma Łokci

Wzdłuż.	Wszierz.	w Kwadrat.
1200.	96.	115200.

Włoka Chełmińska przez Konstytucyą
1576 Roku do Mazowsza przyjęta;
liczy Łokci

Wzdłuż.	Wszierz.	w Kwadrat.
6750.	75.	506250.

Albo też: Włoka Chełmińska ma Mor-
gów - - - - - 30.
Morg Wzdłuż sznurów - 3.
— Wszierz sznur - 1.
— W kwadrat sznurów 3.
Czyli: Morg Wzdłuż prętów - 30.
— Wszierz prętów - 10.
— W kwadrat prętów 300.
Albo: Morg Wzdłuż liczy Łokci 225.
— Wszierz Łokci - 75.
— W kwadrat Łokci 16875.

Takowych Morgów 30, uczynią Sznurów kwadratowych 90, albo Prętów kwadratowych 9000, czyli Łokci kwadratowych 506250, toiest iedną Włokę Chełmińską.

Lubo w Tablicach pomienionych Łanów, wyłożyliśmy długość i szerokość ich Prawem opisaną; nie trzeba iednak rozumieć, iż Prawo koniecznie wyciąga, aby ów Łan lub też Morg taką zawsze miał swoją długość i szerokość: dosyć iest, żeby takieykolwiek bądź figury częśe gruntu zwana *np.* Morgiem, zamykała w sobie tyle łokci albo prętów kwadratowych, ile ich zamykałoby pole *prostokątne* mające 225 łokci, czyli prętów 30 długości, a szerokości łokci 75 czyli prętów 10.

Łany poprzedzających Tablic redukując z Łokci kwadratowych na Morgi, Pręty, i Stopy czyli Pręciki; takowa między niemi daie się widzieć różnica.

	Mor- gi.	Prę- ty.	Pręci- ki.
Frankoński większy ma	50	138	- -
Frankoński mniejszy -	40	110	40
Niemiecki - -	43	60	- -
Kmiecy większy -	21	151	20
Kmiecy mniejszy -	6	248	- -
Włoka Chełmińska w Ma- zowszu - - -	30	- -	- -
Morg - - -	- -	300	- -
Pręt kwadratowy -	- -	- -	100
Pręcik zamyka $\frac{9}{16}$ Ło- kcia.			

Oprócz wspomnianych dopiero Łanów jest jeszcze Łan *in Actis Revisorum The-sauri Regni* opisany, także przedtym zwany Chełmińskim, który w Woiewodztwie Krakowskim ma się znajdować, liczy

Wzdłuż Łokci 6750.

Wszérz Łokci 225.

W kwadrat 1518750 Łokci, a Morg: 90.

W Sieradzkim Woiewodztwie *Zrzeb* czyli *Zrzebie* tak zwane, wypada na Łan Teutoński czyli Niemiecki wyżey opisany: a to podług Dekretów Starostwa Sokolnickiego, dnia siódmego Czerwca Roku 1778, i Kłopowskiego, dnia trzynastego Października, Roku 1762.

Oprócz miar podłużnych wyżey opisanych, częstokroć w pomiarze gruntów używane są inné, iakoto: *Miara*, *Laska*, *Wierzbca*. Z tych pierwsza, toiest *Miara*, zamyka łokci długich 14 i pół, zaś *Laska*, iakotéż *Wierzbca* zawieraią po łokci długich 15.

Sposoby redukowania miar kwadratowych, iednych na drugie.

I. *Redukowanie Łokci kwadratowych do stóp Jeometrycznych kwadratowych, i przeciwnie.*

Ponieważ łokieć podłużny zamyka w sobie ćwierci 4, te zaś ćwierci 4 rozmnożone przez siebie czynią ćwierci kwadratowych 16; a każda stopa Jeometryczna zawiera w sobie ćwierci 4

kcia długich 3, które także rozmnożone przez siebie czynią 9; przeto gdy będą dane Łokcie kwadratowe do redukowania na stopy Jeometryczne kwadratowe, trzeba dane łokcie kwadratowe pomnożyć przez ćwierci kwadratowe łokcia, a wieloraz z tego pomnożenia wynikający podzielić przez ćwierci kwadratowe stopy Jeometryczney, tciest przez 9. *Np:* w Morgu znajduje się łokci kwadratowych 16875: tę sumę mnożę przez 16, wieloczyn będzie 270000, który podzieliwszy przez 9, wypadnie summa stóp Jeometrycznych kwadratowych 30000. Z tych (podług tego co się powiedziało w §. 73.) ująwszy dwa zera, reszta pozostała da Prętów kwadratowych 300, a Sznurów kwadratowych 3. Przeciwnie, mając stopy Jeometryczne kwadratowe do redukowania na łokcie kwadratowe; trzeba dane stopy kwadratowe pomnożyć przez 9, a tak pomnożone podzielić przez 16, wieloraz okaże sumę łokci kwadratowych.

2. *Redukowanie Łokci kwadratowych do Prętów kwadratowych.*

Gdy będą dane Łokcie kwadratowe do redukowania na Pręty kwadratowe, tak sobie postąpić należy, iak się dopiero powiedziało. Albo też tak: mam *np:* danych łokci kwadratowych 16875, z tych trzeba wynaleźć sumę Prętów kwadratowych? Łokcie te mnożę przez 4, (to jest przez liczbę stóp półłokciowych kwadratowych, które jeden łokieć kwadratowy w sobie zamyka,) wieloczyn z pomnożenia wynikający będzie 675000: który podzieliwszy przez 225. (to jest przez liczbę stóp półłokciowych, które w sobie Pręt kwadratowy zamyka; gdyż łokci 7 i pół, które Pręt długi w sobie mieści, równe są 15 stopom półłokciowym, a $15 \times 15 = 225$) wieloraz z dzielenia wypadły okaże Prętów kwadratowych 300.

3. *Redukowanie Prętów kwadratowych do Łokci kwadratowych.*

Ponieważ Pręt kwadratowy ma Łokci kwadratowych $56\frac{1}{4}$, gdy więc będą dane Pręty kwadratowe do zamienienia na łokcie kwadratowe, tak postąpić należy. Mam *np.*: danych Prętów kwadratowych 300, chcę wiedzieć wiele czynią łokci kwadratowych: mnożę dane Pręty 300 przez 56, mam wieloczyn 16800, a że się ułomek $\frac{1}{4}$ pozostał, przeto dane pręty znowu dzielę przez 4, i mam część 4tą 75 łokci, które dodawszy do summy z pomnożenia wynikłej, mam sumnę łokci kwadratowych 16875, toiest: Morg cały w łokciach.

Alboteż: mnoż dane pręty 300 przez 225, a wieloczyn 67500, podzieliwszy przez 4, będziesz miał tak iak pierwey sumnę łokci kwadratowych 16875.

Naostatek, wyższe gatunki miar kwadratowych obracając na niższe, tę istotną zachować należy przestrożę, aby gatunek miar większych kwadratowych, mnożyć taką liczbą miar mniejszych także kwadratowych, iaką ich zawiera w sobie jedna większa kwadratowa. *Np.*: chcąc wiedzieć 568 łokci kwadratowych, ile uczyni stóp półłokciowych kwadratowych; mnożyć potrzeba 568 przez 4, gdyż stóp półłokciowych kwadratowych w łokciu kwadratowym zamyka się 4, (nie 2, iakich łokcię długi zawiera) liczba z pomnożenia wypadająca, okaże sumnę stóp kwadratowych półłokciowych 2264. Podobnie, pole zawierające 100 sznurów kwadratowych, chcąc obrócić na łokcie kwadratowe, mnożyć będziesz 100 przez 5625 łokci kwadratowych, które w sobie jeden sznur kwadratowy zamyka.

Obracając podobnie miary mniejsze kwadratowe, na większe także kwadratowe, dzielić po-

trzeba daną liczbę mniejszych miar kwadratowych, przez liczbę jedney większey kwadratowey. *Np:* chciałbyu wiedzieć 38250 stóp kwadratowych półłokciowych wiele uczynią Prętów: dzielę tę liczbę przez 225 stóp półłokciowych kwadratowych, (a nie przez 15, które Pręt długi zawiera,) wieloraz 170 będzie summą prętów kwadratowych.

ROZDZIAŁ VII.

O Podziale Gruntów, na części upodobané.

Podział Gruntów na rozmaite części czy to w Rodzeństwie, czy w donacyach lub długach, czy w nadawaniu onych pod iakimkolwiek obowiązkiem; w sprzedaży ich i kupnie; w umiarkowaniu pańszczyzny, czynszów lub podatków w ścisłej sprawiedliwości i inné podobné tak publiczney, iako téż prywatney Ekonomii potrzeby, iawnie dowodzą pożytków i nieuchronności *Jeodezyi* czyli téy części *Jeometryi*, która do podziału Gruntów stosowné podaje prawidła.

Mówiąc tu o podziale Gruntów, nie inaczey rozumiém iak tylko, iż grunt ma-

iący byź wydzielony na części żądane, przenieſiony ieſt wprzód na papier, sposobami w trzech piérwſzych Rozdziałach wyłożonemi: rzadko bowiem trafi ſię grunt tak regularny, i to chyba bardzo ſzczupły, aby i obrachunek i podział iego mógł byź na ziemi przedſięwzięty i uſkuteczniiony. Przeto wyłożemy naprzód nayproſcieyſzė ile byź może prawidła podzielenia gruntów na papierze, potėm zaſ podamy ſpółb przenieſienia owych podziałów na ziemię.

§. 77. *Tróykąt* (Tabl: 8. Fig: 77.) *ACB*, którego boki ſą w liczbach wiadomė, rozdzielić na równė części 2, 3, 4, i t. d. od punktu *D*, wyznaczonėgo na ſcianie *AB*.

Od punktu danego *D*, do kąta przeciwnego *C*, wyciągnij linią *DC*. Tróykąty *BCD*, *ABC*, mając iednakową wysokość; tak ſię mają do ſiebie, iak ich podſtawy, toieſt: $BCD : ABC = DB : AB$. Ze zaſ Tróykąt całkowity *ACB*, ma ſię do Tróykąta ſzukanego, toieſt: do czwartėy części ſwoiėy, (którą my tu kładziemy byź *BDF*) iak *AB* do $\frac{1}{4} AB$; zatem będzie tak-że $BCD : BDF = DB : \frac{1}{4} AB$. Do tego teź Tróykąty *ACD*, *BDF*, mając iednakową wysokość bo wierzchołkami ſwėmi przypieraiają obydwā do iednego punktu *D*, mają ſię

ią się jeszcze do siebie iak ich podstawy BC, BF : więc w poprzedzającej proporcji na miejsce stosunku $BCD:BDF$, wzięwszy iému równy $BC:BF$; będzie, $DB:\frac{1}{4}AB$:

$BC:BF$: zatem $\frac{\frac{1}{4}AB \times BC}{DB} = BF$. Stąd

oczywiście pokazuje się, iż aby mieć podstawę BF , Trójkąta szukanego, trzeba *naprzód* bok AB , czyli 84 podzielić przez 4, to jest: przez liczbę części, na które Trójkąt ACB ma być wydzielony: *powtóre*, wieloraz 21 wypadający z poprzedzającego dzielenia trzeba pomnożyć przez bok $BC = 120$. *Naostatek*, wieloczyn 2520 podzieliwszy przez $DB = 52$; wieloraz $48\frac{6}{13}$ będzie oznaczał ważność boku szukanego BF . Wzięwszy więc z podziałki części równych $48\frac{6}{13}$, gdy ie wyznaczysz na boku BC , od B , do F , a potem od punktu danego D , poprowadzisz linią DF ; ta oddzieli Trójkąt DFB , równy czwartej części Trójkąta ACB .

Teraz, jeżeli na pozostałym boku FC , może się jeszcze zmieścić podstawa znależiona BF ; przenieś ją na ténże bok FC , tylé razy, ilé to być może, iak tu raz tylko, od F , do G : a gdy zrysujesz linią DG ; będziesz miał wydzieloną drugą część czwartą DGF , całkowitego Trójkąta ACB : gdyż Trójkąt GDF , ma też

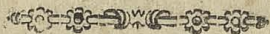
U

samą podstawę i wysokość, co i Trójkąt pierwszy *FDB*.

Gdy zaś część *GC*, boku *BC*, pozostanie tak mała, że już na nią nie będzie mogła być przeniesiona podstawa *BF*, a podział jeszcze zakończony nie jest; natenczas brać będziesz dalsze podziały na boku *AC*, szukając podstawy *AE*, tym samym sposobem, jakim znalazłeś był podstawę *BF*. To jest: bok *AC* = 108 pomnożysz przez 21, a wieloczyn 2268 podzieliwszy przez odcinek temuż bokowi przyległy, to jest: przez *AD* = 32; wieloraz $70\frac{7}{8}$ pokaże ważność szukanej podstawy *AE*. Wziąwszy więc na podziałce część wyrównyującą $70\frac{7}{8}$, gdy ie wyznaczysz na boku *AC*, od *A*, do *E*, i poprowadzisz linią *DE*; będziesz miał trzecią część *DEA*, wyrównyującą czwartą części Trójkąta *ACB*: a zatem Czworokąt pozostały *CEDG*, będzie także czwartą częścią Trójkąta *ACB*, tak więc będziesz miał Trójkąt *ACB*, wydzielony na części żądane.

Gdyby płac ten miał być podzielony na części nierówne, iakoto *np*: gdyby Trójkąt *ACB*, zamykał w sobie 2471 miar kwadratowych, a wyciągałaby potrzeba podzielić go na cztery części, z którychby pierwsza zawierała miar kwadratowych 648, druga 568, trzecia 440, czwarta 815; można w tym razie użyć następującego sposobu. Naprzód z punktu *D*, do którego wszystkie 4 podziały przypierać powinny, spuść

na bok BC , linią prostopadłą, (która lubo na figurze nie jest wyrażona, wszakże łatwo ją sobie wyobrazić można,) potem długość téj prostopadłej wymierzywszy na podziałce, *np*: miar 40; podziel przez iey połowę, to jest przez 20, którąkolwiek powierzchnią z owych czterech mających bydź wydzielonemi, *np*: powierzchnią 648: wieloraz $32\frac{2}{3}$ okaże wielkość podstawy Trójkąta mającego zamykać 648 miar kwadratowych: albowiem $32\frac{2}{3}$, pomnożone przez połowę wysokości, to jest przez 20, czyni 648. Gdy więc na boku BC , od B do F , naznaczysz z podziałki części $32\frac{2}{3}$, a potem od punktu D , poprowadzisz linią DF ; będziesz miał wydzieloną część FDB , zawierającą w sobie 648 miar kwadratowych. Uważ potem, że Trójkąt szukany *np*: GDF , mający mieć podstawę swoją na tymże boku BC , będzie miał téż samę wysokość co i Trójkąt już wydzielony FDB : podzieliwszy więc przez połowę téjże wysokości, to jest przez 20, powierzchnią 568, wieloraz z podzielenia wynikający pokaże długość drugiey podstawy FG . Naostatek spuściwszy prostopadłą od punktu D , na bok drugi AC , wydzielisz tym samym sposobem część trzecią zawierającą w sobie miar kwadrat: 440: na czwartą zaś część mającą zawierać miar 815, pozostanie czworokąt $CEDG$.



§. 78. Dany Trójkąt (Tabl: 8. Fig: 78.) HJK , podzielić na trzy części równe, liniami prostopadłymi do jednego z boków tegoż Trójkąta, iak tu do boku HK , którego ważność jest w liczkach wiadoma.

Aby podział tén podług warunków zadania mógł być do skutku przyprawadzonny; potrzeba aby kąty H, K , przyległe temu bokowi, od którego mają wychodzić linie prostopadłe, były oba ostré.

1. Od kąta J , spuść prostopadłą JL , na bok HK , potem za pomocą podziałki i cyrkla, znajdź w liczbach ważność odcinków HL, LK , zrobionych przez prostopadłą JL . Teraz abyś w odcinku HL , wyznaczył punkt M , od któregooby wyprowadzona prostopadła MN , oddzieliła Trójkąt HNM , równy trzeciej części Trójkąta HJK ; użyiesz następującego sposobu. Odcinek $HL = 24$, pomnóż przez 18, to jest: przez wieloraz boku HK , podzielonego przez liczbę części, na które Trójkąt HJK , ma być podzielony, iak tu przez 3: potem z wieloczynu 432, wyciągnij kwadratowy pierwiastek, który tu będzie $20' 8''$: naostatek obéymiy cyrklém na podziałce części $20' 8''$, i przenieś ié na linią HL , od H , do M : tak wyznaczysz żądany punkt M , od którego wy-

prowadzona linia prostopadła MN , odcinie Trójkąt HMN , równy trzeciej części Trójkąta danego HJK .

2. Jeżeliby drugi punkt podziału, od którego ma wychodzić druga linia prostopadła, miał przypaść w tymże samym odcinku HL ; natenczas dla wyznaczenia pomienionego punktu, rozmnożyłbyś odcinek HL , przez $\frac{2}{3}$ boku HK , iak w tym przykładzie przez 36, a z wieloczynu kwadratowy pierwiastek wyciągnąwszy, przeniosłbyś go, w częściach wziętych z podziałki, od punktu H , wzdłuż odcinka HL : od tego zaś punktu, gdzie się zakończyła długość przeniesiona, wystawiwszy linią prostopadłą, ta wyznaczyłaby dwie inne żądane części Trójkąta HJK .

3. Jeżeli zaś punkt, o którym mowa, ma przypaść w drugim odcinku LK ; natenczas odcinek LK , rozmnoż przez część trzecią boku HK , i z wieloczynu 540, wyciągnąwszy pierwiastek kwadratowy około 23'26", naznacz go w częściach wziętych z podziałki od K , do O ; skąd gdy wystawisz prostopadłą OP , ta oddzieli nowy Trójkąt POK , równy trzeciej części Trójkąta HJK : zatem i reszta pozostała $JNMOP$ równać się będzie trzeciej części tegoż Trójkąta HJK .

Przyczyna tego jest następująca: 1. Trójkąty HJK , HJL , mając wysokość iednakową, daią następującą proporcją, HJK :

U 3

ing. will. no. 100

$HK :: H^{\frac{1}{3}}L : HL$. 2. Ponieważ Trójkąt HMN , podług warunków założenia, powinien wyrównywać trzeciéy części Trójkąta $H^{\frac{1}{3}}K$; będzie zatem $H^{\frac{1}{3}}K : HK :: HMN : \frac{1}{3}HK$, iako téż $H^{\frac{1}{3}}L : HL :: HMN : \frac{1}{3}HK$, a przemieniwszy wyrazy średnie; będzie, $H^{\frac{1}{3}}L : HMN :: HL : \frac{1}{3}HK$. 3. Téż Trójkąty $H^{\frac{1}{3}}L$, HMN , będąc podobné, mają się iak kwadraty z ich podstaw, toiest:

$H^{\frac{1}{3}}L : HMN :: HL^2 : HM^2$; więc na miejsce stosunku $H^{\frac{1}{3}}L : HMN$, wziąwszy iemu równy $HL : \frac{1}{3}HK$; będziemy mieli następująca proporcya, $HL : \frac{1}{3}HK ::$

$HL^2 : HM^2$, którzy oba poprzedniki podzieliwszy przez HL , zostanie $1 : \frac{1}{3}HK ::$

$HL^2 : HM^2$; zatem $\frac{1}{3}HK \times HL = HM^2$.

Skąd oczywiście pokazuje się, że odcinek HL , pomnożony przez $\frac{1}{3}HK$, toiest przez wieloraz podstawy podzielonéy na tylé części, na ile Trójkąt ma być wydzielony; równa się kwadratowi podstawy szukanéy. Toż samo rozumowanie do innych części przystosować należy.

§. 79. Niech będzie dany Trójkąt (Tabl: 8. Fig: 80.) AfB , do rozdzielenia na 4 równé części, przez linie równoległe ścianie AB .

1. Z boku Af , który np : iest długi sznurów 52, zrob kwadrat 2704: a ponieważ

chcesz mieć podzielony Trójkąt na 4 równe części, weź zatém onego kwadratu część czwartą 676, i z części wziętęy wyciągnij kwadratowy pierwiastek, który tu będzie 26. Naostatek wzięwszy z podziałki części równych 26, wyznacz ie na boku Af , od f , np : do C , i przez koniec podziału wyciągnij linią CD , równoległą do podstawy AB , tak będziesz miał wydzielony Trójkąt CfD , równy czwartéy części daného Trójkąta AfB .

2. Abyś wydzielił drugą część żadaną w tymże Trójkącie AfB , weź kwadratu 2704, dwie czwarte części, toiest 1352, z tych wyciągnij kwadratowy pierwiastek około $36^{\circ} 7' 7''$, okaże ię masz z podziałki przenieść na bok Af , od f , np : do G : a gdy przez punkt G , wyciągniesz do AB , równoległą GK ; będziesz miał Czworokąt $CDGK$, równy drugiey czwartéy części Trójkąta AfB .

Podobnież dla wydzielenia części trzeciey, weźmiesz z kwadratu 2704, trzy czwarte części, toiest 2028: tych kwadratowy pierwiastek około $45^{\circ} 3''$, przeniesiony z podziałki na bok fA , od f , do M , wyznacz ci punkt M , przez który poprowadzona linia MN , równoległa do AB , oddzieli nowy czworokąt $GKMN$, równy 3ciey, 4tęy części Trójkąta AfB : a tém samém reszta pozostała $MNAB$, równa bę-

dzie czwartéy szukanéy części tegoż danégo Trójkąta *AfB*.

Działanie to zasadza się na na téy własności Figur, a w szczególności Trójkątów podobnych, iż té mają się do siebie, iak kwadraty wystawioné na ich bokach odpowiadających.

§. 80. *Grunt czwororościenny podzielić na kilka lub kilkanaście części równych, z tym warunkiem, aby wszystkie wydzielone części przypiératy do iednégo punktu wyznaczonégo na obwodzie lub wewnątrz tegoż gruntu.*

Sposób piérwszy. Niech będzie Równoległobok *NMLK*, (Tabl: 8. Fig: 79.) dany do podzielenia na 6 równych części.

1. Podziel grunt dany na dwie równé części przez linią *OP*, robiąc *MP* równé *KO*: natenczas jeżeli liczba części, na które grunt dany ma bydź wydzielony, jest parzysta; tyle ich zamykać się będzie w jednéy co i drugiéy połowie, toiest liniia *OP*, będzie ich granicą. Jeżeli zaś liczba części mających się wyznaczyć jest nieparzysta, w tym razie liniia *OP* podzieli na połowę część śrzednią między owémi częściami nieparzystými.

2. Podług §. 73, powierzchnia równoległoboku *MK*, równa się liczbie wynika-

iącący z rozmnożenia podstawy MN , czyli KL , przez wysokość $M\mathcal{F}$; więc aby mieć część szóstą téż powierchni, trzeba wysokość MY , pomnożyć przez część szóstą podstawy MN ; zatem część szosta podstawy MN , jest połową podstawy Trójkąta POQ , który my tu kładziemy bydz równym szóstéy części równoległoboku KM .

Stąd wynika, iż aby mieć punkta podziałów przypadających na podstawę $NM = 81$, trzeba ją *naprzód* podzielić na tyle części równych, ilé ich grunt dany do podziału zamykać powinien. *Powtórę*: jeżeli liczba części mających bydz wydzielonemi jest parzysta; potrzeba wziąć na podziałce tyle części równych, ilé ich zamyka część szosta podstawy MN ; a wyznaczwszy ié na téż podstawie, raz od P , do u , drugi od P , do x , poprowadzić linie Ou , Ox : tak zrobi się Trójkąt uOx , wyrównywaiący części średniéy między owemi częściami nieparzystemi. Teraz abys wyznaczył inné punkta podziałów przypadających na téż podstawę MN , obéymiy cyrkłém całkowitą podstawę xu , i przenieś ją po obóch stronach wzdłuż podstawy MN , od u , ku N , i od x , ku M , tyle razy ilé to będzie można uczynić. Gdy zaś liczba podziałów, iak w tém zadaniu, jest parzysta, natenczas część szóstą podstawy MN , to jest $\frac{81}{6} = 13\frac{1}{2}$ podwoiwszy, wez z podziałki tyle części, ilé ich owa

część szósta podwoiona zamyka, iak tu 27, i części tak wzięte naznacz od P , do Q , i od Q do R : potem wyciągnawszy liniie OR , OQ , będziesz miał iedną połowę Równoległoboku KM , wydzieloną na 3 części równé, QOP , QOR , i $NRKO$.

3. Aby mieć dalsze punkta podziałów przypadających na bok LM przyległy temu bokowi, na który przypadły punkta podziałów pierwszych; pomnóż MN , przez ML , toiest 81 przez 48, wieloczyn $MN \times ML = 3888$, z tego rozmnożenia wypadający, lubo iest większy od prawdziwéy powierzchni Równoległoboku MK , (gdyż bok ML , czyli NK , iest dłuższy od prostopadłéy wysokości MY ;) mimo tego weźmiemy ią za prawdziwą powierzchnią tegoż Równoległoboku MK : w tém więc założeniu szósta część tey powierzchni ró-

$MN \times ML = 81 \times 48 =$

wnać się będzie $\frac{\quad}{6} \quad \frac{\quad}{6}$

3888

$\frac{\quad}{6} = 648.$

6

Pomnóż teraz LM , przez LO , i połowę wieloczynu stąd wypadającego, toiest $LM \times LO = 48 \times 56$

$\frac{\quad}{2} = \frac{\quad}{2} = 1344$, weź za po-

2

2

wierzchnią Trójkąta MOL . Powierzchnia ta większa wprawdzie będzie od prawdzi-

wéy tegoż Trójkąta powierzchni; ale téż i tamté obiedwie, z których iedną wzięliśmy za powierzchnią Równoległoboku, a drugą za szóstą część iego, są także większe od prawdziwych powierzchni: a że wszystkie té trzy fałszywé powierzchnie są proporcjonalnie większe (bo czynniki ich iednakowé mają nachylenie) więc tak się mają do siebie, iak powierzchnie prawdziwé.

To założywszy; Trójkąt *MOL*, i drugi *SOL*, którego szukamy podstawy, mając iednakową wysokość, są do siebie iak ich podstawy, toiest:

$$\frac{LM \times LO}{2} : \frac{ML \times MN}{6} :: ML : LS.$$

Albo oba wyrazy pierwszego stosunku podzielwszy przez *LM*;

będzie $\frac{LO}{2} : \frac{MN}{6} :: ML : LS.$

Pomnożywszy między sobą skrajné i średnie wyrazy;

będzie $\frac{LO \times LS}{2} = \frac{MN \times ML}{6}.$

Obie té ilości
pomnożywszy
przez 2; wy-
padnie $LO \times LS = \frac{MN \times ML}{3}$.

A tak pomnożo-
ną podzieli-
wszy przez
 LO , będzie $LS = \frac{MN \times ML}{3 \times LO}$.

Stąd oczywiście pokazuje się, iż aby mieć postawę LS ; trzeba wieloczyn wypadający z rozmnożenia dwóch przyległych sobie boków MN , ML , Równoległoboku KM , podzielić przez odcinek LO pomnożony przez 3, to jest przez połowę sześciu części, na które cały Równoległobok ma być podzielony. I tak wieloczyn z dwóch boków Równoległoboku, równa się $81 \times 48 = 3888$, mnogość z odcinka $LO = 56$ rozmnożonego przez 3, czyli $56 \times 3 = 168$: Podzieliwszy mnogość większą przez mniejszą, to jest $\frac{3888}{168}$, wieloraz $23^\circ 1' 4''$ pokaże wielkość podstawy LS . Wziąwszy więc z podziałki części równych $23^\circ 1' 4''$, i wyznaczywszy ié na boku LM , raz od L , do S , drugi od S , do T , gdy zrysujesz liniie OS , OT ; będziesz miał i drugą połowę Równoległoboku, podzieloną na 3 równe części, a tém samym przedsięwziętego podziału dokonasz.

Sposób dopiero wyłożony służy do podzielenia na iakiékolwiek części upodobane, samych tylko Równoległoboków, toiest Czworokątów mających boki przeciwne równoległe: następujący sposób Jeometryczny iest ogólniejszy, iako służyący do podzielenia na części żądane tak równoległobocznych, iakotéż nierównoległobocznych Czworokątów.

Sposób drugi. Dany iest Czworokąt \mathcal{FKLM} (Tabl: 8. Fig: 82.) do podzielenia na trzy równe części, któreby do iednego punktu przypiérały.

Nim do samého podziału przystąpiemy, wyłożemy wprzód sposób zamienienia iakiégokolwiek Czworokąta na Trójkąt téżże saméy powierzchni. Abyś Czworokąt dany zamienił na Trójkąt, poprowadź przekątną \mathcal{FL} , i do niéy równoległą \mathcal{KO} , przez wierzchołek \mathcal{K} , kąta \mathcal{FKL} : gdy bok \mathcal{ML} , przedłużysz aż do przecięcia się z linią równoległą iak tu w punkcie \mathcal{O} , a potem wyciągniesz linią \mathcal{FO} ; będziesz miał Trójkąt \mathcal{MFO} , równy co do powierzchni danému Czworokątowi \mathcal{MFKL} .

I. Wyłożonym dopiero sposobém zamień Czworokąt dany \mathcal{FKLM} , na Trójkąt \mathcal{MFO} , równéy powierzchni, i podstawę iego \mathcal{MO} podziel na tylé części równych, na ile Czworokąt \mathcal{FL} ma bydź podzielony, iak tu na 3, punkta podziałów znacząc liczbami 1, 2, 3. Potém punkt dany \mathcal{N} , z punktem oznaczonym liczbą 2,

złącz linią N_2 . (którey lubo tu wyrażony nie masz, łatwo iednak zrysować ją można) i do nięj przez punkt \mathcal{F} , wyciągnij równoległą $\mathcal{F}P$, przecinającą podstawę MO , w punkcie P . Naostatek od P , do N , zrysuj linią NP , która odetnie Czworokąt $KLPN$, równy iednëj trzeciëj części danëgo Czworokąta $\mathcal{F}L$.

2. Abyś wydzielił dwie innë części równë, przedłuż podstawę LM , ku lewëj stronie nieokreślenie: potëm od punktu N , poprowadziwszy linią N_1 ; zrysuj do nięj przez punkt \mathcal{F} , równoległą $\mathcal{F}Q$, przecinając ją póki się nie zniydzie z podstawą przedłużoną, iak tu w punkcie Q : skąd gdy do punktu danëgo N , wyciągniesz linią QN , będziesz miał Tróykąt QNP , wyrównywaiący drugiëj części trzeciëj Czworokąta $K\mathcal{F}LM$.

Ponieważ zaś Tróykąt QcM , częścią swoją QM , (litera c na Figurze opuszczona, powinna być w tëm miejscu, gdzie się linią $M\mathcal{F}$, przecina z linią QN) wychodzi zewnątrz placu Czworokąta MK ; abyś więc część pomienioną wewnątrz placu umieścił; pociągnij linią MN , a do nięj przez punkt Q , równoległą Qr , przecinającą bok $M\mathcal{F}$, w punkcie r , od którego wyprowadzona linią rN , zrobi Czworokąt $rNPM$, równy Tróykątowi QNP , toiest drugiëj części trzeciëj Czworokąta MK , a tëm samëm reszta pozostała, czyli

Trójkąt $r\mathcal{N}$, równać się będzie trzeciej części danego Czworokąta MK . Tak więc mieć będziesz Czworokąt MK , wydzielony na trzy równe części $PNKQ$, $rNPM$, $r\mathcal{N}$, przypierające do iednegoż naznaczonego punktu N .

Przyczyna całego działania tego zasada się na Twierdzeniu: Dwa Trójkąty są równy powierzchni, gdy stoją na iednymże podstawie i między temiż liniami równoległemi.

§. 81. *Sposób podzielenia placu czworociennego na części żądane, liniami równoległemi do którejkolwiek ściany obwód placu składającej.*

Sposob pierwszy. Jest dany Różnobotek (*Trapezium*) $ACDB$, (Tabl: 8. Fig: 80.) do podzielenia na trzy równe części.

1. Wyrachuy naprzód sposobem §. 73. powierzchnią danego Czworokąta AD , która podług liczb znajdujących się na Figurze, wynosi 1188 miar kwadratowych: potem przedłużwszy boki AC , BD , aż do spotkania się z sobą w punkcie jakim f ; przystąp do obrachunku ważności linii fg , a to w sposób następujący:

Trójkąty CfD , AfB , będąc równokątne, dają takową proporcją: $AB : CD :: fE : fg$, a odciągając, będzie: $AB - CD : CD :: fE - fg : fg$; czyli, (ponieważ $fE - fg =$

gE ,) będzie, $AB - CD : CD :: gE : fg$;
 $gE \times CD$
 zatem $\frac{AB - CD}{CD} = fg$.

Stąd oczywiście pokazuje się, iż aby mieć ważność linii fg , trzeba bok CD , mniejszy między dwoma bokami równoległymi, pomnożyć przez gE wysokość Czworokąta AD , a wieloczyn stąd wypadający podzielić przez $AB - CD$, to jest przez różnicę dwóch boków równoległych AB i CD . Dokonawszy téj proporcji na liczbach, znajdujących się na Figurze; znajdziesz $fg = 48$.

2. Trójkąty podobne CfD , GfK , mając się tak do siebie, iak kwadraty wystawione na ich bokach odpowiadających, dają następującą proporcją: $CfD : GfK ::$

$fg : fb$; ponieważ zaś trzy pierwsze wyrazy téj proporcji masz w liczbach wiadomé; bo *naprzód*, w Trójkącie CfD , podstawa $CD = 24$, wysokość $fg = 48$, za-

tém powierzchnia iego $= \frac{24 \times 48}{2} = 576$:

powtóre, powierzchnia Trójkąta GfK , równa się CfD $\times \frac{ABCD}{ABCD}$

$= 972$: naostatek,

kwadrat $fg = 48 \times 48 = 2304$. Założywszy więc w liczbach trzy pierwsze wy-

razy

Razy owéy proporcyi: będzie 576:972::

$$2304:fb \stackrel{-2}{=} \frac{972 \times 2304}{576} = 3888; \text{ wycią-}$$

gnąwszy zaś kwadratowy pierwiastek z wieloczynu 3888, wypadnie $fb = 62, 35''$. A że $fb = fg + gb$, przeto jeżeli od $fb = 62, 3', 5''$, odejmiesz $fg = 48$, reszta pozostała $14, 35''$, okaże ważność odcinka szukanego gb . Wziąwszy zatem z podziałki części $14, 35''$, gdy ic wyznaczysz na gE , od g , do b , a potem przez punkt b , wyciągniesz linią GK , równoległą do AB , ta odetnie Czworokąt GD , równy trzeciej części danego Czworokąta AD .

3. Dla wynalezienia punktu b , przez który ma przechodzić druga linia równoległa MN , ułóż następującą proporcyą:

$$CfD: MfN :: fg : fb, \text{ zakładając to sa-}$$

$$2 \times 1188$$

mo w liczbach będzie, 576:576*

3

$$\stackrel{-2}{=} 1368 :: 2304:fb = 5472, \text{ z tego wielorazu wyciągnąwszy kwadratowy pierwiastek; będzie } fb = 73, 97''.$$

Naostatek gdy od fb , odejmiesz $fb = 62, 35''$, reszta pozostała $11, 62''$, okaże długość drugiego szukanego odcinka hb : który wyznaczysz od h , do b , gdy przez punkt b , zrysujesz linią MN , równoległą do AB ,

W

będziesz miał wydzielone dwie inne części równé MK , AN , a tak Czworokąt $ABCD$, na trzy równé części AN , MK , GD , wydzielony zostanie.

Sposób drugi. Niech będzie dany Czworokąt $abcd$, (Tabl: 8. Fig: 81.) do podzielenia na trzy równé części liniami równoległymi ścianie ad .

1. Czworokąt dany $abcd$, zamień na Trójkąt aed , teyże saméy powierzchni, i podstawę jego ed , podziel na tylé części na ilé Czworokąt ma być wydzielony, iak tu na trzy równé części w punktach f , g , d . 2. Przedłuż ściany de , ab , ku iednéy stronie aż do zniyscia się z sobą w punkcie iakim b , szukay między dwiema liniami bd , bf , średniey proporcjonalnéy il , którą gdy wyznaczysz na linii bd , od b , do m , i przez punkt podziału m , poprowadzisz linią mn , równoległą do ad ; będziesz miał oddzielony Czworokąt mnc , równy trzeciéy części danégo Czworokąta db . 3. Szukay znowu między liniami bd , bg , średniey proporcjonalnéy op , a przeniosłszy ją na bd , od b , do z , gdy wyciągniesz linią zr , równoległą do ad ; będziesz miał wydzielone dwie inne części zn , dr , z których każda iest równa trzeciéy części danégo Czworokąta. Tak Czworokąt ab , podzielony zostanie na trzy równé części liniami równoległymi do boku ad .

§. 82. *Wieś lub inną iaką obszerniejszą sztukę ziemi, na równé części wydzielić, z tym warunkiem, aby wszystkie części wspólną miały Studnię, Karcznię, Staw, Chrufty, i t. d. to jest: aby wszystkie części od iednego poczynaty się mieysca. (Tabl. 8.*

Fig: 83.)

Niech będzie obszerniejsza sztuka ziemi *BCGF*, dana do podzielenia na 5 równych części, z którychby każda do punktu *O*, przypiérała.

1. Podług §. 74, wyrachowawszy powierzchnią gruntu danego *np:* miar 6000, podzieli ją przez 5, to jest przez liczbę części, na które plac ów ma być podzielony: wieloraz 1200 z tego dzielenia wynikający, ukaże liczbę miar kwadratowych, które każda z pięciu części zamykać w sobie powinna.

2. Po uczynioném takowém przygotowaniu; od punktu *O*, do którego części wydzielone przypiérać powinny; do wszystkich załomków znajdujących się w obwodzie czyli w granicach placu, rysuy linie proste *OB, OC, OG, OF, OL*. Tym sposobem podzieliwszy plac na Trójkąty, szukay znowu powierzchni którégokolwiek z tych Trójkątów, iakoto Trójkąta *COB*: powierzchnia iego znaleziona niech *np:* zamyka 900, która, ponieważ 300 miarami

kwadr: mniejsza jest od 1200, to jest od piątej części placu całkowitego, potrzeba więc od przyległego Trójkąta COG , wziąć taki Trójkąt COE , któryby w sobie zawierał 300 miar kwadrat: a które przydané do Trójkąta BOC , wyrównywałyby piątą część całego placu $BCGFL$.

To ażebyś wykonał, z punktu danego O , na bok CG , spuść prostopadłą OD , i wymierz ją na tę samą podziałkę, podług której plac ten był przeniesiony na papier: dajmy iż długość ię z podziałki, wynosi miar 120. Prostopadła tak spuszczone i wymierzona będzie wysokością Trójkąta COE ; którego powierzchnia zamykać powinna 300 miar kwadratowych. Zatem (podług tego co się powiedziało w §. 73, o wynadywaniu powierzchni Trójkąta) podzieliwszy 300, to jest pole Trójkąta szukanego COE , przez połowę wysokości iego OD , to jest przez 60; wieloraz 5 stąd wynikający oznaczy długość podstawy Trójkąta COE : gdyż $60 \times 5 = 300$. Wziąwszy zatem z podziałki części równych 5, gdy ię przeniesiesz na bok CE , od C , do E , a potem wyciągniesz linią OE ; będziesz miał Trójkąt COE , zamykający w sobie 300 miar kwadrat: które gdy dodasz do Trójkąta $BOC = 900$; natenczas Czworokąt $BOEC$, zamykać będzie 1200 miar kwadratowych, zatem będzie piątą częścią placu $BCGFL$.

3. Wymierz teraz Trójkąt EOG , który daymy, iż zamyka 1440 miar kwadr.; przeto 240 miarami kwadr. będzie większy od 1200, toiest od piątéy części placu całkowitego: potrzeba więc znowu od Trójkąta EOG , odjąć taki Trójkąt FOG , któryby 240 miar kwadrat: w sobie zamykał. Zważ, że linia prostopadła $OD = 120$, iest wysokością Trójkąta szukaného GOF , który powinién zamykać 240 miar kwadrat: zatem podług tego co się tu *Nro 2do* powiedziało, dzieląc 240 przez 60, toiest przez połowę prostopadłéy OD ; wieloraz 4, okaże jaką mieć powinna długość podstawa Trójkąta GOF , którego pole iest miar kwadr: 240, a wysokość 120. Przeniosłszy więc z podziałki od G , do F , miar 4, i od O , poprowadziwszy linią OF , zrobi się Trójkąt EOF , zamykający 1200 miar kwadrat: a tém samém wyrównywać będzie drugiey piątéy części placu $BCGFL$, gdyż $EOF = EOG - FOG$, toiest: $1440 - 240 = 1200$.

4. Ponieważ Trójkąt FOG , tylko 240 miar kwadr: w sobie zamyka, przeto, trzeba mu z Trójkąta następującego GOJ , przydadź 960 miar kwadratowych, aby wyrównywał trzeciéy piątéy części placu daného. Tym więc końcem zmierz *naprzód* podstawę OG , która niech ma *np*: miar 192. *Powtóre*, podziel 960 przez 96, toiest przez połowę podstawy OG , wielo-

raz 10 będzie wysokością Trójkąta szukane-
 nego: gdyż 10 pomnożone przez 96 czyni
 960. *Potrzenie*, z którychkolwiek dwóch
 punktów iak tu p , i G , podstawy OG , wy-
 staw dwie prostopadłe pa , Gb , dając ka-
 żdę z nich taką długość z podziałki, iaką
 Trójkąt szukany GOH , powinién mieć wy-
 sokość, iak tu miar 10. *Naostatek*, gdy koń-
 ce a , i b , linij prostopadłych złączysz li-
 nią ab , ta przetnie bok $G\mathcal{F}$, w punkcie
 H , od którego wyciągnąwszy linią OH ,
 będziesz miał Trójkąt GOH , zawierający
 960 miar kwadrat: któremu gdy przydasz
 Trójkąt $FOG = 240$, będziesz miał Czwo-
 rokąt $OFGH$, równy trzeciéy piątéy czę-
 ści placu całkowitégo $BCG\mathcal{F}L$.

5. Znajdź teraz powierzchnią Trójkąta
 $HO\mathcal{F}$, daymy, iż ta wynosi 720 miar kwadr:
 więc masz mu ieszcze przydadź 480. Tę
 liczbę podziel przez połowę podstawy $O\mathcal{F}$,
 wieloczyn z podzielenia wynikający oka-
 że wysokość rn , albo $\mathcal{F}m$, Trójkąta szu-
 kaného: zatém, tak iak pod liczbą $4tg$:
 z dwóch punktów podstawy $O\mathcal{F}$, wystawi-
 wszy dwie prostopadłe rn , $\mathcal{F}m$, takiéy dłu-
 gości, iaką mieć powinna wysokość szuka-
 négo Trójkąta, i konce prostopadłych złą-
 czywszy linią nm ; ta przetnie się z bo-
 kiém $\mathcal{F}L$, w punkcie K : od którego wy-
 prowadzona linia do punktu O , zrobi
 Trójkąt $KO\mathcal{F}$, zawierający 480 miar kwa-
 dratowych, té dodané do Trójkąta $OH\mathcal{F}$,

czyli 720, uczynią Czworokąt *HOKJ*, równy czwartéj piątej części placu *BLJGC*.

Naostatek zrysuy linią *OL*, i wymierywszy Trójkąty *KOL*, *LOB*, znaydziesz, iż oba razém wzięte, miec w sobie będą 1200 miar kwadr: a tém samém uczynią Czworokąt *BOKL*, wyrównywiający piątę, a téy ostatniéj części całkowitégo placu *BCGJL*.

§. 83. *Obszérniejszy grunt iakowy ABCDEFGHJK*, (Tabl: 8. Fig: 84.) z jednéj strony rzeką oblany, a z drugiéj przypiérający do traktu, gościńca, drogi i t. d. wydzielić na części żądane, liniami względém siebie równoległemi: w tén sposób, aby każda część miała swóy brzeg rzeki z jednéj strony, a z drugiéj przypiérata do drogi.

Przestroga. Na pomienionéj Fig: 84, w tém miejscu, gdzie linia, przy której znayduie się liczba 14, 3', przypiéra do brzegu rzeki, toiest po prawey stronie litery *M*, potrzeba przypisać literę *S*.

1. Plac dany podzieliwszy na Różnówki *B, C, D, E, F*, i t. d. liniami względém siebie równoległemi; tak iak Figura pokazuje wyrachuy powierzchnią każdéj czę-

ści z osobna podług §. 73. Daymy, iż powierzchnie wynalezioné są takie, iak ie ukazuje następująca Tablica.

A	-	-	-	-	9. 10''.
B	-	-	-	-	78. 04''.
C	-	-	-	-	24. 05''.
D	-	-	-	-	21. 26''.
E	-	-	-	-	59. 84''.
F	-	-	-	-	37. 31''.
G	-	-	-	-	58. 50''.
H	-	-	-	-	58. 35''.
J	-	-	-	-	65. 90''.
K	-	-	-	-	64. 85''.
Summa					- - 477. 20''.

Wszystkie té pojedyncze powierzchnie dodané razém, dają powierzchnią placu całkowitégo 471, 55'' miar kwadr. Daymy teraz, iż powierzchnię tę podzielić trzeba na trzy takie części, z którychby pierwsza zamykała 146, 90'', druga 167, 55'', trzecia 162, 75''.

2. Abyś wydzielił część pierwszą mającą wyrównywać 146, 90'', zbierz w jedną summę powierzchnie *A, B, C, D*, co uczyni 132, 45'', summa ta ponieważ od trzeciéj części placu całkowitégo, toiest od 146, 90'', mnieysza iest miarami kwadratowými 14, 45'', potrzeba więc od Czworokąta *E*, odjąć taki Czworokąt *NP*, któryby w sobie zamykał miar kwadr: 14, 45'', to zaś wykonasz w sposób następujący,

Czworokąt mały PN , który powinien zamykać w sobie miar kwadr: $14, 45''$, mając boki równoległe mało co różniące się od siebie; może być uważany jako Prostokąt, którego wysokość $PQ = 9, 2'$: więc (podług tego co się powiedziało w §. 73, o wynajdowaniu powierzchni Prostokąta) podzieliwszy powierzchnią Prostokąta szukanego, to jest $14, 45''$, przez jego wysokość PQ , czyli przez $9, 2'$, wieloraz z tego dzielenia wynikający pokaze, iż podstawa tegoż Prostokąta powinna zamykać $1, 5', 7''$. Zatem gdy tylé części z podziałki wziętych przeniesiesz od Q do N , a potem z punktu N , wyciągniesz linią NO , równoległą do QP ; mieć będziesz wydzieloną pierwszą część żadaną: ponieważ powierzchnie A, B, C, D , i NP , dodane; czynią $146, 90''$.

3. Dla wydzielienia drugiey części mającey zamykać miar kwadr: $167, 55''$; do reszty Czworokąta E , która równa się $59, 84'' - 14, 45'' = 45, 39''$, doday powierzchnie następnych Czworokątów F, G, H , co wszystko uczyni $199, 55''$, mnogość większą 32 miarami kwadr: od części drugiey żadanej. Trzeba zatem od Różnoboku (Trapezium) H , odjąć taki Różnobok RS , któryby zamykał 32 miar kwadr. Co abyś wykonał, uważay Czworokąt RS jako Prostokąt, którego wysokość jest prawie średnią proporcjonalną między dwoma bokami ró-

wnoległemi TS , LW . Założywszy, iż pomieniona wysokość jest prawdziwie średnią proporcjonalną; iéy długość róż-

$$LW \times TS = 13 \times 14,3'$$

wnać się będzie —————

2

2

$= 13,65''$. Przez tę znaną wysokość, toiest $13,65''$, podzieliwszy powierzchnią Czworokąta RS , czyli 32 miar kwadratowych; wieloraz $2,34''$, okaże ważność wysokości szukanéy, mało co różniącą się od prawdziwéy.

Chcąc znaną szerokość poprawić, toiest bardziéy ją do prawdziwéy przybliżyć; od końca T , wystaw prostopadłą TR , równą szerokości znalezionej $2,34''$. Potém, wymierzwszy na podziałce prostopadłą RM , wystawioną od końca R , linii TR ; ważność iéy doday razém z ważnością linii ST , połowa téy summy będzie poprawioną wysokością Czworokąta TM ; przez którą gdy podzielisz powierzchnią tegoż Czworokąta, toiest 32, wieloraz z podzielenia wynikający okaże poprawioną szerokość Różnoboku TM . Następnie obiąwszy cyrkłém z podziałki tylé części, ilé na poprawną szerokość wypadło miar, części wzięté naznacz na linii TR , od T , do R , i od S , do M , przez té dwa punkta poprowadzona linia MR , będzie granicą drugiey części, która powinna zamykać $167,55''$, a zatém

i reszta pozostała H, J, K , równać się będą części ostatniej mającej zamykać 162, 75". Jakim zaś sposobem poprawiona była szerokość TR , takim samym można było poprawić prostopadłą szerokość pierwszego szukanego Prostokąta QO . Poprawy téj fundament łatwo zrozumieć się da, pamiętając na to, co się w §. 73. powiedziało, o wynaydywaniu powierzchni Różnoboku.

§. 84. *Podział placu iakowego uczyniony na Mappie wyznaczyć na gruncie.* (Tabl: 9. Fig: 85. i 86.)

Daymy, iż w lesie $ABCDJF$, (Tabl 8. Fig: 86.) potrzeba wyznaczyć drogi albo ulice, któreby tak względem siebie były odległe, iak są liniie (Fig: 85.) no , pz , rs , zrysowane na Mappie $ghiklm$, tegoż lasu.

1. Na podziałce Mappy $ghiklm$, wymierzwszy długość boku gn , iak w tym razie prętów 90; odmiierz tylż prętów na ścianie odpowiadający na ziemi, toiest na ścianie AB , od A , do W . Potém ustaw Stolik (na którym Mappa ta iest rozciągniona) nad punktem W , w tén sposób, aby punkt n , Mappy, zgadzał się z punktem W , odpowiadającym sobie na ziemi, tudzież aby liniia ng , zgadzała się z liniią WA . W tém położeniu utwierdziwszy Stolik, położ prawidło wedle linii no , a

poglądając przez celowniki prawidła, obaczysz każde drzewo, które wyciąć potrzeba, aby od punktu W , punkt H , w prostey linii mógł być widziany. Doszedłszy do punktu H , każ przemierzyc na ziemi sznurém odległość $\mathcal{F}H$, która jeżeli tylé miar zamykać będzie na ziemi, ilé na Mappie liniia odpowiadająca mo , zabiera cząstek z podziałki, będzie to dowodem dobrze wyznaczonéy ulicy WH . Jeżeliby zaś między odległościami mo , $\mathcal{F}H$, iakowa pokazała się różnica; starałbys się postrzeżoné uchybienie poprawić: odmierzając *naprzód* na ścianie $\mathcal{F}G$, tylé miar od \mathcal{F} , do H , ilé liniia mo , na Mappie zabiera cząstek, potém zaś ustawiając Stolik z Mappą na punkcie H , tak iak ustawiałes go na punkcie W .

2. Abyś wyznaczył dwie inné pozostałé ulice, wymierz na podziałce linią np , która w tym przykladzie zamyka 110 prętów, i drugą linią br , zawierającą prętów 43: potém odmierzysz na gruncie 110 prętów od W , do Y , a 43 od B , do Z ; będziesz następnie ustawiał Stolik w punktach Y, Z , i tak sobie na nich postąpisz, iak postępowałes na punkcie W . Natenczas liniie YG, ZE , w lesie wycięté oznaczać będą dwie inné ulice pz, rs , na Mappie zrysowané.

Inne prawidła tyczące się podziału gruntów, niżej będą wyłożone.

Uwagi do dwóch poprzedzających Rozdziałów stosowne.

1. Wymierzaliśmy powierzchnie tak właśnie, iak gdyby te były doskonale poziomą płaszczyzną, z tém wszystkiém grunta po większą częśći są chropowate, nierówne; znajdują się na nich doły, niziny, garby, góry, pagórki i t. d. pewna zaś rzecz iest, iż góra, pagórek lub inna iakakolwiek pochyłość większą ma powierzchność, niżeli płaszczyzna pozioma téż pochyłości odpowiadająca: a zatem wymierzonymi dopiero sposobami wymierzając grunta, mniéj im naznaczamy powierzchni niżeli iey w rzeczywistości zawierają: Wszakże są takie okolicości, w których wzgląd mieć potrzeba na pochyłość i nierówność gruntów, iako téż i takie, gdzie samę tylko odpowiadającą im płaszczyznę poziomą uważać należy. I tak np: miasto lub wieś położona na górze, któryby albo całą zajmowała pochyłość, albowi téż iey część iakakolwiek, bez wątpienia więcéj potrzebowałaby kamieni do wysłania niemi ulic, niżeli gdyby taż wieś położona była na płaszczyźnie pozioméj, która téż na górze odpowiada; gdyż bruk musiałby być układany podług pochyłości gruntu, na którym się i wieś i iey ulice znajdują. Lecz ieżeli byśmy wieś tę uważali tylko co do domów, budynków, ogrodów, drzew, szczepów, i innych tym podobnych rzeczy, które się na owéj górze znajdują, albo dopiero znajdować się mają, w tym razie nie płaszczyzna pochyła, ale pozioma tamtéj odpowiadająca, mierzoną być powinna. Daymy bowiem (Tabl: 8. Fig: 72.) że linie *Ai*, *ig*, *gm*, *mn*, *nb*, oznaczają szerokość placów, które byłyby zajęte od budynków stojących na

płaszczyźnie pozioméy *Aigmb*: wystawmy znowu sobie, że ściany tych budynków przedłużone w górę wychodzą nad wierzch płaszczyzny zgórzystéy *Abcdeb*, tak iak pokazują linie *Aa*, *bi*, *cg*, *dm*, *en* i t. d. Budynki pomienione będąc zawsze prostopadłe do płaszczyzny pozioméy, a zatém względem siebie równoległe; będą tak blizkie sobie na pochyłości *Abcdeb*, iak były na dole *Ab*, a tém samém nie więcéy ich mieścić się będzie mogło, na płaszczyźnie zgórzystéy *Abcdeb*, iak na pozioméy *Ab*, która tamtéy odpowiada. Idzie zatém, iż obszérność placu pochyłego przeznaczoného do zabudowania, płaszczyzną iego poziomą miarkowana byđź powinna. Zdaie się wprawdzie, iż wygodniejsza i pożyteczniejsza byđź powinna pochyłość nad plac iéy poziomy, gdy wzgląd mieć będziemy na drzewa, szczepy i inné rzeczy, które mocno w górę wzrastają, ponieważ gałęzie drzew na miejscach zgórzystych będąc wyższe iedné nad drugie, łatwiey rozpościéraią się i rozrastają, a tém samém więcéy z nich pożytku spodziewać się można: ieżeli tylko z drugiéy strony wiatry, niedostatek soków żywiących i inné niewygody, którym miejsca zgórzysté podlegają, spodziewanému pożytkowi na przeszkodie nie będą.

2. Chcąc znaleźć stosunek zachodzący między płaszczyzną pochyłą i poziomą, tamtéy odpowiadającą; dóydziesz tego sposobém następującym. (Tabl: 8. Fig: 73.) Daymy, iż płaszczyzna *ABCD*, na stopni 30 i minut 4, do horyzontu jest pochylona, i że iéy szerokość *BC*, wynosi prętów 32; Płaszczyzny, pozioma *ABEF*, i pochyła *ABCD*, mając iednakową długość *AB*, tak się mają do siebie, iak ich podstawy czyli iak ich szerokości *BC*, *BE*: a że *BC* jest wiado-

ma, zatem potrzeba tylko wynaleźć szerokość BE , płaszczyzny poziomej $ABEF$. To ażebyś wykonał, zmyśl sobie pionową EC , natenczas w Trójkącie prostokątnym BEC , będziesz miał wiadomy kąt prosty CEB , kąt zaś $B = 13^\circ$, więc kąt $C = 90^\circ - 13^\circ = 77^\circ$: dójdiesz podług §. 50. iż bok $BE = 33$, przeto płaszczyzna pochyła mieć się będzie do płaszczyzny poziomej, iak BC , do BE , czyli iak 34 do 33.

Można téy saméy szerokości dóysdz prostszym sposobem okazany na Figurze 72, a co się wyżej iuż namiénito.

3. Skały zupełnie niepożytkujące, góry, bagniska, które ani na pastwiska, ani do innego gospodarskiego użytku bydz nie mogą przydatne, tudzież publiczne drogi, gościńce, polne dróżny, przerwy od wody i inne gruntu części, zupełnie nic nie przynoszące; tak w kalkulacyi gruntów, iakotéż w jch podziale opuszczane bydz powinny. Jednakowoż: podobne części gruntów na Mappie wyrażać się powinny z przydatkiem, iż nie są pożytkujące.

4. Nic tu nie wspominam o gatunkach ziemi, iakotéż o położeniu gruntów na równinach i górach, tudzież o przyległości ich rzekom, bagnetom, lasom, drogom, gościńcom, na które to okoliczności przy podziale gruntów mieć baczność należy: tego albowiem nie opis by téż nayobszérniejszy, ale doświadczenie naylepiéy naucza.

5. Naostatek, ilé możności wystrzegać się potrzeba, aby podziały gruntów nie wypadały w kliny zaostzone, lecz naylepiéy iest dzielić ié tak, aby części wydzielone czyniły Figurę podobną Równoległobokom, albo przynaymniéy Różnobokom (Trapezium), co téż wielce pomaga do naznaczenia granic w linii prostéy, a trudności

żadny nie uczyni temu, który pojął należyte podane tu prawidła dzielenia Figur na części upodobane, linijami względem siebie równoległemi.



ROZDZIAŁ VIII.

O Równoważeniu (*Libellatio.*)



Równoważenie służy do odkrycia pochyłości i zgórzystości na powierzchni ziemi znajdujących się. A iako odległości, któremi miejsca pochyłe i zgórzyste oddzielaia się, większe lub mniejsze być mogą; tak i Równoważenie rozmaite być musi: *większe*, nazywa się to, które bawi się około Równoważenia miejsc odleglejszych: a *mniejsze*, w którym odległość miejsc 600 łokci nie przechodzi. Pierwsze, w postrzeżeniach tylko Astronomicznych zdarza się: drugie, o którym tu mówić będziemy, w codziennem, iż tak rzekę, jest używaniu, iakoto *np*: gdy idzie o sprowadzenie wody z jednego miejsca na drugie, do sadzawki, fontanny, młyna, folusza, tartaku, papierni i t. d: do tego drugiego żadne, ani z przyczyny kółistości ziemi, ani z przy-

z przyczyny zбочenia światła łamiącego się w powietrzu, ani z przyczyny instrumentu użytego do téj roboty, nie wpływają poprawy.

§. 85. *Opisanie narzędzi do działań Równowazenia używanych.*

Do prowadzenia linii poziomych czyli horyzontalnych, na czém działania Równowazenia zawisły, rozmaite wynalezioné są narzędzia, zwané *Równowagi* (Libellæ.)

1. *Równowaga wodna*: składa się z rurki mosiężny lub blaszaney, zagięty przy obóch końcach w kolanka, w które zasadzają się dwie rurki szklanné. W połowie i na spodzie rurki jest przyprawiona krótka ryłka, aby przy iey pomocy kolankowa rurka mogła być ustawiona na swéj nodze. Cały kanał rurki kolankowey wypełnia się wodą, tak żeby w rurkach szklannych na 2 lub 3 cale wznosiła się. Używanie Równowagi wodney zasadza się na tém, iż woda w owych rurkach do równowagi układa się: zatem linia przechodząca przez powierzchnie wody w dwóch rurkach znajdujący się, będzie ukazywać linią poziomą czyli horyzontalną.

2. *Równowaga powietrzna*, (Tabl: 9. Fig: 87.) składa się z rurki szklanney *AB*, napelnioney spirytusem winnym, tak aby się w niéy pozostała kropka powietrza, mającéy oba końce hermetyczne, to jest szkłem roztopioném przy ogniu, zamknięté. Rurka szklanna tak narządzona, w jnnéy mosiężny osadzona bywa, i wraz z nią przytwierdza się na liniiale w tén sposób, aby przy *rektyfikacyi* Równowagi, podług potrzeby podniesioną lub zniżoną być mogła: eo

jakby się wykonywało, Figura 87 dokładnie i jasnie pokazuje. Używanie Równowagi powietrznej zasadza się na własności powietrza, ilé lżejszego od cieczy znajdujący się w rurce. Przez tę własność powietrze wraz z cieczą zamkniętę wychodzić nad nią musi: Aby zaś wspomniona Równowaga mogła być użyta do działań na gruncie, przygotowana bywa na przykładzie mosiężnym lub drewnianym dwoma celownikami opatrzonym, i wraz z prawidłem osadza się na nodze tak, aby za pomocą śrubby i kółka zębatego poziomo do wspomnionéj nogi przygotowionego, poziomo także w każdą stronę obracać się mogła.

Chcąc Równowagę powietrzną mieć wygodniejszą, można na miejsce prostych celowników użyć perspektywy, iakoto na Figurze 88 widzieć się daie. AB jest sztuka z twardego drzewa wyrobiona, mająca przy mn , czworograniastą, a przy C , okrągłą dziurę, osadzona na nodze takiej EF , iaka do Stolika mierniczego lub Kątomiaru używana bywa. Przez dziurę czworograniastą przy mn , iakoteż przez pomienioną nogę przechodzi na wylot sztyft mosiężny, który przy końcu dolnym, *muterką* czyli iak zowią macicą przyśrubować się daie, (co z Figury miarkować można,) przy górnym zaś tegoż sztyfta końcu, iak tu przy M , znajduje się gwint, w którym osadzony pręt żelazny GH , za pomocą owego gwintu w górę podniesiony lub na dół pochylony być może.

Na końcach żelaznego pręta GH , przygotowane są dwie kluby F , L , w których osadzona perspektywa PQ , utrzymuje się. Pomienione kluby, zwierzchu tak wyglądają, iak widzieć się daie przy VN .

Na wierzchu perspektywy przynitowane są dwie sztuczki mosiężne T , S , utrzymujące równowagę powietrzną YST .

Naostatek szruba przechodząca przez dziurę okrągłą C , a górnym swym końcem przypięrająca do pręta GH , służy do podwyższania lub też zniżania perspektywy, póki powietrze w pośrodku niezastanowi się: a tém samém póki promień oczny do poziomego położenia nie przyydzie.

3. Do działań równoważenia potrzebny także jest pręt na łokcie i cale wydzielony. Narządzenie jego takie, iak Fig: 90 pokazuje, zdaie się bydz naywygodnieysze. AB jest prosta z wyschlęgo drzewa wyrobiona łąta 5 lub więcéy łokci długa, na przyzwoité części wydzielona. Wzdłuż i w pośrodku iéy, znajduie się wyrobiona fuga, (iakoto z horyzontálnego téyże łąty przecięcia F , miarkować można,) w którą wsuwa się pręt drówniany (téyże Figury co sama fuga) w długości swoiéy połowie łąty wyrównywaący.

Na iednym końcu pomienioného pręta iak np : na C , osadza się gałka drówniana, służąca do tego, aby uiąwszy ią ręką, można było z łątwością pręt w fudze swéy, podług potrzeby na dół lub w górę posunąć. Przy drugim końcu D , jest przytwierdzona sztuka blachy albo téż deszczułka biało malowana, mająca w środku swoim cęł czarno malowany: który bydz może albo Figury okrągłéy, albo téż nakształt krzyża. Do tego, w którémkolwiek mieyscu tegoż pręta iak tu przy G , znajdować się powinna gwintowa szrubka, aby pręt za pomocą iéy, mógł bydz w przyzwoitéy wysokości do łąty przytwierdzony.

Jeżeli w czasie roboty, promień oczny przechodzący przez celowniki Równowagi, nad łatę wypada; natenczas mając tak sporządzoną łatę, można ieszcze pręt z tarczą na kilka łokci w górę podnieść, iak *np:* na *H*. Jeżeli zaś promień oczny dotém padać będzie: w tym razie koniec górny *A*, na dół, a dolny *B*, do góry obrócić potrzeba, aby tarcza do nizkości przyzwoitęty posunięta bydz mogła, iak *np:* na *F*. W obydwóch razach, wysokość promiienia celowego padającego na szrodek tarczy, naywygodnięj jest rachować od ziemi do dolnęj tylko krawędzi tarczy: co w rachunku żadnęj nie sprawi odmiany, ponieważ cel zawsze w pośrodku tarczy znajduje się; przeto też zawsze iednakowa ilość od prawdziwęj wysokości promiienia odęymnie się.

§. 86. *Między dwoma mieyscami znaleźć różność równowagi; albo co iednoż jest, poznać iezeli dwa iakie mieysca są iednakowęj wysokości, albo też które z nich niższe.*

Przestroga Na Figurze 89. Tabl: 9. linie *DA*, *DB*, nie są potrzebne.

1. Niech będą (na Figurze pomienionęj) dane do równowazenia dwa takie mieysca *E*, *B*, iż odległość *EB*, między niemi zawarta 300 łokci nie przechodzi.

Na iedném z tych mieysc *np:* na *B*, każ pomocnikowi ustawić pionowo pręt *AB*, na łokcie i cale wydzielony, sam zaś stań z Ró-

wnowagą na drugiem miejscu E : gdzie ułożywszy narzędzie poziomo celuy ku prętowi ustawionému na B , dając pomocnikowi znak aby póty podnosił lub zniżał tarczę C , aż twój promień oczny przez celowniki narzędzia przechodzący przypadnie na cěl znajdujący się w pośrodku tarczy C . Za postrzeżeniem cėlu dasz powrotny znak pomocnikowi, aby naprowadzoną tarczę w przyzwoitėy wysokości przywiėrdził, a po utwiėrdzeniu mozesz znowu z miejsca twego iėy położenia doświadczyć.

To wykonawszy, odmierz naprzd wysokość Równowagi od ziemi, toiest wysokość ED , potėm kaź pomocnikowi odrachowac na pręcie odległość od ziemi do dolnėy krawėdzi tarczy, toiest odległość BC . Jeźeliby znalezione wysokości ED , BC , były rőwne, byłoby to znakiem, iż obadwa punkta E , i B , są do równowagi, czyli że oba mają iėdnakową wysokość. Jeźeli zaś wysokość tarczy będzie wiėksza lub mniejsza od wysokości narzędzia, tedy odciagnąwszy wysokość mniejszą od wiėkszėy, reszta pozostała pokaże o ilė miejsce B , iest wyźszė lub niźszė od miejsca E .

2. Jeźeli (Fig: 91. Tabl: 9.) odległość oddzielająca dwa miejsca A , C , danė do równowazenia, wiėksza iest od łokci 300, ale iėdnak 600 łokci nie przechodzi;

W tym razie, wyszli naprzód dwóch pomocników z tarczami na miéysca A, C , dane do równowazénia: potém w pośrodku odległości AC , ustawiwszy Równowagę poziomo, upatruy tak iak piérwéy przez iéy celowniki, naprzód tarczy F , potém tarczy E . Naostatek każ odrachowac na prętach wysokości obydwóch tarcz, iak tu wysokości AF, CE ; różnica ich będzie różnicą wysokości dwóch punktów A, C , przedsięwziętych do równowazénia, ten zaś punkt będzie niższy od drugiego, któremu odpowiadać będzie wysokość większa: I tak *np*: gdyby wysokość AF , była 7, a CE 4; odjąwszy 4 od 7, reszta pozostała pokaze, iż miéysce A , 3 łokciami iest niższe od miéysca C .

3. Naostatek iezeli miéysca przedsięwzięte do równowazénia są odlegleysze, naywygodniéy iest tę przywiékszą odległość podzielić na części pomniéysze, z których każda zawierałaby naywiécéy około 600 łokci, a dopiéro końce każdéy pomniéyszéy odległości równowazyć sposobem wyrażonym pod liczbą 2gż, tak *np*: Fig: 91, chcąc między dwoma odlegleyszemi miéyscami b, R , znaleźć różność równowagi, podziel naprzód tę przywiékszą odległość, tak iak się dopiéro powiedziało, na pomniéysze odległości bY, YU, UR : powtóre stanąwszy z Równowagą w pośrodku piérwszéy odległości bY , kieruy

celowniki ku tarczom ustawionym na punktach b, Y , każdy zaś pomocnik niechay odrachuje na pręcie wysokość swęj tarczy, i onę dla pamięci w raptularzu zapisze.

Po odprawioném równoważeniu pierwszey odległości bY , niech pomocnik stojący na Y , przejdzie na trzeci następujący punkt U , pomocnik zaś z miejsca b , niech stanie z swą tarczą na punkcie od poprzedzającego pomocnika opuszczonym, toiest na punkcie Y : to gdy się stanie, celuy iak piérwéy z pośrzodka odległości UY , ku tarczom na punktach U, Y , ustawionym, obydwu zaś pomocnicy niech znowu wysokości tarcz swoich w raptularzu zapiszą, toiest: pomocnik na Y , niech zapisze wysokość YW , a pomocnik na U , wysokość US .

Tén sam sposób postępowania zachowasz z równoważeniem trzeciéy odległości UR , i tylu innych, ile ich tylko znajdować się będzie: na to zawsze pamiętając, aby tén pomocnik, który przodem idzie ku drugiemu końcowi całej odległości, stawał zawsze przy punkcie następującym, a drugi przy punkcie od pierwszego opuszczonym.

Po zakończonych wszystkich szczególnych działaniach, zbierz w jedną summę wysokości od pierwszego pomocnika naznaczone, a w drugą, wysokości zapisane od drugiego. Różnica tych dwóch summ,

będzie różnicą wysokości dwóch punktów skrajnych, które równoważyc postanowiłeś. Któremu [zas punktowi większa odpowiadaz będzie summa, ten będzie niższym od drugiego. Daymy, że $bB=2$. $YX=3$.

$$YW=6. \quad UT=2.$$

$$US=4. \quad PO=9.$$

 12.

 14.

Różnica między temi dwoma summami iak tu 2, daie poznać, iż mieyscé R , dwoma łokciami iest niższe od mieysca b .

Sposób ten równowazenia odległości przywiększey, dzieląc ią na inne pomnieysze, z którychby każda 600 łokci nie przechodziła, w zwyczajnieyszych działaniach iest naywygodnieyszy, iako niewyciągający żadney poprawy z przyczyny *równowagi pozorney* (*Libella apparens*) i *równowagi prawdziwey* (*Libella vera*), byle tylko narzędzie do równowazenia użyte, zawsze w śródku każdej odległości pomnieyszey było ustawiane. Czytaj Jeometryą dla Szkół Narodowych, na karcie 393, i Naukę Matematykę dla Korpusu Artylleryi Narodowej, na karcie 295.

4. Gdyby wyciągała potrzeba ukazać w rysunku różnicę wysokości punktu pierwszego względem każdego innego między punktami skrajnemi pośrzedniego, w tym razie:

Przestroga. Na Fig: 91. Litery K , N , R , powinny znajdować się przy tych mieyscach, gdzie

tarcze *Hf*, *LM*, *OQ*, końcami swými dotykają się ziemi. Podobnież litera *G*, powinna znajdować się bliżey linii kropkowaney *Af*. Do tego pręt *EC*, trzeba przedłużyć nadół, przez linią kropkowaną póty, póki się nie zuiydzie w jakim punkcie linii *Af*, przy którym to punkcie, pomieniona litera *G*, znajdować się powinna. Pręty także *SU*, *WY*, powinny być liniami kropkowanými przedłużone pierwszy do *V*, drugi do *Z*: wszystkie zaś té wyrażone poprawy najlepiej będzie ołówkiem na Figurze wykonać.

Każesz naprzód poustawiać tarczę na tych wszystkich miejscach, gdzie znakomitsze nierówności ukazują się, iak tu *np*: w punktach *C*, *K*, *N*, *R*, i t. d. potem odmierzywszy odległość każdéy łaski pierwszey względem poprzedzaiący, szukay, tak iak dopiero było powiedziano, równowagi między dwoma końcami każdéy z o-wych odległości; i postrzeżone od obydwóch pomocników wysokości, zaraz zapisuy w umyślnie przygotowaney do tego Tablicy, (iaka jest niżej położona,) tak aby wysokości *AF*, *CD*, *KH*, *NL*, *RO*, *US*, *YX*, każdéy tarczy pierwszey, w rzędzie pierwszym, a wysokości *CE*, *KH*, *NL*, *RP*, *UT*, *YW*, *Bb*, każdéy tarczy drugiey, w rzędzie drugim znajdowały się położone: w siódmym zaś czyli ostatnim teyże Tablicy rzędzie zapiszesz odległości między każdými dwoma tarczami wymiérzone: tak iak po sobie następuią. Nadto


możesz na raptularzu iakokolwiek oznaczyć nierówności znajdujące się między punktami równoważonemi.

Po zakończoném działaniu na gruncie, połów w rzędzie trzecim Tablicy, pierwszą wysokość AF tarczy pierwszey, do téżże wysokości przyday drugą CD , i summę ich zapisz w tym samym rzędzie pod wysokością AF . Do summy C , przyday znowu następujący tarczy pierwszey wysokość KH , i summę ich zapisz pod summą C : tak daley następujące wysokości szczególne tarczy pierwszey dodając do summy nowo zrobioney, zapisywać ié będziesz w tymże rzędzie trzecim pod summą poprzedzającą. Tén sam sposób postępowania zachowasz z wysokościami wszystkich tarcz drugich, które się w drugim rzędzie znajdują, a summy z dodawania wynikające zapisywać będziesz w rzędzie czwartym.

Teraz każdą summę rzędu trzeciego odciągnij od summy obok położonéy rzędu czwartego, i znalezioną różnicę zapisz w rzędzie piątym, ieżeli summa rzędu trzeciego większa iest od summy rzędu czwartego; napiszesz zaś w rzędzie szóstym, ieżeli summa rzędu trzeciego mnieysza iest od summy przyległéy rzędu czwartego; natenczas liczby w rzędzie piątym okazywać będą o ilé niektóre punkta wyższe są

względem punktu pierwszego, w rzędzie zaś szóstym położone, okazywać będą, o ile niektóre punkta są niższe od tegoż punktu pierwszego.

Tym sposobem odprawiwszy rachunek, łatwo całkowitą zrównoważoną odległość w rysunku ukazesz, toiest: *naprzód* wyciągnij na papierze linią *Ac*; *powtórę*, biorąc z podziałki części równe odległościom prętów zapisanym w rzędzie siódmym, przenieś ię na też linią *Ac*, iakoto: od *A*, do *G*, od *G*, do *F*, od *F*, do *M*, i t. d. zupełnie tym porządkiem, iakim też odległości na Tablicy w rzędzie siódmym są zapisane: *potrzecie*, z końca każdego takowego podziału wystaw linią prostopadłą w stronę przyzwoitą, iak tu *np*: z punktu *A*, prostopadłą *AF*, z punktu *C* prostopadłą *CG*, z punktu *F* prostopadłą *FK*, i t. d. *naostatek*, gdy przyzwoitym porządkiem różnice wysokości znajdujące się w rzędzie piątym i szóstym przeniesiesz z podziałki na pomienione prostopadłe, a potem przez punkta *A*, *C*, *K*, *N*, *R*, *U*, *Y*, *b*, wyciągniesz linią wężykową, będziesz miał wygotowany rysunek odległości zrównoważony.



AF. 10	CB. 6	A. 10	C. 6	CG. 4	- -	29
CD. 3	KH. 9	C. 13	K. 14	- -	JK. 1	22
KH. 8	NJ. 10	K. 2	N. 24	- -	MN. 3	11
NL. 10	RP. 9	N. 3	R. 33	- -	QR. 2	8
RO. 11	VT. 2	R. 42	V. 35	VU. 13	- -	36
US. 6	YW. 9	U. 48	Y. 4	ZY. 3	- -	21
YX. 7	Bb. 10	Y. 55	B. 54	bc. 1	- -	40

Można także różnicę wysokości, zachodzącą między dwoma jakowemi miejscami, wyznaczyć tym samym sposobem, który wyłożyliśmy w §. 5, mówiąc o pomiarze linii na nierównym gruncie położonéy. I tak np: (Fig: 73. Tabl: 8.) chcąc znaleźć różnicę wysokości między dwoma punktami A , i c ; natenczas ułożywszy żerdzie albotę sznury cb , ab , poziomo tak, jak się w pomienionym Paragrafie powiedziało, gdy potem wymierzysz wysokości kiliów Az , bb ; ich summa okaże, o ile punkt c , jest wyższy od punktu A , co przez się iest oczewiste.

§. 87. *Mając wiadomą wysokość wezbrania wody nad brzegi koryta, rzeki, strugi; wyznaczyć iak wielką część przyległéy niziny woda wylewém swoim zabierze.*

1. Przv samym brzegu koryta rzeki, iak tu np: (Fig: 92. Tabl: 9.) w miejscu A , każ zabić pal w ziemię, któryby się tak wysoko nad brzeg rzeki wznosił, iaka iest dana wysokość wezbrania wody nad ten-

że brzeg, i na palu tak wbitym, każ pomocnikowi utrzymywać pręt (o którym wyżej mówiliśmy) i le możliwości pionowo. Potem stanąwszy z Równowagą w miejscu takim B , z którego byś pręt, ustawiony na A , iakotóż inne punkta $np: t, u, C, s, Y$, o których miarkujesz, że ich wylów dosięże, mógł wygodnie widzieć; wykiernuj celowniki ku prętowi będącemu na A , i tarczę do przyzwolitéy wysokości naprowadzoną, w téżé wysokości iak naydokładniéy do pręta przytwierdzić rozkażesz szrubą przy tymże pręcie znajdującą się.

2. Maiąc tak przytwierdzoną tarczę do pręta, każ pomocnikowi przenieść się z nią z miejsca A , na inné iakie miejsce $np: t$, o którym sądzić możesz, iż będzie granicą wyléwu: sam zaś (nieporuszając z miejsca nogi narzędzia) zwróciwszy celowniki Równowagi ku miejscowi t , póty pomocnika z prętém (bynajmniej nieporuszając tarczy) w tył lub naprzód, albotóż w prawą lub lewą posuway, póki on nie natrafi na taki punkt, w którymby ustawiona tarcza na twóy promień oczny przez celowniki narzędzia przechodzący przypadła. To gdy się stanie, każ na owém miejscu zabić w ziemię żerdkę czyli kołek, na znak, iż dotąd woda wyléwem swoim dosięże. Potem wysyłaj pomocnika z prętém i nieporuszoną tarczą, na inné punkta u, C, Y , i t. d: na każdym zaś

z nich té samé ostrożności zachowasz, iak
kié zachowałeś względem wynalezienia
punktu t .

3. Uday się z Równowagą na inné po-
dług upodobania obrané stanowisko D ,
z którégobys mógł widziéć którykolwiek
z wyznaczonych iuż punktów, iak tu np :
 C . Na tém nowoobraném stanowisku wy-
kieruy celowniki narzędzia ku prętowi u-
stawionému na C , a tę powtórnyą wysokość
tarczy w przyzwoitém położeniu utwier-
dziwszy, wysyłay znowu pomocnika (tar-
czy z powtórného tego położenia bynaj-
mniéy nieporuszając) na inné następné
punkta w, x, z, E : i na nich téz samé o-
strożności zachowuy, które zachowałeś
względem mieysca t .

4. Przenies się znowu z Równowagą, na
inné takié stanowisko F , abys z niego mógł
doyrzec którykolwiek z punktów wyzna-
czonych na dwóch poprzedzających stano-
wiskach: iak tu np : punkt E , wyznaczo-
ny ze stanowiska D ; alboréz punkt Y , wy-
znaczony ze stanowiska B ; i na tém trze-
ciém stanowisku tak sobie postąpisz, iak
postępowałeś na dwóch poprzedzających
 D i C . Jakim zaś sposobém obierałeś stano-
wiska B, D, F , takim samym obierzesz
tylé innych, ilé ich potrzebować będziesz, do
wyznaczenia granic całkowitégo zaléwu.

5. Naostatek odległości kółków w zie-
mi utwierdzonych, wraz z brzegiem rzé-

ki przeniosłszy na papier podług §. 26; gdy konce odległości na stoliku wyrażonych złączysz linią *AtuGwxzEnm*: będziesz miał wyrażoną na Mappie wielkość placu podległego zalewowi, gdy woda nad brzegi koryta rzeki do pewnej wysokości wzbierze.

§. 88. *Wyznaczyć różnicę wysokości znakomitszych punktów Okolicy iako-wéy, względem wysokości iédnego iakiegokolwiek mieysca téyże Okolicy.*

(Fig: 93. Tabl: 9.)

1. Obierz znakomity iaki zewsząd widzialny i niewzruszony punkt *A*, do którego byś mógł wszystkie inné punkta téyże Okolicy stosować. Każ pomocnikowi iédnemu na obranym punkcie tarczę ustawić, na innych zaś rozmaitych punktach *a, c, d, ef*, i t. d. w których znakomitsze nierówności pokazuią się, każ małe paliki zabijać. Potém stań z Równowagą na *B*, wyszli drugiego pomocnika z tarczą naprzód na *a*, i wykiérowawszy następnie céłowniki narzędzia ku tarczom ustawionym w mieyscach *A, a*, odéymiy wysokość mnieyszą od większey, reszta pokaze o ile punkt *a*, jest niższy lub wyższy od punktu obranego *A*. Podobnymże sposobem postąpisz sobie z jnnémi punktami *c, d, ef, C*, i t. d. abyś ié porównał z tymże punktem

1. Każdą zaś znalezioną różnicę zapisz przy paliku właściwym, z tą ostrożnością, aby tak punkta niższe od A , iakotéż wyższe od A , osobnemi iakiemi znakami iakoto literą, lub kolorém oznaczone były.

2. W tén sposób odprawiwszy na pierwszym Stanowisku równoważenié tylu punktów, ilé zdawałoby się potrzebnych, uday się z narzędziem na drugié stanowisko D , z którégobyś, którykolwiek z wyznaczonych punktów iak tu np: C , iakotéż dalsze miejsca g, h, i, k , i t. d. w wysokości różniące się, (a które także zabitémi kołkami naznaczysz,) mógł wygodnie widziéć. Wyszliy pomocnika z miejsca A , na C , drugiemu zaś kazawszy stanąć naprzód na g ; céluy następnie do obydwóch tarcz, i wysokość mniejszą odéymiy od większey. Teraz jeżeli znaydziesz, iż g niższe iest od C , a C niższe iest od A ; tedy znalezioną różnicę między C i g , doday do różnicy zapisanéy przy paliku C , i summę z dodania wynikającą zapisz przy paliku g , z tym dodatkiem, iż miejsce to o tyle miar niższe od miejsca A . Tén sam sposób postępowania zachowałbyś gdyby punkt g był wyższy od punktu C , a ten znowu wyższy od A : z tą tylko różnicą, iż przy g napisalbyś, wyższe od A .

Jeżeli zaś pokazuje się, iż g wyższe iest od C , a C wyższe iest także od A ; odciągniy więc naprzód wysokości punktów g i C ;

g i C ; potem zaś różnicę stąd wynikającą odéymy od liczby zapisanej przy paliku C ; a pozostałą różnicę z powtórnego odéymowania zapisz przy paliku g , z dodatkiem *wyższé* od A ; jeżeliby różnica znaleziona między C i g , większa była od liczby zapisanej przy paliku C : przeciwnie zaś dodasz, *niższé* od A ; gdy różnica pomieniona wypadnie mnieysza od liczby przy paliku C znajdujący się.

Co gdybyś miarkował, że g niższé będzie od C , a C wyższé jest od A ; tedy znalazłszy różnicę wysokości między g i C , odciągnij ją od liczby zapisanej przy paliku C , a resztę pozostałą zapisz przy paliku g : z dodatkiem, iż *wyższé* od A ; jeżeli różnica między g i C , większa była od liczby przy C : przeciwnie zaś dodasz, iż *niższé* od A , jeżeli pomieniona różnica między g i C , większa była od liczby przy C . Podobnymże sposobem postąpiłbyś sobie z innymi punktami $h, i, K, i. t. d.$ stanowiskowi D przyległými.

Téż samé także działania zachowasz na stanowisku F , abyś punkta $m, o, p,$ i t. d. porównał z temi, które już są wyznaczone. Jakim zaś sposobem obierałeś stanowiska B, D, F , takim samym tylé innych obierz, ilé ich potrzeba będzie do wyznaczenia różnicy między znakomitszými téż Okolicy miejscami.

4. Postępując z równoważeniem, niech zaraz kto inny przenosi na Stolik położenie i odległość palików w ziemię zabitych, przypisując wedle linii na Stoliku zrysowanych, znajdujące się przy palikach liczby, iakotóż znaki *niższe* lub *wyższe*. Tak będziesz miał przyzwoicie na papierze oznaczoną równowagę znakomitszych punktów Okolicy przedsięwziętę do równoważenia.

Chcąc wiedzieć o ile jeden punkt od drugiego jest niższy lub wyższy, następującą zachować należy przestrożę. Jeżeli oba szukane punkta są niższe, lub też oba wyższe od A ; natenczas potrzeba odciągnąć między sobą liczby przy palikach, albo raczcy przy owych punktach znajdujące się: reszta pozostała pokaże, o ile punkt ów, któremu naywiększa liczba odpowiada jest niższy, lub wyższy od drugiego. Jeżeli zaś z dwóch szukanych punktów jeden jest niższy a drugi wyższy od A ; w tym razie dodawszy razem różnicę ich wysokości, summa z tego dodania wynikająca będzie różnicą obydwóch tych punktów.



§. 89. Chcąc górę, pagórek, albo inną jaką nierówną i chropowatą sztukę ziemi skopać, albotóż wysypać podług płaszczyzny poziomej odpowiadającej punktowi iakiemu wyznaczonemu, iak tu np: (Fig: 94. Tabl: 9.) punktowi A; iest zadano wyrachować wprzód w miarach kubicznych czyli sześciennych, ilość ziemi mającój być skopaną lub nawiezioną.

Wyznacz naprzód obwód szukaney płaszczyzny poziomej, prawie tym samym sposobem, iakim w §. 87. wyznaczylismy granice wylewu rzeki. Powtóre, każ we wszystkich znakomitszych zgórzystych miejscach pozabijać mierney wysokości paliki, przez co całkowita powierzchnia owey chropowatej sztuki ziemi zostanie podzielona na Trójkąty, iakoto na Figurze 94. widzieć się daie. Potrzeci, przenies pomienioné Trójkąty na papier, za pomocą Stolika, abyś miał płaszczyznę poziomą ABCD, i t. d. Poczwarcie, równoważ wszystkie w ziemię zabite paliki, i znalezione ich różnice względem punktu A; zapisuy tak, iak się w poprzedzającym Paragrafie pod liczbą 4tą powiedziało. Popiąte, wyrachuy powierzchnią pierwszego Trójkąta ANB, zbiierz w jedną summę trzy wysokości A, B, N, i przez trzecią część téj

summy pomnoż powierzchnią Trójkątą ANB , (tak właśnie, iak wynayduie się bryłowość Pryzmatu ściętego) zrób toż samo z jnnemi Trójkątami BNC , CNP , i t. d. *Naostatek*, wszystkie pojedyncze bryłowości pomienionym dopiero sposobem znalezione, razém dodawszy; summa z tego dodania wynikająca, okaże w miarach kubicznych ilość ziemi mającý bydź skopaną lub nawiezioną: aby owa nierówna sztuka ziemi mogła bydź przyrowadzona do płaszczyzny pozioméy odpowiadającéy wyznaczonému punktowi A .

PRZYDATEK

DO ROZDZIAŁÓW POPRZEDZAJĄCYCH.

O Wymiarze w sprawach Granicznych.

PO wyłuszczeniu nayczęściey zdarzających się Jeometrii Praktycznéy działań; za rzecz potrzebną osądziém uczynić wzmiankę o wymiarze w sprawach Granicznych. Wymiar ten acz w jstocie swoięy niczém się nie różni, od tych działań,

które w poprzedzających Rozdziałach wyłożyliśmy; ma atoli właściwe sobie niektóre szczególności, których wiadomość, każdemu w sprawie Granicznej *piérwszy raz* stawiającemu Jeometrze, łatwiejsze około pierwiastkowéj pracy sprawi krzątanie się. Nim zaś do saméj rzeczy przystąpiemy, obaczmy naprzód:

Wykład używanych w Sprawie Granicznej wyrazów.

Często trafia się, iż strony wiodące z sobą spór o Granice, zażywają Jeometry do wynalezienia i wytknięcia im granic, podług onychże opisu w Dokumentach Granicznych: że zaś té, pospolicie Prawno-Łacińskim Językiem pisané, dla niektórych Sprawom tylko granicznym właściwych wyrazów, mógłby każdemu *piérwszy raz* czytającemu ie stać się po większéj części zawiśe, albo raczéj niezrozumiafé; przeto nieomieszkaém położyć ich tu wytlumaczenie, które iest następujące.

Mieyscé to skąd zaczyna się iakowa granica, albotéz skąd dwie strony rozpiórając się o granice, Obwód czyli Dukt swój zaczynają; zowie się *Angularitas* czyli *Terminus a quo*.

Którédy Dukt swój daléj ciągną; zowie się *Terminus per quem*.

Gdzie Dukt swój kończą; *Acialitas* czyli *Terminus ad quem*. Tak *Angularitas* iako *Acialitas*, nazywa się w Języku Oyczystym *Węgielność*.

Ciągłe przypieranie do siebie, albo raczej ciągłe stykanie się z sobą dwóch ścian granicznych Sąsiedzkich; zowie się w Nauce prawney *Collateralitas* czyli *Pariēs*. Dway zaś Sąsiedzi, których granice pomienionym sposobem z sobą się stykają, zowią się Ścienniki, *Collaterales*.

Kopce, które się sypią na początku i na końcu granicy, toiest *in Angularitate* i *Acialitate*, zowią się narożné albo węgielné, czyli Narożniki, Węgielniki, *Scopuli Angulares* albo *Aciales*. Té zaś, które na saméy ścianie, albo co jednoż iest, podług ciągu stykających się z sobą dwóch ścian granicznych przyległych sobie, sypané bywają; mianują się Ścienné, *Scopulū Collaterales* albo *Parietales*.

Kopce Narożné, toiest: *Angulares* & *Aciales*, bydź większé od Kopców ściennych powinny, i tylé ich ma bydź usypanych, ilé się tam Dziedzin schodzi, (*Concurrentia duarum, trium vel plurium Hereditatum*): Czasem zamiast osobnych dla każdéy Dziedziny Kopców sypie się tylko ieden znaczney wielkości, (*unus pro tribus i t. d.*) Podobnież miasto Kopców ściennych, częstokroć usypują wał ciągły od zaczynających aż do kończących ścianę Narożników.

Kopce zupełną okrągłość przy samey ziemi mieć powinny. Sznur, którego Urząd Graniczny zażywa do oznaczenia obwodu czyli okrągłości Kopców; powinien mieć podług Paciorkowskiego, dla Narożnych, długości łokci pięć, a dla ściennych łokci 2 i pół. Wszakże można powiedzieć, iż wielkość obwodu Kopców tak Narożnych, iakotęż ściennych jest wcale dowolna, zawsze iednak pod iednąż wielkością wszystkie narożne, a pod iedną wszystkie ściennie wyrażane bywają.

Ponieważ zaś w dochodzeniu granic, naywięcący zależy na wynalezieniu Kopców, tych zaś kształt powierzchowny zwłaszcza przy nie częstém ich odnawianiu długo trwały bydz nie może, a dotego zdarzają się częstokroć bardzo wielkie podobieństwa do Kopców przez dawno zastarzałe wywroty drzew; przeto dla gruntowniejszego napotém rozeznania przytartych i nadpsutych Kopców od fałszywych, znaki pewné długo trwałe pod niemi przez Sąd Graniczny ukrywane bywają, iakoto: żużel, (*Dimoscorium ferreum*) Szklanny żużel, z huty (*Dimoscorium vitreum*) szkło, (*vitrum*) węgle, (*carbones*) cegły, (*lateres*); Proso w butelce szklannéy, (*Milium in lagenae vitreae*) w którą téż kładą kartę papierową lub pargaminową z wypisaniem na niéy roku, dnia, Aktu granicznego, i Osób przez które był odprawiony, ażeby

tak potomność swego czasu, za otwarciem onych urzędowném, miała się czém bronić i zasłaniać przeciwko stronie zawistnéy.

Jeżeli w ciągu ściany granicznéy znajdują się znakomitszéy wielkości drzewa, na tych przez Sąd graniczny wyrzynané bywają znaki nakształt krzyża, które pospolicie zowią *Naciosy*: *Signa granicialia adinstar crucis efformata*.

Naostatek rzeki, strugi, potoki, rzeczyska, rowy, doły oddzielające iedną majątność od drugiéy; nazywać zwykli w prawie, *Granicą Naturalną*, *Limes*, a czasem nawet *Granicies Naturalis*.

Oprócz wymiémionych dopiéro pryncypalniejszych prawnych wyrazów, znajdują się ieszcze w Dokumentach granicznych niektóre oznaczające nazwiska drzew, znaków granicznych, i mieysc Duktom granicznym przyległych, które lubo iedné z nich łacińskie, a drugie za takie poczytané, mogłyby równie iak piérwsze, zwłaszcza nie mającému w używaniu, niemałą zadadź trudność, w takiém onych rozumieniu, w jakiém pospolicie w Dokumentach brané bywają: te zaś są następujące.

Abies, *Arbor Abietica*, *Jodła*, *Drzewo Jodłowe*.

Acer, *Montanum*, seu *Major Platanus*, *Fawor*.

Arbor Acerna, *Faworowe Drzewo*.

- Alnus, Arbor Alneatica, *Olsza, Drzewo Olszowé.*
 Alnetum, *Olszyna.*
 Arbustum, Virgultum, Dumetum, Rubetum, *Chrast.*
 Arbor Bifurca, *Dwoisté z jednégo pnia wyrósłe Drzewo Sosnowé.*
 Betula, Arbor Betulina, *Brzoza, Drzewo Brzozowé.*
 Betuletum, *Brzezina.*
 Buxus, Cis, Arbor Buxi, *Cisowé Drzewo.*
 Corillus, *Leszczyna.*
 Dimissorium aquæ, *Upust.*
 Dimoscorium ferreum, *Zużel, Dimoscorium vitreum, Zużel szklanny z buty.*
 Fagus *Buk, Arbor Fagina, Bukowé Drzewo.*
 Fraxinus, *Fesion, Arbor Fraxini, Drzewo Fesionowé.*
 Fruticetum, *Krzami zarosłość.*
 Merica, *Zapusta Lasu, gęstwina.*
 Pinus, Pinaster, Arbor Pinatica, *Sosna, Sosnowé Drzewo. Populus, Topola.*
 Quercus, *Dąb, Quercetum, Dębczyna. Jlex, Twardy skamieniały Dąb.*
 Sapius, seu Pinus Nautica, *Swierkowé Drzewo.*
 Spina, Sentis, Vepris, *Ciérnie.*
 Spinetum, Vepretum, Senticetum, *Ciernisko.*
 Suber, Arbor Suberea, *Korkowé Drzewo.*
 Terebintus, *Modrzew.*

Tilia, Lipa, Juniperus, *Jałowiec*.
 Tremula, Populus Nigra, *Osiczyzna*.
 Rivus, *Rów*, Potok, Rivulus, *Rowek*, Po-
 toczek, Torrens, *Strumień*, Struga,
 Amnis, Fluvius, Flumen, *Rzeka*, Al-
 veus, Meatus, Cubile, *Rzeczysko*, *śrzo-*
dek Rzeki, Łożysko, Stagnum, *Staw*,
 Lacus, *Jezioro*, Vadum, *Bród*.
 Loca Cænosa, Lutosa, Palustria, Inacces-
 sa, *Błota*, *Bagniska*, Ługi, *miejsca*
Błotniste, *Niedostępne*, *Nieprzebyte*.
 Fons, *Zródło*, Scatebra, *Zrzódło*.
 Jugum, Vertex, Cacumen Montis,
Wierzch Góry.
 Radices Montis, *Brzegi Góry na dole*.
 Collis, *Pagórek*, Clivus, *Pochodzista*
Góra.
 Vallis, *Padół*, Rupes, Petra, *Opoka*.
 Planities, *Równina*.

Gdzie rzeka, struga, potok, dwie iakié Maię-
 tności graniczy, tam podług Prawa brzeg owéy
 strugi, lub potoku do jednégo, a drugi do dru-
 giégo Dziedzica należy: przeto téż i Kopce sypa-
 né bywaią dla każdéy maiętności na brzegu iéy
 własnym, nie zaś z drugiéy strony rzeki: ina-
 czéy, ponieważ każda maiętność po Kopce swé
 graniczy, znaczyłoby to, że do niéy obydwá
 brzegi należą, i na tym fundamencie Possessor
 iey mógłby sobie z czasem i drugi brzeg téżye
 rzeki przywłaszczyć.

Kiedy więc (są to słowa Statutu prawidła roz-
 graniczenia przepisuiącego) maiętności iakowé
 do rzeki iakiéy, potoku lub rowu przypiećraią,

a prawem między niemi nie są określone granice, tedy każda z nich swój brzeg niech trzyma rzeki owéy lub potoku, i taż rzeka lub potok za granicę wieczystą ma im być przysądzona.

Która to rzeka lub potok (dalsze słowa Statutu) acz pierwsze swe koryto opuściwszy, w jiné miejsce przerznie się, i nowe sobie łożysko obierze; toż samo iednak, które porzuciła, graniczyć ze wszystkiém, nazawsze, tak iak przedtém, majątności będzie, a nie nowe: to jest brzeg ieden, tak iak przedtém, należec będzie do iednéy, a drugi do drugiéy majątności, z wolnym dla obydwóch stron w nim połowém ryb. Jeżeli zaś przemysł ludzki rzekę lub potok z dawnégo iéy biegu zwróci, nowe iéy koryto dając; tedy toż a nie dawne graniczyć między niemi będzie: w którym to więc razie do dawnégo koryta majątność ta, w który się ono zostaje, zupełné prawo mieć, a nowégo tak iakby było dawném, brzeg sobie przyległy posiadać ma.

Gdy rzeka odsypnie tylko ustępując ku iednému z brzegów; Odsypiska takowé, podług powszechnégo zwyczaju, do téy majątności należą, z której się strony formują, tak dalece, że w takowym razie, koniecznie iedna strona szkodę, a druga pożytek odnosić musi, każdy bowiem Dziedzic z powszechnégo Prawa losém swym, a zatém i brzegiem, który mu rzeka nadaie, kontentować się powinien.

Czynność Geometry, w czasie Sądowney Wizyi Duktów, ukazywanych przez strony wiodące między sobą spór o Granice.

Jako rozeznanie Spraw granicznych od okazania widzenia i nazwisk gruntów pod

rozgraniczénie przychodzących zawisło; tak Sąd Graniczny na grunt sporny (*fundus controversus*,) zjechawszy, i tamże Akt swój ufundowawszy, a potém inné Urzędowi swému przyzwoité prawné formalności, (o których tu mówić nie iest naszym zamiarém) wykonawszy; gdy przystępuje do widzenia Duktów, w których spory zachodzą, czyli téż gdy nakazuje stronom okazać sobie Granice podług ich Dokumentów wytkniętą; natenczas Jeome- tra iako współpracownik roboty, nieodstępnym bydź, i zaraz za Sądém iść powinien, mając przy sobie ród, Iglę Magnesową iak naydokładniejszą, dla opowiedzenia Sądowi w całym przeciągu Obwodu czyli na południe albo na północ, czy na wschód albo na zachód słońca, a to ieszcze czy letni czy zimowy, był prowadzony: *zre*, pugillares z ołówkiem, aby nie spuszczał się na swą pamięć, która w podobnych okolicznościach częstokroć zawodzi, notował dla siebie samého, gdzie i iakié miejsca lub znaki, która strona albo w samym Dukcie, albo téż Duktowi przyległé, Sądowi okaże, i iak ie mianować będzie, aby potém cały Obwód granic przez strony pokazany, z wszelkiemi znakami i nazwiskami miejsc, w miarach należytych na Mappie odrysował i naznaczył: gdyż dobroć Mappy granicznéy na

tém zawisła, aby się we wszystkiém z obwodóm zgadzała.

Dla dokładniejszego wyobrażenia tego co się powiedziało, iako téż dla lepszego poznania natury Spraw granicznych, przyłączamy tu na Tabl: 10, Mappę graniczną wzorową z opisaniem Duktów przez strony rozpiérające się o granice, ukazanych. Opis tén nie będzie tu wyrażony w formalności prawnéy, iaka od Sądu zachowana bywa, ale tylko zamykać będzie prosté wymienienie mieysc i znaków, któreby w całym przeciągu Obwodu, strony spór wiodące Sądowi ukazać mogły; a tén samém, któreby Sąd w swoim Opisie, a Jeometra dla własnéy, a téy potrzebnéy wiadomości zapisać powinien.

Z dwóch stron spór między sobą o granice wiodących, iedną nazywamy *Wieś Gąsewo*, a drugą *Wieś Stanowisko*. Dukt wsi *Gąsewa* iest *UAaGB*, wsi *Stanowisko* iest *LCMOPQRD*.

Opisanie Duktu Wsi Gąsewa.

Zapisuie tedy Sąd naypiérwéy Dukt *AB*, wsi *Gąsewa*: wyrażając zaraz ciąg iego z wschodu na zachod, i oraz mostek *U*, poprawéy ręce, na struzce *Weżyk* nazwanej, przy którym *Dziedzic* wsi *Gąsewa* oznacza zbieg trzech dziedzin (*concursum trium hæreditatum*), toiest *Gąsewa*, *Rypin* i *Stanowik*; iakotéż drogę z *Gąsewa*

do Rypin i Stanowisk idąca. Idąc daléy także Duktém AB , czyli dróżką bardzo starą i nieznaczną; doszli do półka EE , nowo wykarczowanego przez Hollendrów Durlaków, należących do wsi Stanowisk, i wyrazili odległość iego od mostku, iak tu *np*: trzy staja, (rachują pospolicie na stay 30 prętów.) Potém zapisawszy to półko, oraz nową dróżkę idącą śródkiem niego przez wieś Hollenderską, iakotéz położenie téyże wsi za Duktém; daléy ciągną swą robotę aż do błota nazwanego *Urbanowé*, odległego więcéy staja od półka, znaczą tego błota długość blisko trzech stay, a bieząc daléy tąż dróżką doszli do Kopca G , leżącego przy drodze idący z wsi Gąsewa do Bugaiu, odległéy więcéy półtora staja od zakończenia błota. Schodząc zaś Duktém coraz bardziéy z północy na południe, wyrażają drzewo Sosnowé H , z krzyżém niedawno narzniętym, oddaloné od drogi o stay dwa: i uszedłszy potém staję, zapisali zwrót téy dróżki ku południowi, do drogi idący z Gąsewa do Bugaiu. Potém postępując linią wyciętą borém przez stronę dalszy Dukt prowadzącą, tudzież przez błoto *Białé* nazwané, doszli do Kopca r , będącego na wyspie, gdzie Dziedzic wsi Gąsewa okazał zbieg czterech dziedzin, toiest Turzyna, Bugaiu, Stanowisk, i wsi Gąsewa, których odległości wzajemné iezeli ci Sąd

każe, wymierzysz i zapiszesz, lub odrysujesz na pugillaresie, wyrażając ich zwrot, nazwiska, i odległości.

Opisanie Duktu Wsi Stanowisk.

Opisanie Duktu *CD*, tymże samym sposobem czynić będziesz, iak Duktu pierwszego, z tą różnicą, iż poczniesz od kamienia *L* z krzyżem, przy którym Dziezdzic wsi Stanowisk, naznacza Dziedzicowi wsi Gąsewa, punkt zaczynający prawdziwe rozgraniczenie, czyli prawdziwą między niemi węgielność, (*angularitas*) odpędzając go od zbiegu 4 dziedzin przy Kopcu na wyspie będącym, i oznaczywszy wszystkie znaki okazywane przez strony Dukt prowadzące; iakoto naprzód błoto nazwane *Białe*, Kopiec *M*, błotko *N*, nazwane *Koziodół*, drogę z Gąsewa do Bugaiu, Kopiec *O*, wał *P*, dróżkę nową do Hollendrów, błoto *Przepaść*, drogę z Gąsewa do Rypin i Stanowisk, wał drugi *R*, iakotéż i punkt *S*, na którym strona zakończyła Dukt, mianuiąc go za prawdziwy zbieg trzech dziedzin Rypin, Stanowisk i Gąsewa, a odpędzając drugie dwie dziedziny od punktu *U*, przy mostku okazanego.

Po wyprowadzeniu obóstronném Duktów, nakazuje ci Sąd rysować Mappę, którą lubo zacząć możesz od iakiéykolwiek strony według twoiego ułożenia, naylepiéy iednak

uczynisz, gdy poydziesz torem Duktów Sądowi ukazywanych.

Sposób robienia Mappy graniczněj.

Lubo sposób robienia Mappy graniczněj zupełnie tén sam iest, który wyłożyliśmy w §. 30 i 48; wszakże dla niektórych szczególności nieznaydujących się w dwóch pomienionych Paragrafach, tu ieszcze o nim w krótkości namieniemy.

Zaraz tedy stajesz na punkcie U w ziemi naznaczonym, a ułożywszy Stolik poziomo, i naznaczywszy na nim kierunek magnesowéy Igiełki; zaczniesz podług §. 29. albotéz 28. odmierzać łańcuchém i postępować ze Stolikiem, zakrętami dróżki AaG , oznaczaiącý Dukt wsi Gąsewa.

Gdy od U , dóydziesz do pólka E, E , Hollendrów Durlaków, przeniesiesz na Stolik z jak naywiększą dokładnością całkowitą iego rozległość, a to albo podług §. 26, albotéz §. 30. Prócz tego naznaczywszy położenie dróżki nowéy idącý z Gąsewa do Hollendrów, póydziesz wymiarém Jeometrycznym, toiest sposobém §. 29, tąż samą dróżką aż do punktu, w którym się ona z drugim Duktém schodzi, iak tu *np.*: schodzi się nie daleko wału oznaczonego literą P : to zaś dla tego uczynisz, abyś się dowiedział, iaka téż iest w tém miejscu szerokość gruntu będącého w sporze, i punkt

punkt ów tego Duktu drugiego naznaczysz kołkiem w ziemi zabitym, bo ci napotem będzie wielce potrzebny.

Powróciwszy nazad do tego punktu, od którego dróżką nową idź zacząłeś, (a który to punkt powinienes był iak naydokładniéy naznaczyć kołkiem w ziemi zabitym), wyrazisz ieszcze na Stoliku położenie Hollendrów Durlaków, z napisem, iż należą do wsi *Stanowiska*, iak widzisz na Mappie.

Od Pólka *E, E*, idąc dalej z robotą, zbliżysz się do błota *F*, zwanego *Urbanowé*, którego odległość od Duktu, iako też i obszerność całkowitą oznaczysz na Stoliku podług §. 30, albotéz gdy nie będzie zbyt obszerné, podług §. 27. Potem dobiwszy do Kopca *G*, naznacz go wraz z drogą z Gąsewa do Bugaiu idącą, którą także wymierzysz aż do tego punktu, w którym się ona z drugim Duktém schodzi, i tén punkt, iako napotem potrzebny, naznaczysz także kołkiem w ziemi zabitym, tak iak wymierzałeś piérwszą dróżkę idącą z Gąsewa do Hollendrów: lecz przy téy drugiéy, wymierzysz błotko *W*, po lewéy ręce będącé, zwané *Wilczydół*.

Od Kopca *G*, mierząc dalej, wyrazisz naprzód na Mappie *Nacios*, czyli drzewo *H* z krzyżem; powtóre, zwrot dróżki do wielkiéy drogi; potrzebie Dukt dalszy aż do błota *Białé* nazwaného. Naostatek wysepkę *K* całkowitą rozmierzywszy podług §.

26, naznaczysz na niéy Kopic *r*, przy którym weźmiesz na cél zwroty granic, trzech innych dziedzin, schodzących się w punkcie narożnym *r*, i napiszesz przy każdéy linii cęlowéy nazwisko téy dziedziny, do którécy iaka linia cęlowa należéc będzie.

Po zakończeniu jednégo Dukt, złączysz się z drugim, przechodząc srzodkiem *Białé* błoto, ponieważ połowę *FFF* tego błota Dziedzic Stanowisk odbiera swym Duktem Dziedzicowi wsi Gąsewa: a przyszedłszy do kamienia *L* z krzyżém, skąd Dziedzic Stanowisk Dukt swój zaczyna, odpychając tamtégó od zbiegu czterech dziedzin; wyrazisz na Stoliku położenie pomienionégó kamienia.

Stamtąd idąc Duktem, oznaczysz Kopic *M*, tudzież błoto *N*, zwané *Kozidoł*, a potem dociągniesz do drogi idącécy z Gąsewa do Bugaiu: gdzie jeżeli ten ostatni punkt zgodzi się z owym punktem, który na téyże drodze naznaczyłeś był kołkiem w ziemi zabitym; (pod tén czas gdyś pod liczbą *4t* od Duktu piérwszégó do Duktu drugiégo szedł, drogą prowadzącą z Gąsewa do Bugaiu) naténczas możesz byđć pewnym, że twa robota iest do tych czas nieomylna. Jeżeli zaś punkta owé nie zgadzają się, szukaj zatém, w którém miejscu omyłkę uczyniłeś, a to przemierzając na powrot wszystkie linie. Gdy nie znaydziesz błędu w długościach, naténczas cofać się musisz ze Stolikiem, i

póty szukać omyłki na nim uczynionéy, czy to złém ustawianiem igielki Magnesowéy, czyli celowników, co się nacyjęściéy zdarza; póki nie natrafisz na omylenie: bo lepiéy jest część iakową swéy pracy, a niżeli potém całkowitz powtórzyć.

Odkrywszy zdarzoną omyłkę, i zgodzwszy dwa ostatnie punkta, postępować będziesz dalszym Duktém, naznacziąc Kopic *O*, tudzież długość i szerokość wału *P*: a doszedłszy do dróżki z Gąsewa do Hollendrów Durlaków idącéy, znowu dopiero wyłożonym sposobém, uczynisz próbę, czyli ta część doskonale jest wymierzona. Od téy dróżki idąc dálej, wymierzysz podług §. 30, błoto *Q*, zwané *Przepaść*, potém naznaczysz wał drugi *R*, i dociągniesz robotę aż do punktu *S*, będącego przy strudze, gdzie Dziedzic Stanowisk naznacza zbieg trzech dziedzin:

Od punktu *S*, zamykając Mapę, pójdiesz podług §. 28, lewym brzegiem strugi *Wężyk* zwanéy, aż póki nie dójdiesz do punktu *U*, leżącého przy mostku, skąd zacząłeś był twoją robotę: nadto wyrazisz zaraz przez strzałkę, skąd i dokąd owa strużka płynie. Naostatek, dla zupełniejszego przekonania się o doskonałéy swéy robocie, pójdiesz ieszcze z wymiarém drogą z Gąsewa do Rypin i Stanowisk, od punktu *U*, aż do drugiego Duktu, gdzie doznasz swéy zręczności.

Jeżeli się zdarzą takie miejsca w przeciągu całej twojej roboty, z których mógłbyś widzieć wsie na około Duktów leżące, staraj się ich odległość wymierzyć podług §. 31, albo co iednoż jest, §. 35. Gdybyś zaś żadnym sposobem widzieć nie mógł, tedy wypytaj się chłopów rozsądniejszych, iak wiele ćwierci mili, lub iak wiele stay (lubo oni innemi rachują stajami) bydz może ta odległość, którą chcesz wiedzieć albo też bezpieczniey jest samemu przeichadź się lub przebiedz i uważać, iak dalekie miejsce owo bydz może, do czego w podobnych razach wielce jest potrzebna wprawa w miarę oczną.

Napadwszy w Dukcie na błota, bagna, jeziora, stawy, trzęsawiska, lasy, chrusty, i inne tym podobne zarośle, naylepiéy jest dla wyrażenia iak naydokładniejszego ich położenia i figury, obéyśdz ié na około podług §. 30, ustawiając Stolik na znakomitszych zakrętach Obwodu pomienionych placów, mnieyszych załomków bynaimniéy nie zważając, bo té pod prostą linią zawsze w praktyce podciągają się.

Podobniez gdy Dukty są kręte albo idące drogą, gościńcem, brzegiem rzeki, które pospolicie od linii prostey wiele wybaczają, natenczas (iako się to iuz w §. 30 powiedziało) abys się załomkami nie kręcił, a przez kręcenie się nie przyczyniał stanowisk, o co w robocie usilnie starać

się potrzeba, obierzesz iaki znak bardzo odległy od siebie, albotóż każesz ustawić z widocznym iakim znakiem laskę na drodze, brzegu rzeki, Dukcie granicy, iak można dóyrzeć naydaléy, by téż używszy perspektywy: dopiero ze stanowiska swégo wzięwszy na cél ów znak obrany, albo téż umyślnie ustawioną laskę, odmierzac będziesz odległość zawartą między owemi dwoma punktami, tudzież do rozciągniętego łańcucha lub sznura spuszczać będziesz linie prostopadłé od znacznieyszych kolan rzeki, albo téż od znacznieyszych załomków innégo iakiégo Duktu krętégo: iako się to iuż powiedziało w §. 30, i 48.

Zakończywszy połową robotę, a nie załuiąc pracy, która iest duszą dobrégo wymiaru, przeyrzawszy ją ieszcze kilkakrotnie, czyliś nie opuścił czego; wyrachujesz naprzód ważność w Włókach, Morgach, Prętach, Pręcikach i t. d. tak całkowitego spórnégo gruntu, iakotéż i niektórych pojedynczych części iego, gdy tego będzie wyciągała potrzeba, a potém raptularz twoiéy Mappy przeniesiesz na czyste podług §. 71. dla oddania iéy Sądowi. Abyś zaś widoczną uczynił różnicę między Duktami przeciwnych stron, tedy wedle Duktu każdéy strony dasz strych czyli pasek odmienną farbą, ieden *np.* niebieską, a drugi czerwoną, lub innémi iakiémi podług twégo upodobania: Grunt tak-

że cały w kontrowersyi będący, możesz powléc trzecią iakową farbą. Przydasz Mappie przerysowanę Podziałkę iak nayregularnieyszą, naznaczysz także kierunek Magnesowéy igiełki ilé możności dokładnie, z przypisém słów *Wschód, Zachód, Północ, Południe*. Do tego, ieżeli się w gruncie spornym znajduią rozmaite szczególne kawalki, popisziesz na nich litery duże porządkiem właściwym, iakoto na Tablicy io widzieć się daie. Pomniéć także i na to potrzeba w ułożeniu Mappy na papiérze, aby zostawić mieyscé, na któręykolwiek stronie, do wykładu rzeczy, czyli do tłumaczenia znaków na nięy znajdujących się; tak *np:* iak tu następuie.

Wykład Rzeczy.

	<i>Włó- ki.</i>	<i>Mor- gi.</i>	<i>Prę- ty.</i>	<i>Prę- ciki.</i>
<i>A, B.</i> Wyrażoné kolorém <i>np:</i> Czerwonym oznaczaią Dukt wsi Gąsewa.				
<i>C, D.</i> Kolorém <i>np:</i> Niebieskim Dukt wsi Stanowisk.				
<i>E.</i> Pólko świeżo wykarczowané przez Hollendrów Durlaków należących do				

	Wło- ki.	Mor- gi	Prę- ty	Prę- ciki.
wsi Stanowisk, wynosi - - -	- - -	- - -	- - -	- - -
F. Błoto Urbanowé wynosi - - -	- - -	- - -	- - -	- - -
G. Kopiec okazany w Dukcie wsi Gąsewa.				
H. Drzewo z krzyżem na tymże Dukcie.				
J. Białe błoto, które go połowa tylko w kontrowersyi zostaie, wynosi	- - -	- - -	- - -	- - -
K. Wyspa: na której podług założeni Gąsewa kopiec 7, oznacza zbieg 4 Dziedzin, Gąse- wa, Turzyna, Bu- gaiu, i Stanowisk.				
L. Kamień z krzyżem, który Dziedzic wsi Stanowisk na- znacza za grani- ce Dziedzicowi Gąsewa, odpę- dzając go od zbie- gu 4 Dziedzin przy Kopcu 7.				
M. Kopiec na Dukcie wsi Stanowisk.				
N. Błoto Kozidół w kontrowersyi, wynosi - - -	- - -	- - -	- - -	- - -

	Wło- ki.	Mor- gi.	Prę- ty.	Prę- ciki.
O. Kopiec drugi na tymże Dukcie.				
P. Wał na tymże Dukcie.				
Q. Błoto Przepaść w kontrowersyi, wynosi - - -	- - -	- - -	- - -	- - -
R. Drugi wał na tymże Dukcie - -	- - -	- - -	- - -	- - -
S. Punkt gdzie Dzie- dzie wsi Stano- wisk naznacza zbieg trzech dzie- dzin odpędzając Gąsewo i Rypin od mostku.				
T. Strużka Wężyk zwana, rozgrani- czająca Gąsewo od Rypina.				
U. Punkt, gdzie Dzie- dzie wsi Gąsewa naznacza zbieg trzech dziedzin, to- jest: Rypina, Gą- sewa, i Stanowisk.				
W. Błoto Wilczydół, wynosi całe - -	- - -	- - -	- - -	- - -
X. Bór w kontrower- syi, wynosi -	- - -	- - -	- - -	- - -
Summa gruntu sporne- go wynosi	- - -	- - -	- - -	- - -

Jeżeli w jonych twych robotach będzie większy wykład rzeczy, tak dalece, że litery wielkie wszystkie nie wystarczą do dalszego oznaczenia, natenczas małemi alfabetu literami będziesz je oznaczał: a jeżeli i té nie wystarczą, podwóynými małemi, albo téż jedną większą, a drugą małą np: *Aa*, albo *Bb*, i t. d. zawsze kolejno liter używając, tak w oznaczeniu na Mappie, iak i w wykładzie rzeczy.

W reszcie po odrysowaniu i zupełném oznaczeniu Mappy, złożysz ją przed Sąd, podpisawszy imie i przezwisko twoie, tudzież dzień i Rok, którego robiona była.

Sposób dzielenia Gruntu spornego
(Fundus controversus.)

Daymy, iż Sąd podług Dekretu swego, lub téż zaszłéy między stronami ugody, naznaczywszy na Mappie linią prostą *Zya*, nakazuje Jeometrze uczynić podział gruntu zawartego między ścianami *ZS*, *Za*, *aU*, *US*, na trzy części, z którychby dwie dostały się Dziedzicowi wsi Stanowisk, a trzecia Dziedzicowi wsi Gąsewa, tudzież z tym warunkiem, aby błoto Urbanowé całe zostało się na stronie Stanowisk, oraz przestrzegając, aby ten podział zaczynał się od punktu *y*, naznaczonego na Mappie przez Sąd, (w którym to punkcie ma tenże Sąd kazać zabić pal dębowy podczas

sypania Kopców) a kończył się na punkcie U , przy mostku, a to bez częstych załomków. Drugą zaś stronę $ZLra$, każe ténże Sąd podzielić na dwie tylko równé części, także ténż zaczynając od pala dębowego y , a kończąc na Kopcu r .

1. Maiąc cztery ściany dané SU , Ua , aZ , ZS , wyrachuy naprzód wiele tén cały grunt między czteréma owémi ścianami zawarty zamyka Włók, Morgów, Prętów, i t. d: uczyniwszy to, łatwo ci potém będzie podzielić go podług oznaczenia Dekretu. Jak tu daymy *np.*: że cały ten grunt wynosi Włók Chełmińskich 3, Morgów 4, Prętów 93. Weź zatém dwie trzecie części pomienioného gruntu, toiest: Włók 2, Morgów 2, Prętów 262, i podług nauk podanych w Rozdz. 7. odrysuy taką figurę $aybU$, któraby zawierała w sobie owé dwie trzecie części mającé należć do wsi Stanowisk. Potém wyrachujesz znowu drugą część gruntu w kontrowersyi będącého, toiest część $ZLra$: co łatwo mieć możesz odiawszy piérwszą liczbę Włók, Morgów, Prętów, od summy całkowitégo placu $SUrS$, w kontrowersyi będącého. Daymy, iż summa całkowitégo gruntu kontrowersyyného wynosiła Włók 6, Morgów 15, Prętów 285, od téy summy gdy odeymiesz Włók 3, Morgów 4, Prętów 93, reszta pozostała okaże ważność części drugiej $ZLra$, Włók 3, Morgów 11, Prętów 192.

Podziel to na 2 części równé, i zrób taką figurę, która zawierałaby w sobie iedną część z owych dwóch, zaczynając podział od pała dębowégo y , a kończąc na kopcu r : taką tu masz figurę $rBayq$.

Ponieważ zaś, oprócz wyłożonych wyżej warunków podziału, stanęła ieszcze i ta między stronami ugoda: iż ieżeli w ciągu granicznym zdarzą się błota iakiékolwiek, (wyiąwszy błoto zwané *Białé*) tedy powinny oné zostać przy stronie Stanowisk, a Stanowisko powinno oddadź tak wiele boru Gąsewu, iak wielkié będzie błoto iakowé; gdy więc błoto *Wilczydół* zwané, większą swoją częścią przypadło dla Gąsewa, potrzeba zatém naprzód część granicy mq , zwrócić na około owégo błota, toiest od m do n , od n do o , i od o do p ; aby tak ograniczoné było dla strony Stanowisk: potém zaś potrzeba (podług zaszfley między stronami ugody) od części $grayq$, wydzielonéy przedtém dla Stanowisk, odiać tak wiele boru przy ścianie rq , iak wiele wynosi część $ponm$ błota *Wilczydół*. To abys wykonał, wyrachuy naprzód część błota $ponm$, niech np : zamyka 1736 Prętów kwadr: potém wymierzywszy na Mapie linią qr , iak tu prętów 248, zrób podług tego co się w §. 75, iakotéż w Rozdziale siódmym mówiło, Tróykąt grp , zamykający w sobie 1736 prętów kwadr: naticzas będziesz miał linią pr , za prawdzi-

wą granicę, i grunt *rponmyaBr*, wydzielony dla Stanowisk, wraz z błotem *Wilczydół*, równać się będzie części *ymnoprLZy*, wydzielony dla wsi Gąsewa.

Zakończony podział na Mappie okażesz Sądowi, który wyexaminowawszy go, wysła cię, abys ténże sam podział na gruncie uczynił.

2. Nappiérwéy tedy szukać będziesz na gruncie linii *Zya*, którą łatwo znajdziesz w sposób następujący: zmierz naprzód cyrkłém na podziałce Dukt na Mappie od Pólka Hollenderskiego *E*, aż do punktu *a*, potém zaś odmierz na gruncie łańcuchém téż samę długość w linii prostéy, i przy zakończeniu iéy każ ustawić tykę: tak będziesz miał na ziemi punkt ieden pewny i zgodzający się z punktem *a*, odpowiadającym sobie na Mappie. Zrób toż samo na drugim Dukcie od wału *P*, do *Z*, przez co będziesz miał na ziemi iuż dwa pewné punkta. Gdy więc od *Z* do *a*, wytkniesz borém linią prostą podług §. 45, albo tak, iak się tu zaraz powie pod liczbą *3cią*, a potém wzdłuż téy linii wymierzysz od punktu *Z*, na ziemi tylé prętów, ilé na Mappie liniia *Zy* zamyka cząstek z podziałki, będziesz miał na linii *Za*, wyznaczony trzeci požądany punkt *y*, w którym Sąd ma kazać zabić pal dębowy w czasie sypania Kopców, a od którego téż, podług woli

Sądu, wszystkie podziały na gruncie poczynać się powinny.

3. Mając tym sposobem linią *Zya*, iako też punkt *y* na gruncie, nie będzie ci trudno wyznaczyć w boru dwie inne linie *yb*, *bU*, albo raczćy nie będzie ci trudno wyznaczyć część *aybU*, do Dziedzica Stanowisk należącą. Toiest ustawisz naprzód Stolik na *y*, podług kierunku tak Magnésowćy igiełki, iako też linii *ya*, wyciętćy w boru: potćm położysz na Stolicu prawidło wedle linii *yb*, a podług dyrekcyi ćelowników tak położonćgo prawidła rozstawiwszy chłopów z siekićrami, o podal ieden od drugićgo, każesz im wycinać w boru linią szeroką na ieden prćt, odzrucając wszystkie przeszkody drzew to na tć, to na ową stronć; co chłopci, póty robią zawsze prostowani od ciebie; póki niedotną na zićmi długości zamykaićcćy w sobie tylć prćtów, ilć długość *yb*, na Mapie zawiera cząstek z podziałki. Każesz takżć zaraz podług wycięcia mierzyć łanćcuchćm linią, naznaczaiąc ićy prostocćtykami brzozowemi, gdyż tć dla swćy białocći naylepićy w boru widzićć się daią; a iezeli tych nićmasz, to iakićgokolwiek gatunku drzewa, zawićzuiąc na wierzchołku ich pćczek słomy. Dobiwszy do *b*, wtniesz od tego punktu drugą linią *bU*, tym samym sposobćm, iakim wyciaćłćs linią poprzedzaićcą *yb*; iako też pićrwszą linią *Za*.

W tém miejscu gdzie liniia iak zowią ślepa, czyli kropkowana bd , przedłużona nadół aż do Duktu czyli dróżki UA , przecina się z tymże Duktém, potrzeba przypisać małą literę c .

4. Jeżeliby ci się zdarzyło uchybić w wycięciu którę z tych liniy o kilka tylko prętów od drugiego punktu zamierzonego, uchybienie tak małe łatwo poprawić daie się. Lecz jeżeli zeydziesz na bok o kilkanaście albo téż kilkadziesiąt prętów, iakoto *np.* gdybyś z punktu b , zamiast dóyścia do punktu U , będącego przy mostku doszedł do punktu c , (którą to literę iako się dopiero powiedziało potrzeba przypisać) natenczas omyłkę twoię poprawisz w sposób następujący.

Wymierz *naprzód* odległość zawartą między punktem uchybionym U , i końcem c , linii czyli granicy bc fałszywie wyciętę, toiest: wymierz odległość Uc , która w tym razie niech *np.* zamyka prętów 20; *Ponótóre*, wzięwszy cyrklém z podziałki tylé cząstek równych, ilé odległość dopiero wymierzona zamyka prętów, iak tu 20; wyznacz ié na Mappie wzdłuż Duktu UA , od U , do c , a gdy od b do c przeciągniesz linię kropkowaną bc ; będziesz miał na Mappie Trójkąt cbU , wyrażający wielkość uchybienia. *Potrzenie*, weź teraz z podziałki tylé części równych, ilé się podoba, iak *np.* 10, 15, 20, 30, lub więcéy, i tym pro-

mieniem z punktu *b*, zrysuy na Mappie łuk *de*: potém zaś na podziałce cięciwę tegoż łuku, iak tu *np*: prętów 5 i pół. *Poczwarté*, odmierz łańcuchém na linii czyli granicy fałszywéy od *b* do *d*, tylé prętów, ilé promień *bd*, którym kręśliłes łuk *de*, zawierał cząstek wziętych z podziałki. *Popięté*, na punkcie znalezionym *d*, ustaw Stolik tak, aby linia *bc*, wyrażająca na Mappie fałszywą granicę, zgadzała się z granicą fałszywą na ziemi. *Poszósste*, połóż na Stoliku prawidło wzdłuż cięciwy czyli linii *de*, a poglądaiąc przez celowniki tak położonego prawidła, każ podług kierunku promienia celowego ustawić na gruncie żerdź w jakimkolwiek punkcie *e*. *Naostatek*, gdy na linii zawartéy między punktem *d*, i żerdzią ustawioną na *e*, odmierzysz łańcuchém tylé prętów, ilé na Stoliku cięciwa łuku *de* zabiérała na podziałce cząstek, iak tu prętów 5 i pół; naténczas punkt *e*, gdzie się zastanowisz, będzie się znajdował na prawdziwéy szukanej granicy *bU*. Stanąwszy więc wprost dwóch lasek ustawionych na *b*, i *e*, postrzeżesz każde drzewo, które wyciąć potrzeba, abys miał linią prostą prowadzącą do *U*, a tém samém zdarzone piérwéy uchybienie poprawisz.

Jeżeli się ieszcze chcesz zapéwnić o punkcie *b*, czyli on dobrze iest wynaleziony, każ przemierzyć na gruncie popra-

wną granicę bU , a gdy w niéy znajdziesz tylé prętów, ilé ona ich na Mappie zamyka, będzie to dowodem dobrze wynalezioného punktu b . Jeżeliby zaś wymierzona granica bU , znalazła się krótsza na ziemi, nizeli iest na Mappie, iakoto *np*: gdyby się znalazła bydz krótszą pięciu prętami; przedłużysz więc granicę Ub , od b do f , na prętów 5, a potém dopiéro granicę yb , zwrócisz od y do f , co iakby wykonać się miało, z poprzedzających robót iest oczywisté. Jakim zaś sposobém uczyniłeś w boru, podział $aybU$, takim odprawisz i drugi *ypra*.

5. Po zupełném wycięciu Duktów w boru, przystępuje Sąd do sypania Kopców, i zaczyna wysypywać narożniki od punktu U przy mostku, gdzie przyznał węgielność *Angularitatem* trzech Dziedzic, Gąsewa, Rypina, i Stanowisk: usypał więc piérwszy ku północy dla Dziedzica wsi Gąsewa, przy drodze z Gąsewa do wsi Stanowisk po lewym brzegu strugi zwanéy *Wężyk*, która rozgranicza wieś Gąsewo od wsi Rypin. Drugi Kopiec, za drogą ku południowi także przy mostku dla Dziedzica wsi Stanowisk. Trzeci zaś ku wschodowi przy prawym brzegu strugi *Wężyk*, Dziedzicowi wsi Rypin; dając każdemu Kopcowi dyamentru czyli śrzednicy łokci 5.

Od Kopców narożnych, gdy postępuje Sąd granicą Ub , w boru wyciętą, poprze-
dzac

dziać go powinienes z łańcuchem dla wymierzania odległości Kopców ściennych, i powiedziawszy Sądowi, w którą stronę zwraca się granica, wymierzysz naprzód od narożników wzdłuż granicy, np: prętów 10, a to na Kopiec ścienny, którego zowią *custos*, dając mu dyamentu tylko $2\frac{1}{2}$ łokcia iak wszystkim innym ściennym. Od tego wymierzać będziesz dalej podług ciągu granicy po tylé prętów, po ilé Sąd każe, iak tu po 30, na odległość Kopców ściennych jednégo od drugiégo. Na każdym zaś załomku granicznym, przy błocie iakiémkolwiek Duktowi przyległém, iakotéz przy znakomitszych drogach zastanawiać się powinienes, a to dla przestrzeżenia Sądu, iak wielé od Kopca przedostatniégo pozostaie prętów do załomka, błota, drogi i t. d. tudzież na którą stronę zwraca się ściana graniczna: i tak tu od Kopca *g*, do *b*, prętów tylko 27, a zwrot granicy od wschodu na zachód: od Kopca *b*, do drogi prowadzącéy z Gąsewa do Stanowisk, prętów 11: również od Kopca *i*, do dróżki nowéy do Hollendrów, prętów 16, a od Kopca *k*, do mieysca *y*, gdzie Sąd każe przy sobie wbić w ziemię pal dębowy, prętów 14.

Ponieważ Kopce ścienne tak iedne względem drugich, iakotéz względem swych Narożników, w rozmaitey odległości, zawisley od woli i opodobania Sądu Granicznego, sypane bywa-

ią; przeto dla łatwiejszego natrafienia i odkrycia napotém Kopców ściennych dawnością czasu przytartych i nadpsutych, zazwyczaj pierwszy Kopiec ścienny usypuje się w niewielkiej odległości od Kopców narożnych: i tento Kopiec, zowie się *Custos*, iakośmy go wyżej nazwali.

Od pola dębowego *y*, postępuiesz daley z wymiarem aż do *m*, skąd zwracasz się ścianami *mn*, *no*, *op*, dla ograniczenia Kopcami błota *Wilczydół* dla strony Stanowisk. Podobnymże sposobem od Kopca *p*, idziesz z wymiarem aż do wyspy *K*, gdzie Sąd kazawszy usypać ieden tylko znakomitéy wielkości Kopiec *r*, oznaczający zbieg czterech Dziedzin, Bugaju, Turzy na, Gąsewa i Stanowisk, swóy Akt graniczny zakończył.

Zdarza się czasem, iż Jeometra przyuszony jest robić Mappę zaraz idąc za Sądem Dukty zapisującym, lecz to jest rzeczą bardzo trudną nawet dla naybiegleyszego w miernictwie: gdyż zgiełk ludzi przytomnych wizyi Duktów, sprzeczki między stronami naybardziéy zaś między chłostwem, zdarzając się pokilkakrotne Dukty i Redukty, są to niemałe do doskonałego wymiaru przeszkody. Do tego, mieysca w Duktach niedostępne, a do obchodzenia dalekie, iakotéz wymiar szrodkowy czyli poprzeczny od Duktu do Duktu, byłby przyczyną nieczynności dość długiéy Sądowi czekającému na wymiar:

lepiéy zatém iest i nierównie do regularności Mappy stósowniéy, aby Jeometra nie zaczynał swéy roboty, aż Sąd opisywanie Duktów zakończy.

W czasie roboty, nie powinien nigdy spuszczać się Jeometra na wysyłanie kogo innégo do pomiaru iakowéy linii, ale sam zawsze bydz przytomnym, gdyż pomocnik wysłany albo przez nieumiejętność, albo przez nieuwagę na robotę, która go mało albo nic nie interessuje, może albo fałszu bydz przyczyną, albo téż całkowitzą pracę uczynić nadaremnią. Mieć także szczególniejszą bacność powinien na chłopów wymierzających łańcuchem, aby w pomiarze nie mylili, gdyż to się często zdarza, iż chłopci pomiarkowawszy robotę, umieją fałszować kółkami, a naybardziéy w wymiarze podziałowym.

Sposób doświadczenia gotowéy Mappy, iakotéz dochodzenia z niéy przytartych i niewidzialnych Kopców.

(Tabl: 3. Fig: 32.)

1. Jeżeli Mappa nie ma podziałki, przekopiuy więc Mappę darą *abcde*, abyś oryginalnéy nie dziurawił igłą: potém ustaw Stolik w punkcie *A*, tak aby punkt *a* Mappy zgadzał się z punktem odpowiadającym sobie na ziemi. A przyłożywszy prawidło do linii *ae*, nakręcaj samym Sto-

likiem wespół z prawidłem, póki przez celowniki jego nie obaczysz Kopca E , albo żerdzi na nim ustawionéy.

2. Każ z pilnością przemierzyc łańcuchem odległość AE , niech iéy będzie łokci 300, i zapisz ją w raptularzu. Toż przenies linią ae Mappy, na iakąkolwiek podziałkę, i wiele cząstek z niéy zabierz, tylé ich nanotuy w raptularzu obok piérwszyéy liczby: niech będzie np : cząstek 291.

3. Przenies się na drugie stanowisko E , postaw na niém Stolik tak, aby punkt e Mappy, odpowiadał punktowi E na ziemi, tudzież liniia ea , zgadzała się z linią EA , i w tém położeniu przytwierdzisz Stolik iak najmocniéy. Potém połóż prawidło przy igle ustawionéy na Mappie w punkcie e , i upatrz przez celowniki Kopiec D , albo żerdz na nim ustawioną, i wedle tak wykierowaného prawidła zrysuy na Stolicu linią nieokrésłonéy długości, która iezeli przypadnie na ed , będzie Dukt ed , na Mappie prawdziwy. Jezeli zaś Dukt ed zostanie na którém stronie linii dopiéro zrysowanéy, będzie to znakiém, że kąta e nie wziął Jeometra prawdziwie na Mappie, ale większy, iezeli Dukt ed za twoię linią wyniędzie, albo mnieyszy, iezeli liniia w Dukt się uda.

4. Każ przemierzyc łańcuchém odległość ED , i nanotuy iéy ważność np : przę-

tów 200. Potém obiąwszy w cyrkiel linią ed na Mappie, i dowiedziawszy się wielé ona na twoiéy podziałce zabiéra cząstek, zapisz ie przy pręta ch , w tén sposób.

Prętów 300, cząstek 291.

Prętów 200, cząstek 190.

5. Ułóż regułę proporcji: Jako 300 prętów, daie cząstek 291; tak prętów 200, dadzą wyraz czwarty 194. A że ich nie masz wpisanych tylko 190, będziesz pewny, że ujął Jeometra prętów 4, w odległości ED .

Gdy więc postrzeżesz błąd albo w kącie E , albo w odległości ED , albo w obojgu, a zechcesz dalsze błędy upatrować; zrysuy Mappę twoim trybém, postępując od E , Kopcami D, C, B , a ta pokaże ci omyłki Mappy oryginalnéy, byle tylko i twoja pilnie była zrobiona.

6. Jeżeliby pogineły Kopce, i nie było o dalszych od E , pamięci między ludźmi, tak żeby punktu D , żadnego znaku nie było na ziemi, natenczas przenieś linią ed Mappy, na podziałkę, i nanotuy iéy cząstki, potém uczyn proporcją: Jak linia ac na Mappie, zawierająca z podziałki cząstek 291, ma się do prętów 300, czyli do odległości AE , odpowiadaiący sobie na ziemi; tak 190 cząstek, które z podziałki zabiéra linia ed na Mappie, mają się do prętów 200, toiest do odle-

głości ED na ziemi. Każ potém od E ,
wzdłuż Duktu ED , odmierzyć prętów 200,
punkt tén gdzie przypadnie koniec prę-
ta dwuchsetného, będzie oznaczał pra-
wdziwé położenie Kopca niewidzialného
 D . Tym samym sposobém wynaydziesz
dwa inné następné Kopce C i B , a jeżeli
koniec z początkiem nie zniydzie się na
ziemi, miéy Mappę za niepewną.

Jeżeli zaś Mappa ma podziałkę swoją
własną, dosyć ci będzie probować, jeżeli
kąty na Mappie i długości Duktów, które
podziałka daie, zgadzają się z kątami, i
z długościami odpowiadającemi sobie na
ziemi.

K O N I E C .



BIBLIOTHECA
VNIV. AGELL.
CRACOVILNOIS

OMYŁKI ZNACZNIESZE.



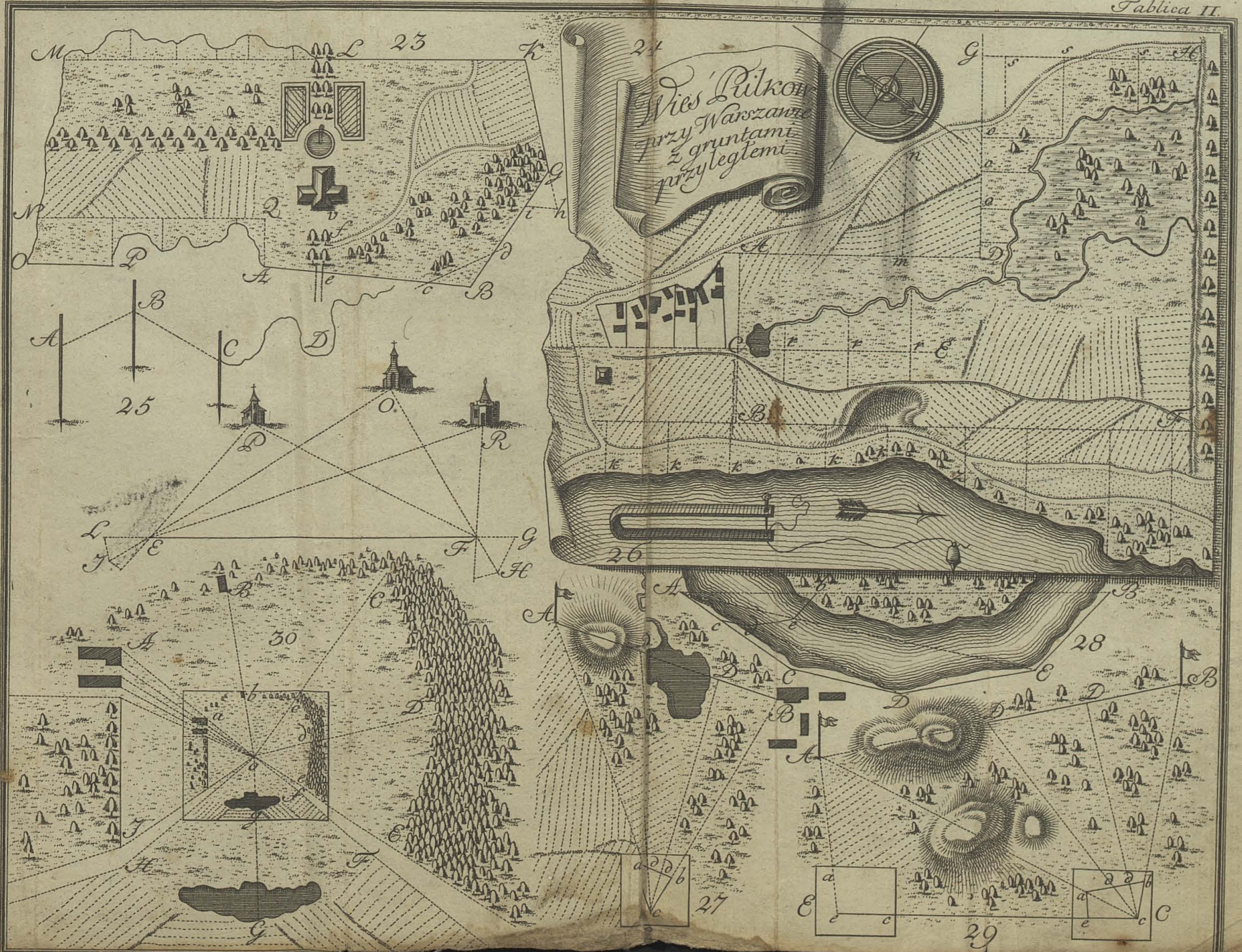
<i>Kar: Wier: Omyłka.</i>	<i>Poprawa.</i>
23. - 27. - sposob drugi,	\equiv <i>dodaj</i> \equiv Tabl. 8.
	Fig: 72.
24. - 19. - linią <i>Ag.</i>	- linią <i>Am.</i>
44. - 12. - $114^{\circ} 3'$,	- $114^{\circ} 3'$,
55. - 4. - $BD \equiv 24.$	- $BD \equiv 44.$
58. - 18. - nieodstępney	- niedostępney.
73. - 4. - liniie <i>FH,</i>	- liniie <i>FK,</i>
95. - 18. - stanowisku <i>c</i>	- stanowisku <i>C</i>
121. - 3. - do linii <i>ae</i>	- do linii <i>ac</i>
126. - 9. - stanowiska	- stanowiska
	<i>S, F, v,</i>
tamże 10. - (Tabl: 3.	- (Tabl: 5.
Fig: 49.)	Fig: 49.)
131. - 11. - i ściany <i>ED,</i>	- i ściany <i>CD,</i>
132. - 19. - punktowi <i>x</i>	- punktowi <i>X.</i>
162. - 22. - lewego	- prawego.
tamże 23. - prawy	- lewy.
187. - 4. - linii równole-	- linii równole-
głych	głych.
191. - 4. - wiadomey linii	- wiadomey linii
<i>AB.</i>	<i>aB.</i>
tamże 23. - punktach <i>c, a,</i>	- punktach <i>c, d,</i>
tamże 29. - kąty <i>AcB, BcD</i>	- kąty <i>AcB, Bcd,</i>
196. - 29. - boki <i>CF,</i>	- boki <i>CE.</i>
201. - 2. - od kąta zmie-	od kąta zmie-
rzonego <i>EcB,</i>	rzonego <i>ecB.</i>
229. - 15. - przedmiotami	- przedmiotami
<i>N, i T,</i>	<i>N, i I,</i>
230. - 16. - bokowi <i>DH.</i>	- bokowi <i>DK.</i>
235. - 31. - z Figury 63,	- z Figury 65,
i 64.	i 66.

- | | | | | | | |
|-------|-----|-----|---|--------------------------------------|---|---|
| 236. | - | 2. | - | kątów ostrych
CAP, i PBB, | - | kątów ostrych
CAP, i BBC, |
| 256. | - | 31. | - | jak tu <i>c i d</i> | - | jak tu <i>c i b</i> |
| 288. | - | 14. | - | 256' X 214' | - | 256' X 214'' |
| 301. | - | 32. | - | 675000. | - | 67500. |
| 302. | - | 31. | - | 2264. | - | 2272. |
| 310. | - | 15. | - | $\frac{1}{2}$ HK | - | $\frac{1}{3}$ HK |
| 316. | - | 24. | - | 1'4' | - | 14' |
| 318. | - | 20. | - | Troykąt QcM | - | Troykąt QNP. |
| tamże | 21. | - | - | częścią swoją
QM | - | częścią swoją
QM |
| 319. | - | 4. | - | PNKQ | - | PNKL |
| 333. | - | 11. | - | wymierzonemi do-
piero sposobam | - | wymierzonemi
dopiero sposo-
bami. |
| 348. | - | 12. | - | (Fig: 73. Tabli-
ca 8.) | - | (Fig: 72. Ta-
blica 8.) |
| 350. | - | 27. | - | na dwóch po-
przedzających
DiC | - | na dwóch po-
przedzających
DiB |
| 352. | - | 31. | - | wyższe także | - | niższe. |
| 353. | - | 17. | - | większa | - | mniejsza. |
| 370. | - | 22. | - | pod liczbą 4tą | - | te słowa zmasa. |
| 378. | - | 26. | - | SUrS | - | SUrL |
| 383. | - | 2. | - | na podziałce | - | wymierz na po-
działce. |



Prodomskiego.

BIBLIOTHECA
UNIVERSITATIS
AGELL.
GRACVIENSIS

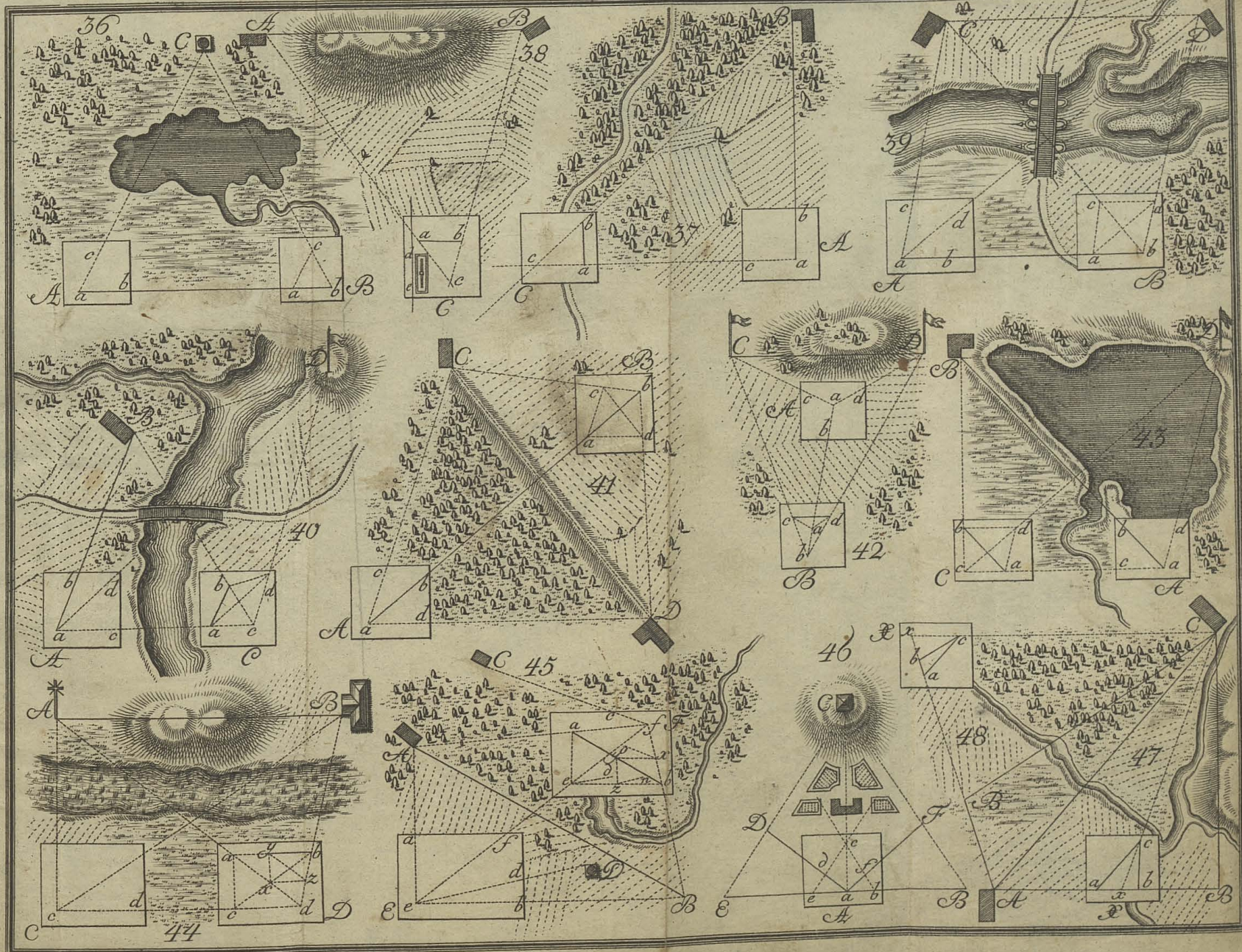


BIBLIOTHECA
V. M. ...
CRACOVILNSIS



1. M. A. L. P. K. B. T. E. L. A. N.
 przy Warszawie
 2. Klasztor XX. Kamie-
 dutow.
 3. Pomieszkaniadnie.
 J. X. Portaliyni.
 5. Folwark Ruda.

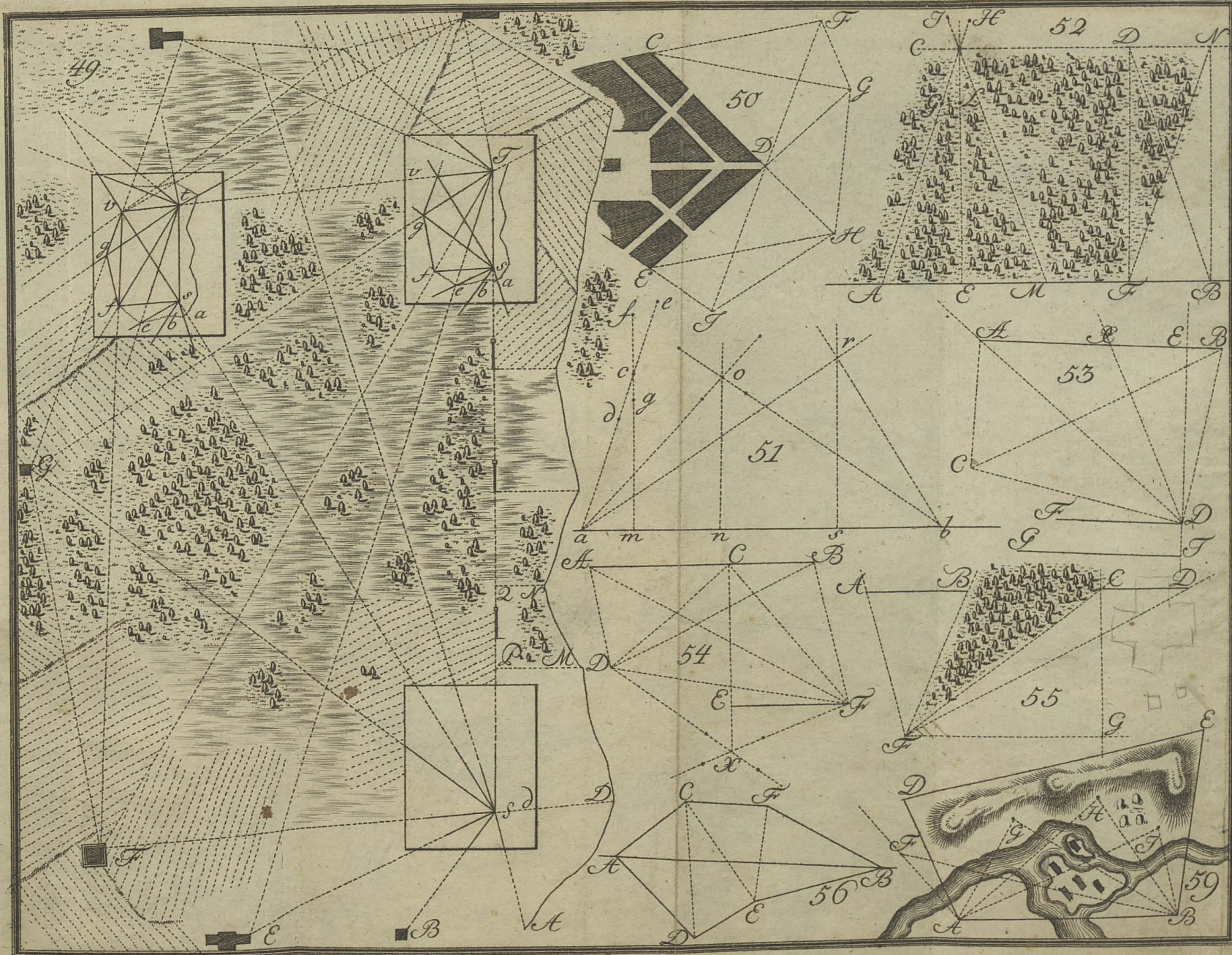
W. GIRLOTHER
VIN. S. HELL.
GRACOVENSIS



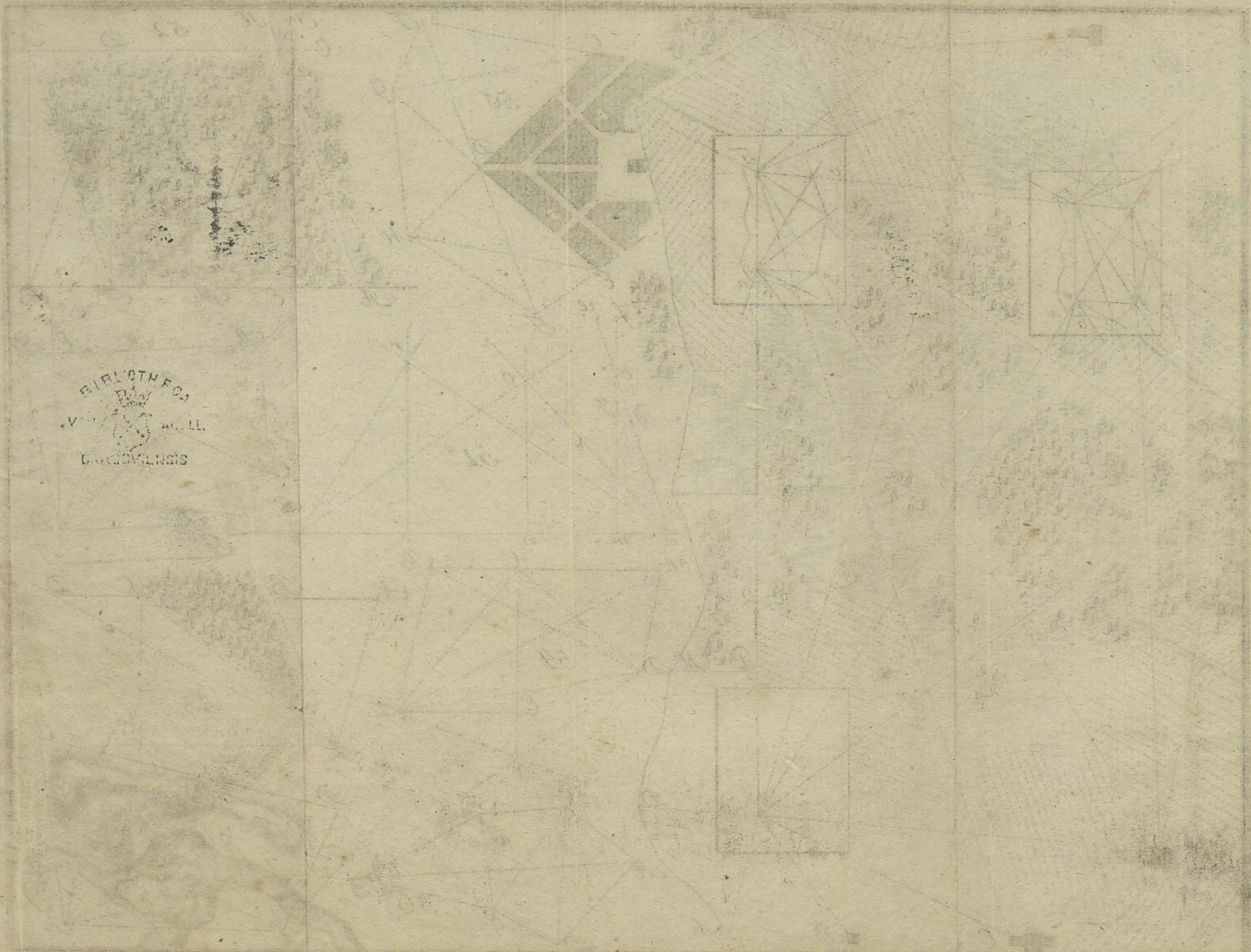
ST. LOUIS MO.
JUN 1 1864
GRAND MILITARY

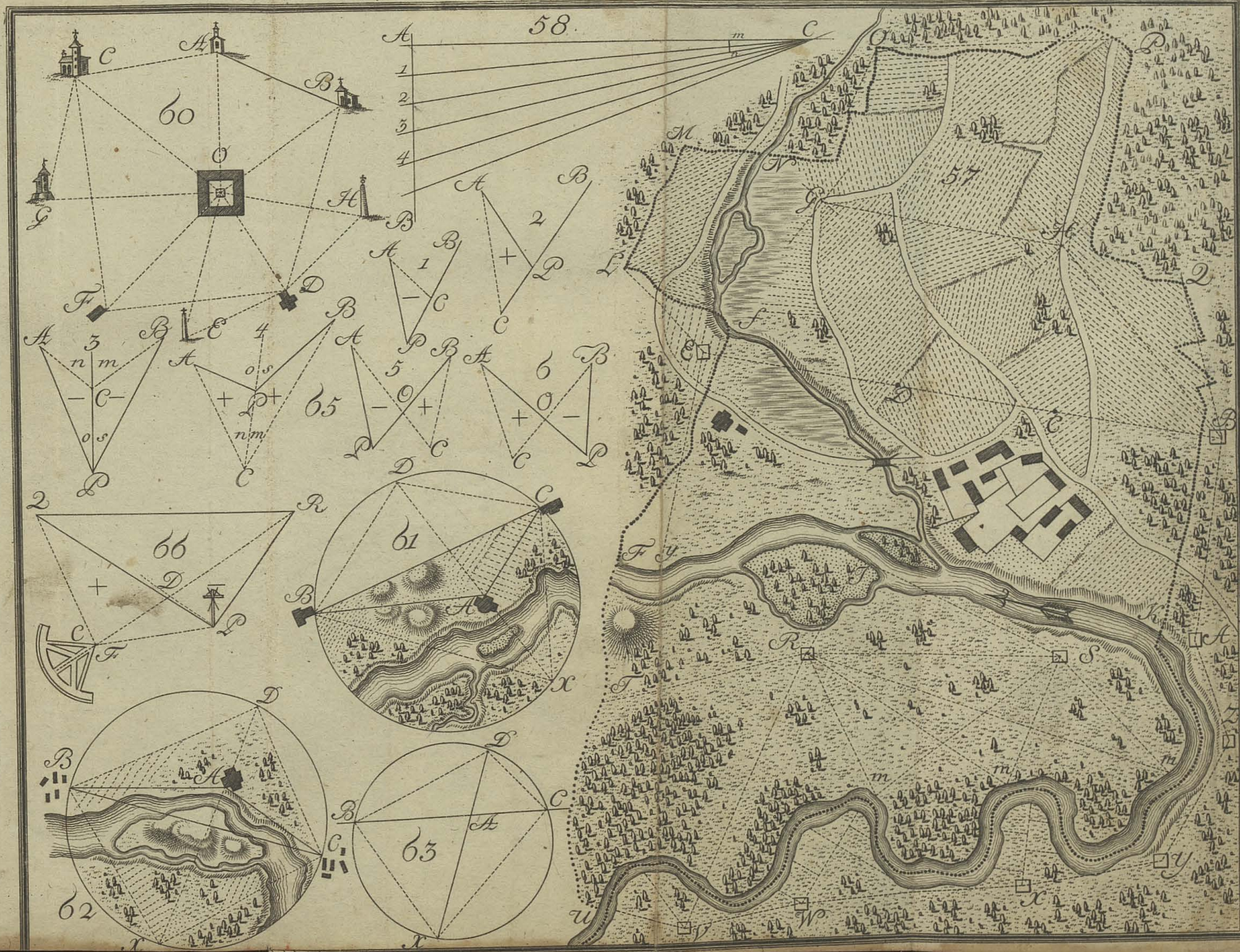
1111

1111

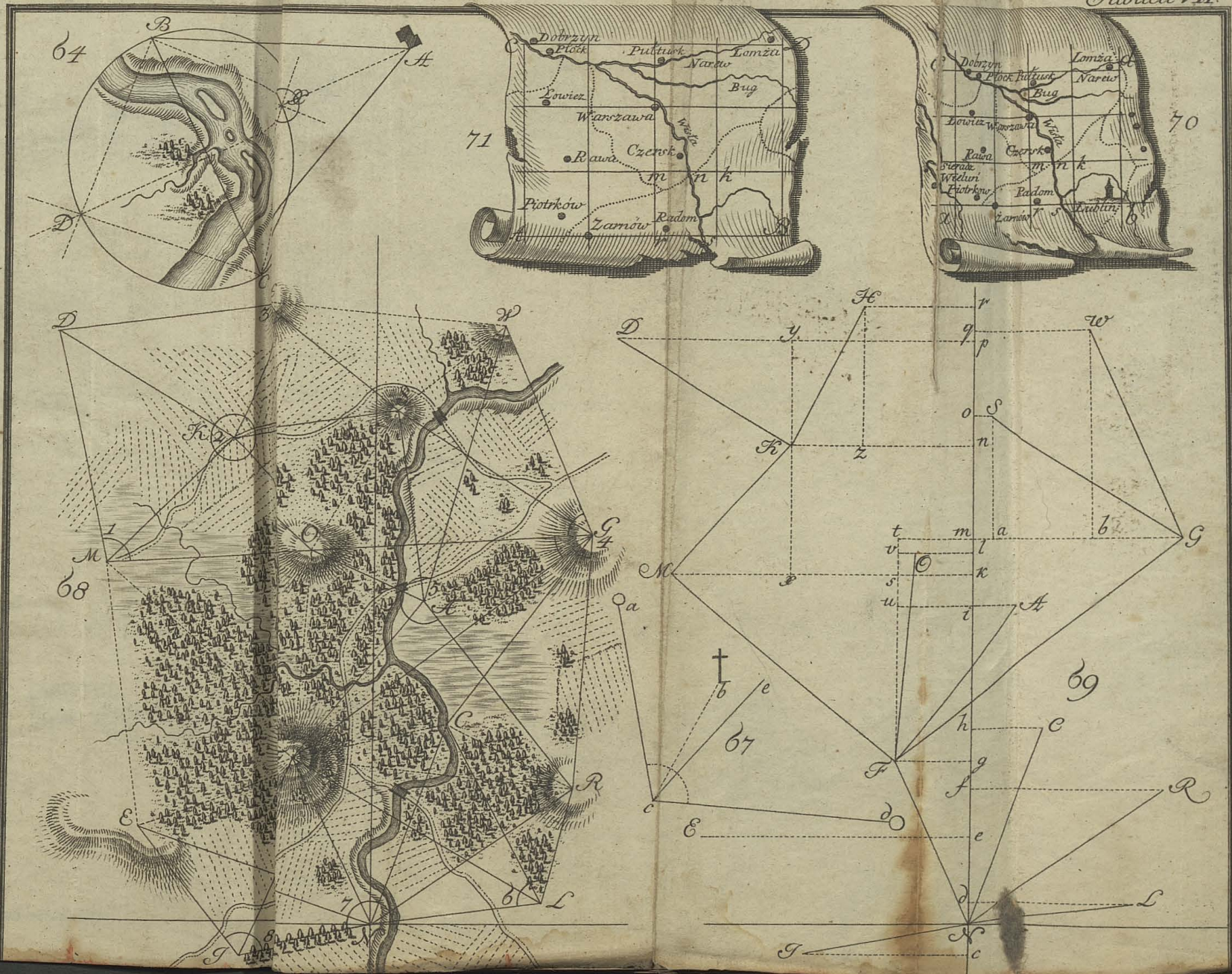


BIBLIOTHECA
V. 11. 11.
D. 11. 11. 11.

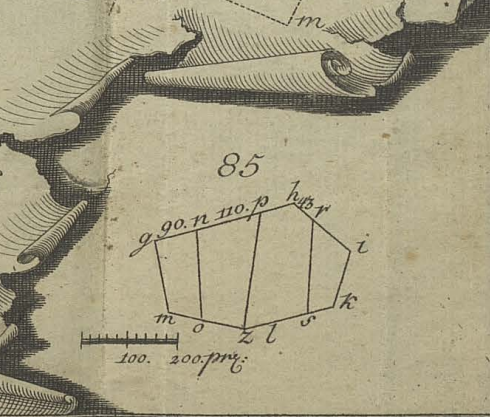
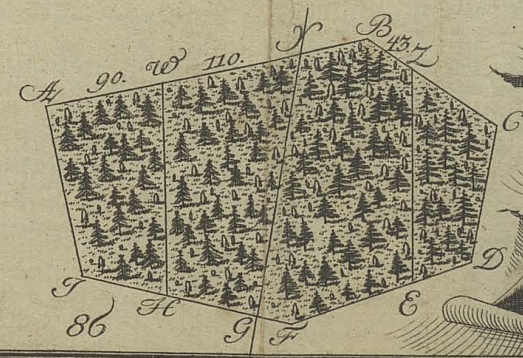
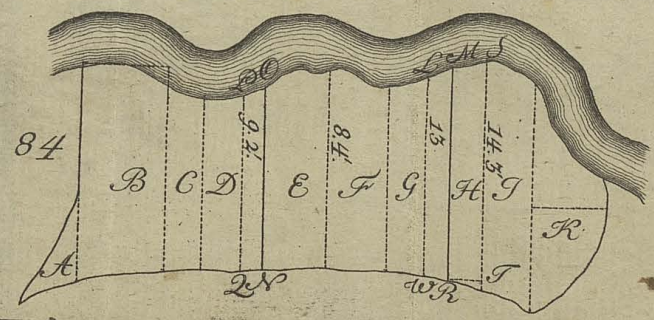
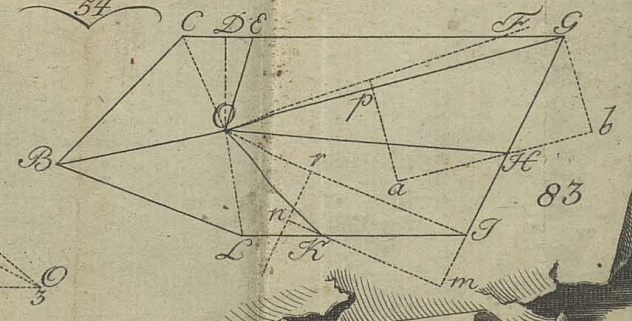
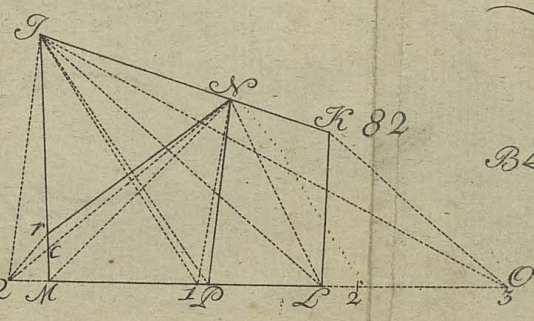
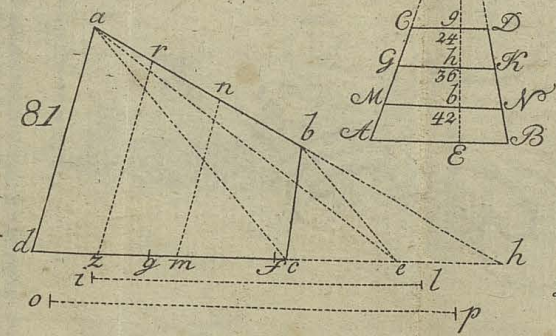
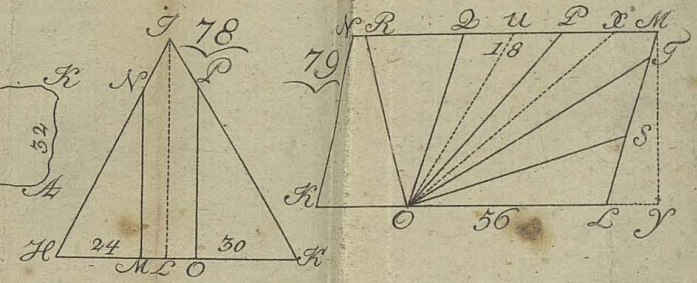
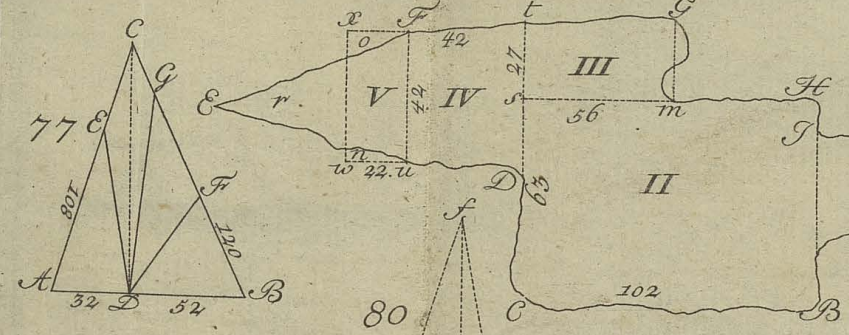
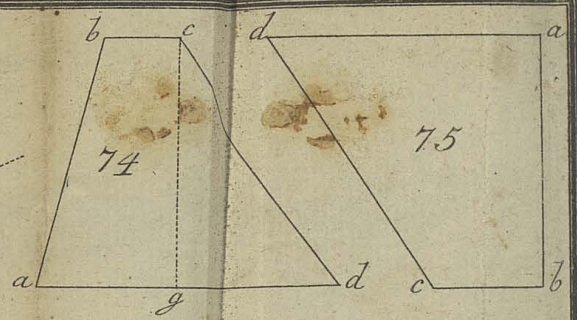
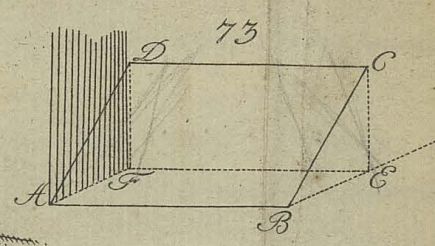
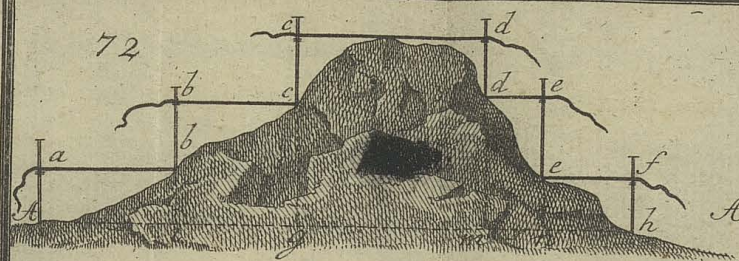




BIBLIOTECA
V. M. ...
CRACOVIA

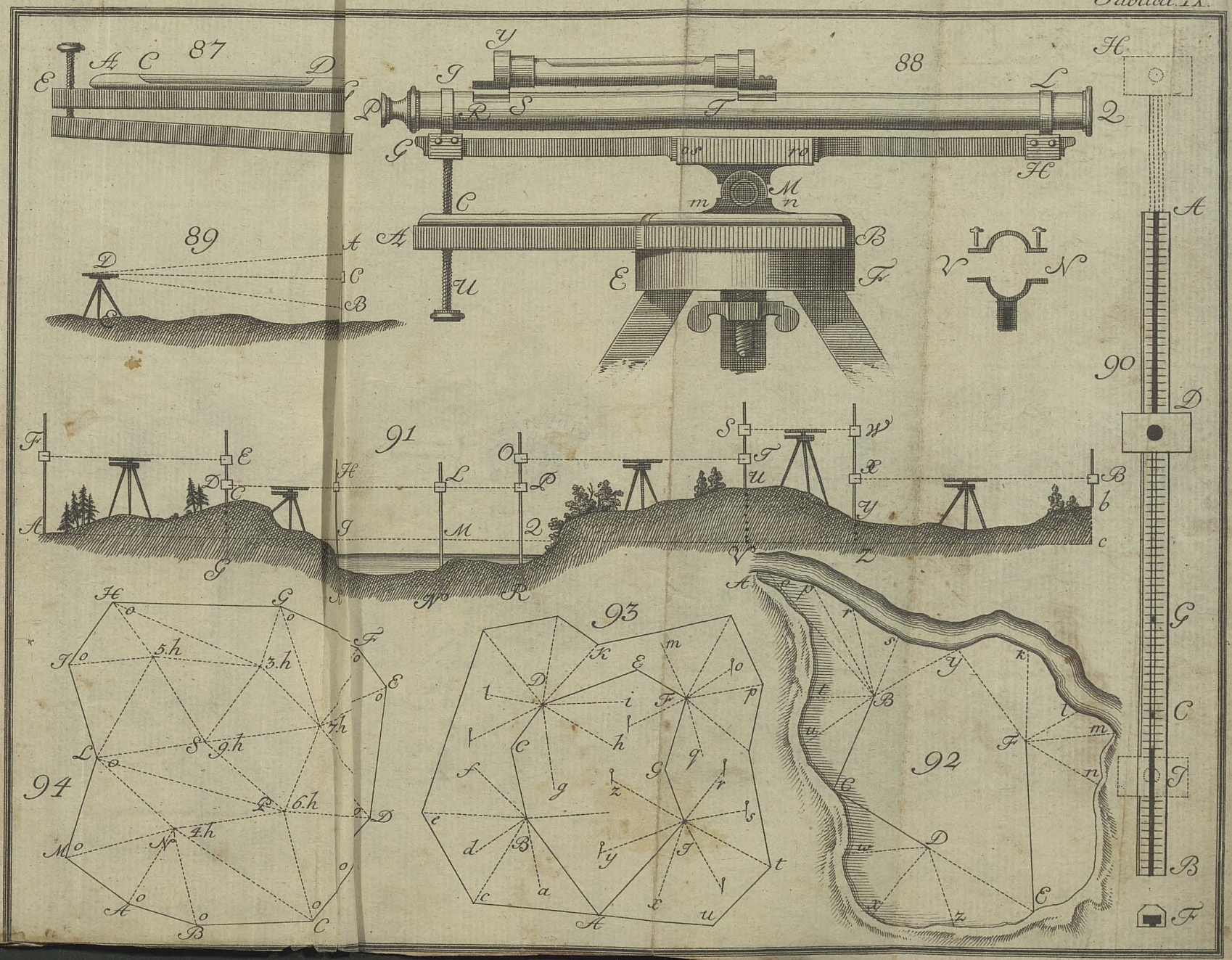



BIBLIOTHECA
MUSEI
HISTORICO-NATURALIS
CIVITATIS
MAGNIFICENTISSIMAE
SARONITICAE



BIBLIOTHECA
MUSEI
HISTORICO-
NATURALIS
CIVITATIS
MAGNOLIAE

Kat





BIBLIOTHEC
UNIV. COLL.
CRAGGVILLE'S



Nowa Wias

Grunta Wsi

Wies Glusk

Grunta

Gluska

Karczma

Nowey Wsi

Wsi Gaszawa

Wias Furzyn

Grunta Błoto

Wies Gaszewo

Błoto wlasnydel

Błoto Urbanowe

Grunta

Holendry

Dziaki do Wsi Stanowisk należące

Wias Bugay

Wsi Stanowisko

Grunta Wsi Bugay

Wias Stanowisko



Rypon

BIBLIOTHECA
VNIuersitatis
CRACOVENSIS

MC

~~Handwritten text, possibly a title or name, crossed out with a thick black line.~~

Handwritten text, possibly a date or location.

Biblioteka Jagiellońska



stdr0019963

